

INTERMEDIATE PART-II (12th CLASS)**COMPUTER SCIENCE PAPER-II (NEW SCHEME)**

TIME ALLOWED: 2.10 Hours

SUBJECTIVE

MAXIMUM MARKS: 60

NOTE: - Write same question number and its part number on answer book, as given in the question paper.

SECTION-I**(Either from "MS-Access & C-Language" or from "MS-Access & Visual Basic").****2. Attempt any six parts.****MS-ACCESS****6 x 2 = 12**

- (i) What is meant by Record? (ii) How does sequential access file organization store files?
 (iii) Write two responsibilities of data base administrator. (iv) Define database Integrity.
 (v) Write two disadvantages of data redundancy in relations.
 (vi) List two integrity constraints in relational database.
 (vii) List any two facilities provided by relational database management system.
 (viii) Name three methods to create a table in MS – Access. (ix) What is the purpose of check box?

3. Attempt any six parts.**C-LANGUAGE****6 x 2 = 12**

- (i) Define Object Code. (ii) What do you mean by Machine Independence?
 (iii) Who develops computer program? (iv) What is Keyword?
 (v) Describe variable declaration.
 (vi) Determine the output.

```
int num = 10;
num - = 5;
printf ("%d", num);
```

 (vii) Define standard output.
 (viii) Determine output.

```
printf ("*\n ** \n ***");
```

 (ix) Find the errors

```
Void MAIN ( )
{
    int x = 5
    printf ( "% d", x );
}
```

OR**VISUAL BASIC****3. Attempt any six parts.****6 x 2 = 12**

- (i) Define Object Code. (ii) What do you mean by Machine Independence?
 (iii) Who develops computer program? (iv) What is Keyword? (v) Describe variable declaration.
 (vi) Determine the output.

```
Dim num = 10 as integer
num = num - 5
Print num
```

 (vii) Define standard output.
 (viii) Determine output.

```
MsgBox "*" + vbCrLf + "*" + vbCrLf + "*"
```

 (ix) Find the errors

```
Dimm x = 5 as integers
MsgBox x
```

C-LANGUAGE**4. Attempt any six parts.****6 x 2 = 12**

- (i) Define Conditional Operator.
 (ii) Trace errors in the following code:-

```
Void main ( )
{ int a = 10;
    if ( b == 10 );
      print f( " % d", a );
    else
      printf( " % d"; a );
}
```

 (iii) What will be the output from the following code?

```
Void main ( )
{ int age, status;
  age = 25;
  status = (age > 60 );
  printf ( "status = % d", status);
}
```

 (iv) Describe sentinel value in loop.

P.T.O.

01

(2)

- (v) Find output in the following code:-

```
Void main ( )
{ int i, j = 10;
  for ( i = 1; i <= 5; i++)
    { printf ( "Pakistan\t" );
    }
}
```

- (vi) Convert while loop into do-while loop.

```
int i = 1;
while ( i <= 15 )
{ printf ( "%d", i );
  i = i + 1;
}/
```

- (vii) What is meant by function call?

(viii) Write the syntax of function header.

- (ix) Discuss the purpose of fclose () function.

OR**VISUAL BASIC****4. Attempt any six parts.****6 x 2 = 12**

- (i) Define Variable Declaration.

- (ii) Write syntax of iF – Then statement.

- (iii) Find output of the following code:-

- (iv) Trace errors in the following code

```
Dim a as integer
IF a Mod 2 == 0 then
  print " Even "
ELSE
  Print "odd "
END iF
```

```
Dim x, y as int
x = 10
y = 15
iF x == y
  print "Pakistan"
```

- (v) Differentiate between inner and outer loop.

- (vi) Find output of the following code

```
Dim C as integer
Product = 1
For c = 1 to 10 step 2
  Product = product + c
Next
Print product
```

- (vii) Trace the output

```
Dim i, j as integer
j = 10
i = 1
FOR i = 1 to 5
  print "Pakistan"
Next
```

- (viii) Trace error in the following code

```
Dim n, i as integer
i = 1
Do
  print "Visual Basic"
  i = i + 1
while i <= 10
```

- (ix) What is meant by Pretest loop?

SECTION-II**MS-ACCESS****NOTE: - Attempt any one question.**

5. Define Data Modeling. Discuss ingredients of Data Modeling. 8

6. Write a note on different Layouts of Form. 2 + 2 + 2 + 2 = 8

C-LANGUAGE**NOTE: - Attempt any two questions.**

7. Write down rules for naming variables in C language. 8

8. Write a program that inputs a number and print "Number is divisible by seven" if number is divisible by seven, otherwise print "Number is not divisible by seven". 8

9. Define While loop. Write its syntax and flow chart. Explain working with example. 2 + 1 + 1 + 2 + 2 = 8

OR**VISUAL BASIC****NOTE: - Attempt any two questions.**

7. Write down rules for naming variables in Visual Basic. 8

8. Write a program that inputs a number and checks whether it is even or odd using decision structure. 8

9. Define while – wend loop. Draw flow chart and explain its working with examples. 8

COMPUTER SCIENCE PAPER-II (NEW SCHEME)

TIME ALLOWED: 20 Minutes

OBJECTIVE

MAXIMUM MARKS: 15

Note: You have four choices for each objective type question as A, B, C and D. The choice which you think is correct, fill that circle in front of that question number. Use marker or pen to fill the circles. Cutting or filling two or more circles will result in zero mark in that question. Attempt as many questions as given in objective type question paper and leave others blank. No credit will be awarded in case BUBBLES are not filled. Do not solve questions on this sheet of OBJECTIVE PAPER.

Q.No.1

(Either from "MS-ACCESS & C-LANGUAGE" OR from "MS-ACCESS & VISUAL BASIC")

MS-ACCESS

- (1) _____ is an extension of text file.
(A) .jpg (B) .bmp (C) .txt (D) .com
- (2) An attribute is also known as:-
(A) Table (B) Relationship (C) Row (D) Field
- (3) _____ is used to describe the characteristics of an object.
(A) Attribute (B) Relationship (C) Entity (D) Modality
- (4) In 3NF, a non-key attribute must not depend on a:-
(A) Non-key attribute (B) Key attribute (C) Composite key (D) Sort key
- (5) The output of the query is in the form of:-
(A) Table (B) Form (C) Audio (D) Query
- (6) _____ is a default field size of a text data type field.
(A) 02 (B) 04 (C) 20 (D) 50

C-LANGUAGE

- (7) _____ byte/bytes are occupied by float type in memory.
(A) 0 (B) 1 (C) 2 (D) 4
- (8) Variables are created in:-
(A) ROM (B) RAM (C) Hard Disk (D) USB
- (9) _____ format specifier is used for float data type.
(A) %d (B) %C (C) %F (D) %S
- (10) Conditional operator is an alternative of:-
(A) if (B) While (C) if - else (D) Nested if
- (11) _____ keyword is not used in switch statement's syntax.
(A) Switch (B) Do (C) Case (D) Default
- (12) In C, a statement is terminated by:-
(A) Comma (B) Colon (C) Semicolon (D) Bracket
- (13) _____ is a loop structure.
(A) If (B) If - else (C) Switch (D) For
- (14) Multiple arguments to a function are separated by:-
(A) Equal (B) Semicolon (C) Comma (D) Colon
- (15) A sequence of characters from input device to computer is called:-
(A) Input device (B) Text stream (C) Binary stream (D) File

OR**VISUAL BASIC**

- (7) Visual Basic is a product of:-
(A) IBM (B) Sun System (C) Hewlett (D) Microsoft
- (8) The diamond in a flow chart indicates:-
(A) Progress (B) Condition (C) Input (D) Output
- (9) _____ is not a Visual Basic control.
(A) Command button (B) Form (C) Variable (D) Text box
- (10) The property that changes text color is:-
(A) Back color (B) Font color (C) Fore color (D) Text color
- (11) _____ data type is used to handle a YES or NO response.
(A) Short (B) Boolean (C) Date (D) Integer
- (12) The entire select case construct is terminated with:-
(A) Case End (B) End if (C) End select (D) Stop select
- (13) A loop within a loop is called:-
(A) Inner loop (B) Outer loop (C) Complex loop (D) Nested loop
- (14) The statement that terminates a For - Next loop is:-
(A) End For (B) Exist Loop (C) Exit For (D) END Loop
- (15) Each element in a control array is identified by:-
(A) Tab Index (B) Index (C) List Index (D) Sub Script

COMPUTER SCIENCE PAPER-II (NEW SCHEME)

TIME ALLOWED: 20 Minutes

OBJECTIVE

MAXIMUM MARKS: 15

Note: You have four choices for each objective type question as A, B, C and D. The choice which you think is correct, fill that circle in front of that question number. Use marker or pen to fill the circles. Cutting or filling two or more circles will result in zero mark in that question. Attempt as many questions as given in objective type question paper and leave others blank. No credit will be awarded in case BUBBLES are not filled. Do not solve questions on this sheet of OBJECTIVE PAPER.

Q.No.1

(Either from "MS-ACCESS & C-LANGUAGE" OR from "MS-ACCESS & VISUAL BASIC")

MS-ACCESS

- (1) _____ is a default field size of a text data type field.
(A) 02 (B) 04 (C) 20 (D) 50
- (2) _____ is an extension of text file.
(A) .jpg (B) .bmp (C) .txt (D) .com
- (3) An attribute is also known as:-
(A) Table (B) Relationship (C) Row (D) Field
- (4) _____ is used to describe the characteristics of an object.
(A) Attribute (B) Relationship (C) Entity (D) Modality
- (5) In 3NF, a non-key attribute must not depend on a:-
(A) Non-key attribute (B) Key attribute (C) Composite key (D) Sort key
- (6) The output of the query is in the form of:-
(A) Table (B) Form (C) Audio (D) Query

C-LANGUAGE

- (7) _____ is a loop structure.
(A) If (B) If – else (C) Switch (D) For
- (8) Multiple arguments to a function are separated by:-
(A) Equal (B) Semicolon (C) Comma (D) Colon
- (9) A sequence of characters from input device to computer is called:-
(A) Input device (B) Text stream (C) Binary stream (D) File
- (10) _____ byte/bytes are occupied by float type in memory.
(A) 0 (B) 1 (C) 2 (D) 4
- (11) Variables are created in:-
(A) ROM (B) RAM (C) Hard Disk (D) USB
- (12) _____ format specifier is used for float data type.
(A) %d (B) %C (C) %F (D) %S
- (13) Conditional operator is an alternative of:-
(A) if (B) While (C) if – else (D) Nested if
- (14) _____ keyword is not used in switch statement's syntax.
(A) Switch (B) Do (C) Case (D) Default
- (15) In C, a statement is terminated by:-
(A) Comma (B) Colon (C) Semicolon (D) Bracket

OR**VISUAL BASIC**

- (7) A loop within a loop is called:-
(A) Inner loop (B) Outer loop (C) Complex loop (D) Nested loop
- (8) The statement that terminates a For – Next loop is:-
(A) End For (B) Exist Loop (C) Exit For (D) END Loop
- (9) Each element in a control array is identified by:-
(A) Tab Index (B) Index (C) List Index (D) Sub Script
- (10) Visual Basic is a product of:-
(A) IBM (B) Sun System (C) Hewlett (D) Microsoft
- (11) The diamond in a flow chart indicates:-
(A) Progress (B) Condition (C) Input (D) Output
- (12) _____ is not a Visual Basic control.
(A) Command button (B) Form (C) Variable (D) Text box
- (13) The property that changes text color is:-
(A) Back color (B) Font color (C) Fore color (D) Text color
- (14) _____ data type is used to handle a YES or NO response.
(A) Short (B) Boolean (C) Date (D) Integer
- (15) The entire select case construct is terminated with:-
(A) Case End (B) End if (C) End select (D) Stop select

COMPUTER SCIENCE PAPER-II (NEW SCHEME)

TIME ALLOWED: 20 Minutes

OBJECTIVE

MAXIMUM MARKS: 15

Note: You have four choices for each objective type question as A, B, C and D. The choice which you think is correct, fill that circle in front of that question number. Use marker or pen to fill the circles. Cutting or filling two or more circles will result in zero mark in that question. Attempt as many questions as given in objective type question paper and leave others blank. No credit will be awarded in case BUBBLES are not filled. Do not solve questions on this sheet of OBJECTIVE PAPER.

Q.No.1

(Either from "MS-ACCESS & C-LANGUAGE" OR from "MS-ACCESS & VISUAL BASIC")

MS-ACCESS

- (1) In 3NF, a non-key attribute must not depend on a:-
(A) Non-key attribute (B) Key attribute (C) Composite key (D) Sort key
- (2) The output of the query is in the form of:-
(A) Table (B) Form (C) Audio (D) Query
- (3) _____ is a default field size of a text data type field.
(A) 02 (B) 04 (C) 20 (D) 50
- (4) _____ is an extension of text file.
(A) .jpg (B) .bmp (C) .txt (D) .com
- (5) An attribute is also known as:-
(A) Table (B) Relationship (C) Row (D) Field
- (6) _____ is used to describe the characteristics of an object.
(A) Attribute (B) Relationship (C) Entity (D) Modality

C-LANGUAGE

- (7) _____ keyword is not used in switch statement's syntax.
(A) Switch (B) Do (C) Case (D) Default
- (8) In C, a statement is terminated by:-
(A) Comma (B) Colon (C) Semicolon (D) Bracket
- (9) _____ is a loop structure.
(A) If (B) If - else (C) Switch (D) For
- (10) Multiple arguments to a function are separated by:-
(A) Equal (B) Semicolon (C) Comma (D) Colon
- (11) A sequence of characters from input device to computer is called:-
(A) Input device (B) Text stream (C) Binary stream (D) File
- (12) _____ byte/bytes are occupied by float type in memory.
(A) 0 (B) 1 (C) 2 (D) 4
- (13) Variables are created in:-
(A) ROM (B) RAM (C) Hard Disk (D) USB
- (14) _____ format specifier is used for float data type.
(A) %d (B) %C (C) %F (D) %S
- (15) Conditional operator is an alternative of:-
(A) if (B) While (C) if - else (D) Nested if

OR**VISUAL BASIC**

- (7) _____ data type is used to handle a YES or NO response.
(A) Short (B) Boolean (C) Date (D) Integer
- (8) The entire select case construct is terminated with:-
(A) Case End (B) End if (C) End select (D) Stop select
- (9) A loop within a loop is called:-
(A) Inner loop (B) Outer loop (C) Complex loop (D) Nested loop
- (10) The statement that terminates a For - Next loop is:-
(A) End For (B) Exist Loop (C) Exit For (D) END Loop
- (11) Each element in a control array is identified by:-
(A) Tab Index (B) Index (C) List Index (D) Sub Script
- (12) Visual Basic is a product of:-
(A) IBM (B) Sun System (C) Hewlett (D) Microsoft
- (13) The diamond in a flow chart indicates:-
(A) Progress (B) Condition (C) Input (D) Output
- (14) _____ is not a Visual Basic control.
(A) Command button (B) Form (C) Variable (D) Text box
- (15) The property that changes text color is:-
(A) Back color (B) Font color (C) Fore color (D) Text color

COMPUTER SCIENCE PAPER-II (NEW SCHEME)

TIME ALLOWED: 20 Minutes

OBJECTIVE

MAXIMUM MARKS: 15

Note: You have four choices for each objective type question as A, B, C and D. The choice which you think is correct, fill that circle in front of that question number. Use marker or pen to fill the circles. Cutting or filling two or more circles will result in zero mark in that question. Attempt as many questions as given in objective type question paper and leave others blank. No credit will be awarded in case BUBBLES are not filled. Do not solve questions on this sheet of OBJECTIVE PAPER.

Q.No.1

(Either from "MS-ACCESS & C-LANGUAGE" OR from "MS-ACCESS & VISUAL BASIC")

MS-ACCESS

- (1) An attribute is also known as:-
(A) Table (B) Relationship (C) Row (D) Field
- (2) _____ is used to describe the characteristics of an object.
(A) Attribute (B) Relationship (C) Entity (D) Modality
- (3) In 3NF, a non-key attribute must not depend on a:-
(A) Non-key attribute (B) Key attribute (C) Composite key (D) Sort key
- (4) The output of the query is in the form of:-
(A) Table (B) Form (C) Audio (D) Query
- (5) _____ is a default field size of a text data type field.
(A) 02 (B) 04 (C) 20 (D) 50
- (6) _____ is an extension of text file.
(A) .jpg (B) .bmp (C) .txt (D) .com

C-LANGUAGE

- (7) _____ format specifier is used for float data type.
(A) % d (B) % C (C) % F (D) % S
- (8) Conditional operator is an alternative of:-
(A) if (B) While (C) if - else (D) Nested if
- (9) _____ keyword is not used in switch statement's syntax.
(A) Switch (B) Do (C) Case (D) Default
- (10) In C, a statement is terminated by:-
(A) Comma (B) Colon (C) Semicolon (D) Bracket
- (11) _____ is a loop structure.
(A) If (B) If - else (C) Switch (D) For
- (12) Multiple arguments to a function are separated by:-
(A) Equal (B) Semicolon (C) Comma (D) Colon
- (13) A sequence of characters from input device to computer is called:-
(A) Input device (B) Text stream (C) Binary stream (D) File
- (14) _____ byte/bytes are occupied by float type in memory.
(A) 0 (B) 1 (C) 2 (D) 4
- (15) Variables are created in:-
(A) ROM (B) RAM (C) Hard Disk (D) USB

OR**VISUAL BASIC**

- (7) _____ is not a Visual Basic control.
(A) Command button (B) Form (C) Variable (D) Text box
- (8) The property that changes text color is:-
(A) Back color (B) Font color (C) Fore color (D) Text color
- (9) _____ data type is used to handle a YES or NO response.
(A) Short (B) Boolean (C) Date (D) Integer
- (10) The entire select case construct is terminated with:-
(A) Case End (B) End if (C) End select (D) Stop select
- (11) A loop within a loop is called:-
(A) Inner loop (B) Outer loop (C) Complex loop (D) Nested loop
- (12) The statement that terminates a For - Next loop is:-
(A) End For (B) Exist Loop (C) Exit For (D) END Loop
- (13) Each element in a control array is identified by:-
(A) Tab Index (B) Index (C) List Index (D) Sub Script
- (14) Visual Basic is a product of:-
(A) IBM (B) Sun System (C) Hewlett (D) Microsoft
- (15) The diamond in a flow chart indicates:-
(A) Progress (B) Condition (C) Input (D) Output

BOARD OF INTERMEDIATE AND SECONDARY EDUCATION, MULTAN
OBJECTIVE KEY FOR INTERMEDIATE ANNUAL/SUPPLY EXAMINATION, 2018

Name of Subject: CST-Second(2nd)

Session: _____

Group: 1st

Group: 2nd

New Scheme

Q.	Paper Code	Paper Code	Paper Code	Paper Code
Nos	8831	8833	8835	8837
1	A	A,B,C,D	A	C
2	C	C	D	A
3	A	A	A,B,C,D	D
4	D	A	C	A,B,C,D
5	A,B,C,D	C	A	C
6	C	A	A	A
7	A	D	C	A
8	A,B	A	C	C
9	C	C	B	C
10	C	A,B,C,D	A	C
11	C	A	C	B
12	C	A,B	A,B,C,D	A
13	B	C	A	C
14	A	C	A,B	A,B,C,D
15	C	C	C	A
16	A,B,C,D	C	C	A,B
17	A	B	C	C
18				
19				
20				

Q.	Paper Code	Paper Code	Paper Code	Paper Code
Nos	4831	4833	4835	4837
1	C	D	A	D
2	D	C	A	A
3	A	D	D	A
4	A	A	C	A
5	A	A	D	D
6	D	A	A	C
7	D	D	B	C
8	B	C	C	C
9	C	B	D	B
10	C	D	C	C
11	B	B	B	D
12	C	C	D	C
13	D	C	B	B
14	C	B	C	D
15	B	C	C	B
16				
17				
18				
19				
20				

سرٹیفکیٹ بابت صحیح سوالیہ پرچہ مارکنگ Key

ہم نے مضمون Computer Science پرچہ 2nd year گروپ New سیکم انٹر سیکانڈری امتحان 2018 کا سوالیہ پرچہ انشائیہ و معروضی (Subjective & Objective) کو بطور عین چیک کر لیا ہے یہ پرچہ Syllabus کے عین مطابق Set کیا گیا ہے۔ اس سوالیہ پرچہ میں کسی قسم کی کوئی غلطی نہ ہے۔ ہم نے سوالیہ پرچہ کا اردو اور انگریزی Version بھی چیک کر لیا ہے۔ یہ Version آپس میں مطابقت رکھتے ہیں۔ نیز اس پرچہ کی معروضی (MCQs) Key کی بابت تصدیق کی جاتی ہے کہ اس میں بھی کسی قسم کی کوئی غلطی نہ ہے۔ مزید یہ کہ ہم نے Key بنانے سے متعلق دفتر کی جانب سے تیار کردہ ہدایات وصول کر کے ان کا بغور مطالعہ کر لیا ہے اور ان کی روشنی میں Key بنائی ہے۔ نیز سب ایگزامینرز کیلئے تفصیلی مارکنگ ہدایات / مارکنگ سیکم / Rubrics بھی تیار کر دی گئی ہیں۔

Dated: 24-10-18

Prepared & Checked By:

S.#	Name	Designation	Institution	Mobile No	Signature
1	M. IQBAL LATIF	A/P	Govt. Degree College Shejha	0333 611644	<i>[Signature]</i>
2	M. Ali	A/P	Govt. College of Science	0333-6189403	<i>[Signature]</i>
3					

ہم نے درج بالا سوالیہ پرچہ (انشائیہ + معروضی) معروضی "Key" اور ہدایات کے حوالے سے عمل طور پر چکی کر لی ہے۔ کسی قسم کی کوئی غلطی نہ ہے۔

Re-Checked By	Name	Designation	Institution	Mobile No	Signature
1	M. Imran	A/P	Govt. Model Degree College Multan	0301742 3032	<i>[Signature]</i>
2					
3					

INTERMEDIATE PART-II (12th CLASS)**COMPUTER SCIENCE PAPER-II (OLD SCHEME)**

TIME ALLOWED: 3.10 Hours

SUBJECTIVE

MAXIMUM MARKS: 83

NOTE: - Write same question number and its part number on answer book, as given in the question paper.

SECTION-I

(Either from "MS-Access & C-Language" or from "MS-Access & Visual Basic").

MS-ACCESS**2. Attempt any Eight parts.**

8 x 2 = 16

- (i) What do you know about Data? (ii) What is Transaction File? (iii) Define Hierarchical Model.
 (iv) What is the roll of indexes in database management system? (v) What is Entity?
 (vi) Define Referential Integrity. (vii) Define Synonyms. (viii) What is Wizard?
 (ix) What is an IDE? (x) What do you know about degree of relation?
 (xi) What is Sub form? (xii) What is Combo box?

8 x 2 = 16

3. Attempt any Eight parts.**C-Language**

- (i) C is a case sensitive language. What does it mean? (ii) What are header files?
 (iii) What do you mean by delimiters? (iv) Define String Constant. Give an example.
 (v) Write any two rules for declaring variable in C.
 (vi) Predict the output of the following code:-

```
int n = 5;
int m = 0;
m = ++n;
printf ("%d", m);
```

 (vii) Find errors in the following code segment:-

```
int a b ;
a = 10; b = 20;
c = a + b;
printf ("c = % d", c);
```

 (viii) What is the use of "printf" function? Write its syntax. (ix) Write names of two output functions.
 (x) Determine the output of the following code:-

```
printf ("Pakistan \n is \n my homeland");
```

 (xi) Determine the output of the following code:-

```
int a, b, c;
a = 5;
b = 2;
c = a + b;
printf ("sum = % d", c);
```

 (xii) Trace errors from the following piece of code:-

```
#include < std.h>
void main ( )
{
printf ("PAK);
}
```

OR**VISUAL BASIC**

- (i) Define the process of analyzing a problem.
 (ii) Differentiate between source code and object code in Visual Basic.
 (iii) Write any four features of object - oriented programming.
 (iv) Why Visual Basic is called event driven language?
 (v) Differentiate between design time and runtime.
 (vi) Name and describe any two major parts of VB IDE. (vii) What is Code Window?
 (viii) Differentiate between properties and methods. (ix) How are event procedures named?
 (x) Write any four properties of form object.
 (xi) What are the differences between hiding and closing a form?
 (xii) Write down any two keyboard events.

6 x 2 = 12

4. Attempt any six parts.**C-Language**

- (i) Write the syntax of "if - else" statement.
 (ii) Determine the output of the following code segment:-

```
int a, b, c;
a = 10;
b = 3;
if ( a % b == 1 )
c = 0;
else
c = 1
printf ("%d", c);
```

 (iii) Find errors in the following code segment:-

```
int p = 20,
if ( price == 0 )
price = 0;
else
price = 2,
```

P.T.O.

(2)

- (iv) Define loop.
- (v) Determine the output of the following code:-

```
int n;
for ( n = 5; n > 1; n-- )
printf ( "%d", n );
```

5432
- (vi) Rewrite the following loop as for loop:-

```
int c = 0;
while ( c < 10 )
{
    printf ( "%d", c );
    c = c + 2;
}
```

- (vii) What is function?
- (viii) Compare local and global variable.
- (ix) What is text file?

OR**VISUAL BASIC**

- (i) What is difference between hiding and closing a form?
- (ii) Determine the output of the following code segment:-

```
DIM y as integer
y = 2000
If y mod 4 = 0 then
print "Leap year"
else
print "NOT Leap"
END IF
```
- (iii) Find errors in the following code segment:-

```
Dim Price Integer
Iff Price < > 10 THEN
    Price = 0
Else
    Price = 10
End SUB
```
- (iv) Explain the purpose of logical operators.
- (v) Determine the output of the following code:-

```
M = 3
P = 5
If M = 3 Then
If P = 4 then
    Print "YES"
Else
    Print "NO"
End If
End If
```
- (vi) Rewrite the following loop using DO --- While --- Loop

```
For X = 10 To 1 step - 1
Print X
Next
```
- (vii) Explain the difference between a Do --- Loop and For --- Next Loop.
- (viii) What is Iteration?
- (ix) Which function loads a picture at runtime?

NOTE: - Attempt any one question.**SECTION-II (Essay Type)****MS-ACCESS**

5. What is Data Modeling? What are ingredients of data modeling? 2 + 2 + 2 + 2 = 8
6. Define Query and discuss any three types of query. 8

NOTE: - Attempt any two questions either from "C-Language" OR from Visual Basic".

7. What is Error? Explain different types of errors. 8
C-Language
 OR **Visual Basic**
 What is Error? Explain different types of errors. 8
C-Language
8. Write a program which get a character from user and check whether it is a vowel or not. 8
 OR **Visual Basic**
 Write a program which get a character from user and check whether it is a vowel or not. 8
C-Language
9. What is do-while loop? Explain its working with the help of an example. 2 + 2 + 2 + 2 = 8
 Also draw its flowchart.
 OR **Visual Basic**
 What is Do-Loop While? Explain its working with the help of an example. 2 + 2 + 2 + 2 = 8
 Also draw its flowchart.

SECTION-III (PRACTICAL)

10. **Attempt any three parts of the questions.** 3 × 5 = 15
- (i) Write a procedure for replacing data in MS – Access.
- (ii) Write a procedure to add new record through forms.
- (iii) Write a program in C or Visual Basic that gets distance from user in kilometers and converts and displays it in meters.
- (iv) Write a program in C or Visual Basic that displays product of all odd numbers from 1 to 10 using for loop.
- (v) Write a program in C or Visual Basic that inputs a number, passes it to a function, the function returns it after incrementing it by 10. The incremented number is displayed by main ().

COMPUTER SCIENCE PAPER-II (OLD SCHEME)

TIME ALLOWED: 20 Minutes

OBJECTIVE

MAXIMUM MARKS: 17

Note: You have four choices for each objective type question as A, B, C and D. The choice which you think is correct, fill that bubble in front of that question number. Use marker or pen to fill the bubbles. Cutting or filling two or more bubbles will result in zero mark in that question. Attempt as many questions as given in objective type question paper and leave others blank. No credit will be awarded in case BUBBLES are not filled. Do not solve questions on this sheet of OBJECTIVE PAPER.

Q.No.1 (Either from "MS-ACCESS & C-LANGUAGE" OR from "MS-ACCESS & VISUAL BASIC")

MS-ACCESS

- (1) A database consists of various components which are called:-
 (A) Tools (B) Properties (C) Entities (D) Objects
- (2) _____ data type of MS – Access is default data type.
 (A) Memo (B) Number (C) Text (D) Anti Number
- (3) How many are layouts of a report?
 (A) 2 (B) 3 (C) 4 (D) 5
- (4) Duplicated data in multiple files is:-
 (A) Data Redundancy (B) Data Multiplication (C) Data Integrity (D) Data Consistency
- (5) A key consists of more than one column is:-
 (A) Secondary key (B) Candidate key (C) Composite key (D) Primary key
- (6) In a ER Diagram, a rectangle represent:-
 (A) Entity (B) Attribute (C) Relationship (D) Fields
- (7) _____ dependency is removed in 2NF.
 (A) Functional (B) Transitive (C) Associative (D) Partial

C-Language

- (8) _____ loop is also called counter loop.
 (A) For (B) While (C) do – while (D) While – wend
- (9) A loop within loop is called:-
 (A) Complex loop (B) Outer loop (C) Nested loop (D) Inner loop
- (10) _____ keyword is used to increment or decrement.
 (A) Step (B) Skip (C) Next (D) Interval
- (11) _____ is used to mark the end of string. (A) \0 (B) /0 (C) \a (D) /e
- (12) A program's syntax errors are detected by:-
 (A) Compiler (B) Debugger (C) Loader (D) Linker
- (13) $a + = b$ is equivalent to:-
 (A) $b + = a$ (B) $a = + b$ (C) $a = a + b$ (D) $b = b + a$
- (14) The escape sequence starts with:-
 (A) / (B) % (C) \ (D) &
- (15) _____ variables can be used in one printf function.
 (A) One (B) Two (C) Many (D) Three
- (16) _____ operator is called ternary operator.
 (A) If (B) ++ (C) ? (D) ()
- (17) _____ operators are used to join two or more conditions.
 (A) Relational (B) Logical (C) Arithmetic (D) Physical

OR**VISUAL BASIC**

- (8) The statement that immediately terminates for loop:-
 (A) Exit for (B) End for (C) Exit loop (D) End loop
- (9) A loop within loop is called:-
 (A) Complex loop (B) Outer loop (C) Nested loop (D) Inner loop
- (10) _____ keyword is used to increment or decrement.
 (A) Step (B) Skip (C) Next (D) Interval
- (11) If step keyword is not used in For ---- Next loop, counter variable is incremented by:-
 (A) 3 (B) 2 (C) 1 (D) 0
- (12) The window used to establish initial property values for object is:-
 (A) Property Window (B) Form Window (C) Code Window (D) Main Window
- (13) Forms and controls collectively are recognized as:-
 (A) Methods (B) Events (C) Objects (D) Properties
- (14) Back color, enabled and fore color are examples of:-
 (A) Parameters (B) Methods (C) Properties (D) Objects
- (15) _____ bytes are occupied by integer data type. (A) 8 (B) 6 (C) 2 (D) 4
- (16) _____ is used to get input.
 (A) Format (B) Ucase (C) Input Box (D) Get
- (17) _____ programming structure executes statements in order.
 (A) Selection (B) Sequence (C) Repetition (D) Function

Paper Code

2018 (S)

Roll No: _____

Number:

8835

INTERMEDIATE PART-II (12th CLASS)**COMPUTER SCIENCE PAPER-II (OLD SCHEME)**

TIME ALLOWED: 20 Minutes

OBJECTIVE

MAXIMUM MARKS: 17

Note: You have four choices for each objective type question as A, B, C and D. The choice which you think is correct, fill that bubble in front of that question number. Use marker or pen to fill the bubbles. Cutting or filling two or more bubbles will result in zero mark in that question. Attempt as many questions as given in objective type question paper and leave others blank. No credit will be awarded in case BUBBLES are not filled. Do not solve questions on this sheet of OBJECTIVE PAPER.

Q.No.1 (Either from "MS-ACCESS & C-LANGUAGE" OR from "MS-ACCESS & VISUAL BASIC")

MS-ACCESS

- (1) In a ER Diagram, a rectangle represent:-
 (A) Entity (B) Attribute (C) Relationship (D) Fields
- (2) _____ dependency is removed in 2NF.
 (A) Functional (B) Transitive (C) Associative (D) Partial
- (3) A database consists of various components which are called:-
 (A) Tools (B) Properties (C) Entities (D) Objects
- (4) _____ data type of MS – Access is default data type.
 (A) Memo (B) Number (C) Text (D) Anti Number
- (5) How many are layouts of a report?
 (A) 2 (B) 3 (C) 4 (D) 5
- (6) Duplicated data in multiple files is:-
 (A) Data Redundancy (B) Data Multiplication (C) Data Integrity (D) Data Consistency
- (7) A key consists of more than one column is:-
 (A) Secondary key (B) Candidate key (C) Composite key (D) Primary key

C-Language

- (8) _____ operator is called ternary operator.
 (A) If (B) ++ (C) ? (D) ()
- (9) _____ operators are used to join two or more conditions.
 (A) Relational (B) Logical (C) Arithmetic (D) Physical
- (10) _____ loop is also called counter loop.
 (A) For (B) While (C) do – while (D) While – wend
- (11) A loop within loop is called:-
 (A) Complex loop (B) Outer loop (C) Nested loop (D) Inner loop
- (12) _____ keyword is used to increment or decrement.
 (A) Step (B) Skip (C) Next (D) Interval
- (13) _____ is used to mark the end of string. (A) \0 (B) /0 (C) \a (D) /e
- (14) A program's syntax errors are detected by:-
 (A) Compiler (B) Debugger (C) Loader (D) Linker
- (15) $a + = b$ is equivalent to:-
 (A) $b + = a$ (B) $a = + b$ (C) $a = a + b$ (D) $b = b + a$
- (16) The escape sequence starts with:-
 (A) / (B) % (C) \ (D) &
- (17) _____ variables can be used in one printf function.
 (A) One (B) Two (C) Many (D) Three

OR**VISUAL BASIC**

- (8) _____ is used to get input.
 (A) Format (B) Ucase (C) Input Box (D) Get
- (9) _____ programming structure executes statements in order.
 (A) Selection (B) Sequence (C) Repetition (D) Function
- (10) The statement that immediately terminates for loop:-
 (A) Exit for (B) End for (C) Exit loop (D) End loop
- (11) A loop within loop is called:-
 (A) Complex loop (B) Outer loop (C) Nested loop (D) Inner loop
- (12) _____ keyword is used to increment or decrement.
 (A) Step (B) Skip (C) Next (D) Interval
- (13) If step keyword is not used in For ---- Next loop, counter variable is incremented by:-
 (A) 3 (B) 2 (C) 1 (D) 0
- (14) The window used to establish initial property values for object is:-
 (A) Property Window (B) Form Window (C) Code Window (D) Main Window
- (15) Forms and controls collectively are recognized as:-
 (A) Methods (B) Events (C) Objects (D) Properties
- (16) Back color, enabled and fore color are examples of:-
 (A) Parameters (B) Methods (C) Properties (D) Objects
- (17) _____ bytes are occupied by integer data type. (A) 8 (B) 6 (C) 2 (D) 4

Paper Code

2018 (S)

Roll No: _____

Number:

8837

INTERMEDIATE PART-II (12th CLASS)**COMPUTER SCIENCE PAPER-II (OLD SCHEME)**

TIME ALLOWED: 20 Minutes

OBJECTIVE

MAXIMUM MARKS: 17

Note: You have four choices for each objective type question as A, B, C and D. The choice which you think is correct, fill that bubble in front of that question number. Use marker or pen to fill the bubbles. Cutting or filling two or more bubbles will result in zero mark in that question. Attempt as many questions as given in objective type question paper and leave others blank. No credit will be awarded in case BUBBLES are not filled. Do not solve questions on this sheet of OBJECTIVE PAPER.

Q.No.1 (Either from "MS-ACCESS & C-LANGUAGE" OR from "MS-ACCESS & VISUAL BASIC")

MS-ACCESS

- (1) A key consists of more than one column is:-
 (A) Secondary key (B) Candidate key (C) Composite key (D) Primary key
- (2) In a ER Diagram, a rectangle represent:-
 (A) Entity (B) Attribute (C) Relationship (D) Fields
- (3) _____ dependency is removed in 2NF.
 (A) Functional (B) Transitive (C) Associative (D) Partial
- (4) A database consists of various components which are called:-
 (A) Tools (B) Properties (C) Entities (D) Objects
- (5) _____ data type of MS – Access is default data type.
 (A) Memo (B) Number (C) Text (D) Anti Number
- (6) How many are layouts of a report?
 (A) 2 (B) 3 (C) 4 (D) 5
- (7) Duplicated data in multiple files is:-
 (A) Data Redundancy (B) Data Multiplication (C) Data Integrity (D) Data Consistency

C-Language

- (8) The escape sequence starts with:-
 (A) / (B) % (C) \ (D) &
- (9) _____ variables can be used in one printf function.
 (A) One (B) Two (C) Many (D) Three
- (10) _____ operator is called ternary operator.
 (A) If (B) ++ (C) ? (D) ()
- (11) _____ operators are used to join two or more conditions.
 (A) Relational (B) Logical (C) Arithmetic (D) Physical
- (12) _____ loop is also called counter loop.
 (A) For (B) While (C) do – while (D) While – wend
- (13) A loop within loop is called:-
 (A) Complex loop (B) Outer loop (C) Nested loop (D) Inner loop
- (14) _____ keyword is used to increment or decrement.
 (A) Step (B) Skip (C) Next (D) Interval
- (15) _____ is used to mark the end of string. (A) \0 (B) /0 (C) \a (D) /e
- (16) A program's syntax errors are detected by:-
 (A) Compiler (B) Debugger (C) Loader (D) Linker
- (17) $a + = b$ is equivalent to:-
 (A) $b + = a$ (B) $a = + b$ (C) $a = a + b$ (D) $b = b + a$

OR**VISUAL BASIC**

- (8) Back color, enabled and fore color are examples of:-
 (A) Parameters (B) Methods (C) Properties (D) Objects
- (9) _____ bytes are occupied by integer data type. (A) 8 (B) 6 (C) 2 (D) 4
- (10) _____ is used to get input.
 (A) Format (B) Ucase (C) Input Box (D) Get
- (11) _____ programming structure executes statements in order.
 (A) Selection (B) Sequence (C) Repetition (D) Function
- (12) The statement that immediately terminates for loop:-
 (A) Exit for (B) End for (C) Exit loop (D) End loop
- (13) A loop within loop is called:-
 (A) Complex loop (B) Outer loop (C) Nested loop (D) Inner loop
- (14) _____ keyword is used to increment or decrement.
 (A) Step (B) Skip (C) Next (D) Interval
- (15) If step keyword is not used in For ---- Next loop, counter variable is incremented by:-
 (A) 3 (B) 2 (C) 1 (D) 0
- (16) The window used to establish initial property values for object is:-
 (A) Property Window (B) Form Window (C) Code Window (D) Main Window
- (17) Forms and controls collectively are recognized as:-
 (A) Methods (B) Events (C) Objects (D) Properties

Name of Subject: Sociology Session: Inter Part-II

Q.Nos	Paper Code 4451	Paper Code 4453	Paper Code 4455	Paper Code 4457
1	D	D	A	B
2	C	D	C	A
3	A	A	D	D
4	D	B	D	C
5	C	D	B	C
6	B	D	D	A
7	A	C	D	C
8	D	A	A	D
9	C	D	B	D
10	C	C	D	B
11	A	B	D	D
12	C	A	C	D
13	D	D	A	A
14	D	C	D	B
15	B	C	C	D
16	D	A	B	D
17	D	C	A	C
18	A	D	D	A
19	B	D	C	D
20	D	B	C	C

سرٹیفکیٹ مابت صحیح سوالیہ پرچہ مارکنگ Key

ہم نے مضمون عمرانیات پرچہ II گروپ x سکیم 8 انٹرمیڈیٹ/انٹرمیڈیٹ امتحان 2018 کا سوالیہ پرچہ انشائیہ و معروضی (Subjective & Objective) کو بنظر عمیق چیک کر لیا ہے یہ پرچہ Syllabus کے عین مطابق Set کیا گیا ہے۔ اس سوالیہ پرچہ میں کسی قسم کی کوئی غلطی نہ ہے۔ ہم نے سوالیہ پرچہ کا اردو اور انگریزی Version بھی چیک کر لیا ہے۔ یہ Version آپس میں مطابقت رکھتے ہیں۔ نیز اس پرچہ کی معروضی (MCQs) Key کی بابت تصدیق کی جاتی ہے کہ اس میں بھی کسی قسم کی کوئی غلطی نہ ہے۔ مزید یہ کہ ہم نے Key بنانے سے متعلق دفتر کی جانب سے تیار کردہ ہدایات وصول کر کے ان کا بغور مطالعہ کر لیا ہے اور ان کی رہنمائی میں Key بنائی ہے۔ نیز سب ایگزامینرز کیلئے تفصیلی مارکنگ ہدایات/ مارکنگ سکیم/Rubrics بھی تیار کر دی گئی ہیں۔

Prepared & Checked By:

Dated: 24-10-18

S.#	Name	Designation	Institution	Mobile No	Signature
1	Ghulam Raza Nasir	A/P	Govt. College Civil Lines, Multan	0351-6963576	
2	Muzakki's Ahmad Rana	A/P	Govt College, Civil Lines, Multan	0350- 7310110	
3	M. Kadief	lect.	Govt. Emerson College, Multan.	0313-6012346	

انٹرمیڈیٹ امتحان پارٹ - II (کلاس بارہویں)

SOCIOLOGY PAPER-II

SUBJECTIVE حصہ انشائیہ

عمرانیات پرچہ - دوسرا

TIME ALLOWED: 2.30 Hours

وقت = 2.30 گھنٹے

MAXIMUM MARKS: 80

کل نمبر = 80

NOTE: - Write same question number

نوٹ - جوابی کاپی پر وہی سوال نمبر اور جزو نمبر درج کیجیے جو کہ سوالیہ پرچہ میں درج ہے۔

and its part number on answer book, as given in the question paper.

SECTION-I حصہ اول

16 = 2 x 8

2. Attempt any eight parts.

- What type of tools Dravidian used?
- What was the status of woman in Aryans society?
- What was the duty of Shudras?
- Which one is called the land of five rivers?
- Write the names of two famous Punjabi Poets.
- What is the importance of guest in Balochi culture?
- Write the name of three big religions in Pakistan.
- Define Village.
- Describe two characteristics of Sindhi culture.
- What is meant by Cultural integration?
- Describe the important characteristics of K.P.K.
- What is meant by Uma?

سوال نمبر 2- کوئی سے آٹھ اجزاء کے جوابات تحریر کیجیے۔

- دراوڑوں سے اوزار استعمال کرتے تھے؟ (i)
- آریہ معاشرہ میں عورت کا مقام کیا تھا؟ (ii)
- شودروں کا کیا کام تھا؟ (iii)
- پانچ دریاؤں کی سرزمین کسے کہتے ہیں؟ (iv)
- پنجابی کے دو مشہور شاعروں کے نام لکھیں۔ (v)
- بلوچی ثقافت میں مہمان کی کیا اہمیت ہے؟ (vi)
- پاکستان میں کون سے تین بڑے مذاہب ہیں؟ (vii)
- گاؤں کی تعریف کریں۔ (viii)
- سندھی ثقافت کے دو خاص تر کیجیں۔ (ix)
- ثقافتی یکجہتی سے کیا مراد ہے؟ (x)
- صوبہ خیبر پختونخوا کی نمایاں خصوصیات تحریر کریں۔ (xi)
- امت رلت سے کیا مراد ہے؟ (xii)

3. Attempt any eight parts.

16 = 2 x 8

- What is meant by Culture of Punjab?
- What is Cultural Similarities?
- What is importance of Lahore?
- Define Life Expectancy.
- What is meant by Martial Status?
- Khush-hal Khan Khatak belonged to which province?
- What is meant by Sex-ratio?
- Where is Quetta located?
- Write the names of four Industrial cities.
- What is importance of Census?
- Write two features of Sindhi Culture.
- Write two names of Punjab folk-lore.

سوال نمبر 3- کوئی سے آٹھ اجزاء کے جوابات تحریر کیجیے۔

- پنجاب کی ثقافت سے کیا مراد ہے؟ (i)
- ثقافتی مماثلت کیا ہوتی ہے؟ (ii)
- لاہور کی کیا اہمیت ہے؟ (iii)
- متوقع شرح حیات کی تعریف کریں۔ (iv)
- ازواجی حیثیت سے کیا مراد ہے؟ (v)
- خوشحال خان خٹک کس صوبہ سے تھا؟ (vi)
- صنعتی تناسب سے کیا مراد ہے؟ (vii)
- کوئٹہ کہاں واقع ہے؟ (viii)
- چار صنعتی شہروں کے نام لکھیں۔ (ix)
- مردم شماری کیوں کی جانی ہے؟ (x)
- سندھی ثقافت کے دو اوصاف تحریر کریں۔ (xi)
- پنجاب کی دو لوک داستانوں کے نام لکھیں۔ (xii)

4. Attempt any nine parts.

18 = 2 x 9

- Write four types of Family.
- Define Bradri.
- Write two merits of Bradri.
- Write the names of four primary occupations.
- Write the types of Education.
- Write the importance of Masjid briefly.
- Define Overpopulation.
- Define Illiteracy.
- What is meant by Family Planning?
- Define density of Population.
- Define Poverty.
- What is meant by Poverty line?
- Differentiate between Family and Bradri.

سوال نمبر 4- کوئی سے نو اجزاء کے جوابات تحریر کیجیے۔

- خاندان کی چار اقسام تحریر کیجیے۔ (i)
- برادری کی تعریف کیجیے۔ (ii)
- برادری کے دو فوائد تحریر کیجیے۔ (iii)
- چار بنیادی پیشوں کے نام تحریر کیجیے۔ (iv)
- تعلیم کی اقسام تحریر کیجیے۔ (v)
- مسجد کی اہمیت مختصر آخیر کیجیے۔ (vi)
- افراط آبادی کی تعریف کیجیے۔ (vii)
- ناخواندگی کی تعریف کیجیے۔ (viii)
- خاندانی منصوبہ بندی سے کیا مراد ہے؟ (ix)
- گنجانیت آبادی کی تعریف کیجیے۔ (x)
- غربت کی تعریف کیجیے۔ (xi)
- خط غربت سے کیا مراد ہے؟ (xii)
- خاندان اور برادری میں فرق بیان کیجیے۔ (xiii)

SECTION-II حصہ دوم

30 = 10 x 3

NOTE: - Attempt any three questions.

- Describe the impacts of British Civilization on Subcontinent.
- Point out the problems faced by National integration in Pakistan.
- Write down the definition of farmstead and also write the characteristics.
- Write the qualities of a good leader with reference to Pakistani society.
- Write a detailed note on causes of Poverty.

نوٹ - کوئی سے تین سوالات کے جوابات تحریر کیجیے۔

- برصغیر پر برطانوی تہذیب کے اثرات بیان کیجیے۔ -5
- پاکستان میں قومی یکجہتی کو درپیش مسائل کی نشان دہی کیجیے۔ -6
- کھیت رہائش کی تعریف اور خصوصیات بھی لکھیے۔ -7
- پاکستانی معاشرے کے حوالے سے ایک اچھے لیڈر کے اوصاف تحریر کریں۔ -8
- غربت کے اسباب پر مفصل نوٹ لکھیں۔ -9

Paper Code

2018 (S)

رول نمبر

Number: 4451

(کلاس بارہویں) II - انٹرمیڈیٹ امتحان پارٹ -

SOCIOLOGY PAPER-II

عمرانیات پرچہ - دوسرا

TIME ALLOWED: 30 Minutes

حصہ معروضی OBJECTIVE

وقت = 30 منٹ

MAXIMUM MARKS: 20

کل نمبر = 20

نوٹ۔ ہر سوال کے چار ممکنہ جوابات A، B، C اور D دیئے گئے ہیں۔ جوابی کاپی پر ہر سوال کے سامنے دیئے گئے دائروں میں سے درست جواب کے مطابق متعلقہ دائرہ کو مار کر یا پین سے بھر دیجئے۔ ایک سے زیادہ دائروں کو بھر کرنے یا کاٹ کر پُر کرنے کی صورت میں مذکورہ جواب غلط تصور ہوگا۔ دائروں کو پُر نہ کرنے کی صورت میں کوئی نمبر نہیں دیا جائے گا۔ اس سوال پرچہ پر

Note: you have four choices for each objective type question as A, B, C and D. The choice which you think is correct, fill that bubble in front of that question number. On bubble sheet, use marker or pen to fill the bubbles. Cutting or filling two or more bubbles will result in zero mark in that question. Attempt as many questions as given in objective type question paper and leave others blank. No credit will be awarded in case BUBBLES are not filled. Do not solve questions on this sheet of OBJECTIVE PAPER.

Q.No.1

سوال نمبر 1-

- (1) People belonging to Caucasoid Race(White race) are settled in:-
(A) Asia ایشیا میں (B) Latin Amrica لاطینی امریکا میں (C) Africa افریقہ میں (D) Europe یورپ میں
- (2) To train elephant is related to:-
(A) Aryans آریہ (B) Dravidians دراوڑ (C) Austricks آسٹریکس (D) Arabs عرب
- (3) The Indus Valley civilization was ruined by:-
(A) Aryians آریہ (B) Dravidians دراوڑ (C) Iranians ایرانی (D) Austricks آسٹریکس
- (4) The holy book of Aryans is:-
(A) Sam Veda سام ویدا (B) Bogar Veda بوگر ویدا (C) Ather Veda اتر ویدا (D) Rag-e-Veda رگ ویدا
- (5) An important element of Pakistan Ideology is:-
(A) Economy معیشت (B) Trade تجارت (C) Religion مذہب (D) Politics سیاست
- (6) Shah Murid and "Summon da qissa" is related to:-
(A) Puktoon پختون (B) Balochi بلوچی (C) Kashmiri کشمیری (D) Saraiki سرانیکی
- (7) Otaq in Sindhi culture is called:-
(A) Guest room مہمان خانے (B) Cattle room مویشی خانہ (C) Post office ڈاکخانہ (D) School سکول
- (8) The tomb of Hazrat Bahaudin Zakria(R.A) is in:-
(A) Karachi کراچی میں (B) Lahore لاہور میں (C) Pakpattan پاکپتن میں (D) Multan ملتان میں
- (9) Politically independent societies are called:-
(A) Group گروہ (B) Society معاشرہ (C) Nation قوم (D) Ethnocentrism عصبیت
- (10) Central departments should be strong:-
(A) To control crime جرائم کے خاتمے کے لیے (B) Economic development معاشی ترقی کے لیے (C) National solidarity قومی یک جہتی کے لیے (D) To provide education تعلیم کی فراہمی کے لیے
- (11) Hazrat Sultan Bahoo(RA) is related to:-
(A) Punjab پنجاب سے (B) Sindh سندھ سے (C) Khyber Pakhtunkhwa خیبر پختونخواہ سے (D) Balochistan بلوچستان
- (12) The settlement of population at any place is:-
(A) Urban area بلدیاتی علاقہ (B) Rural area دیہی علاقہ (C) Settlement آباد کاری (D) Culture ثقافت
- (13) The most important personality of the village:-
(A) Barber نانکی (B) Blacksmith لوہار (C) School teacher سکول ٹیچر (D) Patwari پنواری
- (14) The separate residence of husband, wife and children is called:-
(A) Patriarchal پدرسری (B) Joint family مشترکہ خاندان (C) Matriarchal مادرسری (D) Nuclear famliy سادہ خاندان
- (15) Baradri discourages:-
(A) Orthodox behaviour قدامت پسندی (B) Modernization جدت پسندی (C) Democratic attitude جمہوری طرز عمل (D) Economy معیشت
- (16) According to population the ranking of Pakistan is _____ in world.
(A) Third تیسرا (B) Fourth چوتھا (C) Fifth پانچواں (D) Sixth چھٹا
- (17) Fertility, mortality and migration are elements of:-
(A) Sociology عمرانیات کے (B) Culture ثقافت کے (C) Country ملک کے (D) Population آبادی کے
- (18) Quaid-e-Azam spent last days of his life in:-
(A) Ziarat زیارت (B) Peshawar پشاور (C) Murree مری (D) Quetta کوئٹہ
- (19) To control the population as per policy is called:-
(A) Development ملکی ترقی (B) Population planning منصوبہ بندی آبادی (C) Overpopulation افراط آبادی (D) Culture ثقافت
- (20) To achieve a better life is possible by:-
(A) Illiteracy ناخواندگی سے (B) Crime جرائم سے (C) Social problems معاشرتی مسائل سے (D) Literacy خواندگی سے

Paper Code

2018 (S)

رول نمبر

Number: 4453

انٹرمیڈیٹ امتحان پارٹ - II (کلاس بارہویں)

SOCIOLOGY PAPER-II

عمرانیات پرچہ - دوسرا

TIME ALLOWED: 30 Minutes

حصہ معروضی OBJECTIVE

وقت = 30 منٹ

MAXIMUM MARKS: 20

کل نمبر = 20

نوٹ - ہر سوال کے چار ممکنہ جوابات A, B, C اور D دیئے گئے ہیں۔ جوابی کاپی پر ہر سوال کے سامنے دیئے گئے دائروں میں سے درست جواب کے مطابق متعلقہ دائرہ کو مار کر یا پین سے نمبر دیجئے۔ ایک سے زیادہ دائروں کو پُر کرنے یا کاٹ کر پُر کرنے کی صورت میں مذکورہ جواب غلط تصور ہوگا۔ دائروں کو پُر نہ کرنے کی صورت میں کوئی نمبر نہیں دیا جائے گا۔ اس سوالیہ پرچہ پر

Note: you have four choices for each objective type question as A, B, C and D. The choice which you think is correct, fill that bubble in front of that question number. On bubble sheet, use marker or pen to fill the bubbles. Cutting or filling two or more bubbles will result in zero mark in that question. Attempt as many questions as given in objective type question paper and leave others blank. No credit will be awarded in case BUBBLES are not filled. Do not solve questions on this sheet of OBJECTIVE PAPER.

Q.No.1

سوال نمبر 1-

- (1) According to population the ranking of Pakistan is _____ in world. (1) آبادی کے لحاظ سے پاکستان کا دنیا میں نمبر ہے۔
(A) Third تیسرا (B) Fourth چوتھا (C) Fifth پانچواں (D) Sixth چھٹا
- (2) Fertility, mortality and migration are elements of:- (2) پیدائش، موت اور ہجرت عناصر ہیں۔
(A) Sociology کے عمرانیات (B) Culture کے ثقافت (C) Country کے ملک (D) Population کے آبادی
- (3) Quaid-e-Azam spent last days of his life in:- (3) قائد اعظم نے اپنی زندگی کے آخری ایام _____ میں گزارے۔
(A) Ziarat زیارت (B) Peshawar پشاور (C) Murree مری (D) Quetta کوئٹہ
- (4) To control the population as per policy is called:- (4) شرح پیدائش کو منسوبے کے تحت کنٹرول کرنا کہلاتا ہے۔
(A) Development ملکی ترقی (B) Population planning منسوبہ بندی آبادی (C) Overpopulation افراط آبادی (D) Culture ثقافت
- (5) To achieve a better life is possible by:- (5) بہتر معیار زندگی کا حصول ممکن ہے۔
(A) Illiteracy ناخواندگی سے (B) Crime جرائم سے (C) Social problems معاشرتی مسائل سے (D) Literacy خواندگی سے
- (6) People belonging to Caucasoid Race (White race) are settled in:- (6) سفید فام نسل سے تعلق رکھنے والے آباد ہیں۔
(A) Asia ایشیا میں (B) Latin Amrica لاطینی امریکا میں (C) Africa افریقہ میں (D) Europe یورپ میں
- (7) To train elephant is related to:- (7) ہاتھیوں کو سدھانا کارنامہ ہے۔
(A) Aryans آریہ (B) Dravidians دراوڑ (C) Austricks آسٹریکس (D) Arabs عرب
- (8) The Indus Valley civilization was ruined by:- (8) وادی سندھ کی تہذیب کو تباہ کرنے والے ہیں۔
(A) Aryans آریہ (B) Dravidians دراوڑ (C) Iranians ایرانی (D) Austricks آسٹریکس
- (9) The holy book of Aryans is:- (9) آریہ کی مقدس کتاب کا نام ہے۔
(A) Sam Veda سام وید (B) Bogar Veda بوگر وید (C) Ather Veda اتھر وید (D) Rag-e-Veda رگ وید
- (10) An important element of Pakistan Ideology is:- (10) پاکستان کی نظریاتی اساس کا اہم عنصر ہے۔
(A) Economy معیشت (B) Trade تجارت (C) Religion مذہب (D) Politics سیاست
- (11) Shah Murid and "Sumnon da gissa" is related to:- (11) شاہ مرید اور سمون واقصہ _____ کی لوک کہانیاں ہیں۔
(A) Puktoon پختون (B) Balochi بلوچی (C) Kashmiri کشمیری (D) Saraiki سرائیکی
- (12) Otaq in Sindh culture is called:- (12) سندھی ثقافت میں اوطاق کہتے ہیں۔
(A) Guest room مہمان خانے (B) Cattle room مویشی خانہ (C) Post office ڈاکخانہ (D) School سکول
- (13) The tomb of Hazrat Bahaudin Zakria (R.A) is in:- (13) مشہور بزرگ حضرت بہاؤ الدین زکریاؒ کا مزار واقع ہے۔
(A) Karachi کراچی میں (B) Lahore لاہور میں (C) Pakpattan پاکستان میں (D) Multan ملتان میں
- (14) Politically independent societies are called:- (14) سیاسی طور پر خود مختار معاشرے کہلاتے ہیں۔
(A) Group گروہ (B) Society معاشرہ (C) Nation قوم (D) Ethnocentrism عصبیت
- (15) Central departments should be strong:- (15) مرکزی اداروں کا مضبوط ہونا ضروری ہے۔
(A) To control crime جرائم کے خاتمے کے لیے (B) Economic development معاشی ترقی کے لیے (C) National solidarity قومی یک جہتی کے لیے (D) To provide education تعلیم کی فراہمی کے لیے
- (16) Hazrat Sultan Bahoo (RA) is related to:- (16) حضرت سلطان باہوؒ کا تعلق ہے۔
(A) Punjab پنجاب سے (B) Sindh سندھ سے (C) Khyber Pakhtunkhwa خیبر پختونخواہ سے (D) Balochistan بلوچستان
- (17) The settlement of population at any place is:- (17) آبادی کا کسی مقام پر رہائش اختیار کرنا، کہلاتا ہے۔
(A) Urban area دیہی علاقہ (B) Rural area دیہی علاقہ (C) Settlement آباد کاری (D) Culture ثقافت
- (18) The most important personality of the village:- (18) دیہی معاشرے کی سب سے اہم شخصیت:-
(A) Barber نانائی (B) Blacksmith لوہار (C) School teacher سکول ٹیچر (D) Patwari پٹواری
- (19) The separate residence of husband, wife and children is called:- (19) میاں، بیوی اور بچوں کا علیحدہ قیام کہلاتا ہے۔
(A) Patriarchal پدرسری (B) Joint family مشترکہ خاندان (C) Matriarchal مادرسری (D) Nuclear family سادہ خاندان
- (20) Baradri discourages:- (20) برادری حوصلہ شکنی کرتی ہے۔
(A) Orthodox behaviour قدامت پسندی (B) Modernization جدت پسندی (C) Democratic attitude جمہوری طرز عمل (D) Economy معیشت

Paper Code

2018 (S)

Number: 4455

انٹرمیڈیٹ امتحان پارٹ - II (کلاس بارہویں)

SOCIOLOGY PAPER-II

عمرانیات پرچہ - دوسرا

TIME ALLOWED: 30 Minutes

OBJECTIVE حصہ معروضی

وقت = 30 منٹ

MAXIMUM MARKS: 20

کل نمبر = 20

نوٹ۔ ہر سوال کے چار ممکنہ جوابات A، B، C اور D دیئے گئے ہیں۔ جوابی کاپی پر ہر سوال کے سامنے دیئے گئے دائروں میں سے درست جواب کے مطابق متعلقہ دائرہ کو مار کر یا پین سے بھر دیجئے۔ ایک سے زیادہ دائروں کو بھر کرنے یا کاٹ کر بھر کرنے کی صورت میں مذکورہ جواب غلط تصور ہوگا۔ دائروں کو بھر نہ کرنے کی صورت میں کوئی نمبر نہیں دیا جائے گا۔ اس سوالیہ پرچہ پر سوالات ہرگز حل نہ کریں۔

Note: you have four choices for each objective type question as A, B, C and D. The choice which you think is correct, fill that bubble in front of that question number. On bubble sheet, use marker or pen to fill the bubbles. Cutting or filling two or more bubbles will result in zero mark in that question. Attempt as many questions as given in objective type question paper and leave others blank. No credit will be awarded in case BUBBLES are not filled. Do not solve questions on this sheet of OBJECTIVE PAPER.

Q.No.1

سوال نمبر 1

- (1) Hazrat Sultan Bahoo(RA) is related to:-
(A) Punjab سے (B) سندھ سے (C) Khyber Pakhtunkhwa سے (D) بلوچستان Balochistan سے
- (2) The settlement of population at any place is:-
(A) Urban area بلدیاتی علاقہ (B) Rural area دیہی علاقہ (C) Settlement آباد کاری (D) Culture ثقافت
- (3) The most important personality of the village:-
(A) Barber تائی (B) Blacksmith لوحار (C) School teacher اسکول ٹیچر (D) Patwari پنواری
- (4) The separate residence of husband, wife and children is called:-
(A) Patriarchal پدرسری (B) Joint family مشترکہ خاندان (C) Matriarchal مادرسری (D) Nuclear family سادہ خاندان
- (5) Baradri discourages:-
(A) Orthodox behaviour قدامت پسندی (B) Modernization جدت پسندی (C) Democratic attitude جمہوری طرز عمل (D) Economy معیشت
- (6) According to population the ranking of Pakistan is _____ in world.
(A) Third تیسرا (B) Fourth چوتھا (C) Fifth پانچواں (D) Sixth چھٹا
- (7) Fertility, mortality and migration are elements of:-
(A) Sociology عمرانیات کے (B) Culture ثقافت کے (C) Country ملک کے (D) Population آبادی کے
- (8) Quaid-e-Azam spent last days of his life in:-
(A) Ziarat زیارت (B) Peshawar پشاور (C) Murree مری (D) Quetta کوئٹہ
- (9) To control the population as per policy is called:-
(A) Development ملکی ترقی (B) Population planning منصوبہ بندی آبادی (C) Overpopulation افراط آبادی (D) Culture ثقافت
- (10) To achieve a better life is possible by:-
(A) Illiteracy ناخواندگی سے (B) Crime جرائم سے (C) Social problems معاشرتی مسائل سے (D) Literacy خواندگی سے
- (11) People belonging to Caucasoid Race(White race) are settled in:-
(A) Asia ایشیا میں (B) Latin Amrica لاطینی امریکا میں (C) Africa افریقہ میں (D) Europe یورپ میں
- (12) To train elephant is related to:-
(A) Aryans آریہ (B) Dravidians دراوڑ (C) Austricks آسٹریکس (D) Arabs عرب
- (13) The Indus Valley civilization was ruined by:-
(A) Aryans آریہ (B) Dravidians دراوڑ (C) Iranians ایرانی (D) Austricks آسٹریکس
- (14) The holy book of Aryans is:-
(A) Sam Veda سام ویدا (B) Bogar Veda بوگر ویدا (C) Ather Veda اتھر ویدا (D) Rag-e-Veda رگ ویدا
- (15) An important element of Pakistan Ideology is:-
(A) Economy معیشت (B) Trade تجارت (C) Religion مذہب (D) Politics سیاست
- (16) Shah Murid and "Summon da qissa" is related to:-
(A) Puktoon پنجتون (B) Balochi بلوچی (C) Kashmiri کشمیری (D) Saraiki سرانیکی
- (17) Otaq in Sindhi culture is called:-
(A) Guest room مہمان خانے (B) Cattle room مویشی خانہ (C) Post office ڈاکخانہ (D) School اسکول
- (18) The tomb of Hazrat Bahaudin Zakria(R.A) is in:-
(A) Karachi کراچی میں (B) Lahore لاہور میں (C) Pakpattan پاکپتن میں (D) Multan ملتان میں
- (19) Politically independent societies are called:-
(A) Group گروہ (B) Society معاشرہ (C) Nation قوم (D) Ethnocentrism عصبیت
- (20) Central departments should be strong:-
(A) To control crime جرائم کے خاتمے کے لیے (B) Economic development معاشی ترقی کے لیے (C) National solidarity قومی یک جہتی کے لیے (D) To provide education تعلیم کی فراہمی کے لیے

Paper Code

2018 (S)

رول نمبر

Number: 4457

انٹرمیڈیٹ امتحان پارٹ - II (کلاس بارہویں)

SOCIOLOGY PAPER-II

عمرانیات پرچہ - دوسرا

TIME ALLOWED: 30 Minutes

OBJECTIVE حصہ معروضی

وقت = 30 منٹ

MAXIMUM MARKS: 20

کل نمبر = 20

نوٹ۔ ہر سوال کے چار ممکنہ جوابات A, B, C اور D دیئے گئے ہیں۔ جوابی کاپی پر ہر سوال کے سامنے دیئے گئے دائروں میں سے درست جواب کے مطابق متعلقہ دائرہ کو مار کر یا پین سے بھر دیجئے۔ ایک سے زیادہ دائروں کو بھر کرنے یا کاٹ کر پُر کرنے کی صورت میں مذکورہ جواب غلط تصور ہوگا۔ دائروں کو بھر نہ کرنے کی صورت میں کوئی نمبر نہیں دیا جائے گا۔ اس سوالیہ پرچہ پر

Note: you have four choices for each objective type question as A, B, C and D. The choice which you think is correct, fill that bubble in front of that question number. On bubble sheet, use marker or pen to fill the bubbles. Cutting or filling two or more bubbles will result in zero mark in that question. Attempt as many questions as given in objective type question paper and leave others blank. No credit will be awarded in case BUBBLES are not filled. Do not solve questions on this sheet of OBJECTIVE PAPER.

Q.No.1

سوال نمبر 1-

- (1) Shah Murid and "Summon da qissa" is related to:-
 (A) Puktoon پنجتون (B) Balochi بلوچی (C) Kashmiri کشمیری (D) Saraiki سرائیکی (1) شاہ مرید اور سمون دا قصہ _____ کی لوک کہانیاں ہیں۔
- (2) Otaq in Sindhi culture is called:-
 (A) Guest room مہمان خانے (B) Cattle room مویشی خانہ (C) Post office ڈاکخانہ (D) School سکول (2) سندھی ثقافت میں اوطاق کہتے ہیں۔
- (3) The tomb of Hazrat Bahaudin Zakria(R.A) is in:-
 (A) Karachi کراچی میں (B) Lahore لاہور میں (C) Pakpattan پاکپتن میں (D) Multan ملتان میں (3) مشہور بزرگ حضرت بہاؤ الدین زکریاؒ کا مزار واقع ہے۔
- (4) Politically independent societies are called:-
 (A) Group گروہ (B) Society معاشرہ (C) Nation قوم (D) Ethnocentrism عصبیت (4) سیاسی طور پر خود مختار معاشرے کہلاتے ہیں۔
- (5) Central departments should be strong:-
 (A) To control crime جرائم کے خاتمے کے لیے (B) Economic development معاشی ترقی کے لیے (C) National solidarity قومی یک جہتی کے لیے (D) To provide education تعلیم کی فراہمی کے لیے (5) مرکزی اداروں کا مضبوط ہونا ضروری ہے۔
- (6) Hazrat Sultan Bahoo(RA) is related to:-
 (A) Punjab پنجاب سے (B) Sindh سندھ سے (C) Khyber Pakhtunkhwa خیبر پختونخواہ سے (D) Balochistan بلوچستان (6) حضرت سلطان باہوؒ کا تعلق ہے۔
- (7) The settlement of population at any place is:-
 (A) Urban area بلدیاتی علاقہ (B) Rural area دیہی علاقہ (C) Settlement آباد کاری (D) Culture ثقافت (7) آبادی کا کسی مقام پر رہائش اختیار کرنا، کہلاتا ہے۔
- (8) The most important personality of the village:-
 (A) Barber تائی (B) Blacksmith لوہار (C) School teacher سکول ٹیچر (D) Patwari پٹواری (8) دیہی معاشرے کی سب سے اہم شخصیت:-
- (9) The separate residence of husband, wife and children is called:-
 (A) Patriarchal پدرسری (B) Joint family مشترکہ خاندان (C) Matriarchal مادرسری (D) Nuclear family سادہ خاندان (9) میاں، بیوی اور بچوں کا علیحدہ قیام کہلاتا ہے۔
- (10) Baradri discourages:-
 (A) Orthodox behaviour قدامت پسندی (B) Democratic attitude جمہوری طرز عمل (C) Economy معیشت (D) Economy معیشت (10) برادری حوصلہ شکنی کرتی ہے۔
- (11) According to population the ranking of Pakistan is _____ in world.
 (A) Third تیسرا (B) Fourth چوتھا (C) Fifth پانچواں (D) Sixth چھٹا (11) آبادی کے لحاظ سے پاکستان کا دنیا میں نمبر ہے۔
- (12) Fertility, mortality and migration are elements of:-
 (A) Sociology عمرانیات کے (B) Culture ثقافت کے (C) Country ملک کے (D) Population آبادی کے (12) پیدائش، موت اور ہجرت عناصر ہیں۔
- (13) Quaid-e-Azam spent last days of his life in:-
 (A) Ziarat زیارت (B) Peshawar پشاور (C) Murree مری (D) Quetta کوئٹہ (13) قائد اعظمؒ نے اپنی زندگی کے آخری ایام _____ میں گزارے۔
- (14) To control the population as per policy is called:-
 (A) Development ملکی ترقی (B) Population planning منصوبہ بندی آبادی (C) Overpopulation افراط آبادی (D) Culture ثقافت (14) شرح پیدائش کو منسوبے کے تحت کنٹرول کرنا کہلاتا ہے۔
- (15) To achieve a better life is possible by:-
 (A) Illiteracy ناخواندگی سے (B) Crime جرائم سے (C) Social problems معاشرتی مسائل سے (D) Literacy خواندگی سے (15) بہتر معیار زندگی کا حصول ممکن ہے۔
- (16) People belonging to Caucasoid Race(White race) are settled in:-
 (A) Asia ایشیا میں (B) Latin Amrica لاطینی امریکا میں (C) Africa افریقہ میں (D) Europe یورپ میں (16) سفید فام نسل سے تعلق رکھنے والے آباد ہیں۔
- (17) To train elephant is related to:-
 (A) Aryans آریہ (B) Dravidians دراوڑ (C) Austricks آسٹریکس (D) Arabs عرب (17) ہاتھیوں کو سدھانا کارنامہ ہے۔
- (18) The Indus Valley civilization was ruined by:-
 (A) Aryans آریہ (B) Dravidians دراوڑ (C) Iranians ایرانی (D) Austricks آسٹریکس (18) وادی سندھ کی تہذیب کو تباہ کرنے والے ہیں۔
- (19) The holy book of Aryans is:-
 (A) Sam Veda سام ویدا (B) Bogar Veda بوگر ویدا (C) Ather Veda اتر ویدا (D) Rag-e-Veda رگ ویدا (19) آریہ کی مقدس کتاب کا نام ہے۔
- (20) An important element of Pakistan Ideology is:-
 (A) Economy معیشت (B) Trade تجارت (C) Religion مذہب (D) Politics سیاست (20) پاکستان کی نظریاتی اساس کا اہم عنصر ہے۔

INTERMEDIATE PART-II (12th CLASS)**ENGLISH (COMPULSORY) PAPER-II
GROUP-II**

TIME ALLOWED: 2.30 Hours

MAXIMUM MARKS: 80

SUBJECTIVE**SECTION-I**

2. Write short answers(3-5 lines) of any SIX questions in words of your own.
(Book-II Modern Prose and Heroes Part-I).

12

- How did earth come into being?
- What place would you accord to sports and literary activities in colleges? (Why Boys fail in College)
- How has science enabled us to get over the old fears?
- Why did the writer call Friday morning as rose-coloured? (End of Term)
- What sort of books were presented to British soldiers?
- What was the prescription given by the doctor? (The Man who was a Hospital)
- Describe the social security benefits enjoyed by Chinese workers.
- How did Abdul Rehman escape from the Bedouin camp?
- Discuss the poor economic conditions in the under developed countries.

3. Write short answers(3-5 lines) of any SIX questions in words of your own.
(Book-II Modern Prose and Heroes Part-II).

12

- How did the knowledge of English stand Churchill in good stead after years?
- What had Christopher's foster-mother to do with his desire to see the distant places?
- How did Christopher learn camel riding?
- What was the chief defect of antiseptic method? (Sir Alexander Fleming)
- What is Lysozyme and how Fleming discovered it?
- Why did Pasteur forget his wedding ceremony?
- What was the attitude of the Turkish government towards the Allies after the World War I?
- What did Mustafa Kamal do to prepare the people for patriotic revolt?

4. Write short answers(3-5 lines) of any Eight questions in words of your own.
(Novel – Good-Bye Mr. Chips)

16

- How did time seem to pass for Chips when he was getting on in years?
- How did Chips realize the inadequacy of his qualifications?
- Why was life very pleasant for Chips at Mrs. Wickett's house?
- Why did Mr. Chips hasten to help Katherine? (v) What was Chip's joke about Lex Canuleia?
- Why did Chips fail to write a book about his memories?
- Why was Chips not ready to receive condolences? (viii) Why did Ralston not like Chips?
- When and why did Ralston leave the school?
- Why did Chatteris request Chips to rejoin the school?
- How did Chips encourage his students during the air raids? (xii) What did Chips say about Gregson?

SECTION-II

5. Write an essay (300-400 words) on any ONE of the following topics: -

15

- (i) An Ideal Student (ii) Cell Phone (iii) Pollution (iv) Corruption

6. Use any FIVE of the following idioms/phrasal verbs in sentences of your own: -

10

- (i) Turn up (ii) Drop in (iii) At a loss (iv) To cut to the quick
(v) To get rid of (vi) To rest on one's laurels (vii) Black sheep (viii) Oily tongue

7. Translate the following passage into English: -

15

مجھے کتابیں پڑھنے کا بڑا شوق ہے۔ اس لئے میں اپنا فارغ وقت زیادہ تر کالج کی لائبریری میں گزارتا ہوں۔ میں کئی گھنٹے بیٹھا کتابوں کا مطالعہ کرتا رہتا ہوں اور دنیا کے عظیم عالموں سے استفادہ کرتا ہوں۔ بعض دفعہ سوچتا ہوں کہ طلباء کی اکثریت لائبریری میں کیوں نہیں آتی؟ یہ جگہ ویران کیوں ہے؟ طلباء تعلیم کو اہمیت کیوں نہیں دیتے؟ اگر طلباء مطالعہ کی عادت اپنالیں تو ہمارا ملک دن دو گنی اور رات چو گنی ترقی کرے گا۔

NOTE: - (Alternative question for Foreign/English Medium candidates only)

Write a paragraph on "Traffic problems".

Paper Code

Number:

4012

2018 (S)

Roll No: _____

INTERMEDIATE PART-II (12th CLASS)

ENGLISH (COMPULSORY) PAPER-II

TIME ALLOWED: 30 Minutes

GROUP-II

OBJECTIVE

MAXIMUM MARKS: 20

Note: You have four choices for each objective type question as A, B, C and D. The choice which you think is correct, fill that bubble in front of that question number. Use marker or pen to fill the bubbles. Cutting or filling two or more bubbles will result in zero mark in that question. Attempt as many questions as given in objective type question paper and leave others blank. No credit will be awarded in case BUBBLES are not filled. Do not solve questions on this sheet of OBJECTIVE PAPER.

Q.No.1

Choose the right option of the following underlined words from your Book-II (Modern Prose and Heroes Part-I) and fill up the bubbles. 3

- (1) Life started in simple organisms.
 (A) Oceans (B) Cells (C) Creatures (D) Balloons
- (2) I began to indolently study the disease.
 (A) Actively (B) Lazily (C) Hurriedly (D) Instantly
- (3) Political control over the masses stopped the exodus from the countryside.
 (A) Migration (B) Reach (C) Setting (D) Inhabiting

Choose the right option of the following underlined words from your Book-II (Modern Prose and Heroes Part-II) and fill up the bubbles. 3

- (4) Their culture plates were never contaminated.
 (A) Disturbed (B) Covered (C) Broken (D) Poisoned
- (5) The nation's rights have been violated.
 (A) Breached (B) Sold (C) Bought (D) Moulded
- (6) The merciful ushers collected the paper of the writer.
 (A) Students (B) People (C) Assistants (D) Leaders

Choose the right option of the following underlined words from Novel. Good-Bye Mr. Chips and fill up the bubbles. 4

- (7) Wetherby was very fatherly and courteous.
 (A) Polite (B) Lively (C) Arrogant (D) Haughty
- (8) The volte-face was so complete that the authorities were taken unaware.
 (A) Red-face (B) Stern face (C) Great change (D) Dark face
- (9) Chips wore tattered gown.
 (A) Silky (B) New (C) Torn (D) Precious
- (10) Maynard was a dauntless boy.
 (A) Coward (B) Idle (C) Strenuous (D) Brave

Choose the right option for blanks and fill up the bubbles. 5

- (11) He is absorbed _____ his studies. (A) on (B) from (C) in (D) of
- (12) He was charged _____ murder. (A) over (B) in (C) of (D) with
- (13) You are no match _____ him. (A) for (B) on (C) with (D) in
- (14) He is ill _____ fever. (A) to (B) at (C) with (D) from
- (15) I am sick _____ interviews. (A) from (B) at (C) in (D) of

Choose the correct sentence and fill up the bubbles. 5

- (16) One should do his duty.
 (A) One should do one duty. (B) One should do their duty.
 (C) One should do one's duty. (D) One's should do one's duty.
- (17) He oftenly comes late.
 (A) He often comes late. (B) He oftenly come late.
 (C) He comes oftenly late. (D) He often come late.
- (18) It is I who is to blame.
 (A) It is I who to blame. (B) It is I who am to blame.
 (C) It is I who is to be blame. (D) It am I who is to blame.
- (19) The man is mortal.
 (A) The man is immortal. (B) The man are mortal.
 (C) The men is mortal. (D) Man is mortal.
- (20) He is very weak to walk.
 (A) He is too weak to walk. (B) He is to weak to walk.
 (C) He is very weak too walk. (D) He is very weak quite walk.

Paper Code

2018 (S)

Roll No: _____

Number: 4014

INTERMEDIATE PART-II (12th CLASS)ENGLISH (COMPULSORY) PAPER-II
GROUP-IITIME ALLOWED: 30 Minutes
MAXIMUM MARKS: 20OBJECTIVE

Note: You have four choices for each objective type question as A, B, C and D. The choice which you think is correct, fill that bubble in front of that question number. Use marker or pen to fill the bubbles. Cutting or filling two or more bubbles will result in zero mark in that question. Attempt as many questions as given in objective type question paper and leave others blank. No credit will be awarded in case BUBBLES are not filled. Do not solve questions on this sheet of OBJECTIVE PAPER.

Q.No.1

Choose the right option of the following underlined words from your Book-II (Modern Prose and Heroes Part-I) and fill up the bubbles. 3

- (1) Political control over the masses stopped the exodus from the countryside.
(A) Migration (B) Reach (C) Setting (D) Inhabiting
- (2) Life started in simple organisms.
(A) Oceans (B) Cells (C) Creatures (D) Balloons
- (3) I began to indolently study the disease.
(A) Actively (B) Lazily (C) Hurriedly (D) Instantly

Choose the right option of the following underlined words from your Book-II (Modern Prose and Heroes Part-II) and fill up the bubbles. 3

- (4) The merciful ushers collected the paper of the writer.
(A) Students (B) People (C) Assistants (D) Leaders
- (5) Their culture plates were never contaminated.
(A) Disturbed (B) Covered (C) Broken (D) Poisoned
- (6) The nation's rights have been violated.
(A) Breached (B) Sold (C) Bought (D) Moulded

Choose the right option of the following underlined words from Novel. Good-Bye Mr. Chips and fill up the bubbles. 4

- (7) The volte-face was so complete that the authorities were taken unaware.
(A) Red-face (B) Stern face (C) Great change (D) Dark face
- (8) Chips wore tattered gown.
(A) Silky (B) New (C) Torn (D) Precious
- (9) Maynard was a dauntless boy.
(A) Coward (B) Idle (C) Strenuous (D) Brave
- (10) Wetherby was very fatherly and courteous.
(A) Polite (B) Lively (C) Arrogant (D) Haughty

Choose the right option for blanks and fill up the bubbles. 5

- (11) He was charged _____ murder. (A) over (B) in (C) of (D) with
- (12) You are no match _____ him. (A) for (B) on (C) with (D) in
- (13) He is ill _____ fever. (A) to (B) at (C) with (D) from
- (14) I am sick _____ interviews. (A) from (B) at (C) in (D) of
- (15) He is absorbed _____ his studies. (A) on (B) from (C) in (D) of

Choose the correct sentence and fill up the bubbles. 5

- (16) It is I who is to blame.
(A) It is I who to blame. (B) It is I who am to blame.
(C) It is I who is to be blame. (D) It am I who is to blame.
- (17) The man is mortal.
(A) The man is immortal. (B) The man are mortal.
(C) The men is mortal. (D) Man is mortal.
- (18) He is very weak to walk.
(A) He is too weak to walk. (B) He is to weak to walk.
(C) He is very weak too walk. (D) He is very weak quite walk.
- (19) One should do his duty.
(A) One should do one duty. (B) One should do their duty.
(C) One should do one's duty. (D) One's should do one's duty.
- (20) He oftenly comes late.
(A) He often comes late. (B) He oftenly come late.
(C) He comes oftenly late. (D) He often come late.

Paper Code

2018 (S)

Roll No: _____

Number: 4016

INTERMEDIATE PART-II (12th CLASS)ENGLISH (COMPULSORY) PAPER-II
GROUP-II

TIME ALLOWED: 30 Minutes

OBJECTIVE

MAXIMUM MARKS: 20

Note: You have four choices for each objective type question as A, B, C and D. The choice which you think is correct, fill that bubble in front of that question number. Use marker or pen to fill the bubbles. Cutting or filling two or more bubbles will result in zero mark in that question. Attempt as many questions as given in objective type question paper and leave others blank. No credit will be awarded in case BUBBLES are not filled. Do not solve questions on this sheet of OBJECTIVE PAPER.

Q.No.1

Choose the right option of the following underlined words from your Book-II (Modern Prose and Heroes Part-I) and fill up the bubbles. 3

- (1) I began to indolently study the disease.
(A) Actively (B) Lazily (C) Hurriedly (D) Instantly
- (2) Political control over the masses stopped the exodus from the countryside.
(A) Migration (B) Reach (C) Setting (D) Inhabiting
- (3) Life started in simple organisms.
(A) Oceans (B) Cells (C) Creatures (D) Balloons

Choose the right option of the following underlined words from your Book-II (Modern Prose and Heroes Part-II) and fill up the bubbles. 3

- (4) The nation's rights have been violated.
(A) Breached (B) Sold (C) Bought (D) Moulded
- (5) The merciful ushers collected the paper of the writer.
(A) Students (B) People (C) Assistants (D) Leaders
- (6) Their culture plates were never contaminated.
(A) Disturbed (B) Covered (C) Broken (D) Poisoned

Choose the right option of the following underlined words from Novel. Good-Bye Mr. Chips and fill up the bubbles. 4

- (7) Chips wore tattered gown.
(A) Silky (B) New (C) Torn (D) Precious
- (8) Maynard was a dauntless boy.
(A) Coward (B) Idle (C) Strenuous (D) Brave
- (9) Wetherby was very fatherly and courteous.
(A) Polite (B) Lively (C) Arrogant (D) Haughty
- (10) The volte-face was so complete that the authorities were taken unaware.
(A) Red-face (B) Stern face (C) Great change (D) Dark face

Choose the right option for blanks and fill up the bubbles. 5

- (11) He is ill _____ fever. (A) to (B) at (C) with (D) from
- (12) I am sick _____ interviews. (A) from (B) at (C) in (D) of
- (13) He is absorbed _____ his studies. (A) on (B) from (C) in (D) of
- (14) He was charged _____ murder. (A) over (B) in (C) of (D) with
- (15) You are no match _____ him. (A) for (B) on (C) with (D) in

Choose the correct sentence and fill up the bubbles. 5

- (16) The man is mortal.
(A) The man is immortal. (B) The man are mortal.
(C) The men is mortal. (D) Man is mortal.
- (17) He is very weak to walk.
(A) He is too weak to walk. (B) He is to weak to walk.
(C) He is very weak too walk. (D) He is very weak quite walk.
- (18) One should do his duty.
(A) One should do one duty. (B) One should do their duty.
(C) One should do one's duty. (D) One's should do one's duty.
- (19) He oftenly comes late.
(A) He often comes late. (B) He oftenly come late.
(C) He comes oftenly late. (D) He often come late.
- (20) It is I who is to blame.
(A) It is I who to blame. (B) It is I who am to blame.
(C) It is I who is to be blame. (D) It am I who is to blame.

Paper Code

Number: 4018

2018 (S)

Roll No: _____

INTERMEDIATE PART-II (12th CLASS)

ENGLISH (COMPULSORY) PAPER-II

TIME ALLOWED: 30 Minutes

GROUP-II

OBJECTIVE

MAXIMUM MARKS: 20

Note: You have four choices for each objective type question as A, B, C and D. The choice which you think is correct, fill that bubble in front of that question number. Use marker or pen to fill the bubbles. Cutting or filling two or more bubbles will result in zero mark in that question. Attempt as many questions as given in objective type question paper and leave others blank. No credit will be awarded in case BUBBLES are not filled. Do not solve questions on this sheet of OBJECTIVE PAPER.

Q.No.1

Choose the right option of the following underlined words from your Book-II (Modern Prose and Heroes Part-I) and fill up the bubbles. 3

- (1) Life started in simple organisms.
 (A) Oceans (B) Cells (C) Creatures (D) Balloons
- (2) I began to indolently study the disease.
 (A) Actively (B) Lazily (C) Hurriedly (D) Instantly
- (3) Political control over the masses stopped the exodus from the countryside.
 (A) Migration (B) Reach (C) Setting (D) Inhabiting

Choose the right option of the following underlined words from your Book-II (Modern Prose and Heroes Part-II) and fill up the bubbles. 3

- (4) Their culture plates were never contaminated.
 (A) Disturbed (B) Covered (C) Broken (D) Poisoned
- (5) The nation's rights have been violated.
 (A) Breached (B) Sold (C) Bought (D) Moulded
- (6) The merciful ushers collected the paper of the writer.
 (A) Students (B) People (C) Assistants (D) Leaders

Choose the right option of the following underlined words from Novel. Good-Bye Mr. Chips and fill up the bubbles. 4

- (7) Maynard was a dauntless boy.
 (A) Coward (B) Idle (C) Strenuous (D) Brave
- (8) Wetherby was very fatherly and courteous.
 (A) Polite (B) Lively (C) Arrogant (D) Haughty
- (9) The volte-face was so complete that the authorities were taken unaware.
 (A) Red-face (B) Stern face (C) Great change (D) Dark face
- (10) Chips wore tattered gown.
 (A) Silky (B) New (C) Torn (D) Precious

Choose the right option for blanks and fill up the bubbles. 5

- (11) I am sick _____ interviews. (A) from (B) at (C) in (D) of
- (12) He is absorbed _____ his studies. (A) on (B) from (C) in (D) of
- (13) He was charged _____ murder. (A) over (B) in (C) of (D) with
- (14) You are no match _____ him. (A) for (B) on (C) with (D) in
- (15) He is ill _____ fever. (A) to (B) at (C) with (D) from

Choose the correct sentence and fill up the bubbles. 5

- (16) He is very weak to walk.
 (A) He is too weak to walk. (B) He is to weak to walk.
 (C) He is very weak too walk. (D) He is very weak quite walk.
- (17) One should do his duty.
 (A) One should do one duty. (B) One should do their duty.
 (C) One should do one's duty. (D) One's should do one's duty.
- (18) He oftenly comes late.
 (A) He often comes late. (B) He oftenly come late.
 (C) He comes oftenly late. (D) He often come late.
- (19) It is I who is to blame.
 (A) It is I who to blame. (B) It is I who am to blame.
 (C) It is I who is to be blame. (D) It am I who is to blame.
- (20) The man is mortal.
 (A) The man is immortal. (B) The man are mortal.
 (C) The men is mortal. (D) Man is mortal.

BOARD OF INTERMEDIATE AND SECONDARY EDUCATION, MULTAN
OBJECTIVE KEY FOR INTERMEDIATE ANNUAL/SUPPLY EXAMINATION, 2018

Name of Subject: English II

Session: _____

Group: 1stGroup: 2nd

Q. Nos	Paper Code	Paper Code	Paper Code	Paper Code
	4011	4013	4015	4017
1	B	A	B	B
2	A	B	B	A
3	B	B	A	B
4	D	A	D	D
5	A	D	D	A
6	D	D	A	D
7	A	D	D	A
8	D	D	A	A
9	D	A	A	D
10	A	A	D	D
11	A	D	C	B
12	D	C	B	A
13	C	B	A	A
14	B	A	A	D
15	A	A	D	C
16	A	B	A	B
17	B	A	B	A
18	A	B	A	A
19	B	A	A	B
20	A	A	B	A

Q. Nos	Paper Code	Paper Code	Paper Code	Paper Code
	4012	4014	4016	4018
1	C	A	B	C
2	B	C	A	B
3	A	B	C	A
4	D	C	A	D
5	A	D	C	A
6	C	A	D	C
7	A	C	C	D
8	C	C	D	A
9	C	D	A	C
10	D	A	C	C
11	C	D	C	D
12	D	A	D	C
13	A	C	C	D
14	C	D	D	A
15	D	C	A	C
16	C	B	D	A
17	A	D	A	C
18	B	A	C	A
19	D	C	A	B
20	A	A	B	D

سرٹیفکیٹ بابت صحیح سوالیہ پرچہ مارکنگ Key

ہم نے مضمون English پرچہ II گروپ 1st & 2nd سیم انٹرمیڈیٹ امتحان 2018 کا سوالیہ پرچہ اثنائے و معروضی (Subjective & Objective) کو بنظر عمیق چیک کر لیا ہے یہ پرچہ Syllabus کے عین مطابق Set کیا گیا ہے۔ اس سوالیہ پرچہ میں کسی قسم کی کوئی غلطی نہ ہے۔ ہم نے سوالیہ پرچہ کا اردو اور انگریزی Version بھی چیک کر لیا ہے۔ یہ Version آپس میں مطابقت رکھتے ہیں۔ نیز اس پرچہ کی معروضی (MCQs) Key کی بابت تصدیق کی جاتی ہے کہ اس میں بھی کسی قسم کی کوئی غلطی نہ ہے۔ مزید یہ کہ ہم نے Key بنانے سے تعلق دفتر کی جانب سے تیار کردہ ہدایات وصول کر کے ان کا بغور مطالعہ کر لیا ہے اور ان کی روشنی میں Key بنائی ہے۔ نیز سب ایگزامینرز کیلئے تفصیلی مارکنگ ہدایات / مارکنگ سکیم / Rubrics بھی تیار کر دی گئی ہیں۔

Prepared & Checked By:

Dated: 25-10-2018

S.#	Name	Designation	Institution	Mobile No	Signature
1	Zesham Muhammad	Assistant Professor	Govt. College of Science Multan	03216335141	
2	Muhammad Abdullah	Professor	Govt. Emerson College Multan	0322-611861	
3	Amjad Hussain Ghausi	A.P. Assistant Prof	Govt. Millat college multan	03007386963	

ہم نے درج بالا سوالیہ پرچہ (اثنائے و معروضی) معروضی "Key" اور ہدایات کے حوالے سے عمل طور پر چکی کر لی ہے۔ کسی قسم کی کوئی غلطی نہ ہے۔

1	EJA2 AHMAD SHAIKH	Asso-Prof	G. Emerson College Multan	0300-863-1902	
2	Fahid Hussain	Asso. Prof	science college Multan	03326096114	
3	Ashia Muhammad	Asso. Prof.	Govt. Millat college	03007332505	
4	Muhammad Hussain	Asso. Prof.	Govt. Emerson college	0300-8742	

INTERMEDIATE PART-II (12th CLASS)**ENGLISH (COMPULSORY) PAPER-II
GROUP-I**TIME ALLOWED: 2.30 Hours
MAXIMUM MARKS: 80**SUBJECTIVE****SECTION-I****2. Write short answers(3-5 lines) of any SIX questions in words of your own.
(Book-II Modern Prose and Heroes Part-I).**

12

- (i) Write a note on the beginning of life on earth. (The Dying Sun)
(ii) What change has occurred in our eating habit? (Using the Scientific Method)
(iii) What are the causes of the failure of the boys in colleges?
(iv) What did Daiches do with his pocket money? (End of Term)
(v) What were the fears of the writer while he was thinking about the splash? (On Destroying Books)
(vi) Why should the writer be an acquisition to the medical class? (The Man who was a Hospital)
(vii) Write a note on the Chinese Women?
(viii) How was the court of Abd-al-Rehman? (The Jewel of the World)
(ix) Why is birth-rate not so high in more advanced countries?

**3. Write short answers(3-5 lines) of any SIX questions in words of your own.
(Book-II Modern Prose and Heroes Part-II).**

12

- (i) What were Churchill's views about the learning of Latin, Greek and English?
(ii) Why did Christopher go to visit Sahara desert?
(iii) How did Christopher manage to get water at In-Abbangarit?
(iv) How did Fleming discover Penicillin?
(v) How is Penicillin better than other chemical anti-septics?
(vi) Describe the early life of Pasteur.
(vii) What did Mustafa Kamal do to remove illiteracy from Turkey?
(viii) Why did Mehmet order Mustafa Kamal to return to Constantinople?

**4. Write short answers(3-5 lines) of any Eight questions in words of your own.
(Novel – Good-Bye Mr. Chips)**

16

- (i) What type of head was Mr. Wetherby?
(ii) What ambitions did Chips have in his early twenties?
(iii) Who was young Branksome?
(iv) How did Katherine Bridges look after Chips during his injury?
(v) What was the law Lex Canuleia?
(vi) Who was Ogilvie?
(vii) Describe the tragic death of Katherine?
(viii) What role did Brookfield boys play during the railway strike?
(ix) What comments did Chips give about the captain of the school in his farewell speech?
(x) What did Chips feel when Chatteris read out the names of Brookfield boys who died in war?
(xi) Who was Merivale? (xii) Describe Chips' memories about the post war decade?

SECTION-II**5. Write an essay (300-400 words) on any ONE of the following topics: -**

15

- (i) My aim in life (ii) Benefits of Science (iii) A visit to an historical place (iv) Patriotism

6. Use any FIVE of the following idioms/phrasal verbs in sentences of your own: -

10

- (i) Give and take (ii) A far cry (iii) Bad blood (iv) Go through
-
- (v) Spick and span (vi) Tide over (vii) Fall out (viii) Call a spade and spade

7. Translate the following passage into English: -

15

موہاں فون موجودہ دور کی ایجاد ہے۔ اس کے بے شمار فائدے ہیں۔ یہ رابطے کا سب سے موثر اور سستا ذریعہ ہے۔ لیکن اس کے نقصانات بھی ہیں۔ ہمیں اس کی حوصلہ شکنی کرنی چاہیے۔
ہمیں اس کے غلط استعمال کو ترک کرنا چاہیے۔ موہاں فون پر دوسروں کو تنگ کرنا بہت ناپسندیدہ بات ہے۔ جو لوگ دوسروں کو تنگ کرتے ہیں وہ خود بھی خوش نہیں رہ سکتے۔

NOTE: - (Alternative question for Foreign/English Medium candidates only)

Write a paragraph on "Begging".

Paper Code

2018 (S)

Roll No: _____

Number: 4011

INTERMEDIATE PART-II (12th CLASS)ENGLISH (COMPULSORY) PAPER-II
GROUP-I

OBJECTIVE

TIME ALLOWED: 30 Minutes

MAXIMUM MARKS: 20

Note: You have four choices for each objective type question as A, B, C and D. The choice which you think is correct, fill that bubble in front of that question number. Use marker or pen to fill the bubbles. Cutting or filling two or more bubbles will result in zero mark in that question. Attempt as many questions as given in objective type question paper and leave others blank. No credit will be awarded in case BUBBLES are not filled. Do not solve questions on this sheet of OBJECTIVE PAPER.

Q.No.1

Choose the right option of the following underlined words from your Book-II (Modern Prose and Heroes Part-I) and fill up the bubbles. 3

- (1) Three strenuous school terms had rolled away.
(A) Easy (B) Hard (C) Interesting (D) Strange
- (2) The sufferer of yaws becomes depressed and feels ill.
(A) Patient (B) Player (C) Weak (D) A common man
- (3) Corn is scarce and food is lacking.
(A) Abundant (B) Rare (C) Enough (D) Full

Choose the right option of the following underlined words from your Book-II (Modern Prose and Heroes Part-II) and fill up the bubbles. 3

- (4) The Tuareges led primitive life.
(A) Modern (B) Difficult (C) Happy (D) Old
- (5) Pasteur was born in quite humble circumstances.
(A) Ordinary (B) Strange (C) Difficult (D) Unbearable
- (6) They issued orders that the ship of Mustafa Kamal should be intercepted.
(A) Let free (B) Destroyed (C) Directed (D) Stopped

Choose the right option of the following underlined words from Novel. Good-Bye Mr. Chips and fill up the bubbles. 4

- (7) It was cold and foggy evening.
(A) Misty (B) Sad (C) Beautiful (D) Bright
- (8) Actual work was not taxing.
(A) Useful (B) Amusing (C) Easy (D) Exhausting
- (9) Some of the boys were nervous.
(A) Invited (B) Injured (C) Silent (D) Worried
- (10) It is not half such an awful place.
(A) Dreadful (B) Safe (C) Easy (D) New

Choose the right option for blanks and fill up the bubbles. 5

- (11) He is like a brother _____ me. (A) to (B) for (C) of (D) with
- (12) The officer did not approve _____ his plans. (A) to (B) at (C) after (D) of
- (13) What is wrong _____ you? (A) about (B) on (C) with (D) at
- (14) You are _____ the wrong. (A) at (B) in (C) on (D) to
- (15) He is surrounded _____ the faithful supporters. (A) with (B) against (C) among (D) between

Choose the correct sentence and fill up the bubbles. 5

- (16) He went to the fair and enjoyed.
(A) He went to the fair and enjoyed himself. (B) He went to the fair and enjoy.
(C) He went to the fair and enjoys. (D) He went to the fair and had enjoyed.
- (17) If he would have come, I would have helped him.
(A) If he would come, I would help him. (B) If he had come, I would have helped him.
(C) If he had come, I would had helped him. (D) If he would have come, I would have help him.
- (18) She agreed with my proposal.
(A) She agreed to my proposal. (B) She agreed on my proposal.
(C) She agreed at my proposal. (D) She agreed of my proposal.
- (19) He is braver than any man.
(A) He is brave than any man. (B) He is braver than any other man.
(C) He is braver than that any man. (D) He is braver from any other man.
- (20) Only one of the boys were fined.
(A) Only one of the boys was fined. (B) Only one of the boy was fined.
(C) Only one of the boy were fined. (D) Only one of the boy fined.

Paper Code

2018 (S)

Roll No: _____

Number:

4013

INTERMEDIATE PART-II (12th CLASS)

ENGLISH (COMPULSORY) PAPER-II

TIME ALLOWED: 30 Minutes

GROUP-I

OBJECTIVE

MAXIMUM MARKS: 20

Note: You have four choices for each objective type question as A, B, C and D. The choice which you think is correct, fill that bubble in front of that question number. Use marker or pen to fill the bubbles. Cutting or filling two or more bubbles will result in zero mark in that question. Attempt as many questions as given in objective type question paper and leave others blank. No credit will be awarded in case BUBBLES are not filled. Do not solve questions on this sheet of OBJECTIVE PAPER.

Q.No.1

Choose the right option of the following underlined words from your Book-II (Modern Prose and Heroes Part-I) and fill up the bubbles. 3

- (1) The sufferer of yaws becomes depressed and feels ill.
(A) Patient (B) Player (C) Weak (D) A common man
- (2) Corn is scarce and food is lacking.
(A) Abundant (B) Rare (C) Enough (D) Full
- (3) Three strenuous school terms had rolled away.
(A) Easy (B) Hard (C) Interesting (D) Strange

Choose the right option of the following underlined words from your Book-II (Modern Prose and Heroes Part-II) and fill up the bubbles. 3

- (4) Pasteur was born in quite humble circumstances.
(A) Ordinary (B) Strange (C) Difficult (D) Unbearable
- (5) They issued orders that the ship of Mustafa Kamal should be intercepted.
(A) Let free (B) Destroyed (C) Directed (D) Stopped
- (6) The Tuareges led primitive life.
(A) Modern (B) Difficult (C) Happy (D) Old

Choose the right option of the following underlined words from Novel. Good-Bye Mr. Chips and fill up the bubbles. 4

- (7) Actual work was not taxing.
(A) Useful (B) Amusing (C) Easy (D) Exhausting
- (8) Some of the boys were nervous.
(A) Invited (B) Injured (C) Silent (D) Worried
- (9) It is not half such an awful place.
(A) Dreadful (B) Safe (C) Easy (D) New
- (10) It was cold and foggy evening.
(A) Misty (B) Sad (C) Beautiful (D) Bright

Choose the right option for blanks and fill up the bubbles. 5

- (11) The officer did not approve ____ his plans. (A) to (B) at (C) after (D) of
- (12) What is wrong ____ you? (A) about (B) on (C) with (D) at
- (13) You are ____ the wrong. (A) at (B) in (C) on (D) to
- (14) He is surrounded ____ the faithful supporters. (A) with (B) against (C) among (D) between
- (15) He is like a brother ____ me. (A) to (B) for (C) of (D) with

Choose the correct sentence and fill up the bubbles. 5

- (16) If he would have come, I would have helped him.
(A) If he would come, I would help him. (B) If he had come, I would have helped him.
(C) If he had come, I would had helped him. (D) If he would have come, I would have help him.
- (17) She agreed with my proposal.
(A) She agreed to my proposal. (B) She agreed on my proposal.
(C) She agreed at my proposal. (D) She agreed of my proposal.
- (18) He is braver than any man.
(A) He is brave than any man. (B) He is braver than any other man.
(C) He is braver than that any man. (D) He is braver from any other man.
- (19) Only one of the boys were fined.
(A) Only one of the boys was fined. (B) Only one of the boy was fined.
(C) Only one of the boy were fined. (D) Only one of the boy fined.
- (20) He went to the fair and enjoyed.
(A) He went to the fair and enjoyed himself. (B) He went to the fair and enjoy.
(C) He went to the fair and enjoys. (D) He went to the fair and had enjoyed.

Paper Code

Number: 4015

2018 (S)

Roll No: _____

INTERMEDIATE PART-II (12th CLASS)

ENGLISH (COMPULSORY) PAPER-II

TIME ALLOWED: 30 Minutes

GROUP-I

OBJECTIVE

MAXIMUM MARKS: 20

Note: You have four choices for each objective type question as A, B, C and D. The choice which you think is correct, fill that bubble in front of that question number. Use marker or pen to fill the bubbles. Cutting or filling two or more bubbles will result in zero mark in that question. Attempt as many questions as given in objective type question paper and leave others blank. No credit will be awarded in case BUBBLES are not filled. Do not solve questions on this sheet of OBJECTIVE PAPER.

Q.No.1

Choose the right option of the following underlined words from your Book-II (Modern Prose and Heroes Part-I) and fill up the bubbles. 3

- (1) Corn is scarce and food is lacking.
 (A) Abundant (B) Rare (C) Enough (D) Full
- (2) Three strenuous school terms had rolled away.
 (A) Easy (B) Hard (C) Interesting (D) Strange
- (3) The sufferer of yaws becomes depressed and feels ill.
 (A) Patient (B) Player (C) Weak (D) A common man

Choose the right option of the following underlined words from your Book-II (Modern Prose and Heroes Part-II) and fill up the bubbles. 3

- (4) They issued orders that the ship of Mustafa Kamal should be intercepted.
 (A) Let free (B) Destroyed (C) Directed (D) Stopped
- (5) The Tuareges led primitive life.
 (A) Modern (B) Difficult (C) Happy (D) Old
- (6) Pasteur was born in quite humble circumstances.
 (A) Ordinary (B) Strange (C) Difficult (D) Unbearable

Choose the right option of the following underlined words from Novel. Good-Bye Mr. Chips and fill up the bubbles. 4

- (7) Some of the boys were nervous.
 (A) Invited (B) Injured (C) Silent (D) Worried
- (8) It is not half such an awful place.
 (A) Dreadful (B) Safe (C) Easy (D) New
- (9) It was cold and foggy evening.
 (A) Misty (B) Sad (C) Beautiful (D) Bright
- (10) Actual work was not taxing.
 (A) Useful (B) Amusing (C) Easy (D) Exhausting

Choose the right option for blanks and fill up the bubbles. 5

- (11) What is wrong _____ you? (A) about (B) on (C) with (D) at
- (12) You are _____ the wrong. (A) at (B) in (C) on (D) to
- (13) He is surrounded _____ the faithful supporters. (A) with (B) against (C) among (D) between
- (14) He is like a brother _____ me. (A) to (B) for (C) of (D) with
- (15) The officer did not approve _____ his plans. (A) to (B) at (C) after (D) of

Choose the correct sentence and fill up the bubbles. 5

- (16) She agreed with my proposal.
 (A) She agreed to my proposal. (B) She agreed on my proposal.
 (C) She agreed at my proposal. (D) She agreed of my proposal.
- (17) He is braver than any man.
 (A) He is brave than any man. (B) He is braver than any other man.
 (C) He is braver than that any man. (D) He is braver from any other man.
- (18) Only one of the boys were fined.
 (A) Only one of the boys was fined. (B) Only one of the boy was fined.
 (C) Only one of the boy were fined. (D) Only one of the boy fined.
- (19) He went to the fair and enjoyed.
 (A) He went to the fair and enjoyed himself. (B) He went to the fair and enjoy.
 (C) He went to the fair and enjoys. (D) He went to the fair and had enjoyed.
- (20) If he would have come, I would have helped him.
 (A) If he would come, I would help him. (B) If he had come, I would have helped him.
 (C) If he had come, I would had helped him. (D) If he would have come, I would have help him.

Paper Code

Number: 4017

2018 (S)

Roll No: _____

INTERMEDIATE PART-II (12th CLASS)

ENGLISH (COMPULSORY) PAPER-II

TIME ALLOWED: 30 Minutes

GROUP-I

OBJECTIVE

MAXIMUM MARKS: 20

Note: You have four choices for each objective type question as A, B, C and D. The choice which you think is correct, fill that bubble in front of that question number. Use marker or pen to fill the bubbles. Cutting or filling two or more bubbles will result in zero mark in that question. Attempt as many questions as given in objective type question paper and leave others blank. No credit will be awarded in case BUBBLES are not filled. Do not solve questions on this sheet of OBJECTIVE PAPER.

Q.No.1

Choose the right option of the following underlined words from your Book-II (Modern Prose and Heroes Part-I) and fill up the bubbles. 3

- (1) Three strenuous school terms had rolled away.
 (A) Easy (B) Hard (C) Interesting (D) Strange
- (2) The sufferer of yaws becomes depressed and feels ill.
 (A) Patient (B) Player (C) Weak (D) A common man
- (3) Corn is scarce and food is lacking.
 (A) Abundant (B) Rare (C) Enough (D) Full

Choose the right option of the following underlined words from your Book-II (Modern Prose and Heroes Part-II) and fill up the bubbles. 3

- (4) The Tuareges led primitive life.
 (A) Modern (B) Difficult (C) Happy (D) Old
- (5) Pasteur was born in quite humble circumstances.
 (A) Ordinary (B) Strange (C) Difficult (D) Unbearable
- (6) They issued orders that the ship of Mustafa Kamal should be intercepted.
 (A) Let free (B) Destroyed (C) Directed (D) Stopped

Choose the right option of the following underlined words from Novel. Good-Bye Mr. Chips and fill up the bubbles. 4

- (7) It is not half such an awful place.
 (A) Dreadful (B) Safe (C) Easy (D) New
- (8) It was cold and foggy evening.
 (A) Misty (B) Sad (C) Beautiful (D) Bright
- (9) Actual work was not taxing.
 (A) Useful (B) Amusing (C) Easy (D) Exhausting
- (10) Some of the boys were nervous.
 (A) Invited (B) Injured (C) Silent (D) Worried

Choose the right option for blanks and fill up the bubbles. 5

- (11) You are _____ the wrong. (A) at (B) in (C) on (D) to
- (12) He is surrounded _____ the faithful supporters. (A) with (B) against (C) among (D) between
- (13) He is like a brother _____ me. (A) to (B) for (C) of (D) with
- (14) The officer did not approve _____ his plans. (A) to (B) at (C) after (D) of
- (15) What is wrong _____ you? (A) about (B) on (C) with (D) at

Choose the correct sentence and fill up the bubbles. 5

- (16) He is braver than any man.
 (A) He is brave than any man. (B) He is braver than any other man.
 (C) He is braver than that any man. (D) He is braver from any other man.
- (17) Only one of the boys were fined.
 (A) Only one of the boys was fined. (B) Only one of the boy was fined.
 (C) Only one of the boy were fined. (D) Only one of the boy fined.
- (18) He went to the fair and enjoyed.
 (A) He went to the fair and enjoyed himself. (B) He went to the fair and enjoy.
 (C) He went to the fair and enjoys. (D) He went to the fair and had enjoyed.
- (19) If he would have come, I would have helped him.
 (A) If he would come, I would help him. (B) If he had come, I would have helped him.
 (C) If he had come, I would had helped him. (D) If he would have come, I would have help him.
- (20) She agreed with my proposal.
 (A) She agreed to my proposal. (B) She agreed on my proposal.
 (C) She agreed at my proposal. (D) She agreed of my proposal.

www.arifrao.com
 BOARD OF INTERMEDIATE AND SECONDARY EDUCATION, MULTAN
 OBJECTIVE KEY FOR INTERMEDIATE ANNUAL/SUPPLY EXAMINATION, 2018

Name of Subject: Library Science Session: _____

Q.Nos	Paper Code	Paper Code	Paper Code	Paper Code
1	A			
2	C			
3	D			
4	A			
5	B			
6	B			
7	B			
8	C			
9	D			
10	D			
11	C			
12	A			
13	C			
14	A			
15	C			
16	A			
17	D			
18				
19				
20				

سرٹیفکیٹ بابت تصحیح سوالیہ پرچہ / مارکنگ Key

ہم نے مضمون لائبریری سائنس پرچہ دوسرا گروپ سکیم نہو انٹر جلاضہ ضمنی امتحان 2018 کا سوالیہ پرچہ انشائیہ و معروضی (Subjective & Objective) کو بنظر مینٹ چیک کر لیا ہے یہ پرچہ Syllabus کے عین مطابق Set کیا گیا ہے۔ اس سوالیہ پرچہ میں کسی قسم کی کوئی غلطی نہ ہے۔ ہم نے سوالیہ پرچہ کا اردو اور انگریزی Version بھی چیک کر لیا ہے۔ یہ Version آپس میں مطابقت رکھتے ہیں۔ نیز اس پرچہ کی معروضی (MCQs) Key کی بابت تصدیق کی جاتی ہے کہ اس میں بھی کسی قسم کی کوئی غلطی نہ ہے۔ مزید یہ کہ ہم نے Key بنانے سے متعلق دفتر کی جانب سے تیار کردہ ہدایات وصول کر کے ان کا بغور مطالعہ کر لیا ہے اور ان کی روشنی میں Key بنائی ہے۔ نیز سب ایگزامینرز کیلئے تفصیلی مارکنگ ہدایات / مارکنگ سکیم / Rubrics بھی تیار کر دی گئی ہیں۔

Prepared & Checked By:

Dated: 26/10/2018

S.#	Name	Designation	Institution	Mobile No	Signature
1	Muhammad Akram	Senior Librarian	Govt. Alimda Hassan Islamic College Multan	0333-8777628	
2	Fauzia Latif	Senior Librarian	Govt College of Home Economics Multan	0322-644537	
3					

(06)

ثانوی و اعلیٰ ثانوی تعلیمی بورڈ، ملتان

مورخہ: 26/10/2018 مضمون: (انٹرنیٹ) معائنہ پرچہ: حصہ 1 گروپ: /

جزل ہدایات برائے مارکنگ Key اور اسکیم اینو اسکیم (مارکنگ اسکیم)

انٹرنیٹ فرسٹ ایکنڈ سالانہ ضمنی امتحان 2018ء

Sr #	Code	Error Indicated	Sr #	Code	Error Indicated
1.	UN	Un-Necessary	8.	Sp	Spelling Error
2.	Ir	Irrelevant	9.	P	Punctuation
3.	IN	Incomplete	10.	Wo	Wrong word error
4.	EX	Extra	11.	Wt	Wrong Tense
5.	Rp	Re-Produced	12.	Wf	Wrong Form
6.	Is	Insufficient	13.	OA	Over Attempt
7.	Gr	Grammar Error			

اہم نوٹ: ہر سوال "Full Award" سے کم نمبر لگانے کی صورت میں وجہ ضرور لکھیں۔

سوال نمبر 1۔ معروضی سوال میں ہر درست جزو کا ایک نمبر دینا ہے
کٹنگ یا دوسرا bubble لہرنے کو غلط تصور کریں

حصہ نشانیہ اول

سوال نمبر 2 تا 4 = مختصر جوابات تحریر کریں۔

درست جواب کی صورت میں پورے (02) نمبر دیں اور جزوی
طور پر درست سونے کی صورت میں (01) ایک نمبر دیا جائے۔

حصہ دوم

سوال نمبر 5 تا 9 میں سے تین سوالات کے جوابات دو کارس۔
جامع، مدلل اور درست جواب کی صورت میں پورے نمبر دیے جاسکتے
ہیں۔ غلط جواب / حواد کی نشان دہی کریں یعنی انڈر لائن یا اس (4)
کریں۔ جتنا جواب درست ہے اس کے مطابق نمبر دیں۔ کم نمبر دینے
کی صورت میں وجہ بھی تحریر کریں۔

نوٹ:- پرچہ سلیبس کے مطابق ہے۔

1- Muhammad Aicram Sr. Librarian
Govt. Alanday Hussainia Islamic College Multan

2- Fauzia Latif Sr. Librarian
Govt. College of Home Economics Multan

INTERMEDIATE PART-II (12th CLASS)

LIBRARY SCIENCE PAPER-II (NEW SCHEME) (نوسکیم) دوسرا - لائبریری سائنس پرچہ

TIME ALLOWED: 2.40 Hours

SUBJECTIVE حصہ انشائیہ

وقت = 2.40 گھنٹے

MAXIMUM MARKS: 68

کل نمبر = 68

نوٹ - جوابی کاپی پر وہی سوال نمبر اور جزو نمبر درج کیجیے جو کہ سوالیہ پرچہ میں درج ہے۔
NOTE: - Write same question number and its part number on answer book, as given in the question paper.

SECTION-I حصہ اول

16 = 2 x 8

2. Attempt any eight parts.

- Define Classification.
- What is meant by U.D.C?
- What does in Sear's List "X" and "XX" stand for?
- Define Book Classification.
- What is the name of founder of D.D.C?
- How many editions of D.D.C have been published?
- Explain Book Catalogue.
- Which notations are used in D.D.C?
- Write three principles of Classification.
- Which religion has been given more importance in Classification by Melvil Dewey?
- What are the classification numbers of History and Science?
- In which classification scheme Arabic numbers have been used?

سوال نمبر 2- کوئی سے آٹھ اجزاء کے جوابات تحریر کیجیے۔

- درجہ بندی کی تعریف کریں۔ (i)
- U.D.C سے کیا مراد ہے؟ (ii)
- سیئر زلسٹ میں "X" اور "XX" سے کیا مطلب لیا جاتا ہے؟ (iii)
- کتابی درجہ بندی کی تعریف کریں۔ (iv)
- ڈی ڈی سی کے بانی کا کیا نام ہے؟ (v)
- ڈی ڈی سی کے کتنے ایڈیشن شائع ہو چکے ہیں؟ (vi)
- کتابی کیٹلاگ کی وضاحت کریں۔ (vii)
- ڈی ڈی سی میں کون سی علامات ہوتی ہیں؟ (viii)
- درجہ بندی کے تین اصول تحریر کیجیے۔ (ix)
- میول ڈیوی نے درجہ بندی سکیم میں کس مذہب کو زیادہ اہمیت دی ہے؟ (x)
- تاریخ اور سائنس کے درجہ بندی نمبر کیا ہیں؟ (xi)
- عربی ہندسے کس درجہ بندی سکیم میں استعمال کئے گئے ہیں؟ (xii)

3. Attempt any eight parts.

16 = 2 x 8

- What is the name of International Code of Catalogue?
- What is meant by Union Catalogue?
- When was AACR2 published?
- Who has formed the cataloguing code of Pakistani namey?
- Under which is the main entry made?
- Which is the key to Library material?
- Which two items make Call Number?
- What is meant by Open Shelf System?
- Define Subject Heading.
- How many areas of Catalogue are there?
- How Catalogue cards are arranged?
- How many cards of a book are generally prepared?

سوال نمبر 3- کوئی سے آٹھ اجزاء کے جوابات تحریر کیجیے۔

- کیٹلاگ کے بین الاقوامی ضابطے کا کیا نام ہے؟ (i)
- یونین کیٹلاگ سے کیا مراد ہے؟ (ii)
- AACR2 کب شائع ہوا؟ (iii)
- پاکستانی ناموں کی کیٹلاگ سازی کے اصول کس نے مرتب کئے ہیں؟ (iv)
- بنیادی اندراج کس کے تحت کیا جاتا ہے؟ (v)
- کتاب خانے کے ذخیرہ کی کنجی کے کتے ہیں؟ (vi)
- طلب نمبر کن دو اجزاء کا مجموعہ ہے؟ (vii)
- اوپن شیلف سسٹم سے کیا مراد ہے؟ (viii)
- موضوعی سرخی کی تعریف کریں۔ (ix)
- کیٹلاگ کے ایریا کی تعداد تحریر کیجیے۔ (x)
- کیٹلاگ کارڈز کو کیسے ترتیب دیا جاتا ہے؟ (xi)
- ایک کتاب کے عام طور پر کتنے کارڈ بنائے جاتے ہیں؟ (xii)

4. Attempt any six parts.

12 = 2 x 6

- Write names of three Reference books.
- What are the Modern Charging System?
- Which things are needed in Brown Charging System?
- Who invented Newark Charging System?
- Write types of Biographical Sources.
- What is entered on Borrower's Card?
- What is meant by Bibliography?
- Define Reference Books.
- What is Handbook?

سوال نمبر 4- کوئی سے چھ اجزاء کے جوابات تحریر کیجیے۔

- تین حوالہ جاتی کتب کے نام لکھیں۔ (i)
- اجرا کے جدید نظام کون سے ہیں؟ (ii)
- براؤن اجرائی نظام میں کن چیزوں کی ضرورت پڑتی ہے؟ (iii)
- نیوآرک اجرائی نظام کس نے ایجاد کیا؟ (iv)
- سوانحی ذرائع کی اقسام تحریر کریں۔ (v)
- مستفید کارڈ پر کیا درج کیا جاتا ہے؟ (vi)
- کتابیات سے کیا مراد ہے؟ (vii)
- حوالہ جاتی کتب کی تعریف کیجیے۔ (viii)
- دستی کتاب کے کتے ہیں؟ (ix)

SECTION-II حصہ دوم

24 = 8 x 3

NOTE: - Attempt any three questions.

نوٹ - کوئی سے تین سوالات کے جوابات تحریر کیجیے۔

- How many kinds of Classification are there? Explain in detail. (i) درجہ بندی کی کتنی اقسام ہیں؟ تفصیلاً بیان کیجیے۔ -5
- Define Notations. Write its kinds and discuss the qualities of good Notations, in detail. (ii) علامتوں سے کیا مراد ہے؟ نیز علامتوں کی اقسام اور اچھی علامتوں کی خوبیاں تفصیلاً تحریر کیجیے۔ -6
- Write down the kinds of physical catalogue in detail. Discuss advantages and disadvantages of Online Catalogue in detail. (iii) اشکال کے اعتبار سے کیٹلاگ کی اقسام تفصیلاً تحریر کیجیے۔ نیز آن لائن کیٹلاگ کی خوبیاں اور خامیاں تفصیلاً لکھیے۔ -7
- What is the process of Newark Charging System? Write its merits and demerits. (iv) نیوآرک نظام اجرا کا طریقہ کار کیا ہے؟ اس کی خوبیاں اور خامیاں تحریر کیجیے۔ -8
- Write a note on any two of the following: (i) کسی دو پر نوٹ تحریر کیجیے۔ -9

(i) ریفرنس لائبریرین Reference Librarian (ii) براؤن سسٹم Brown System (iii) لغت (ڈکشنری) Dictionary

Paper Code

2018 (S)

رول نمبر

Number: 4081

INTERMEDIATE PART-II (12th CLASS)

LIBRARY SCIENCE PAPER-II (NEW SCHEME) (نیو سکیم) - دوسرا پرچہ - لائبریری سائنس پرچہ

TIME ALLOWED: 20 Minutes

OBJECTIVE حصہ معروضی

وقت = 20 منٹ

MAXIMUM MARKS: 17

کل نمبر = 17

نوٹ۔ ہر سوال کے چار ممکنہ جوابات A، B، C اور D دیئے گئے ہیں۔ جوابی کاپی پر ہر سوال کے سامنے دیئے گئے دائروں میں سے درست جواب کے مطابق متعلقہ دائرہ کو مار کر یا پین سے بھر

دیتے ہیں۔ ایک سے زیادہ دائروں کو بھر کرنے یا کاٹ کر پُر کرنے کی صورت میں مذکورہ جواب غلط تصور ہوگا۔ دائروں کو پُر نہ کرنے کی صورت میں کوئی نمبر نہیں دیا جائے گا۔ اس سوالیہ پرچہ پر

سوالات ہرگز حل نہ کریں۔ Note: you have four choices for each objective type question as A, B, C and D. The choice

which you think is correct, fill that bubble in front of that question number. On bubble sheet, use marker or pen

to fill the bubbles. Cutting or filling two or more bubbles will result in zero mark in that question. Attempt as

many questions as given in objective type question paper and leave others blank. No credit will be awarded

in case BUBBLES are not filled. Do not solve questions on this sheet of OBJECTIVE PAPER.

Q.No.1

سوال نمبر 1

- (1) The classification numbers of religion in DDC is:- (1) ڈی ڈی سی میں مذہب کا درجہ بندی نمبر ہے۔
(A) 200 (B) 300 (C) 400 (D) 500
- (2) Melvil Dewey belonged to:- (2) میول ڈیوی کا تعلق تھا۔
(A) France سے فرانس (B) England سے برطانیہ (C) America سے امریکا (D) India سے انڈیا
- (3) The first edition of DDC was published in:- (3) ڈی ڈی سی کا پہلا ایڈیشن شائع ہوا۔
(A) 1576 AD میں (B) 1676 AD میں (C) 1776 AD میں (D) 1876 AD میں
- (4) Total summaries of DDC are:- (4) ڈی ڈی سی کی کل سریاں ہیں۔
(A) 3 (B) 10 (C) 15 (D) 20
- (5) The founder of Colon Classification was:- (5) کولن کلاسیفیکیشن کا بانی تھا۔
(A) C.A. Cutter سی۔ اے۔ کٹر (B) S.R Ranganathan ایس۔ آر۔ رانگناتھن (C) Melvil Dewey میول ڈیوی (D) Brown براؤن
- (6) The word "Catalogue" is derived from _____ language. (6) کیٹلاگ کا لفظ _____ زبان سے ماخوذ ہے۔
(A) Latin لاطینی (B) Greek یونانی (C) French فرانسیسی (D) German جرمن
- (7) Card kept by the readers is:- (7) قارئین کے پاس کارڈ ہوتا ہے۔
(A) Catalogue card کیٹلاگ کارڈ (B) Borrower card سٹور کارڈ (C) Book card کتابی کارڈ (D) Guide card گائیڈ کارڈ
- (8) The catalogue of more than one library is called:- (8) ایک سے زائد کتب خانوں کے کیٹلاگ کو _____ کہتے ہیں۔
(A) Shelf list Catalogue شیلف لسٹ کیٹلاگ (B) Dictionary Catalogue ڈکشنری کیٹلاگ
(C) Union Catalogue یونین کیٹلاگ (D) Subject Catalogue مضمون کیٹلاگ
- (9) The size of card catalogue is:- (9) کارڈ کیٹلاگ کا سائز ہوتا ہے۔
(A) 3" x 7" (B) 2" x 5" (C) 4" x 7" (D) 3" x 5"
- (10) _____ is placed in book pocket. (10) کتابی جیب میں رکھا جاتا ہے۔
(A) Catalogue card کیٹلاگ کارڈ (B) Date shlip ڈیٹ سلپ (C) I.D. card شناختی کارڈ (D) Book card کتابی کارڈ
- (11) _____ is called the key to Library material. (11) کتب خانے کے علمی مواد کی چابی کہتے ہیں۔
(A) Bibliography کتابیات (B) Globe گلوب (C) Catalogue کیٹلاگ (D) Directory ڈائریکٹری
- (12) Biography of alive persons is called:- (12) زندہ شخصیات کی سوانح عمری کو کہتے ہیں۔
(A) Current biography کرنٹ بائیوگرافی (B) Original biography اورجینل بائیوگرافی
(C) National biography نیشنل بائیوگرافی (D) Universal biography یونیورسل بائیوگرافی
- (13) _____ charging system, the reader is issued tickets. (13) _____ اجرائی نظام میں قاری کو ٹکٹ جاری کئے جاتے ہیں۔
(A) Computer system کمپیوٹر سسٹم (B) Dummy system ڈمی سسٹم (C) Brown براؤن (D) Register system رجسٹر سسٹم
- (14) The informations about Astronomy are given in:- (14) فلکیات و علم ہیئت سے متعلق معلومات _____ میں ہوتی ہیں۔
(A) Almanac تقویم (B) Biography سوانح عمری (C) Dictionary لغت (D) Hand books دستی کتب
- (15) The record of issued books is kept in:- (15) جاری شدہ کتب کا ریکارڈ رکھا جاتا ہے۔
(A) Classification section شعبہ درجہ بندی میں (B) Purchase section شعبہ خریداری میں
(C) Circulation section شعبہ اجرائی میں (D) Reference section ریفرنس سیکشن میں
- (16) Books are issued for _____ days. (16) کتابیں _____ دنوں کے لیے جاری کی جاتی ہیں۔
(A) 14 (B) 7 (C) 10 (D) 20
- (17) Collection of maps and outlines is called:- (17) نقشہ جات اور خاکوں کے مجموعہ کو کہتے ہیں۔
(A) Gazetteer گزیٹر (B) Bibliography کتابیات (C) Globe گلوب (D) Atlas اٹلس

Name of Subject

اساتو اتا انا

Session:

II-A-2018

Q.Nos	Paper Code 4201	Paper Code 4203	Paper Code 4205	Paper Code 4207
1	B	D	A	D
2	B	A	A	A
3	B	D	B	D
4	D	D	C	A
5	B	A	C	A
6	D	A	B	D
7	A	A	B	A
8	D	B	B	D
9	A	C	D	D
10	A	C	B	A
11	D	B	D	A
12	A	B	A	A
13	D	B	D	B
14	D	D	A	C
15	A	B	A	C
16	A	D	D	B
17	A	A	A	B
18	B	D	D	B
19	C	A	D	D
20	C	A	A	B

سرٹیفکیٹ بابت صحیح سوالیہ پرچہ امارنگ کی Key

ہم نے مضمون اساتو اتا انا (اختیاری) دوسرا گروپ سکیم ————— اثرا سالانہ ضمنی امتحان 2018 کا سوالیہ پرچہ انشائیہ و معروضی (Subjective & Objective) کو بنظر عین چیک کر لیا ہے یہ پرچہ Syllabus کے عین مطابق Set کیا گیا ہے۔ اس سوالیہ پرچہ میں کسی قسم کی کوئی غلطی نہ ہے۔ ہم نے سوالیہ پرچہ کا اردو اور انگریزی Version بھی چیک کر لیا ہے۔ یہ Version آپس میں مطابقت رکھتے ہیں۔ نیز اس پرچہ کی معروضی (MCQs) Key کی بابت تصدیق کی جاتی ہے کہ اس میں بھی کسی قسم کی کوئی غلطی نہ ہے۔ مزید یہ کہ ہم نے Key بنانے سے متعلق دفتر کی جانب سے تیار کردہ ہدایات وصول کر کے ان کا بغور مطالعہ کر لیا ہے اور ان کی روشنی میں Key بنائی ہے۔ نیز سب ایگزامینرز کیلئے تفصیلی مارکنگ ہدایات امارنگ سکیم/Rubrics بھی تیار کر دی گئی ہیں۔

Prepared & Checked By:

Dated: 26-10-2018

S.#	Name	Designation	Institution	Mobile No	Signature
1	عبد الرسول قمر	ایسوسی ایٹ پروفیسر	گورنمنٹ کالج ویٹری ملتان	03467813315	
2	ظفر اقبال بھٹ	"	گورنمنٹ کالج آف سائنس ملتان	03336106021	
3	ڈاکٹر محمد سلیم الخوان	"	گورنمنٹ ایمرسن کالج ملتان	03457230479	

2018 (S)

رول نمبر _____

انٹرمیڈیٹ امتحان پارٹ - II (کلاس بارہویں)

ISLAMIC STUDIES (ELECTIVE) PAPER-II

اسلامیات (اختیاری) پرچہ - دوسرا

TIME ALLOWED: 2.30 Hours

SUBJECTIVE حصہ انشائیہ

وقت = 2.30 گھنٹے

MAXIMUM MARKS: 80

کل نمبر = 80

نوٹ - جوابی کاپی پر وہی سوال نمبر اور جزو نمبر درج کیجیے جو کہ سوالیہ پرچے میں درج ہے۔
and its part number on answer book, as given in the question paper.

SECTION-I حصہ اول

2. Attempt any six parts.

12 = 2 x 6

سوال نمبر 2- کوئی سے چھ اجزاء کے جوابات تحریر کیجیے۔

- (i) What was the condition of Holy Rasool صلی اللہ علیہ وآلہ وسلم پہلی وحی کے وقت حضور صلی اللہ علیہ وآلہ وسلم کی کیفیت کی تھی؟ (i)
- at the time of first revelation?
- (ii) Write two qualities of Makki Soorahs. (ii) مکی سورتوں کی دو خصوصیات لکھیے۔
- (iii) Write a verse or its translation about the safety of the Holy Quran. (iii) حفاظتِ قرآن سے متعلق ایک آیت یا ترجمہ لکھیں۔
- (iv) Write two kinds of Wahee. (iv) وحی کی دو اقسام لکھیے۔
- (v) Write two qualities of Muttaqeen. (v) متقین کی دو صفات تحریر کریں۔
- (vi) Translate:- وَعَلَىٰ أَبْصَارِهِمْ غِشَاوَةٌ (vi) ترجمہ کیجیے۔
- (vii) Write two kinds of Hypocrites. (vii) منافق کی دو اقسام لکھیں۔
- (viii) What was ordered to Bani Israel by Allah Almighty about worships? (viii) اللہ تعالیٰ نے بنی اسرائیل کو عبادت سے متعلق کیا حکم دیا تھا؟
- (ix) What does the tale of Hazat Adam(A.S) and Satan manifest? (ix) قصہ حضرت آدمؑ و ابلیس سے کیا بات واضح ہوتی ہے؟

3. Attempt any six parts.

12 = 2 x 6

سوال نمبر 3- کوئی سے چھ اجزاء کے جوابات تحریر کیجیے۔

- (i) What is meant by شعائر اللہ؟ (i) شعائر اللہ سے کیا مراد ہے؟
- (ii) What do you know about سعی؟ (ii) سعی کے متعلق آپ کیا جانتے ہیں؟
- (iii) Write two bad qualities of Jews. (iii) یہود کی دو بری صفات تحریر کریں۔
- (iv) What is meant by صبیحۃ اللہ؟ (iv) صبیحۃ اللہ سے کیا مراد ہے؟
- (v) Write the name of compiler of صحیفہ صادقہ. (v) صحیفہ صادقہ کے مؤلف کا نام لکھیں۔
- (vi) Write the name of compiler of سنن ابی داؤد. (vi) سنن ابی داؤد کے مؤلف کا نام تحریر کریں۔
- (vii) Define حدیث تقریری. (vii) حدیث تقریری کی تعریف کریں۔
- (viii) What is the difference between سنن and متن؟ (viii) سنن اور متن میں کیا فرق ہے؟
- (ix) Write the eras of compiling of Hadith. (ix) تدوین حدیث کے ادوار کا ذکر کریں۔

(ورق الٹئے)

(2)

4. Attempt any eight parts.

16 = 2 x 8

سوال نمبر 4۔ کوئی سے آٹھ اجزاء کے جوابات تحریر کیجیے۔

- (i) Write down two signs of Doomsday according to Hadees-e-Jibraail(A.S).
 (ii) Allah Almighty is upright and which thing He accepts?
 (iii) Explain. مَطْعَمُهُ حَرَامٌ
 (iv) Write down the real name of Hazrat Abu Huraira(R.A).
 (v) What is meant by "تَحْمِيدٌ"؟
 (vi) Translate. سُبْحَانَ اللَّهِ
 (vii) How to give ease to the Slaughtered?
 (viii) According to Hadees write two ways to prevent an Evil.
 (ix) Define verb Nahee (نہی).
 (x) Define verb Muzaray (مضارع).
 (xi) Make the plural of:- قَلَمٌ - عَالِمٌ
 (xii) Make the feminine of:- سَاجِدٌ - زَاهِدٌ

- (i) حدیث جبرائیلؑ کے مطابق قیامت کی دو نشانیاں لکھیں۔
 (ii) اللہ تعالیٰ پاک ہے اور کس چیز کو قبول کرتا ہے؟
 (iii) وضاحت کریں۔
 (iv) حضرت ابو ہریرہؓ کا اصل نام تحریر کریں۔
 (v) "تَحْمِيدٌ" سے کیا مراد ہے؟
 (vi) ترجمہ کریں۔
 (vii) ذبیحہ کو راحت کیسے پہنچائی جائے؟
 (viii) حدیث کے مطابق برائی روکنے کے دو طریقے تحریر کریں۔
 (ix) فعل نہی کی تعریف کریں۔
 (x) فعل مضارع کی تعریف کریں۔
 (xi) جمع بنائیں۔
 (xii) مؤنث بنائیں۔

SECTION-II حصہ دوم

NOTE: - All questions are compulsory.

نوٹ۔ تمام سوالات لازمی ہیں۔

- 5- Translate and explain the following Quranic Aayat. 4 + 6
 وَعَلَّمَ أَدَمَ الْأَسْمَاءَ كُلَّهَا ثُمَّ عَرَضَهُمْ عَلَى الْمَلَائِكَةِ فَقَالَ أَنْبِئُونِي بِأَسْمَاءِ هَؤُلَاءِ إِنْ كُنْتُمْ صَادِقِينَ ۝
 6- درج ذیل قرآنی آیت کا ترجمہ اور تشریح کیجیے۔
 6- درج ذیل آیات میں سے کسی ایک قرآنی آیت کی سیاق و سباق کے حوالے سے وضاحت کیجیے۔ 10
 6- Explain any one of the following Verses with reference to the Quranic Context:-
 (الف) وَأَنْزَلْنَا عَلَيْكُمُ الْمَنَّاءَ وَالسَّلْوى
 (ب) وَمَا أَنْزَلْنَا عَلَى الْمَلَكِينَ بِبَابِلَ هَازُوتَ وَمَا زُوتَ -
 7- Translate and explain the following Blessed Hadith. 6 + 4
 آلا وَإِنَّ فِي الْجَسَدِ مُضْفَةً إِذَا صَلَحَتْ صَلَحَ الْجَسَدُ كُلُّهُ وَإِذَا فَسَدَتْ فَسَدَ الْجَسَدُ كُلُّهُ أَلَا وَهِيَ الْقَلْبُ
 7- درج ذیل حدیث مبارکہ کا ترجمہ و تشریح کیجیے۔
 8- درج ذیل احادیث مبارکہ میں سے کسی دو کی سیاق و سباق کے حوالے سے وضاحت کیجیے۔ 10
 8- Explain any two of the following Blessed Ahadis with reference to the context.

- (الف) فَإِذَا قَتَلْتُمْ فَاحْسِنُوا الْقِتْلَةَ
 (ب) وَالصَّدَقَةُ بُزْهَانٌ وَالصَّبْرُ ضِيَاءٌ
 (ج) الْمُسْلِمُ أَخُو الْمُسْلِمِ لَا يَظْلِمُهُ وَلَا يَخْذَلُهُ

Paper Code

2018 (S)

رول نمبر

Number: 4201

انٹرمیڈیٹ امتحان پارٹ - II (کلاس بارہویں)

ISLAMIC STUDIES (ELECTIVE) PAPER-II

اسلامیات (اختیاری) پرچہ - دوسرا

TIME ALLOWED: 30 Minutes

OBJECTIVE معروضی

وقت = 30 منٹ

MAXIMUM MARKS: 20

کل نمبر = 20

نوٹ - ہر سوال کے چار ممکنہ جوابات A، B، C اور D دیئے گئے ہیں۔ جوابی کاپی پر ہر سوال کے سامنے دیئے گئے دائروں میں سے درست جواب کے مطابق متعلقہ دائرہ کو مارکر یا پین سے گھر

دیتے۔ ایک سے زیادہ دائروں کو گھر کرنے یا کاٹ کر پھر کرنے کی صورت میں مذکورہ جواب غلط تصور ہوگا۔ دائروں کو پھر کرنے کی صورت میں کوئی نمبر نہیں دیا جائے گا۔ اس سوالیہ پرچہ پر

سوالات ہرگز حل نہ کریں۔ Note: you have four choices for each objective type question as A, B, C and D. The choice

which you think is correct, fill that bubble in front of that question number. On bubble sheet, use marker or pen

to fill the bubbles. Cutting or filling two or more bubbles will result in zero mark in that question. Attempt as

many questions as given in objective type question paper and leave others blank. No credit will be awarded

in case BUBBLES are not filled. Do not solve questions on this sheet of OBJECTIVE PAPER.

Q.No.1

سوال نمبر 1-

- (1) The kinds of revelation are:-
(A) One ایک (B) Two دو (C) Three تین (D) Four چار
وحی کی اقسام ہیں۔
- (2) The Holy Quran was compiled on the order of Hazrat Abu Bakr(R.A) by:-
(A) Hazrat Abi bin Ka'ab(R.A) نے حضرت ابی بن کعبؓ نے (B) Hazrat Zaid bin Sabit(R.A) نے حضرت زید بن ثابتؓ نے
(C) Hazrat Zaid bin Haritha(R.A) نے حضرت زید بن حارثہؓ نے (D) Hazrat Saad bin Aas(R.A) نے حضرت سعد بن عاصؓ نے
حضرت ابو بکرؓ کے حکم سے قرآن مجید جمع کیا۔
- (3) The meanign of " صَلَّصَلَّةُ الْجَزْسِ " is:-
(A) Signal اشارہ (B) Voice of bell گھنٹی کی آواز (C) To converse ہم کلام ہونا (D) Gossip چپکے سے بات کرنا
" صَلَّصَلَّةُ الْجَزْسِ " کا معنی ہے۔
- (4) " فَتْرَةُ الْوَحْيِ " means:-
(A) Last Revelation آخری وحی (B) First Revelation پہلی وحی (C) Long Revelation طویل وحی (D) Break in Revelation وحی میں وقفہ
" فَتْرَةُ الْوَحْيِ " سے مراد ہے۔
- (5) The people who take asposty in lieu of guidance:-
(A) Non-believers کافر (B) Hypocrites منافق (C) Lazy کاٹل (D) Cunnings شاطر
ہدایت کے بدلے لگراہی خریدنے والے لوگ ہیں۔
- (6) Allah Almighty ordered to get help from act of:-
(A) Rozah روزہ (B) Zakat زکوٰۃ (C) Pilgrimage حج (D) Namaz & Patience نماز اور صبر
اللہ تعالیٰ نے جس عمل سے مدد لینے کا حکم دیا ہے، وہ ہے۔
- (7) The reason of superiority of Hazrat Adam(A.S) over angels was:-
(A) Knowledge علم (B) Piousness پرہیزگاری (C) Physical strength جسمانی طاقت (D) Beauty خوبصورتی
حضرت آدمؑ کی فرشتوں پر برتری کا سبب تھا۔
- (8) " نَصَارِي " means:-
(A) Ansaar انصار (B) Muhajreen مہاجرین (C) Jews یہود (D) Christians عیسائی
" نَصَارِي " سے مراد ہے۔
- (9) Allah Almighty announced the leader of humanity, that Prophet was:-
(A) Hazrat Ibrahim(A.S) حضرت ابراہیمؑ (B) Hazrat Adam(A.S) حضرت آدمؑ (C) Hazrat Nooh(A.S) حضرت نوحؑ (D) Hazrat Yousaf(A.S) حضرت یوسفؑ
اللہ تعالیٰ نے جس پیغمبر کو لوگوں کا امام بنانے کا اعلان کیا وہ تھے۔
- (10) The Muslims continued to offer their Namaz towards Bait-ul-Maqdas after migration for:-
(A) 17 months (B) 18 months (C) 19 months (D) 20 months
ہجرت کے بعد مسلمان بیت المقدس کی طرف منہ کر کے نماز پڑھتے رہے۔
- (11) The number of the books, called Seah-e-Sittah (صحاح ستہ) is:-
(A) Three تین (B) Four چار (C) Five پانچ (D) Six چھ
جن کتب کو صحاح ستہ کہا جاتا ہے ان کی تعداد ہے۔
- (12) The literal meaning of Hadith is:-
(A) Conversation گفتگو (B) Action عمل (C) Sannat سنت (D) Agreement معاہدہ
حدیث کے لغوی معنی ہیں۔
- (13) The pillars of Islam are:-
(A) Two دو (B) Three تین (C) Four چار (D) Five پانچ
ارکان اسلام کی تعداد ہے۔
- (14) Hadith that is found in Bukhari and Muslim is called:-
(A) Sahih Hadith صحیح حدیث (B) Matwatar Hadith متواتر حدیث (C) Gharib Hadith غریب حدیث (D) Muttafiq Alaih Hadith متفق علیہ حدیث
جو حدیث صحیح بخاری و صحیح مسلم میں ہو، اسے اصطلاح میں کہتے ہیں۔
- (15) The servant of Rasool was:-
(A) Hazrat Anas bin Malik(R.A) حضرت انس بن مالکؓ (B) Hazrat Abdullah bin Masood(R.A) حضرت عبداللہ بن مسعودؓ (C) Hazrat Abdullah bin Umar(R.A) حضرت عبداللہ بن عمرؓ (D) Hazrat Abdullah bin Abbas(R.S) حضرت عبداللہ بن عباسؓ
خادم رسول تھے۔
- (16) Man must give up, according to Hadith:-
(A) Put you in doubt جو شک میں ڈالے (B) Borrowing جو ادھار ہو (C) The best جو بہترین ہو (D) Good talk اچھی گفتگو
فرمان رسولؐ کے مطابق انسان وہ چیز چھوڑ دے۔
- (17) Allah Almighty made Haram upon Himself as in Hadith-e-Qudsi:-
(A) Cruelty ظلم کو (B) Mercy رحم کو (C) Pardon درگزر کو (D) Accountability حساب و کتاب کو
حدیث قدسی میں ہے کہ اللہ تعالیٰ نے اپنے اوپر حرام کر لیا ہے۔
- (18) Bid to increase price is:-
(A) Valid جائز ہے (B) Invalid ناجائز ہے (C) Virtue نیکی ہے (D) Coordination تعاون ہے
قیمت بڑھانے کے لیے بولی دینا۔
- (19) " لَا تَضْرِبْ " is:-
(A) Amar فعل امر (B) Past فعل ماضی (C) Nahi فعل نہی (D) Muzara فعل مضارع
" لَا تَضْرِبْ " ہے۔
- (20) According to an Arabic grammar " مُفْلِحُونَ " is:-
(A) Singular واحد (B) Twice تثنیہ (C) Plural جمع (D) Murakab مرکب
عربی گرامر کے اعتبار سے " مُفْلِحُونَ " ہے۔

Paper Code

2018 (S)

رول نمبر

Number: 4203

انٹرمیڈیٹ امتحان پارٹ - II (کلاس بارہویں)

ISLAMIC STUDIES (ELECTIVE) PAPER-II

اسلامیات (اختیاری) پرچہ - دوسرا

TIME ALLOWED: 30 Minutes

OBJECTIVE معروضی

وقت = 30 منٹ

MAXIMUM MARKS: 20

کل نمبر = 20

نوٹ۔ ہر سوال کے چار ممکنہ جوابات A، B، C اور D دیے گئے ہیں۔ جوابی کاپی پر ہر سوال کے سامنے دیئے گئے دائروں میں سے درست جواب کے مطابق متعلقہ دائرہ کو مار کر یا پین سے بھر دیجئے۔ ایک سے زیادہ دائروں کو پُر کرنے یا کاٹ کر پُر کرنے کی صورت میں مذکورہ جواب غلط تصور ہوگا۔ دائروں کو پُر نہ کرنے کی صورت میں کوئی نمبر نہیں دیا جائے گا۔ اس سوالیہ پرچہ پر

Note: you have four choices for each objective type question as A, B, C and D. The choice which you think is correct, fill that bubble in front of that question number. On bubble sheet, use marker or pen to fill the bubbles. Cutting or filling two or more bubbles will result in zero mark in that question. Attempt as many questions as given in objective type question paper and leave others blank. No credit will be awarded in case BUBBLES are not filled. Do not solve questions on this sheet of OBJECTIVE PAPER.

Q.No.1

سوال نمبر 1-

- (1) The number of the books, called Seah-e-Sittah (صحاح ستہ) is:- جن کتب کو صحاح ستہ کہا جاتا ہے ان کی تعداد ہے۔ (A) Three تین (B) Four چار (C) Five پانچ (D) Six چھ
- (2) The literal meaning of Hadith is:- حدیث کے لغوی معنی ہیں۔ (A) Conversation گفتگو (B) Action عمل (C) Sannat سنت (D) Agreement معاہدہ
- (3) The pillars of Islam are:- ارکان اسلام کی تعداد ہے۔ (A) Two دو (B) Three تین (C) Four چار (D) Five پانچ
- (4) Hadith that is found in Bukhari and Muslim is called:- جو حدیث صحیح بخاری و صحیح مسلم میں ہو، اسے اصطلاح میں کہتے ہیں۔ (A) Sahih Hadith صحیح حدیث (B) Matwatar Hadith متواتر حدیث (C) Gharib Hadith غریب حدیث (D) Muttfaq Alaih Hadith متفق علیہ حدیث
- (5) The servant of Rasool was:- خادم رسول تھے۔ (A) Hazrat Anas bin Malik(R.A) حضرت انس بن مالک (B) Hazrat Abdullah bin Masood(R.A) حضرت عبداللہ بن مسعود (C) Hazrat Abdullah bin Umar(R.A) حضرت عبداللہ بن عمر (D) Hazrat Abdullah bin Abbas(R.S) حضرت عبداللہ بن عباس
- (6) Man must give up, according to Hadith:- فرمان رسول کے مطابق انسان وہ چیز چھوڑے۔ (A) Put you in doubt جو شک میں ڈالے (B) Borrowing جو ادھار ہو (C) The best جو بہترین ہو (D) Good talk اچھی گفتگو
- (7) Allah Almighty made Haram upon Himself as in Hadith-e-Qudsi:- حدیث قدسی میں ہے کہ اللہ تعالیٰ نے اپنے اوپر حرام کر لیا ہے۔ (A) Cruelty ظلم کو (B) Mercy رحم کو (C) Pardon درگزر کو (D) Accountability حساب و کتاب کو
- (8) Bid to increase price is:- قیمت بڑھانے کے لیے بولی دینا۔ (A) Valid جائز ہے (B) Invalid ناجائز ہے (C) Virtue نیکی ہے (D) Coordination تعاون ہے
- (9) "لَا تَضْرِبْ" is:- "لَا تَضْرِبْ" ہے (A) Amar فعل امر (B) Past فعل ماضی (C) Nahi فعل نہی (D) Muzara فعل مضارع
- (10) According to an Arabic grammar "مُفْلِحُونَ" is:- عربی گرامر کے اعتبار سے "مُفْلِحُونَ" ہے۔ (A) Singular واحد (B) Twice تثنیہ (C) Plural جمع (D) Murakab مرکب
- (11) The kinds of revelation are:- وحی کی اقسام ہیں۔ (A) One ایک (B) Two دو (C) Three تین (D) Four چار
- (12) The Holy Quran was compiled on the order of Hazrat Abu Bakr(R.A) by:- حضرت ابو بکر کے حکم سے قرآن مجید جمع کیا۔ (A) Hazrat Abi bin Ka'ab(R.A) حضرت ابی بن کعب نے (B) Hazrat Zaid bin Sabit(R.A) حضرت زید بن ثابت نے (C) Hazrat Zaid bin Haritha(R.A) حضرت زید بن حارثہ نے (D) Hazrat Saad bin Aas(R.A) حضرت سعد بن عاص نے
- (13) The meanign of "صَلْصَلَةُ الْجَرَسِ" is:- "صَلْصَلَةُ الْجَرَسِ" کا معنی ہے۔ (A) Signal اشارہ (B) Voice of bell گھنٹی کی آواز (C) To converse ہم کلام ہونا (D) Gossip چپکے سے بات کرنا
- (14) "فَتْرَةُ الْوَحْيِ" means:- "فَتْرَةُ الْوَحْيِ" سے مراد ہے۔ (A) Last Revelation آخری وحی (B) First Revelation پہلی وحی (C) Long Revelation طویل وحی (D) Break in Revelation وحی میں وقفہ
- (15) The people who take aspostsy in lieu of guidance:- ہدایت کے بدلے گمراہی خریدنے والے لوگ ہیں۔ (A) Non-believers کافر (B) Hypocrites منافق (C) Lazy کابل (D) Cunnings شاطر
- (16) Allah Almighty ordered to get help from act of:- اللہ تعالیٰ نے جس عمل سے مدد لینے کا حکم دیا ہے، وہ ہے۔ (A) Rozah روزہ (B) Zakat زکوٰۃ (C) Pilgrimage حج (D) Namaz & Patience نماز اور صبر
- (17) The reason of superiority of Hazrat Adam(A.S) over angels was:- حضرت آدم کی فرشتوں پر برتری کا سبب تھا۔ (A) Knowledge علم (B) Piousness پرہیزگاری (C) Physical strength جسمانی طاقت (D) Beauty خوبصورتی
- (18) "نَصَارَى" means:- "نَصَارَى" سے مراد ہے۔ (A) Ansaar انصار (B) Muhajreen مہاجرین (C) Jews یہود (D) Christians عیسائی
- (19) Allah Almighty announced the leader of humanity, that Prophet was:- اللہ تعالیٰ نے جس پیغمبر کو لوگوں کا امام بنانے کا اعلان کیا وہ تھے۔ (A) Hazrat Ibrahim(A.S) حضرت ابراہیم (B) Hazrat Adam(A.S) حضرت آدم (C) Hazrat Nooh(A.S) حضرت نوح (D) Hazrat Yousaf(A.S) حضرت یوسف
- (20) The Muslims continued to offer their Namaz towards Bait-ul-Maqdas after migration for:- ہجرت کے بعد مسلمان بیت المقدس کی طرف منہ کر کے نماز پڑھتے رہے۔ (A) 17 months ماہ (B) 18 months ماہ (C) 19 months ماہ (D) 20 months ماہ

Paper Code

2018 (S)

Number: 4205

انٹرمیڈیٹ امتحان پارٹ - II (کلاس بارہویں)

ISLAMIC STUDIES (ELECTIVE) PAPER-II

اسلامیات (اختیاری) پرچہ - دوسرا

TIME ALLOWED: 30 Minutes

OBJECTIVE معروضی

وقت = 30 منٹ

MAXIMUM MARKS: 20

کل نمبر = 20

نوٹ۔ ہر سوال کے چار ممکنہ جوابات A, B, C اور D دیئے گئے ہیں۔ جوابی کاپی پر ہر سوال کے سامنے دیئے گئے دائروں میں سے درست جواب کے مطابق متعلقہ دائرہ کو مارکر یا پین سے مہر دیتے۔ ایک سے زیادہ دائروں کو بھر کرنے یا کاٹ کر بھر کرنے کی صورت میں مذکورہ جواب غلط تصور ہوگا۔ دائروں کو بھر نہ کرنے کی صورت میں کوئی نمبر نہیں دیا جائے گا۔ اس سوالیہ پرچہ پر

Note: you have four choices for each objective type question as A, B, C and D. The choice which you think is correct, fill that bubble in front of that question number. On bubble sheet, use marker or pen to fill the bubbles. Cutting or filling two or more bubbles will result in zero mark in that question. Attempt as many questions as given in objective type question paper and leave others blank. No credit will be awarded in case BUBBLES are not filled. Do not solve questions on this sheet of OBJECTIVE PAPER.

Q.No.1

سوال نمبر 1-

- (1) Man must give up, according to Hadith:-
(A) Put you in doubt جو شک میں ڈالے (B) Borrowing جو ادھار ہو (C) The best جو بہترین ہو (D) Good talk اچھی گفتگو کے مطابق انسان وہ چیز چھوڑ دے۔
- (2) Allah Almighty made Haram upon Himself as in Hadith-e-Qudsi:-
(A) Cruelty عظم کو (B) Mercy رحم کو (C) Pardon درگزر کو (D) Accountability حساب و کتاب کو حدیث قدسی میں ہے کہ اللہ تعالیٰ نے اپنے اوپر حرام کر لیا ہے۔
- (3) Bid to increase price is:-
(A) Valid جائز ہے (B) Invalid ناجائز ہے (C) Virtue نیکی ہے (D) Coordination تعاون ہے قیمت بڑھانے کے لیے بول دینا۔
- (4) " لَا تَضْرِبْ " is:-
(A) Amar فعل امر (B) Past فعل ماضی (C) Nahi فعل نہی (D) Muzara فعل مضارع " لَا تَضْرِبْ " ہے
- (5) According to an Arabic grammar " مُفْلِحُونَ " is:-
(A) Singular واحد (B) Twice تثنیہ (C) Plural جمع (D) Murakab مرکب عربی گرامر کے اعتبار سے " مُفْلِحُونَ " ہے۔
- (6) The kinds of revelation are:-
(A) One ایک (B) Two دو (C) Three تین (D) Four چار وحی کی اقسام ہیں۔
- (7) The Holy Quran was compiled on the order of Hazrat Abu Bakr(R.A) by:-
(A) Hazrat Abi bin Ka'ab(R.A) نے حضرت ابی بن کعب نے (B) Hazrat Zaid bin Sabit(R.A) نے حضرت زید بن ثابت نے (C) Hazrat Zaid bin Haritha(R.A) نے حضرت زید بن حارثہ نے (D) Hazrat Saad bin Aas(R.A) نے حضرت سعد بن عاص نے حضرت ابوبکرؓ کے حکم سے قرآن مجید جمع کیا۔
- (8) The meanign of " صَلَّصَلَةُ الْجَرِّسِ " is:-
(A) Signal اشارہ (B) Voice of bell گھنٹی کی آواز (C) To converse ہم کلام ہونا (D) Gossip چپکے سے بات کرنا " صَلَّصَلَةُ الْجَرِّسِ " کا معنی ہے۔
- (9) " فَتْرَةُ الْوَحْيِ " means:-
(A) Last Revelation آخری وحی (B) First Revelation پہلی وحی (C) Long Revelation طویل وحی (D) Break in Revelation وحی میں وقفہ سے مراد ہے۔
- (10) The people who take aspostsy in lieu of guidance:-
(A) Non-believers کافر (B) Hypocrites منافق (C) Lazy کاٹل (D) Cunnings شاطر ہدایت کے بدلے گمراہی خریدنے والے لوگ ہیں۔
- (11) Allah Almighty ordered to get help from act of:-
(A) Rozah روزہ (B) Zakat زکوٰۃ (C) Pilgrimage حج (D) Namaz & Patience نماز اور صبر اللہ تعالیٰ نے جس عمل سے مدد لینے کا حکم دیا ہے، وہ ہے۔
- (12) The reason of superiority of Hazrat Adam(A.S) over angels was:-
(A) Knowledge علم (B) Piousness پرہیزگاری (C) Physical strength جسمانی طاقت (D) Beauty خوبصورتی حضرت آدمؑ کی فرشتوں پر برتری کا سبب تھا۔
- (13) " نَصَارَى " means:-
(A) Ansaar انصار (B) Muhajreen مہاجرین (C) Jews یہود (D) Christians عیسائی " نَصَارَى " سے مراد ہے۔
- (14) Allah Almighty announced the leader of humanity, that Prophet was:-
(A) Hazrat Ibrahim(A.S) حضرت ابراہیمؑ (B) Hazrat Adam(A.S) حضرت آدمؑ (C) Hazrat Nooh(A.S) حضرت نوحؑ (D) Hazrat Yousaf(A.S) حضرت یوسفؑ اللہ تعالیٰ نے جس پیغمبر کو لوگوں کا امام بنانے کا اعلان کیا وہ تھے۔
- (15) The Muslims continued to offer their Namaz towards Bait-ul-Maqdas after migration for:-
(A) 17 months 17 ماہ (B) 18 months 18 ماہ (C) 19 months 19 ماہ (D) 20 months 20 ماہ ہجرت کے بعد مسلمان بیت المقدس کی طرف منہ کر کے نماز پڑھتے رہے۔
- (16) The number of the books, called Seah-e-Sittah (صحاح ستہ) is:-
(A) Three تین (B) Four چار (C) Five پانچ (D) Six چھ جن کتب کو صحاح ستہ کہا جاتا ہے ان کی تعداد ہے۔
- (17) The literal meaning of Hadith is:-
(A) Conversation گفتگو (B) Action عمل (C) Sannat سنت (D) Agreement معاہدہ حدیث کے لغوی معنی ہیں۔
- (18) The pillars of Islam are:-
(A) Two دو (B) Three تین (C) Four چار (D) Five پانچ ارکان اسلام کی تعداد ہے۔
- (19) Hadith that is found in Bukhari and Muslim is called:-
(A) Sahih Hadith صحیح حدیث (B) Matwatar Hadith متواتر حدیث (C) Gharib Hadith غریب حدیث (D) Muttfaq Alaih Hadith متفق علیہ حدیث جو حدیث صحیح بخاری و صحیح مسلم میں ہو، اسے اصطلاح میں صحیح حدیث کہتے ہیں۔
- (20) The servant of Rasool was:-
(A) Hazrat Anas bin Malik(R.A) حضرت انس بن مالکؓ (B) Hazrat Abdullah bin Masood(R.A) حضرت عبداللہ بن مسعودؓ (C) Hazrat Abdullah bin Umar(R.A) حضرت عبداللہ بن عمرؓ (D) Hazrat Abdullah bin Abbas(R.S) حضرت عبداللہ بن عباسؓ خادم رسولؐ تھے۔

Paper Code

2018 (S)

زول نمبر

Number: 4207

انٹرمیڈیٹ امتحان پارٹ - II (کلاس بارہویں)

ISLAMIC STUDIES (ELECTIVE) PAPER-II

اسلامیات (اختیاری) پرچہ - دوسرا

TIME ALLOWED: 30 Minutes

OBJECTIVE معروضی

وقت = 30 منٹ

MAXIMUM MARKS: 20

کل نمبر = 20

نوٹ۔ ہر سوال کے چار ممکنہ جوابات A، B، C اور D دیئے گئے ہیں۔ جوابی کاپی پر ہر سوال کے سامنے دیئے گئے دائروں میں سے درست جواب کے مطابق متعلقہ دائرہ کو مار کر یا پین سے بھر دیجئے۔ ایک سے زیادہ دائروں کو بھرنے یا کاٹ کر بھرنے کی صورت میں مذکورہ جواب غلط تصور ہوگا۔ دائروں کو بھرنے کی صورت میں کوئی نمبر نہیں دیا جائے گا۔ اس سوالیہ پرچہ پر

Note: you have four choices for each objective type question as A, B, C and D. The choice which you think is correct, fill that bubble in front of that question number. On bubble sheet, use marker or pen to fill the bubbles. Cutting or filling two or more bubbles will result in zero mark in that question. Attempt as many questions as given in objective type question paper and leave others blank. No credit will be awarded in case BUBBLES are not filled. Do not solve questions on this sheet of OBJECTIVE PAPER.

Q.No.1

سوال نمبر 1-

- (1) Allah Almighty ordered to get help from act of:-
 (A) Rozah روزہ (B) Zakat زکوٰۃ (C) Pilgrimage حج (D) Namaz & Patience نماز اور صبر وہ ہے۔
- (2) The reason of superiority of Hazrat Adam(A.S) over angels was:-
 (A) Knowledge علم (B) Piousness پرہیزگاری (C) Physical strength جسمانی طاقت (D) Beauty خوبصورتی حضرت آدمؑ کی فرشتوں پر برتری کا سبب تھا۔
- (3) "نَصَارَى" means:-
 (A) Ansaar انصار (B) Muhajreen مہاجرین (C) Jews یہود (D) Christians عیسائی "نَصَارَى" سے مراد ہے۔
- (4) Allah Almighty announced the leader of humanity, that Prophet was:-
 (A) Hazrat Ibrahim(A.S) حضرت ابراہیمؑ (B) Hazrat Adam(A.S) حضرت آدمؑ (C) Hazrat Nooh(A.S) حضرت نوحؑ (D) Hazrat Yousaf(A.S) حضرت یوسفؑ اللہ تعالیٰ نے جس پیغمبر کو لوگوں کا امام بنانے کا اعلان کیا وہ تھے۔
- (5) The Muslims continued to offer their Namaz towards Bait-ul-Maqdas after migration for:-
 (A) 17 months (B) 18 months (C) 19 months (D) 20 months ہجرت کے بعد مسلمان بیت المقدس کی طرف منہ کر کے نماز پڑھتے رہے۔
- (6) The number of the books, called Seah-e-Sittah (صحاح ستہ) is:-
 (A) Three تین (B) Four چار (C) Five پانچ (D) Six چھ جن کتب کو صحاح ستہ کہا جاتا ہے ان کی تعداد ہے۔
- (7) The literal meaning of Hadith is:-
 (A) Conversation گفتگو (B) Action عمل (C) Sannat سنت (D) Agreement معاہدہ حدیث کے لغوی معنی ہیں۔
- (8) The pillars of Islam are:-
 (A) Two دو (B) Three تین (C) Four چار (D) Five پانچ ارکان اسلام کی تعداد ہے۔
- (9) Hadith that is found in Bukhari and Muslim is called:-
 (A) Sahih Hadith صحیح حدیث (B) Matwatar Hadith متواتر حدیث (C) Gharib Hadith غریب حدیث (D) Muttafiq Alaih Hadith متفق علیہ حدیث جو حدیث صحیح بخاری و صحیح مسلم میں ہو، اسے اصطلاح میں صحیح حدیث کہتے ہیں۔
- (10) The servant of Rasool was:-
 (A) Hazrat Anas bin Malik(R.A) حضرت انس بن مالکؓ (B) Hazrat Abdullah bin Masood(R.A) حضرت عبداللہ بن مسعودؓ (C) Hazrat Abdullah bin Umar(R.A) حضرت عبداللہ بن عمرؓ (D) Hazrat Abdullah bin Abbas(R.S) حضرت عبداللہ بن عباسؓ خادم رسولؐ تھے۔
- (11) Man must give up, according to Hadith:-
 (A) Put you in doubt جو شک میں ڈالے (B) Borrowing جو ادھار ہو (C) The best جو بہترین ہو (D) Good talk اچھی گفتگو فرمان رسولؐ کے مطابق انسان وہ چیز چھوڑ دے۔
- (12) Allah Almighty made Haram upon Himself as in Hadith-e-Qudsi:-
 (A) Cruelty ظلم (B) Mercy رحم (C) Pardon درگزر (D) Accountability حساب و کتاب حدیث قدسی میں ہے کہ اللہ تعالیٰ نے اپنے اوپر حرام کر لیا ہے۔
- (13) Bid to increase price is:-
 (A) Valid جائز ہے (B) Invalid ناجائز ہے (C) Virtue نیکی ہے (D) Coordination تعاون ہے قیمت بڑھانے کے لیے بولی دینا۔
- (14) "لَا تَضْرِبْ" is:-
 (A) Amar فعل امر (B) Past فعل ماضی (C) Nahi فعل نہی (D) Muzara فعل مضارع "لَا تَضْرِبْ" ہے۔
- (15) According to an Arabic grammar "مُفْلِحُونَ" is:-
 (A) Singular واحد (B) Twice تثنیہ (C) Plural جمع (D) Murakab مرکب عربی گرامر کے اعتبار سے "مُفْلِحُونَ" ہے۔
- (16) The kinds of revelation are:-
 (A) One ایک (B) Two دو (C) Three تین (D) Four چار وحی کی اقسام ہیں۔
- (17) The Holy Quran was compiled on the order of Hazrat Abu Bakr(R.A) by:-
 (A) Hazrat Abi bin Ka'ab(R.A) حضرت ابی بن کعبؓ نے (B) Hazrat Zaid bin Sabit(R.A) حضرت زید بن ثابتؓ نے (C) Hazrat Zaid bin Haritha(R.A) حضرت زید بن حارثہؓ نے (D) Hazrat Saad bin Aas(R.A) حضرت سعد بن عاصؓ نے حضرت ابوبکرؓ کے حکم سے قرآن مجید جمع کیا۔
- (18) The meanign of "صَلْصَلَةُ الْجَرَسِ" is:-
 (A) Signal اشارہ (B) Voice of bell گھنٹی کی آواز (C) To converse ہم کلام ہونا (D) Gossip چپکے سے بات کرنا "صَلْصَلَةُ الْجَرَسِ" کا معنی ہے۔
- (19) "فَتْرَةُ الْوَحْيِ" means:-
 (A) Last Revelation آخری وحی (B) First Revelation پہلی وحی (C) Long Revelation طویل وحی (D) Break in Revelation وقفہ وحی میں وقفہ "فَتْرَةُ الْوَحْيِ" سے مراد ہے۔
- (20) The people who take asposty in lieu of guidance:-
 (A) Non-believers کافر (B) Hypocrites منافق (C) Lazy کابل (D) Cunnings شاطر ہدایت کے بدلے گمراہی خریدنے والے لوگ ہیں۔

انٹرمیڈیٹ امتحان پارٹ - II (کلاس بارہویں)

PRINCIPLES OF ACCOUNTING PAPER-II (COMMERCE GROUP) (دوسرا (کامرس گروپ) پرچہ - اولڈ سکیم)

TIME ALLOWED: 2.10 Hours

وقت = 2.10 گھنٹے

MAXIMUM MARKS: 60

SUBJECTIVE حصہ انشائیہ

کل نمبر = 60

NOTE: - Write same question number and its part number on answer book, as given in the question paper. - نوٹ۔ جوابی کاپی پر وہی سوال نمبر اور جزو نمبر درج کیجیے جو کہ سوالیہ پرچے میں درج ہے۔

SECTION-I حصہ اول**2. Attempt any six parts.**

12 = 2 x 6

- What is meant by Single Entry System?
- What is Opening Statement of affairs?
- What is Additional Capital?
- What is meant by Quasi Single Entry Account System?
- What is meant by Consignment Account?
- What is meant by Account Sale?
- What is meant by Del- credere Commission?
- What is Abnormal loss?
- What is meant by Capital Reserve?

سوال نمبر 2۔ کوئی سے چھ اجزاء کے جوابات تحریر کیجیے۔

- سنگل انٹری سسٹم (ناکمل حساب نویسی) سے کیا مراد ہے؟
- ابتدائی گوشوارہ معاملات کسے کہتے ہیں؟
- زائد سرمایہ کسے کہتے ہیں؟
- کیسا سنگل انٹری اکاؤنٹنگ سسٹم سے کیا مراد ہے؟
- حساب مال مرسلہ سے کیا مراد ہے؟
- حساب فروخت سے کیا مراد ہے؟
- ڈیل کریڈیٹ کمیشن سے کیا مراد ہے؟
- غیر معمولی نقصان کسے کہتے ہیں؟
- کیپٹل ریزرو سے کیا مراد ہے؟

3. Attempt any six parts.

12 = 2 x 6

- Define Partnership?
- Who is Active Partner?
- What is Fixed Capital?
- Define Sacrificing Ratio?
- What is Revaluation Account?
- What is meant by Surplus in Non-Trading Concern?
- Define Life Membership Fee.
- What are the important sources of income of Non-Trading Concerns?
- What are the main objectives of Non-Trading Concerns?

سوال نمبر 3۔ کوئی سے چھ اجزاء کے جوابات تحریر کیجیے۔

- شراکت کی تعریف کریں۔
- مستعد حصہ دار کون ہوتا ہے؟
- مقرر سرمایہ کسے کہتے ہیں؟
- تناسب ثار کی تعریف کریں؟
- تخصیص اکاؤنٹ کیا ہوتا ہے؟
- غیر تجارتی ادارے میں وافر سے کیا مراد ہے؟
- تاحیات ممبر شپ فیس کی تعریف کریں۔
- غیر تجارتی اداروں کے اہم ذرائع آمدنی کیا ہیں؟
- غیر تجارتی اداروں کے قیام کے اہم مقاصد کیا ہیں؟

4. Attempt any six parts.

12 = 2 x 6

- What is meant by Subscribed Capital?
- What is meant by Market Value of Share?
- What is meant by Redeemable Debentures?
- Who are Directors?
- What is meant by Par Value of Shares?
- What is meant by Over Subscription?
- What is meant by Issue of Shares at Discount?
- What is meant by Internal Depreciation?
- What is meant by External Depreciation?

سوال نمبر 4۔ کوئی سے چھ اجزاء کے جوابات تحریر کیجیے۔

- وصول شدہ سرمایہ سے کیا مراد ہے؟
- حصص کی منڈی (مارکیٹ) کی قیمت سے کیا مراد ہے؟
- قابل واپسی تسکات سے کیا مراد ہے؟
- نظام کون لوگ ہوتے ہیں؟
- حصص کی اصل قیمت (مالیت کے برابر) سے کیا مراد ہے؟
- زائد وصول شدہ سرمایہ سے کیا مراد ہے؟
- حصص کے کٹوتی پر اجرت سے کیا مراد ہے؟
- اندرونی فرسودگی سے کیا مراد ہے؟
- بیرونی فرسودگی سے کیا مراد ہے؟

(ورق الٹئے)

SECTION-II حصہ دوم

نوٹ - کوئی سے تین سوالات کے جوابات تحریر کیجیے۔ 24 = 8 x 3
5۔ مسٹر اعجاز اپنی کتابیں سنگل انٹری سسٹم کے تحت بناتا ہے۔ 2017ء میں اس کے کاروبار کی حالت مندرجہ ذیل ہے۔

5. Mr. Ejaz keeps his books under single entry system. Following is the position of his business in 2017.

Particulars	31-12-2016	31-12-2017
Cash	1100	1400
Debtors	1500	1500
Creditors	1120	1190
Bill receivable	800	800
Bill payable	680	710
Stock	520	600
Building	2700	2700
Equipment	3800	3800

2017ء کے دوران اعجاز کی برداشتھی مبلغ 617 روپے جبکہ مبلغ 1200 روپے اضافی سرمایہ کے لگائے۔ آلات اور بلڈنگ پر فرسودگی 10% سالانہ کے حساب سے ہوگی۔
مطلوب:- گوشوارہ معاملات تیار کریں جو نفع و نقصان کو ظاہر کرے۔

During 2017 Ejaz withdrew cash for personal use Rs. 617 and invested additional capital Rs. 1200.

Depreciation on equipment and building @ 10%.

Required:- Prepare statement of affairs showing profit and loss during the year.

6۔ یکم اپریل 2015ء کو ایک تاجر نے مبلغ 250000 روپے سے پلانٹ اینڈ مشینری خریدی 25% سالانہ کے حساب سے فرسودگی کی پذیر بنایا کے طریقہ کے تحت چارج کرنے کا فیصلہ کیا اس بات کو مد نظر رکھتے ہوئے کہ کمپنی کے کھاتے 31 دسمبر کو ہر سال بند کر دیے جاتے ہیں۔ پہلے چار سال کے لیے پلانٹ اینڈ مشینری کا کھاتہ تیار کریں۔

6. On 1st April 2015 a merchant purchased a plant and machinery costing Rs. 250000. It has been decided to depreciate it at the rate of 25% per annum on the diminishing balance method by assuming that the accounts are closed on 31 December every year. Prepare plant and machinery account for first four years.

7۔ جاوید نے شاہد کو چینی کے 500 بیگ 30 روپے فی کس کے حساب سے مال مرسلہ کے طور پر بھیجا اور 250 روپے پیکنگ پر خرچ کیے۔ شاہد نے 400 بیگ 20000 روپے میں فروخت کیے شاہد نے گودام کا کرایہ 80 روپے ادا کیا۔ وہ فروخت پر 5% کمیشن اور 2% ڈیل کریڈٹ کمیشن کا حقدار ہے۔
مطلوب:- جاوید کی کتابوں میں انٹریاں بنائیں اور کنسائنمنٹ کا کھاتہ تیار کریں۔

7. Javed sent a consignment of 500 bags of sugar to Shahid at the cost of Rs.30 each and spent Rs. 250 on packing. Shahid sold 400 bags for Rs. 20000. Shahid paid godown rent Rs. 80. He is entitled to a commission of 5% and delcredere commission of 2% on sales.

Required:- Pass journal entries in the books of Javed & prepare consignment account.

8۔ عابد اور اشرف 3:1 کی شرح سے منافع میں شراکت دار تھے۔ انہوں نے اقبال کو منافع میں 1/5 حصہ کا شراکت دار بنایا جس نے 30000 روپے کا سرمایہ لگایا کاروباری ساکھ کی قیمت کا تعین چار سالہ منافع کی اوسط تین سالہ منافع کے برابر کیا گیا۔ چار سال کا منافع بالترتیب 15000 روپے، 12000 روپے، 18000 روپے اور 19000 روپے تھا۔ روزانہ چھ تیار کریں اور منافع کی نئی شرح معلوم کریں۔

8. Abid and Ashraf are partners sharing profit in the ratios of 3:1 they admit Iqbal as a partner who pays Rs. 30000 as capital for 1/5 share in profit. Goodwill is to be valued on 3 years profit of the average 4 years profit which were Rs.15000, Rs.12000, Rs.18000 and Rs.19000. Give journal entries and find new profit sharing ratio.

9۔ یعقوب لمیٹڈ پچاس لاکھ منظور شدہ سرمایہ رکھتی ہے۔ جس کو 50000 حصص بحساب 100 روپے میں تقسیم کیا ہے۔ کمپنی نے 20000 حصص 10 روپے پر پیچیم پر عوام کو جاری کیے۔ تمام حصص کی درخواستوں کو الاٹمنٹ کر دی گئی۔ روزانہ چھ اندراج کریں اور کمپنی کی بیلنس شیٹ تیار کریں۔

9. Yaqub Ltd. having an authorized capital of Rs.50,00,000 divided into 50000 shares of Rs. 100 each. Company issued 20000 shares to public at a premium of Rs. 10. All the shares were applied for and allotted. Pass journal entries and prepare balance sheet.

Paper Code

2018 (S)

رول نمبر

Number: 8701

انٹرمیڈیٹ امتحان پارٹ - II (کلاس بارہویں)

PRINCIPLES OF ACCOUNTING PAPER-II (COMMERCE GROUP) (دوسرا (کامرس گروپ) پرپل آف اکاؤنٹنگ پرچہ - اولڈ سکیم)

TIME ALLOWED: 20 Minutes

وقت = 20 منٹ

MAXIMUM MARKS: 15

OBJECTIVE حصہ معروضی

کل نمبر = 15

نوٹ - ہر سوال کے چار ممکنہ جوابات A, B, C اور D دیئے گئے ہیں۔ جوابی کاپی پر ہر سوال کے سامنے دیئے گئے دائروں میں سے درست جواب کے مطابق متعلقہ دائرہ کو مار کر یا پین سے بھر دیجئے۔ ایک سے زیادہ دائروں کو بھرنے یا کاٹ کر بھرنے کی صورت میں مذکورہ جواب غلط تصور ہوگا۔ دائروں کو بھرنے کی صورت میں کوئی نمبر نہیں دیا جائے گا۔ اس سوالیہ پرچہ پر

Note: you have four choices for each objective type question as A, B, C and D. The choice which you think is correct, fill that bubble in front of that question number. On bubble sheet, use marker or pen to fill the bubbles. Cutting or filling two or more bubbles will result in zero mark in that question. Attempt as many questions as given in objective type question paper and leave others blank. No credit will be awarded in case BUBBLES are not filled. Do not solve questions on this sheet of OBJECTIVE PAPER.

Q.No.1

سوال نمبر 1-

- (1) Company is registered under ordinance:-
(A) 1949ء (B) 1932ء (C) 1984ء (D) 1962ء
کمپنی آرڈیننس کے تحت رجسٹرڈ ہوتی ہے۔
- (2) Depletion is calculated on:-
(A) Car کار کی (B) Forest جنگل کی (C) Good will ساکھ کی (D) Machinery مشینری کی
ضیاع پذیری معلوم کی جاتی ہے۔
- (3) Consignor's account is:-
(A) Personal account شخصی حساب (B) Real account حقیقی حساب (C) Nominal account نمائشی حساب (D) Cash account حساب نقد
مرسل کا حساب ہوتا ہے۔
- (4) Consignee is:-
(A) A customer ایک گاہک (B) Owner مالک (C) An agent ایک دلال (D) Seller فروخت کار
مرسل الیہ ہوتا ہے۔
- (5) Maximum number of members in private limited company is:-
(A) 10 (B) 50 (C) 02 (D) 05
پرائیویٹ لمیٹڈ کمپنی میں زیادہ سے زیادہ حصہ دار ہوتے ہیں۔
- (6) Partnership is registered under law of:-
(A) 1984ء (B) 2001ء (C) 1925ء (D) 1932ء
شریکتی کاروبار کے قانون کے تحت رجسٹر ہوتا ہے۔
- (7) Depreciation on machinery will be credit to:-
(A) Depreciation فرسودگی (B) Cash نقدی (C) Machinery مشینری (D) Loss نقصان
مشینری پر فرسودگی لگائیں تو کریڈٹ ہوگی۔
- (8) Debenture holders are:-
(A) Customer گاہک (B) Creditors قرض خواہاں (C) Debtors مقروض (D) Owners مالکان
تمسکداران ہوتے ہیں۔
- (9) Debentures are:-
(A) Long term liability طویل ذمہ داری (B) Short term liability قلیل ذمہ داری (C) Long term assets مستقل اثاثہ جات (D) Current assets جاری اثاثہ جات
تمسکات ہوتے ہیں۔
- (10) Subscription received in advance is:-
(A) Liability ذمہ داری (B) Revenue مالیات (C) Expenses اخراجات (D) Assets اثاثہ جات
پیشگی وصول شدہ ہوتا ہے۔
- (11) Debenture are issued at:-
(A) Par value اصل مالیت (B) Discount کٹوتی پر (C) Premium منافع پر (D) All of these ان تمام پر
تمسکات جاری کیے جاتے ہیں۔
- (12) Object of partnership is:-
(A) Welfare فلاح (B) Earn profit منافع کمانا (C) For Govt. help حکومت کی معاونت (D) Not to earn profit منافع کمانے کے لیے نہیں
شراکت کا مقصد ہوتا ہے۔
- (13) Capital can be obtained:-
(A) Cash book کیش بک (B) Balance sheet گوشوارہ توازن (C) Sales account کھاتہ فروخت (D) Statement of affairs گوشوارہ معاملات
سرمایہ معلوم کیا جاتا ہے۔
- (14) A loss which is un- avoidable:-
(A) Normal loss معمولی نقصان (B) Abnormal loss غیر معمولی نقصان (C) Capital loss سرمایہ نقصان (D) Net loss خالص نقصان
نا قابل گریز نقصان ہوتا ہے۔
- (15) Depreciation can be treated:-
(A) Expenses خرچہ (B) Income آمدن (C) Loss نقصان (D) Liability ذمہ داری
فرسودگی سمجھی جاتی ہے۔

www.arifrao.com
BOARD OF INTERMEDIATE AND SECONDARY EDUCATION, MULTAN.
OBJECTIVE KEY FOR INTERMEDIATE ANNUAL/SUPPLY EXAMINATION, 2018

Name of Subject: Principles of Accounting II Session: 2017-18
 Group: 1st New Scheme Group: 2nd old Scheme

Q. Nos	Paper Code	Paper Code	Paper Code	Paper Code
	4701			
1	C			
2	D			
3	D			
4	C			
5	A			
6	A			
7	C			
8	C			
9	C			
10	B			
11	D			
12	D			
13	B			
14	B			
15	B			
16	C			
17	A			
18	C			
19	B			
20	B			

Q. Nos	Paper Code	Paper Code	Paper Code	Paper Code
	8701			
1	C			
2	B			
3	A			
4	C			
5	B			
6	D			
7	C			
8	B			
9	A			
10	A			
11	D			
12	B			
13	D			
14	A			
15	A			
16				
17				
18				
19				
20				

ہم نے مضمون دوسرے اسٹریٹجک کا دوسرا گروپ کامپلٹ اسکیم اولڈ / نیو انٹر سالانہ امتحان 2018 کا سوالیہ پرچہ انشائیہ و معروضی (Subjective & Objective) کو بنظر عین چیک کر لیا ہے یہ پرچہ Syllabus کے عین مطابق Set کیا گیا ہے۔ اس سوالیہ پرچہ میں کسی قسم کی کوئی غلطی نہ ہے۔ ہم نے سوالیہ پرچہ کا اردو اور انگریزی Version بھی چیک کر لیا ہے۔ یہ Version آپس میں مطابقت رکھتے ہیں اور Syllabus کے مطابق بھی ہیں۔ نیز اس پرچہ کی معروضی (MCQs) Key کی بابت بھی تصدیق کی جاتی ہے کہ اس میں بھی کسی قسم کی کوئی غلطی نہ ہے۔ MCQs کی "Key" کو دوبارہ بھی بغور چیک کر لیا گیا ہے۔ مزید یہ کہ ہم نے Key بنانے سے متعلق دفتر کی جانب سے تیار کردہ ہدایات وصول کر کے ان کا بغور مطالعہ کر لیا ہے اور ان کی روشنی میں Key بنائی ہے۔ نیز سب ایگزامینرز کیلئے تفصیلی ہدایات / مارکنگ اسکیم / Rubrics بھی تیار کر دی گئی ہیں۔

Prepared & Checked By:

S.#	Name	Designation	Institution	Mobile No	Signature
1)	Abou Talib Arshad	AP	Govt. College Civil Lines, Multan.	03346077312	Aluto
2)	M. Jamal Khalid	Principal	GHS: Aitran Pur, Multan	0300-7634183	Amir
3)	MUHAMMAD YOUNAS	S.S.	GHS: Qadir Pur Kan Multan.	0300-7378992	Amir

ہم نے مضمون دوسرے اسٹریٹجک کا دوسرا گروپ کامپلٹ اسکیم اولڈ / نیو انٹر سالانہ امتحان 2018 کا سوالیہ پرچہ انشائیہ و معروضی (Subjective & Objective) کو بنظر عین چیک کر لیا ہے یہ پرچہ Syllabus کے عین مطابق Set کیا گیا ہے۔ اس سوالیہ پرچہ میں کسی قسم کی کوئی غلطی نہ ہے۔ ہم نے سوالیہ پرچہ کا اردو اور انگریزی Version بھی چیک کر لیا ہے۔ یہ Version آپس میں مطابقت رکھتے ہیں اور Syllabus کے مطابق بھی ہیں۔ نیز اس پرچہ کی معروضی (MCQs) Key کی بابت بھی تصدیق کی جاتی ہے کہ اس میں بھی کسی قسم کی کوئی غلطی نہ ہے۔ MCQs کی "Key" کو دوبارہ بھی بغور چیک کر لیا گیا ہے۔ مزید یہ کہ ہم نے Key بنانے سے متعلق دفتر کی جانب سے تیار کردہ ہدایات وصول کر کے ان کا بغور مطالعہ کر لیا ہے اور ان کی روشنی میں Key بنائی ہے۔ نیز سب ایگزامینرز کیلئے تفصیلی ہدایات / مارکنگ اسکیم / Rubrics بھی تیار کر دی گئی ہیں۔

(08)

انٹرمیڈیٹ امتحان پارٹ - II (کلاس بارہویں)

PRINCIPLES OF ACCOUNTING PAPER-II (COMMERCE GROUP) (دوسرا (کامرس گروپ) (نئی اسکیم)
(NEW SCHEME)

TIME ALLOWED: 2.30 hours

وقت = 2.30 گھنٹے

MAXIMUM MARKS: 80

SUBJECTIVE حصہ انشائیہ

کل نمبر = 80

NOTE: - Write same question number and its part number on answer book, as given in the question paper. - نوٹ۔ جوابی کاپی پر وہی سوال نمبر اور جزو نمبر درج کیجیے جو کہ سوالیہ پرچے میں درج ہے۔

2. Attempt any five parts.

10 = 2 x 5

سوال نمبر 2۔ کوئی سے پانچ اجزاء کے جوابات تحریر کیجیے۔

- Who is Consignor?
- Define Del credere Commission.
- Define Statement of affairs.
- Which books are maintained under single entry system?
- Define Single Entry System.
- Define Partnership.
- Define Sacrifice Ratio.
- Define Sleeping Partner.

- مرسل کونسا شخص ہوتا ہے؟
- ذیل کریڈٹ ریکیشن کی تعریف لکھیے۔
- گوشوارہ معاملات کی تعریف لکھیے۔
- اکہرے نظام کے تحت کوئی کتابیں تیار کی جاتی ہیں؟
- اکہرے نظام کی تعریف بیان کیجیے۔
- شرکتی کاروبار کی تعریف لکھیے۔
- تناسب ثار کی تعریف لکھیے۔
- غیر مستعد حصہ دار کی تعریف لکھیے۔

3. Attempt any five parts.

10 = 2 x 5

سوال نمبر 3۔ کوئی سے پانچ اجزاء کے جوابات تحریر کیجیے۔

- Define Donation.
- Define Deficit.
- Define Statutory Company.
- Define Share holder.
- Define Debentures.
- Define Depletion.
- Write the formula of straight line method.
- Define Provision.

- عطیہ کی تعریف لکھیے۔
- خسارہ کی تعریف لکھیے۔
- آئینی کمپنی کی تعریف لکھیے۔
- شیرز ہولڈر کی تعریف لکھیے۔
- تمسکات کی تعریف لکھیے۔
- ذہلیشن کی تعریف لکھیے۔
- فرسودگی کے مقررہ قسط کے طریقہ کار مولا لکھیے۔
- پروویژن کی تعریف لکھیے۔

SECTION-II حصہ دوم

NOTE: - Attempt any three questions.

60 = 20 x 3

نوٹ۔ کوئی سے تین سوالات کے جوابات تحریر کیجیے۔

4. Mr. Karim is sole proprietor. He keeps his books under single entry system. His position on 1st Jan, 1993 and Dec. 31, 1993 is as follows.

Particulars	01-01-93 Rs.	31-12-93 Rs.
Creditors قرض خواہ	380	800
Bank O.D. بینک سے قرضہ	620	—
Inventory ذخیرہ	5000	600
Debtors مقروض	2040	7000
Plant پلانٹ	2960	—
Cash at bank بینک بیلنس	—	300
Furniture فرنیچر	—	6000

کریم کی برداشتھی 6000 روپے سالانہ ہے اور سال کے دوران 2000 روپے زائد سرمایہ متعارف کرایا۔ مطلوب:- سال کے دوران نفع و نقصان کا کھاتہ تیار کریں۔
Karim drawings during the year Rs.6000 & capital introduced during the year is Rs.2000.

Required:- prepare profit & loss account for the year.

پنجاب میونسپل لائبریری کا وصولیوں اور ادائیگیوں کا کھاتہ مندرجہ ذیل ہے جس کا تعلق 31 دسمبر 2017ء کو مکمل ہونے والے سال سے ہے۔

5. Following is the receipts and payments account of Punjab Municipal library for the year ended on 31st December 2017.

Receipts وصولیاں	Rs.	Payments ادائیگیاں	Rs.
Balance b/d ابتدائی بقایا	11638	Rent کرایہ	1336
Entrance Fee داخلہ فیس	1510	Salaries تنخواہیں	7900
Subscription چندہ	18200	Electricity Expenses بجلی کے اخراجات	1100
Sale of old furniture پرانے فرنیچر کی فروخت	15000	Books کتابیں	15000
		Furniture فرنیچر	8000
		Misc. Expenses متفرق اخراجات	1664
		Balance c/d اختتامی بقایا	11348
	46348		46348

(ورق الٹئے)

سال کے آغاز پر لائبریری کے پاس مبلغ 10000 روپے کی کتابیں تھیں۔ قابل وصول چندہ سال کے شروع میں مبلغ 500 روپے اور آخر میں مبلغ 700 روپے تھا۔ کتابوں کی فرسودگی مبلغ 2000 روپے اور فرنیچر کی فرسودگی مبلغ 500 روپے۔ لائبریری کا آمدنی و اخراجات کا کھاتہ تیار کریں۔

At the beginning of the year the library possessed books worth Rs.10000. Subscription in arrear at the beginning of the year amounted to Rs.500 and at the end of the year Rs.700. Depreciation of books by Rs.2000 and furniture Rs.500.

Prepare the income and expenditure account for the library.

مندرجہ ذیل تمسکات کی ہر معاملے میں انٹریاں درج کریں۔ (i) تمسکات کا اجراء 90 روپے پر اور قابل واپسی 100 روپے پر (ii) تمسکات کا اجراء 100 روپے پر اور قابل واپسی 110 روپے پر (iii) تمسکات کا اجراء 110 روپے پر اور قابل واپسی 100 روپے پر (iv) تمسکات کا اجراء 90 روپے پر اور قابل واپسی 110 روپے پر (v) تمسکات کا اجراء 100 روپے پر اور قابل واپسی 100 روپے پر۔ تمسکات کی ظاہری قیمت 100 روپے ہے۔

6. Pass the following entries of debentures in each case. (i) Debentures issued at Rs.90 and redeemable at Rs.100. (ii) Debentures issued at Rs. 100 and redeemable at Rs. 110. (iii) Debentures issued at Rs. 110 and redeemable at Rs.100. (iv) Debentures issued at Rs. 90 and redeemable at Rs.110. (v) Debentures issued at Rs. 100 and redeemable at Rs.100. Face value of debenture is Rs. 100.

7. A اور B نے یکم جنوری 2008 کو 30000 روپے اور 20000 روپے سرمایہ کے ساتھ کاروبار شروع کیا۔ معاہدے کے مطابق B کو تنخواہ 500 روپے ماہوار ملے گی۔ اور دونوں حصہ داروں کو سرمائے پر سود 6% سالانہ ملے گا۔ منافع کی تقسیم 5:3 کی نسبت سے ہوگی۔ سال کے دوران فرم نے 25000 روپے منافع کمایا۔ A نے 8000 روپے اور B نے 10000 روپے ذاتی استعمال کے لیے نکلوائے۔ نفع و نقصان کا کھاتہ بنائیں اور حصہ داروں کے سرمائے کا حساب بنائیں۔

7. A and B started business on 1st Jan.2008 with capital of Rs: 30000 and Rs: 20000 respectively. According to agreement B is entitled for salary of Rs: 500, per month, and interest on capital at 6% P.a. to both partners. The profit will be distributed in the ratio of 5:3. During 2008, the firm earned a profit of Rs. 25000. A withdrew Rs: 8000, and B withdrew Rs: 10000, for personal use. Prepare profit and loss account and partners capital accounts.

8. ایک کمپنی نے سیکنڈ ہینڈ مشینیں 8000 روپے میں مورخہ یکم اپریل 1988 کو خریدی جس کو ٹھیک کرنے اور لگانے کا خرچہ 3500 روپے آیا۔ جس پر 10% مقررہ قسط کے طریقے سے فرسودگی نکالی جائے گی۔ 30 جون 1991 کو پتہ چلا کہ مشین موزوں نہیں ہے لہذا اسے مبلغ 6500 روپے میں فروخت کر دیا گیا۔ مشین کا کھاتہ 1988ء سے 1991ء تک بنائیں۔ یہ فرض کرتے ہوئے کہ کھاتہ ہر سال 31 دسمبر کو بند ہوتا رہا۔

8. A company purchased a second hand machine for Rs. 8000 on 1st April 1988. They spent Rs.3500 on its overhaul and installation. Depreciation is written off at 10% on the original cost, On 30th June 1991 machine was found to be unsuitable and sold for Rs. 6500. Prepare machine account from 1988 to 1991. Assuming that the accounts are closed in 31st Dec. of every year.

9. مصطفیٰ اینڈ کمپنی لمیٹڈ 4000000 روپے کے سرمایہ سے عام حصص بحساب مبلغ 100 روپے فی حصص کے ساتھ معرض وجود میں آئی۔ کمپنی نے یکم اپریل 2016ء کو 20000 عام حصص جن کی اصل قیمت مبلغ 100 روپے فی حصص ہے۔ 10% رعایتی قیمت پر جاری کرنے کے لیے درخواستیں طلب کیں۔ 30 اپریل 2016ء کو 24000 حصص کے لیے درخواستیں موصول ہوئیں۔ 4000 درخواستوں کی رقم واپس کر دی گئی۔ اور 20000 حصص جاری کر دیے گئے۔ مطلوب:- ضروری جرنل انٹریاں لکھیں اور کمپنی کی بیلنس شیٹ تیار کریں۔

9. Mustafa and Co. Ltd. was formed with authorized capital of Rs. 4000000/- divided into 40000. Common shares of Rs. 100 each. On 1st April 2016, the company invited applications for the sale of 20000 shares of Rs.100 each at discounted rate of 10%. On 30th April 2016, applications for 24000 shares were received. Application money for 4000 shares was refunded and 20000 shares were allotted to applicants. Required:- Pass necessary journal entries and balance sheet of the company.

Paper Code

2018 (S)

رول نمبر

Number: 4701

انٹرمیڈیٹ امتحان پارٹ - II (کلاس بارہویں)

پرنسپل آف اکاؤنٹنگ پرچہ - دوسرا (کامرس گروپ) PRINCIPLES OF ACCOUNTING PAPER-II (COMMERCE GROUP) (NEW SCHEME) (نئی سکیم)

TIME ALLOWED: 30 Minutes

وقت = 30 منٹ

MAXIMUM MARKS: 20

حصہ معروضی OBJECTIVE

کل نمبر = 20

نوٹ - ہر سوال کے چار ممکنہ جوابات A, B, C اور D دیئے گئے ہیں۔ جوابی کاپی پر ہر سوال کے سامنے دیئے گئے دائروں میں سے درست جواب کے مطابق متعلقہ دائرہ کو مار کر یا پین سے بھر دیجئے۔ ایک سے زیادہ دائروں کو بھر کر یا کٹ کر پُر کرنے کی صورت میں مذکورہ جواب غلط تصور ہوگا۔ دائروں کو پُر نہ کرنے کی صورت میں کوئی نمبر نہیں دیا جائے گا۔ اس سوالیہ پرچہ پر سوالات ہر گز حل نہ کریں۔

Note: you have four choices for each objective type question as A, B, C and D. The choice which you think is correct, fill that bubble in front of that question number. On bubble sheet, use marker or pen to fill the bubbles. Cutting or filling two or more bubbles will result in zero mark in that question. Attempt as many questions as given in objective type question paper and leave others blank. No credit will be awarded in case BUBBLES are not filled. Do not solve questions on this sheet of OBJECTIVE PAPER.

Q.No.1

سوال نمبر 1-

- (1) Double entry system means:- (1) دہرے اندراج کے نظام سے مراد ہے۔
 (A) Recording of the same transaction twice ایک ہی چیز کا دو دفعہ اندراج (B) Double accounting دہری حسابداری
 (C) Two sides of every transaction are recorded دو تارینوں کو اندراج (D) Entry at two dates ہر لین دین کی دونوں سائیڈوں کا اندراج
- (2) Single entry system cannot be adopted by:- (2) اکہرے اندراج کا نظام نہیں اپناتے ہیں۔
 (A) Sole proprietorship واحد ملکیتی ادارے (B) Partnership شراکتی ادارے
 (C) Cooperative society انجمن امداد یا ہمی (D) Joint stock company مشترکہ سرمائے کی کمپنی
- (3) Non-profit making organization _____ (3) غیر تجارتی ادارے _____
 (A) By goods چیزیں خریدتے ہیں (B) Manufacture goods چیزیں بناتے ہیں
 (C) Sell goods چیزیں بیچتے ہیں (D) None of these ان میں سے کوئی نہیں
- (4) Non-profit concerns prepare:- (4) غیر تجارتی ادارے تیار کرتے ہیں۔
 (A) Manufacturing account مینوفیکچرنگ اکاؤنٹ (B) Trading account تجارتی اکاؤنٹ
 (C) Income & expenditure account نفع و نقصان کا حساب (D) Profit & loss account نفع و نقصان کا حساب
- (5) The amount received by the concern as per will is called:- (5) ادارے کو وصیت کے مطابق ملنے والی رقم کہلاتی ہے۔
 (A) Legacy ترکہ (B) Donation عطیہ (C) Subscription چندہ (D) Income آمدنی
- (6) Subscription received relating to the current year is called:- (6) موجودہ سال کے متعلق وصول ہونے والا چندہ کہلاتا ہے۔
 (A) An income آمدنی (B) An expense خرچہ (C) An asset اثاثہ (D) A liability ذمے داری
- (7) The consignor is:- (7) کنسائزر ہوتا ہے۔
 (A) Drawee ڈرائی (B) Agent ایجنٹ (C) Principal مالک (D) Debtor مقروض
- (8) The person to whom the goods are sent, is called:- (8) وہ شخص جسے چیزیں بھیجی جاتی ہیں کہلاتا ہے۔
 (A) Principal مالک (B) Consignor کنسائزر (C) Consignee کنسائنی (D) Receiver وصول کرنے والا
- (9) The act of sending goods by owner to his agent for sale is called:- (9) چیزیں بھیجنے کا عمل مالک سے ایجنٹ کو بیچنے کی غرض سے کہلاتا ہے۔
 (A) Sales فروخت (B) Purchases خرید (C) Consignment کنسائمنٹ (D) Partnership شراکت
- (10) The partnership act is:- (10) شراکتی ایکٹ ہے۔
 (A) 1912ء (B) 1932ء (C) 1962ء (D) 1913ء
- (11) A partner has the right to:- (11) حصہ دار کو حق حاصل ہے۔
 (A) Take part in business کاروبار میں حصہ لینے کا (B) Inspect the accounts حسابات کے معائنہ کا
 (C) Share the profit نفع میں شراکت کا (D) All of these یہ سب
 (ورق الٹئے)

(2)

- (12) In the absence of an agreement, interest on loan by a partner to the firm is allowed @:-
 (A) 5% (B) 7% (C) 10% (D) 6%
 معاہدہ کی غیر موجودگی میں حصہ دار کو شراکت کو دیئے گئے قرضہ پر اس شرح پر سود دیا جاتا ہے۔ (12)
- (13) Depreciation is:-
 (A) Capital (B) Expense (C) Liability (D) Revenue
 فرسودگی ہے۔ (13)
- (14) Decline in the value proportionate to the quantum of production e.g. mine etc is called:-
 (A) Amortization (B) Depletion (C) Depreciation (D) Wear & tear
 کان وغیرہ کی مالیت میں پیداوار کے تناسب سے کمی کو کہتے ہیں۔ (14)
- (15) Depreciation of an asset should not exceed:-
 (A) Original cost (B) Depreciable value (C) Market price (D) Scrap value
 اثاثے کی فرسودگی _____ سے نہیں بڑھنی چاہیے۔ (15)
- (16) Joint stock company is formed under:-
 (A) Finance society act 1913 (B) Partnership act 1932 (C) Companies ordinance 1984 (D) Common carrier act 1865
 مشترکہ سرمایے کی کمپنی _____ کے تحت بنائی جاتی ہے۔ (16)
- (17) It is an artificial person recognised by law:-
 (A) Joint stock company (B) Sole proprietorship (C) Both A & B (D) Non of these
 یہ قانون کا تسلیم شدہ ایک فرضی شخص ہوتا ہے۔ (17)
- (18) Official signature of the company:-
 (A) Prospectus (B) Partnership deed (C) Company seal (D) Memorandum of association
 کمپنی کے سرکاری دستخط ہوتے ہیں۔ (18)
- (19) Company which can be formed by at least two members is called:-
 (A) Public limited company (B) Private limited company (C) Single member company (D) Partnership
 وہ کمپنی جس کے بنانے کے لیے کم از کم دو ممبران کی ضرورت ہو کہلاتی ہے۔ (19)
- (20) Company which can be formed by at least seven members is called:-
 (A) Private company (B) Public company (C) Cooperative society (D) Partnership
 وہ کمپنی جس کے بنانے کے لیے کم از کم سات ممبران ہونا ضروری ہیں۔ (20)

BOARD OF INTERMEDIATE AND SECONDARY EDUCATION, MULTAN
OBJECTIVE KEY FOR INTERMEDIATE ANNUAL/SUPPLY EXAMINATION, 2018

Name of Subject: BIOLOGY

Session: _____

Group: 1st New scheme

Group: 2nd old scheme

Q. Nos	Paper Code 4461	Paper Code 4463	Paper Code 4465	Paper Code 4467
1	C	A	A	C
2	C	C	A	B
3	D	B	A	A
4	C	B	A	A
5	B	C	C	A
6	A	D	B	A
7	A	A	B	A
8	A	C	C	C
9	A	C	D	B
10	A	C	A	B
11	C	D	C	C
12	B	C	C	D
13	B	B	C	A
14	C	A	D	C
15	D	A	C	C
16	A	A	B	C
17	C	A	A	D
18	/	/	/	/
19	/	/	/	/
20	/	/	/	/

Q. Nos	Paper Code 8461	Paper Code 8463	Paper Code 8465	Paper Code 8467
1	C	B	B	B
2	B	C	B	D
3	D	D	A	A
4	A	C	A	B
5	B	B	B	B
6	D	D	D	A
7	A	A	B	A
8	B	B	B	B
9	B	D	C	D
10	A	A	D	B
11	A	B	C	B
12	B	B	B	C
13	D	A	D	D
14	B	A	A	C
15	B	B	B	B
16	C	D	D	D
17	D	B	A	A
18	/	/	/	/
19	/	/	/	/
20	/	/	/	/

سرٹیفکیٹ بابت صحیح سوالیہ پرچہ امارکنگ Key

ہم نے مضمون بیالوجی پرچہ گروپ سکیم نمبر 18/19 انٹرمیڈیٹ/انٹرسلائیڈ امتحان 2018 کا سوالیہ پرچہ (Subjective & Objective) کو بنظر عمیق چیک کر لیا ہے یہ پرچہ Syllabus کے عین مطابق Set کیا گیا ہے۔ اس سوالیہ پرچہ میں کسی قسم کی کوئی غلطی نہ ہے۔ ہم نے سوالیہ پرچہ کا اردو اور انگریزی Version بھی چیک کر لیا ہے۔ یہ Version آپس میں مطابقت رکھتے ہیں۔ نیز اس پرچہ کی معروضی (MCQs) Key کی بابت تصدیق کی جاتی ہے کہ اس میں بھی کسی قسم کی کوئی غلطی نہ ہے۔ مزید یہ کہ ہم نے Key بنانے سے متعلق دفتر کی جانب سے تیار کردہ ہدایات وصول کر کے ان کا بغور مطالعہ کر لیا ہے اور ان کی روشنی میں Key بنائی ہے۔ نیز سب ایگزامینرز کیلئے تفصیلی مارکنگ ہدایات/مارکنگ سکیم/Rubrics بھی تیار کر دی گئی ہیں۔

Prepared & Checked By:

Dated: 26-10-18

S.#	Name	Designation	Institution	Mobile No	Signature
1	M. Rafiq Abdullah	Associate Prof	Govt. College Burewala	0300-6991886	Rafiq
2	Tariz Mahmood	AP	Govt. Millat College Multan	03006361448	Tariz
3	Mohammad Afzal	Associate Prof.	Govt. P/G Khanewal	03006896992	M Afzal

ہم نے اس پرچہ (انشائیہ + معروضی) معروضی "Key" اور ہدایات کے حوالہ سے مکمل طور پر سلی کر لی ہے۔ کسی قسم کی کوئی غلطی نہ ہے۔

Re-Checked By	Name	Designation	Institution	Mobile No	Signature
1	Tanvir Aslam	A.P	Govt. College Civil Lines Multan	03017443020	Tanvir
2	Dr. M. Riaz	A.P	Govt. Millat Degree College, Multan	0300-7356740	M Riaz
3					

2018 (S)

Roll No: _____

INTERMEDIATE PART-II (12th CLASS)**BIOLOGY PAPER-II (NEW SCHEME)**

TIME ALLOWED: 2.40 Hours

SUBJECTIVE

MAXIMUM MARKS: 68

NOTE: - Write same question number and its part number on answer book, as given in the question paper.**SECTION-I**

2. **Attempt any eight parts.** **8 × 2 = 16**
- (i) Define Anhydrobiosis.
 - (ii) What is Uremia? Give its treatment.
 - (iii) What are Malpighian Tubules?
 - (iv) Give disadvantages of Exoskeleton.
 - (v) What are the causes of Tetanus?
 - (vi) Differentiate between Epinasty and hyponasty.
 - (vii) What is Genital Herpes?
 - (viii) What is meant by fruit set?
 - (ix) Define productivity of an ecosystem.
 - (x) What is Climate?
 - (xi) What is stone cancer?
 - (xii) What are effluents?
3. **Attempt any eight parts.** **8 × 2 = 16**
- (i) Differentiate instinctive behaviour from learning behaviour.
 - (ii) Give four similarities between nervous and chemical coordination.
 - (iii) What are Androgens?
 - (iv) Compare sex limited and sex influenced traits.
 - (v) Give the significance of test cross.
 - (vi) How partial dominance is inherited?
 - (vii) Define genomic library.
 - (viii) What are restriction enzymes? Give one example.
 - (ix) What are transgenic organisms? How they are produced?
 - (x) Define biogeochemical cycle. Give one example.
 - (xi) Define food chain.
 - (xii) What do you mean by the term niche?
4. **Attempt any six parts.** **6 × 2 = 12**
- (i) Differentiate between Primary growth and Secondary growth.
 - (ii) Differentiate between epiblast and hypoblast.
 - (iii) What is heterochromatin and euchromatin.
 - (iv) What is translation?
 - (v) What is meant by Karyotype of a cell?
 - (vi) Give causes and symptom of Down's syndrome.
 - (vii) What is Diakinesis?
 - (viii) Write about endosymbiont hypothesis.
 - (ix) Differentiate between endangered and extinct species.

SECTION-II

- NOTE: - Attempt any three questions.** **3 × 8 = 24**
- 5.(a) Discuss the excretion in plants. 4
- (b) Explain nitrogen cycle. 4
- 6.(a) Describe Ultrastructure of Myofilament. 4
- (b) Describe one gene one polypeptide hypothesis. 4
- 7.(a) Write a note on autonomic nervous system. 4
- (b) What are multiple alleles? Describe ABO blood group. 4
- 8.(a) Describe various sexually transmitted diseases (STD) and their control. 4
- (b) Explain in detail Mendel's Law of independent assortment. 4
- 9.(a) Describe the phenomenon of regeneration by giving examples. 4
- (b) Describe inheritance of acquired characteristics. 4

Paper Code

2018 (S)

Roll No. _____

Number:

4461

INTERMEDIATE PART-II (12th CLASS)**BIOLOGY PAPER-II (NEW SCHEME)**

TIME ALLOWED: 20 Minutes

OBJECTIVE

MAXIMUM MARKS: 17

Note: You have four choices for each objective type question as A, B, C and D. The choice which you think is correct, fill that bubble in front of that question number. Use marker or pen to fill the bubbles. Cutting or filling two or more bubbles will result in zero mark in that question. Attempt as many questions as given in objective type question paper and leave others blank. No credit will be awarded in case BUBBLES are not filled. Do not solve questions on this sheet of OBJECTIVE PAPER.

Q.No.1

- (1) Malpighian tubules are excretory organs found in:-
 (A) Vertebrates (B) Flatworms (C) Insects (D) Annelids
- (2) Animals excreting urea are called:-
 (A) Excretotelic (B) Ammotelic (C) Ureotelic (D) Uricotelic
- (3) In human thoracic region, number of vertebrae is:-
 (A) 7 (B) 5 (C) 4 (D) 12
- (4) The living cells of cartilage are called:-
 (A) Osteoblasts (B) Osteocytes (C) Chondrocytes (D) Osteoclasts
- (5) The largest part of human brain is:-
 (A) Cerebellum (B) Cerebrum (C) Medulla (D) Thalamus
- (6) Oviduct opens into:-
 (A) Uterus (B) Vagina (C) Ovary (D) Urethra
- (7) In honey bee male, sperms are produced by:-
 (A) Mitosis (B) Meiosis (C) Parthenogenesis (D) Binary fission
- (8) Neural plate is formed by:-
 (A) Ectoderm (B) Endoderm (C) Mesoderm (D) Archenteron
- (9) The replication of DNA always occurs from:-
 (A) 5' - 3' (B) 3' - 5' (C) 35' - 90' (D) 10' - 25'
- (10) Cell death due to tissue damage is called:-
 (A) Necrosis (B) Apoptosis (C) Blastosis (D) Diakinesis
- (11) Separation of homologous chromosomes occur during:-
 (A) Prophase I (B) Metaphase II (C) Anaphase I (D) Telophase I
- (12) White eyed mutant drosophila was first time noted by:-
 (A) T.H. Morgan (B) Calvin Bridges (C) Correns (D) W.S. Sutton
- (13) In the recombinant DNA technology, plasmids are used as:-
 (A) Genetic material (B) Vectors (C) Enzymes (D) Probes
- (14) Endosymbiont hypothesis explains origin of:-
 (A) Cell (B) Prokaryotic cell (C) Eukaryotic cell (D) Ribosomes
- (15) Study of single population's relationship to environment is called as:-
 (A) Ecology (B) Gerontology (C) Synecology (D) Autecology
- (16) The productivity of ecosystem is indicated by:-
 (A) Consumption of CO_2 (B) Evolution of CO_2 (C) Consumption of O_2 (D) Evolution of N_2
- (17) The thin layer of atmosphere in which all living organisms exist is called:-
 (A) Biome (B) Ozone (C) Biosphere (D) Habitat

Paper Code

Number:

4463

2018 (S)

Roll No. _____

INTERMEDIATE PART-II (12th CLASS)

BIOLOGY PAPER-II (NEW SCHEME)

TIME ALLOWED: 20 Minutes

OBJECTIVE

MAXIMUM MARKS: 17

Note: You have four choices for each objective type question as A, B, C and D. The choice which you think is correct, fill that bubble in front of that question number. Use marker or pen to fill the bubbles. Cutting or filling two or more bubbles will result in zero mark in that question. Attempt as many questions as given in objective type question paper and leave others blank. No credit will be awarded in case BUBBLES are not filled. Do not solve questions on this sheet of OBJECTIVE PAPER.

Q.No.1

- (1) Cell death due to tissue damage is called:-
(A) Necrosis (B) Apoptosis (C) Blastosis (D) Diakinesis
- (2) Separation of homologous chromosomes occur during:-
(A) Prophase I (B) Metaphase II (C) Anaphase I (D) Telophase I
- (3) White eyed mutant drosophila was first time noted by:-
(A) T.H. Morgan (B) Calvin Bridges (C) Correns (D) W.S. Sutton
- (4) In the recombinant DNA technology, plasmids are used as:-
(A) Genetic material (B) Vectors (C) Enzymes (D) Probes
- (5) Endosymbiont hypothesis explains origin of:-
(A) Cell (B) Prokaryotic cell (C) Eukaryotic cell (D) Ribosomes
- (6) Study of single population's relationship to environment is called as:-
(A) Ecology (B) Gerontology (C) Synecology (D) Autecology
- (7) The productivity of ecosystem is indicated by:-
(A) Consumption of CO_2 (B) Evolution of CO_2 (C) Consumption of O_2 (D) Evolution of N_2
- (8) The thin layer of atmosphere in which all living organisms exist is called:-
(A) Biome (B) Ozone (C) Biosphere (D) Habitat
- (9) Malpighian tubules are excretory organs found in:-
(A) Vertebrates (B) Flatworms (C) Insects (D) Annelids
- (10) Animals excreting urea are called:-
(A) Excretotelic (B) Ammotelic (C) Ureotelic (D) Uricotelic
- (11) In human thoracic region, number of vertebrae is:-
(A) 7 (B) 5 (C) 4 (D) 12
- (12) The living cells of cartilage are called:-
(A) Osteoblasts (B) Osteocytes (C) Chondrocytes (D) Osteoclasts
- (13) The largest part of human brain is:-
(A) Cerebellum (B) Cerebrum (C) Medulla (D) Thalamus
- (14) Oviduct opens into:-
(A) Uterus (B) Vagina (C) Ovary (D) Urethra
- (15) In honey bee male, sperms are produced by:-
(A) Mitosis (B) Meiosis (C) Parthenogenesis (D) Binary fission
- (16) Neural plate is formed by:-
(A) Ectoderm (B) Endoderm (C) Mesoderm (D) Archenteron
- (17) The replication of DNA always occurs from:-
(A) 5' - 3' (B) 3' - 5' (C) 35' - 90' (D) 10' - 25'

Paper Code

Number:

4465

2018 (S)

Roll No. _____

INTERMEDIATE PART-II (12th CLASS)

BIOLOGY PAPER-II (NEW SCHEME)

TIME ALLOWED: 20 Minutes

OBJECTIVE

MAXIMUM MARKS: 17

Note: You have four choices for each objective type question as A, B, C and D. The choice which you think is correct, fill that bubble in front of that question number. Use marker or pen to fill the bubbles. Cutting or filling two or more bubbles will result in zero mark in that question. Attempt as many questions as given in objective type question paper and leave others blank. No credit will be awarded in case BUBBLES are not filled. Do not solve questions on this sheet of OBJECTIVE PAPER.

Q.No.1

- (1) In honey bee male, sperms are produced by:-
(A) Mitosis (B) Meiosis (C) Parthenogenesis (D) Binary fission
- (2) Neural plate is formed by:-
(A) Ectoderm (B) Endoderm (C) Mesoderm (D) Archenteron
- (3) The replication of DNA always occurs from:-
(A) 5' - 3' (B) 3' - 5' (C) 35' - 90' (D) 10' - 25'
- (4) Cell death due to tissue damage is called:-
(A) Necrosis (B) Apoptosis (C) Blastosis (D) Diakinesis
- (5) Separation of homologous chromosomes occur during:-
(A) Prophase I (B) Metaphase II (C) Anaphase I (D) Telophase I
- (6) White eyed mutant drosophila was first time noted by:-
(A) T.H. Morgan (B) Calvin Bridges (C) Correns (D) W.S. Sutton
- (7) In the recombinant DNA technology, plasmids are used as:-
(A) Genetic material (B) Vectors (C) Enzymes (D) Probes
- (8) Endosymbiont hypothesis explains origin of:-
(A) Cell (B) Prokaryotic cell (C) Eukaryotic cell (D) Ribosomes
- (9) Study of single population's relationship to environment is called as:-
(A) Ecology (B) Gerontology (C) Synecology (D) Autecology
- (10) The productivity of ecosystem is indicated by:-
(A) Consumption of CO_2 (B) Evolution of CO_2 (C) Consumption of O_2 (D) Evolution of N_2
- (11) The thin layer of atmosphere in which all living organisms exist is called:-
(A) Biome (B) Ozone (C) Biosphere (D) Habitat
- (12) Malpighian tubules are excretory organs found in:-
(A) Vertebrates (B) Flatworms (C) Insects (D) Annelids
- (13) Animals excreting urea are called:-
(A) Excretotelic (B) Ammotelic (C) Ureotelic (D) Uricotelic
- (14) In human thoracic region, number of vertebrae is:-
(A) 7 (B) 5 (C) 4 (D) 12
- (15) The living cells of cartilage are called:-
(A) Osteoblasts (B) Osteocytes (C) Chondrocytes (D) Osteoclasts
- (16) The largest part of human brain is:-
(A) Cerebellum (B) Cerebrum (C) Medulla (D) Thalamus
- (17) Oviduct opens into:-
(A) Uterus (B) Vagina (C) Ovary (D) Urethra

INTERMEDIATE PART-II (12th CLASS)

BIOLOGY PAPER-II (NEW SCHEME)

TIME ALLOWED: 20 Minutes

OBJECTIVE

MAXIMUM MARKS: 17

Note: You have four choices for each objective type question as A, B, C and D. The choice which you think is correct, fill that bubble in front of that question number. Use marker or pen to fill the bubbles. Cutting or filling two or more bubbles will result in zero mark in that question. Attempt as many questions as given in objective type question paper and leave others blank. No credit will be awarded in case BUBBLES are not filled. Do not solve questions on this sheet of OBJECTIVE PAPER.

Q.No.1

- (1) The living cells of cartilage are called:-
(A) Osteoblasts (B) Osteocytes (C) Chondrocytes (D) Osteoclasts
- (2) The largest part of human brain is:-
(A) Cerebellum (B) Cerebrum (C) Medulla (D) Thalamus
- (3) Oviduct opens into:-
(A) Uterus (B) Vagina (C) Ovary (D) Urethra
- (4) In honey bee male, sperms are produced by:-
(A) Mitosis (B) Meiosis (C) Parthenogenesis (D) Binary fission
- (5) Neural plate is formed by:-
(A) Ectoderm (B) Endoderm (C) Mesoderm (D) Archenteron
- (6) The replication of DNA always occurs from:-
(A) 5' - 3' (B) 3' - 5' (C) 35' - 90' (D) 10' - 25'
- (7) Cell death due to tissue damage is called:-
(A) Necrosis (B) Apoptosis (C) Blastosis (D) Diakinesis
- (8) Separation of homologous chromosomes occur during:-
(A) Prophase I (B) Metaphase II (C) Anaphase I (D) Telophase I
- (9) White eyed mutant drosophila was first time noted by:-
(A) T.H. Morgan (B) Calvin Bridges (C) Correns (D) W.S. Sutton
- (10) In the recombinant DNA technology, plasmids are used as:-
(A) Genetic material (B) Vectors (C) Enzymes (D) Probes
- (11) Endosymbiont hypothesis explains origin of:-
(A) Cell (B) Prokaryotic cell (C) Eukaryotic cell (D) Ribosomes
- (12) Study of single population's relationship to environment is called as:-
(A) Ecology (B) Gerontology (C) Synecology (D) Autecology
- (13) The productivity of ecosystem is indicated by:-
(A) Consumption of CO_2 (B) Evolution of CO_2 (C) Consumption of O_2 (D) Evolution of N_2
- (14) The thin layer of atmosphere in which all living organisms exist is called:-
(A) Biome (B) Ozone (C) Biosphere (D) Habitat
- (15) Malpighian tubules are excretory organs found in:-
(A) Vertebrates (B) Flatworms (C) Insects (D) Annelids
- (16) Animals excreting urea are called:-
(A) Excretotelic (B) Ammotelic (C) Ureotelic (D) Uricotelic
- (17) In human thoracic region, number of vertebrae is:-
(A) 7 (B) 5 (C) 4 (D) 12

INTERMEDIATE PART-II (12th CLASS)**BIOLOGY PAPER-II (OLD SCHEME)**

TIME ALLOWED: 3.10 Hours

SUBJECTIVE

MAXIMUM MARKS: 83

NOTE: - Write same question number and its part number on answer book,
as given in the question paper.**SECTION-I**2. **Attempt any Eight parts.**

8 × 2 = 16

- (i) Define Homeostasis.
- (ii) Draw the Urea cycle.
- (iii) What is the role of heat shock proteins in plants?
- (iv) What is the function of sclerenchyma cells?
- (v) Define Nastic movements in plants.
- (vi) What is Ecdysis?
- (vii) Define Apomixis?
- (viii) What is the role of sertoli cells of testes?
- (ix) Name the different zones of lake's ecosystem.
- (x) Define productivity of an ecosystem.
- (xi) Define green house effect.
- (xii) What is eutrophication?

3. **Attempt any Eight parts.**

8 × 2 = 16

- (i) Define the term Biological Rhythms.
- (ii) Differentiate between Etiolation and Chlorosis.
- (iii) What are commercial applications of Abscisic acid (any two)?
- (iv) What is probability and product rule?
- (v) What is erythroblastosis foetalis?
- (vi) What is Bombay phenotype?
- (vii) Give three possible ways to get the gene of interest.
- (viii) What are palindromic sequences? Give their significance.
- (ix) What is Probe? Write its function in genomic library.
- (x) Differentiate between Synecology and Autecology.
- (xi) What do you know about secondary succession?
- (xii) Define Ammonification.

4. **Attempt any Six parts.**

6 × 2 = 12

- (i) Name the four internal factors which influence the rate of growth in plants.
- (ii) Define gerontology, mention its present goal.
- (iii) Define Karyotype. Give its importance.
- (iv) What is Phenylketonuria?
- (v) Write the names of two binding sites within promoter in prokaryotes.
- (vi) Differentiate between benign and malignant tumor.
- (vii) Define apoptosis. Write its role in development.
- (viii) What is Lamarckism?
- (ix) Enlist the factors affecting gene frequency.

SECTION-II

NOTE: - Attempt any three questions.

8 × 3 = 24

5.(a) What is renal failure? How is it treated?

1 + 1½ + 1½

(b) Write note on PCR.

4

6.(a) Give the ultra structure of myofilaments.

4

(b) Explain the process of transcription.

4

7.(a) Write about any two hormones of anterior lobe of pituitary glands.

4

(b) Explain Acid Rain and its effects.

4

8.(a) Compare sexual and A – sexual reproduction.

4

(b) Explain sex determination in plants.

4

9.(a) Describe the role of nucleus in development.

4

(b) Describe the different steps/views of evolution from prokaryotes to eukaryotes.

4

SECTION-III (PRACTICAL)10. **Attempt any three parts.**

5 × 3 = 15

(A) Draw labeled diagram of urinogenital system of female frog.

5

(B) Draw and label the diagram of hind limb of frog.

5

(C) Write down the material, procedure, observation and result of an experiment showing various stages of Mitosis in onion root tip.

5

(D) Write down the material, procedure, observation and result of experiment showing muscle twitch.

5

(E) Answer the following questions briefly:-

5

(i) What is Heliotropic chamber?

(ii) From which side frog is dissected?

(iii) Define soil.

(iv) What is quadrat? Give its use.

(v) What is tropism?

Paper Code

2018 (S)

Roll No. _____

Number:

8461

INTERMEDIATE PART-II (12th CLASS)**BIOLOGY PAPER-II (OLD SCHEME)**

TIME ALLOWED: 20 Minutes

OBJECTIVE

MAXIMUM MARKS: 17

Note: You have four choices for each objective type question as A, B, C and D. The choice which you think is correct, fill that bubble in front of that question number. Use marker or pen to fill the bubbles. Cutting or filling two or more bubbles will result in zero mark in that question. Attempt as many questions as given in objective type question paper and leave others blank. No credit will be awarded in case BUBBLES are not filled. Do not solve questions on this sheet of OBJECTIVE PAPER.

Q.No.1

- (1) Bat and Humming birds are called as:-
 (A) Ectotherm (B) Endotherm (C) Heterotherm (D) Pokilotherm
- (2) In cockroach most of the reabsorption of salt and water take place in the:-
 (A) Malpighian tubules (B) Rectum (C) Intestine (D) Stomach
- (3) _____ is plantigrade.
 (A) Rabbit (B) Horse (C) Goat (D) Monkey
- (4) Bone to bone attachment takes place by:-
 (A) Ligament (B) Tendon (C) Muscle (D) Nerves
- (5) The graves disease is caused by over secretion of :-
 (A) Calcitonin (B) Thyroxine (C) Oxytocine (D) Insulin
- (6) Which hormone induces labour pain?
 (A) LH (B) LTH (C) FSH (D) Oxytocin
- (7) The disease Syphilis is caused by a Bacteria Treponema pallidum, belongs to:-
 (A) Spirochete (B) Spirillum (C) Vibrio (D) Cocci
- (8) The shell of chick egg is secreted as egg passes through:-
 (A) Oviduct (B) Uterus (C) Ovary (D) Birth canal
- (9) RNA polymerase – I, is used to synthesize the:-
 (A) mRNA (B) r-RNA (C) t-RNA (D) DNA
- (10) Cancer occurs due to error in:-
 (A) Mitosis (B) Meiosis (C) Prophase – I (D) Metaphase – I
- (11) In plants meiosis take place during formation of:-
 (A) Spores (B) Gametes (C) Zygote (D) Embryo
- (12) Bombay phenotype is example of:-
 (A) Pleiotropy (B) Epistasis (C) Metastasis (D) Co-Dominance
- (13) An antibiotic made by Soyabeans can be used as:-
 (A) AIDS (B) Hepatitis (C) Herpes simplex (D) Genital herpes
- (14) The factor not affecting gene frequency is:-
 (A) Mutation (B) Digestion (C) Migration (D) Selection
- (15) The Bacteria Oxidize Ammonia or Ammonium Ion is called as:-
 (A) Ammonification (B) Nitrification (C) Denitrification (D) N_2 – fixation
- (16) The grassland with clump of woody tree is called as:-
 (A) Prairies (B) Boreals (C) Savanna (D) Tundra
- (17) Stone – cancer is caused by:-
 (A) Water pollution (B) Air – pollution (C) Ozone (D) Acid – Rain

Paper Code

2018 (S)

Roll No. _____

Number:

8463

INTERMEDIATE PART-II (12th CLASS)**BIOLOGY PAPER-II (OLD SCHEME)**

TIME ALLOWED: 20 Minutes

OBJECTIVE

MAXIMUM MARKS: 17

Note: You have four choices for each objective type question as A, B, C and D. The choice which you think is correct, fill that bubble in front of that question number. Use marker or pen to fill the bubbles. Cutting or filling two or more bubbles will result in zero mark in that question. Attempt as many questions as given in objective type question paper and leave others blank. No credit will be awarded in case BUBBLES are not filled. Do not solve questions on this sheet of OBJECTIVE PAPER.

Q.No.1

- (1) The Bacteria Oxidize Ammonia or Ammonium Ion is called as:-
 (A) Ammonification (B) Nitrification (C) Denitrification (D) N_2 - fixation
- (2) The grassland with clump of woody tree is called as:-
 (A) Prairies (B) Boreals (C) Savanna (D) Tundra
- (3) Stone - cancer is caused by:-
 (A) Water pollution (B) Air - pollution (C) Ozone (D) Acid - Rain
- (4) Bat and Humming birds are called as:-
 (A) Ectotherm (B) Endotherm (C) Heterotherm (D) Pokilotherm
- (5) In cockroach most of the reabsorption of salt and water take place in the:-
 (A) Malpighian tubules (B) Rectum (C) Intestine (D) Stomach
- (6) _____ is plantigrade.
 (A) Rabbit (B) Horse (C) Goat (D) Monkey
- (7) Bone to bone attachment takes place by:-
 (A) Ligament (B) Tendon (C) Muscle (D) Nerves
- (8) The graves disease is caused by over secretion of :-
 (A) Calcitonin (B) Thyroxine (C) Oxytocine (D) Insulin
- (9) Which hormone induces labour pain?
 (A) LH (B) LTH (C) FSH (D) Oxytocin
- (10) The disease Syphilis is caused by a Bacteria Treponema pallidum, belongs to:-
 (A) Spirochete (B) Spirillum (C) Vibrio (D) Cocci
- (11) The shell of chick egg is secreted as egg passes through:-
 (A) Oviduct (B) Uterus (C) Ovary (D) Birth canal
- (12) RNA polymerase - I, is used to synthesize the:-
 (A) mRNA (B) r-RNA (C) t-RNA (D) DNA
- (13) Cancer occurs due to error in:-
 (A) Mitosis (B) Meiosis (C) Prophase - I (D) Metaphase - I
- (14) In plants meiosis take place during formation of:-
 (A) Spores (B) Gametes (C) Zygote (D) Embryo
- (15) Bombay phenotype is example of:-
 (A) Pleiotropy (B) Epistasis (C) Metastasis (D) Co-Dominance
- (16) An antibiotic made by Soyabeans can be used as:-
 (A) AIDS (B) Hepatitis (C) Herpes simplex (D) Genital herpes
- (17) The factor not affecting gene frequency is:-
 (A) Mutation (B) Digestion (C) Migration (D) Selection

Paper Code

2018 (S)

Roll No. _____

Number:

8465

INTERMEDIATE PART-II (12th CLASS)

BIOLOGY PAPER-II (OLD SCHEME)

TIME ALLOWED: 20 Minutes

OBJECTIVE

MAXIMUM MARKS: 17

Note: You have four choices for each objective type question as A, B, C and D. The choice which you think is correct, fill that bubble in front of that question number. Use marker or pen to fill the bubbles. Cutting or filling two or more bubbles will result in zero mark in that question. Attempt as many questions as given in objective type question paper and leave others blank. No credit will be awarded in case BUBBLES are not filled. Do not solve questions on this sheet of OBJECTIVE PAPER.

Q.No.1

- (1) The shell of chick egg is secreted as egg passes through:-
 (A) Oviduct (B) Uterus (C) Ovary (D) Birth canal
- (2) RNA polymerase – I, is used to synthesize the:-
 (A) mRNA (B) r-RNA (C) t-RNA (D) DNA
- (3) Cancer occurs due to error in:-
 (A) Mitosis (B) Meiosis (C) Prophase – I (D) Metaphase – I
- (4) In plants meiosis take place during formation of:-
 (A) Spores (B) Gametes (C) Zygote (D) Embryo
- (5) Bombay phenotype is example of:-
 (A) Pleiotropy (B) Epistasis (C) Metastasis (D) Co-Dominance
- (6) An antibiotic made by Soyabeans can be used as:-
 (A) AIDS (B) Hepatitis (C) Herpes simplex (D) Genital herpes
- (7) The factor not affecting gene frequency is:-
 (A) Mutation (B) Digestion (C) Migration (D) Selection
- (8) The Bacteria Oxidize Ammonia or Ammonium Ion is called as:-
 (A) Ammonification (B) Nitrification (C) Denitrification (D) N_2 – fixation
- (9) The grassland with clump of woody tree is called as:-
 (A) Prairies (B) Boreals (C) Savanna (D) Tundra
- (10) Stone – cancer is caused by:-
 (A) Water pollution (B) Air – pollution (C) Ozone (D) Acid – Rain
- (11) Bat and Humming birds are called as:-
 (A) Ectotherm (B) Endotherm (C) Heterotherm (D) Pokilotherm
- (12) In cockroach most of the reabsorption of salt and water take place in the:-
 (A) Malpighian tubules (B) Rectum (C) Intestine (D) Stomach
- (13) _____ is plantigrade.
 (A) Rabbit (B) Horse (C) Goat (D) Monkey
- (14) Bone to bone attachment takes place by:-
 (A) Ligament (B) Tendon (C) Muscle (D) Nerves
- (15) The graves disease is caused by over secretion of :-
 (A) Calcitonin (B) Thyroxine (C) Oxytocine (D) Insulin
- (16) Which hormone induces labour pain?
 (A) LH (B) LTH (C) FSH (D) Oxytocin
- (17) The disease Syphilis is caused by a Bacteria Treponema pallidum, belongs to:-
 (A) Spirochete (B) Spirillum (C) Vibrio (D) Cocci

Paper Code

2018 (S)

Roll No. _____

Number:

8467

INTERMEDIATE PART-II (12th CLASS)**BIOLOGY PAPER-II (OLD SCHEME)**

TIME ALLOWED: 20 Minutes

OBJECTIVE

MAXIMUM MARKS: 17

Note: You have four choices for each objective type question as A, B, C and D. The choice which you think is correct, fill that bubble in front of that question number. Use marker or pen to fill the bubbles. Cutting or filling two or more bubbles will result in zero mark in that question. Attempt as many questions as given in objective type question paper and leave others blank. No credit will be awarded in case BUBBLES are not filled. Do not solve questions on this sheet of OBJECTIVE PAPER.

Q.No.1

- (1) The graves disease is caused by over secretion: ~~of~~ :-
 (A) Calcitonin (B) Thyroxine (C) Oxytocine (D) Insulin
- (2) Which hormone induces labour pain?
 (A) LH (B) LTH (C) FSH (D) Oxytocin
- (3) The disease Syphilis is caused by a Bacteria Treponema pallidum, belongs to:-
 (A) Spirochete (B) Spirillum (C) Vibrio (D) Cocci
- (4) The shell of chick egg is secreted as egg passes through:-
 (A) Oviduct (B) Uterus (C) Ovary (D) Birth canal
- (5) RNA polymerase – I, is used to synthesize the:-
 (A) mRNA (B) r-RNA (C) t-RNA (D) DNA
- (6) Cancer occurs due to error in:-
 (A) Mitosis (B) Meiosis (C) Prophase – I (D) Metaphase – I
- (7) In plants meiosis take place during formation of:-
 (A) Spores (B) Gametes (C) Zygote (D) Embryo
- (8) Bombay phenotype is example of:-
 (A) Pleiotropy (B) Epistasis (C) Metastasis (D) Co-Dominance
- (9) An antibiotic made by Soyabeans can be used as:-
 (A) AIDS (B) Hepatitis (C) Herpes simplex (D) Genital herpes
- (10) The factor not affecting gene frequency is:-
 (A) Mutation (B) Digestion (C) Migration (D) Selection
- (11) The Bacteria Oxidize Ammonia or Ammonium Ion is called as:-
 (A) Ammonification (B) Nitrification (C) Denitrification (D) N_2 – fixation
- (12) The grassland with clump of woody tree is called as:-
 (A) Prairies (B) Boreals (C) Savanna (D) Tundra
- (13) Stone – cancer is caused by:-
 (A) Water pollution (B) Air – pollution (C) Ozone (D) Acid – Rain
- (14) Bat and Humming birds are called as:-
 (A) Ectotherm (B) Endotherm (C) Heterotherm (D) Pokilotherm
- (15) In cockroach most of the reabsorption of salt and water take place in the:-
 (A) Malpighian tubules (B) Rectum (C) Intestine (D) Stomach
- (16) _____ is plantigrade.
 (A) Rabbit (B) Horse (C) Goat (D) Monkey
- (17) Bone to bone attachment takes place by:-
 (A) Ligament (B) Tendon (C) Muscle (D) Nerves

Name of Subject: Mathematics - II

Session: _____

Q.Nos	Paper Code 4191	Paper Code 4193	Paper Code 4195	Paper Code 4197
1	A	B	B	B
2	D	C	B, C	B
3	A	D	B	C
4	A	A	B	D
5	C	B	B	B
6	B	A	D	B, C
7	B	D	B	B
8	C	A	C	B
9	D	A	D	B
10	B	C	A	D
11	B, C	B	B	B
12	B	B	A	C
13	B	C	D	D
14	B	D	A	A
15	D	B	A	B
16	B	B, C	C	A
17	C	B	B	D
18	D	B	B	A
19	A	B	C	A
20	B	D	D	C

سرٹیفکیٹ مابت صحیح سوالیہ پرچہ مارکنگ Key

ہم نے مضمون ریاضی پرچہ II گروپ سیکیم انٹرسلاٹ ضمنی امتحان 2018 کا

سوالیہ پرچہ انشائیہ و معروضی (Subjective & Objective) کو بنظر عمیق چیک کر لیا ہے یہ پرچہ Syllabus کے عین مطابق Set کیا گیا ہے۔ اس سوالیہ پرچہ میں کسی قسم کی کوئی غلطی نہ ہے۔ ہم نے سوالیہ پرچہ کا اردو اور انگریزی Version بھی چیک کر لیا ہے۔ یہ Version آپس میں مطابقت رکھتے ہیں۔ نیز اس پرچہ کی معروضی (MCQs) Key کی بابت تصدیق کی جاتی ہے کہ اس میں بھی کسی قسم کی کوئی غلطی نہ ہے۔ مزید یہ کہ ہم نے Key بنانے سے متعلق دفتر کی جانب سے تیار کردہ ہدایات وصول کر کے ان کا بغور مطالعہ کر لیا ہے اور ان کی روشنی میں Key بنائی ہے۔ نیز سب ایگزامینرز کیلئے تفصیلی مارکنگ ہدایات / مارکنگ سکیم / Rubrics بھی تیار کر دی گئی ہیں۔

Prepared & Checked By:

Dated: 26-10-2018

S.#	Name	Designation	Institution	Mobile No	Signature
1	Noorullah	Associate Professor	Govt college civil lines Multan.	03337649118	<u>M. Noorullah</u>
2	Kausar Ali Tahir	Asso. Prof.	Govt. Millat College Multan.	03006510675	<u>Kausar Ali Tahir</u>
3	Fayyaz Hussain	Assistant Prof.	Govt. W. H. G. S. E. college Multan	0300-5665049	<u>Fayyaz Hussain</u>
1-	M. Iqbal	Associate Prof.	Govt College of SC Multan.	1301-7553696	<u>M. Iqbal</u>
2-					

INTERMEDIATE PART-II (12th CLASS)

MATHEMATICS PAPER-II

TIME ALLOWED: 2.30 Hours

MAXIMUM MARKS: 80

SUBJECTIVE

NOTE: - Write same question number and its part number on answer book,
as given in the question paper.

SECTION-I

2. Attempt any eight parts.

8 × 2 = 16

(i) Define Rational Function.

(ii) Evaluate $\lim_{x \rightarrow 0} \frac{1 - \cos 2x}{x^2}$ (iii) Show that $\lim_{x \rightarrow 1}$ exist for $f(x) = \frac{x^2 - 1}{x - 1}$ but $f(x)$ is not continuous at $x = 1$ (iv) Differentiate $f(x) = \frac{1}{\sqrt{x}}$ by first principle.(v) Evaluate $\frac{d}{dx} \frac{(x^2 + 1)}{(x^2 - 3)}$ (vi) Differentiate $x^2 + \frac{1}{x^2}$ with respect to $x - \frac{1}{x}$ (vii) Prove that $\frac{d}{dx} \tan^{-1} x = \frac{1}{1 + x^2}$ (viii) Find $\frac{dy}{dx}$ if $x = y \sin y$ (ix) Discuss for extreme values $f(x) = 5x^2 - 6x + 2$ (x) Find Maclaurin series expansion of $\sqrt{1 + x}$ (xi) Find y_2 if $x = a \cos \theta$, $y = a \sin \theta$ (xii) Differentiate $f(x) = \sqrt{\ln(e^{2x} + e^{-2x})}$

3. Attempt any eight parts.

8 × 2 = 16

(i) Find δy and dy of function $f(x) = x^2$ when $x = 2$ and $dx = 0.01$ (ii) Using differentials find $\frac{dy}{dx}$ when $x^2 + 2y^2 = 16$ (iii) Evaluate $\int (x+1)(x-3) dx$ (iv) Evaluate $\int \frac{x}{x+2} dx$ (v) Evaluate $\int \frac{(1 - \sqrt{x})^2}{\sqrt{x}} dx$ $x > 0$ (vi) Evaluate $\int x \ln x dx$ (vii) Evaluate $\int \tan^{-1} x dx$ (viii) Evaluate $\int \tan^4 x dx$ (ix) Evaluate $\int_{-1}^3 (x^3 + 3x^2) dx$ (x) Evaluate $\int_1^e x \ln x dx$ (xi) Graph the inequality $x + 2y < 6$

(xii) What is the Optimal solution?

(2)

9 × 2 = 18

4. Attempt any nine parts.

- (i) Show that the points $A(3, 1)$, $B(-2, -3)$ and $C(2, 2)$ are vertices of an isosceles triangle.
- (ii) Find an equation of the line through $(-4, 7)$ and parallel to the line $2x - 7y + 4 = 0$
- (iii) Find the distance from the point $P(6, -1)$ to the line $6x - 4y + 9 = 0$
- (iv) Define Orthocentre of Triangle.
- (v) Find the lines represented by the equation $2x^2 + 3xy - 5y^2 = 0$
- (vi) Define focal chord of a parabola.
- (vii) Write equation of the parabola if focus $(1, 2)$, vertex $(3, 2)$.
- (viii) Find eccentricity of ellipse whose equation is $9x^2 + y^2 = 18$
- (ix) Find an equation of ellipse with given data Foci $(\pm 3, 0)$ and minor axis of length 10.
- (x) Prove that the line segment joining the mid points of two sides of a triangle is parallel to the third side.
- (xi) Find the direction cosines for $6\mathbf{i} - 2\mathbf{j} + \mathbf{k}$.
- (xii) Prove that in any triangle ABC . $a^2 = b^2 + c^2 - 2bc \cos A$
- (xiii) Define Coplanar Vectors.

SECTION-II**NOTE: - Attempt any three questions.**

3 × 10 = 30

- 5.(a) For $f(x) = (-x + 9)^3$ find $f^{-1}(x)$, $f^{-1}(-1)$ and verify $f(f^{-1}(x)) = f^{-1}(f(x)) = x$
- (b) Show that $\frac{dy}{dx} = \frac{y}{x}$ if $\frac{y}{x} = \tan^{-1} \frac{x}{y}$
- 6.(a) Evaluate the integral $\int \frac{3-x}{1-x+6x^2} dx$
- (b) Find an equation of the perpendicular bisector of the segment joining the points $A(3, 5)$ and $B(9, 8)$
7. (a) Evaluate the definite integral $\int_{\pi/6}^{\pi/2} \frac{\cos x}{\sin x(2 + \sin x)} dx$
- (b) Maximize $f(x, y) = 2x + 5y$ subject to the constraints. $2y - x \leq 8$, $x - y \leq 4$, $x \geq 0$, $y \geq 0$
8. (a) Find the focus, vertex and directrix of the parabola $(x - 1)^2 = 8(y + 2)$
- (b) Using vector method prove that in any triangle $b^2 = c^2 + a^2 - 2ca \cos B$
- 9.(a) Find the centre, foci, eccentricity, vertices and equations of directrices of Hyperbola $\frac{x^2}{4} - \frac{y^2}{9} = 1$
- (b) Find area of parallelogram whose vertices are $A(1, 2, -1)$, $B(4, 2, -3)$, $C(6, -5, 2)$, $D(9, -5, 0)$

Paper Code

Number: 4191

2018 (S)

Roll No: _____

INTERMEDIATE PART-II (12th CLASS)

MATHEMATICS PAPER-II

TIME ALLOWED: 30 Minutes

MAXIMUM MARKS: 20

OBJECTIVE

Note: You have four choices for each objective type question as A, B, C and D. The choice which you think is correct, fill that bubble in front of that question number. Use marker or pen to fill the bubbles. Cutting or filling two or more bubbles will result in zero mark in that question. Attempt as many questions as given in objective type question paper and leave others blank. No credit will be awarded in case BUBBLES are not filled. Do not solve questions on this sheet of OBJECTIVE PAPER.

Q.No.1

- (1) A function in which variables are real numbers is called:-
(A) Real valued function (B) Complex valued function (C) Variable (D) Relation
- (2) If $f(x) = x^3 - 2x^2 + 4x - 1$ then $f(0)$ is:- (A) 1 (B) 2 (C) 4 (D) -1
- (3) $\frac{d}{dx}\left(\frac{3}{2x+1}\right)$ is:- (A) $\frac{-6}{(2x+1)^2}$ (B) $\frac{4}{(2x+1)^2}$ (C) $\frac{2}{(2x+1)^3}$ (D) $\frac{-2}{(2x+1)^3}$
- (4) $\frac{d}{dx}(\sqrt{x})$ is:- (A) $\frac{1}{2\sqrt{x}}$ (B) $x^{-\frac{1}{2}}$ (C) $\frac{-1}{2}x^{-\frac{1}{2}}$ (D) $\frac{1}{2}x^{\frac{1}{2}}$
- (5) $\frac{d}{dx}\left(\cos^{-1}\frac{x}{a}\right) =$ (A) $\frac{-1}{\sqrt{1-\frac{x^2}{a^2}}}$ (B) $\frac{-a}{\sqrt{1-\frac{x^2}{a^2}}}$ (C) $\frac{-1}{\sqrt{a^2-x^2}}$ (D) $\frac{-1}{\sqrt{\frac{x^2}{a^2}-1}}$
- (6) $\frac{d}{dx}(e^x)$ (A) xe^x (B) e^x (C) e^{x+1} (D) e^{x-1}
- (7) The radius of the circle with centre $(-5, 3)$ passes through $P(7, -2)$ is:-
(A) $\sqrt{13}$ (B) 13 (C) $\sqrt{29}$ (D) $\sqrt{5}$
- (8) The point of intersection of two lines $5x + 2y = 35$, $3x - 7y = 21$
(A) $(0, 7)$ (B) $(-7, 0)$ (C) $(7, 0)$ (D) $(0, -7)$
- (9) The given equation $y = mx + c$ represents:-
(A) Symmetric form (B) Normal form (C) One point slope form (D) Slope intercept form
- (10) If two lines are perpendicular then angle between them is:-
(A) 0° (B) 90° (C) 180° (D) 270°
- (11) $(1, 0)$ is solution of inequality:-
(A) $9x + 2y < 8$ (B) $-x + 3y < 0$ (C) $3x + 5y < 6$ (D) $3x + 5y > 4$
- (12) The length of the latusrectum of parabola $y^2 = 4ax$ is:- (A) $2a$ (B) $4a$ (C) $4ax$ (D) $\frac{y}{2a}$
- (13) $x = at^2$, $y = 2at$ are the parametric equation of:-
(A) Circle (B) Parabola (C) Ellipse (D) Hyperbola
- (14) If eccentricity of a conic is $e > 1$ then the conic is:-
(A) Circle (B) Hyperbola (C) Parabola (D) Ellipse
- (15) $\int_0^1 \frac{dx}{\sqrt{1-x^2}} =$ (A) $\frac{\pi}{6}$ (B) $\frac{\pi}{4}$ (C) $\frac{\pi}{3}$ (D) $\frac{\pi}{2}$
- (16) Order of the differential equation $\frac{d^2y}{dx^2} + \frac{dy}{dx} - 3x = 0$ is:- (A) 1 (B) 2 (C) 0 (D) 3
- (17) $\int e^x \left(\ln x + \frac{1}{x} \right) dx$ (A) $\frac{e^x}{x} + c$ (B) $\ln x + e^x + c$ (C) $e^x \ln x + c$ (D) $\ln x - e^x + c$
- (18) $\int \frac{1}{\sqrt{1-x^2}} dx =$ (A) $\tan^{-1}x$ (B) $\cot^{-1}x + c$ (C) $\cos^{-1}x + c$ (D) $\sin^{-1}x + c$
- (19) If $u = [3, -4]$, then $|u| =$ (A) 5 (B) $\sqrt{2}$ (C) 4 (D) 3
- (20) Volume of tetrahedron is given by:-
(A) $\underline{u} \times (\underline{v} \times \underline{w})$ (B) $\frac{1}{6} [\underline{u} \underline{v} \underline{w}]$ (C) $(\underline{u} \times \underline{v}) \underline{w}$ (D) $\underline{u} \cdot (\underline{w} \times \underline{v})$

Paper Code

Number: 4193

2018 (S)

Roll No: _____

INTERMEDIATE PART-II (12th CLASS)

MATHEMATICS PAPER-II

TIME ALLOWED: 30 Minutes

MAXIMUM MARKS: 20

OBJECTIVE

Note: You have four choices for each objective type question as A, B, C and D. The choice which you think is correct, fill that bubble in front of that question number. Use marker or pen to fill the bubbles. Cutting or filling two or more bubbles will result in zero mark in that question. Attempt as many questions as given in objective type question paper and leave others blank. No credit will be awarded in case BUBBLES are not filled. Do not solve questions on this sheet of OBJECTIVE PAPER.

Q.No.1

- (1) Order of the differential equation $\frac{d^2y}{dx^2} + \frac{dy}{dx} - 3x = 0$ is:- (A) 1 (B) 2 (C) 0 (D) 3
- (2) $\int e^x \left(\ln x + \frac{1}{x} \right) dx$ (A) $\frac{e^x}{x} + c$ (B) $\ln x + e^x + c$ (C) $e^x \ln x + c$ (D) $\ln x - e^x + c$
- (3) $\int \frac{1}{\sqrt{1-x^2}} dx =$ (A) $\tan^{-1}x$ (B) $\cot^{-1}x + c$ (C) $\cos^{-1}x + c$ (D) $\sin^{-1}x + c$
- (4) If $u = [3, -4]$, then $|u| =$ (A) 5 (B) $\sqrt{2}$ (C) 4 (D) 3
- (5) Volume of tetrahedron is given by:-
(A) $u \times (v \times w)$ (B) $\frac{1}{6} [u \cdot v \cdot w]$ (C) $(u \times v) \cdot w$ (D) $u \cdot (w \times v)$
- (6) A function in which variables are real numbers is called:-
(A) Real valued function (B) Complex valued function (C) Variable (D) Relation
- (7) If $f(x) = x^3 - 2x^2 + 4x - 1$ then $f(0)$ is:- (A) 1 (B) 2 (C) 4 (D) -1
- (8) $\frac{d}{dx} \left(\frac{3}{2x+1} \right)$ is:- (A) $\frac{-6}{(2x+1)^2}$ (B) $\frac{4}{(2x+1)^2}$ (C) $\frac{2}{(2x+1)^3}$ (D) $\frac{-2}{(2x+1)^3}$
- (9) $\frac{d}{dx} (\sqrt{x})$ is:- (A) $\frac{1}{2\sqrt{x}}$ (B) $x^{-\frac{1}{2}}$ (C) $\frac{-1}{2} x^{-\frac{1}{2}}$ (D) $\frac{1}{2} x^{\frac{1}{2}}$
- (10) $\frac{d}{dx} \left(\cos^{-1} \frac{x}{a} \right) =$ (A) $\frac{-1}{\sqrt{1-\frac{x^2}{a^2}}}$ (B) $\frac{-a}{\sqrt{1-\frac{x^2}{a^2}}}$ (C) $\frac{-1}{\sqrt{a^2-x^2}}$ (D) $\frac{-1}{\sqrt{\frac{x^2}{a^2}-1}}$
- (11) $\frac{d}{dx} (e^x)$ (A) xe^x (B) e^x (C) e^{x+1} (D) e^{x-1}
- (12) The radius of the circle with centre $(-5, 3)$ passes through $P(7, -2)$ is:-
(A) $\sqrt{13}$ (B) 13 (C) $\sqrt{29}$ (D) $\sqrt{5}$
- (13) The point of intersection of two lines $5x + 2y = 35$, $3x - 7y = 21$
(A) $(0, 7)$ (B) $(-7, 0)$ (C) $(7, 0)$ (D) $(0, -7)$
- (14) The given equation $y = mx + c$ represents:-
(A) Symmetric form (B) Normal form (C) One point slope form (D) Slope intercept form
- (15) If two lines are perpendicular then angle between them is:-
(A) 0° (B) 90° (C) 180° (D) 270°
- (16) $(1, 0)$ is solution of inequality:-
(A) $9x + 2y < 8$ (B) $-x + 3y < 0$ (C) $3x + 5y < 6$ (D) $3x + 5y > 4$
- (17) The length of the latusrectum of parabola $y^2 = 4ax$ is:- (A) $2a$ (B) $4a$ (C) $4ax$ (D) $\frac{y}{2a}$
- (18) $x = at^2$, $y = 2at$ are the parametric equation of:-
(A) Circle (B) Parabola (C) Ellipse (D) Hyperbola
- (19) If eccentricity of a conic is $e > 1$ then the conic is:-
(A) Circle (B) Hyperbola (C) Parabola (D) Ellipse
- (20) $\int_0^1 \frac{dx}{\sqrt{1-x^2}} =$ (A) $\frac{\pi}{6}$ (B) $\frac{\pi}{4}$ (C) $\frac{\pi}{3}$ (D) $\frac{\pi}{2}$

Paper Code

Number: 4195

2018 (S)

Roll No: _____

INTERMEDIATE PART-II (12th CLASS)

MATHEMATICS PAPER-II

TIME ALLOWED: 30 Minutes

MAXIMUM MARKS: 20

OBJECTIVE

Note: You have four choices for each objective type question as A, B, C and D. The choice which you think is correct, fill that bubble in front of that question number. Use marker or pen to fill the bubbles. Cutting or filling two or more bubbles will result in zero mark in that question. Attempt as many questions as given in objective type question paper and leave others blank. No credit will be awarded in case BUBBLES are not filled. Do not solve questions on this sheet of OBJECTIVE PAPER.

Q.No.1

- (1) If two lines are perpendicular then angle between them is:-
 (A) 0° (B) 90° (C) 180° (D) 270°
- (2) $(1, 0)$ is solution of inequality:-
 (A) $9x + 2y < 8$ (B) $-x + 3y < 0$ (C) $3x + 5y < 6$ (D) $3x + 5y > 4$
- (3) The length of the latusrectum of parabola $y^2 = 4ax$ is:- (A) $2a$ (B) $4a$ (C) $4ax$ (D) $\frac{y}{2a}$
- (4) $x = at^2$, $y = 2at$ are the parametric equation of:-
 (A) Circle (B) Parabola (C) Ellipse (D) Hyperbola
- (5) If eccentricity of a conic is $e > 1$ then the conic is:-
 (A) Circle (B) Hyperbola (C) Parabola (D) Ellipse
- (6) $\int_0^1 \frac{dx}{\sqrt{1-x^2}} =$ (A) $\frac{\pi}{6}$ (B) $\frac{\pi}{4}$ (C) $\frac{\pi}{3}$ (D) $\frac{\pi}{2}$
- (7) Order of the differential equation $\frac{d^2y}{dx^2} + \frac{dy}{dx} - 3x = 0$ is:- (A) 1 (B) 2 (C) 0 (D) 3
- (8) $\int e^x \left(\ln x + \frac{1}{x} \right) dx$ (A) $\frac{e^x}{x} + c$ (B) $\ln x + e^x + c$ (C) $e^x \ln x + c$ (D) $\ln x - e^x + c$
- (9) $\int \frac{1}{\sqrt{1-x^2}} dx =$ (A) $\tan^{-1}x$ (B) $\cot^{-1}x + c$ (C) $\cos^{-1}x + c$ (D) $\sin^{-1}x + c$
- (10) If $u = [3, -4]$, then $|u| =$ (A) 5 (B) $\sqrt{2}$ (C) 4 (D) 3
- (11) Volume of tetrahedron is given by:-
 (A) $\underline{u} \times (\underline{v} \times \underline{w})$ (B) $\frac{1}{6} [\underline{u} \underline{v} \underline{w}]$ (C) $(\underline{u} \times \underline{v}) \underline{w}$ (D) $\underline{u} \cdot (\underline{w} \times \underline{v})$
- (12) A function in which variables are real numbers is called:-
 (A) Real valued function (B) Complex valued function (C) Variable (D) Relation
- (13) If $f(x) = x^3 - 2x^2 + 4x - 1$ then $f(0)$ is:- (A) 1 (B) 2 (C) 4 (D) -1
- (14) $\frac{d}{dx} \left(\frac{3}{2x+1} \right)$ is:- (A) $\frac{-6}{(2x+1)^2}$ (B) $\frac{4}{(2x+1)^2}$ (C) $\frac{2}{(2x+1)^3}$ (D) $\frac{-2}{(2x+1)^3}$
- (15) $\frac{d}{dx} (\sqrt{x})$ is:- (A) $\frac{1}{2\sqrt{x}}$ (B) $x^{-\frac{1}{2}}$ (C) $\frac{-1}{2} x^{-\frac{1}{2}}$ (D) $\frac{1}{2} x^{\frac{1}{2}}$
- (16) $\frac{d}{dx} \left(\cos^{-1} \frac{x}{a} \right) =$ (A) $\frac{-1}{\sqrt{1-\frac{x^2}{a^2}}}$ (B) $\frac{-a}{\sqrt{1-\frac{x^2}{a^2}}}$ (C) $\frac{-1}{\sqrt{a^2-x^2}}$ (D) $\frac{-1}{\sqrt{\frac{x^2}{a^2}-1}}$
- (17) $\frac{d}{dx} (e^x)$ (A) xe^x (B) e^x (C) e^{x+1} (D) e^{x-1}
- (18) The radius of the circle with centre $(-5, 3)$ passes through $P(7, -2)$ is:-
 (A) $\sqrt{13}$ (B) 13 (C) $\sqrt{29}$ (D) $\sqrt{5}$
- (19) The point of intersection of two lines $5x + 2y = 35$, $3x - 7y = 21$
 (A) $(0, 7)$ (B) $(-7, 0)$ (C) $(7, 0)$ (D) $(0, -7)$
- (20) The given equation $y = mx + c$ represents:-
 (A) Symmetric form (B) Normal form (C) One point slope form (D) Slope intercept form

Paper Code

Number: 4197

2018 (S)

Roll No: _____

INTERMEDIATE PART-II (12th CLASS)

MATHEMATICS PAPER-II

TIME ALLOWED: 30 Minutes

MAXIMUM MARKS: 20

OBJECTIVE

Note: You have four choices for each objective type question as A, B, C and D. The choice which you think is correct, fill that bubble in front of that question number. Use marker or pen to fill the bubbles. Cutting or filling two or more bubbles will result in zero mark in that question. Attempt as many questions as given in objective type question paper and leave others blank. No credit will be awarded in case BUBBLES are not filled. Do not solve questions on this sheet of OBJECTIVE PAPER.

Q.No.1

- (1) $\frac{d}{dx}(e^x)$ (A) xe^x (B) e^x (C) e^{x+1} (D) e^{x-1}
- (2) The radius of the circle with centre $(-5, 3)$ passes through $P(7, -2)$ is:-
(A) $\sqrt{13}$ (B) 13 (C) $\sqrt{29}$ (D) $\sqrt{5}$
- (3) The point of intersection of two lines $5x + 2y = 35$, $3x - 7y = 21$
(A) $(0, 7)$ (B) $(-7, 0)$ (C) $(7, 0)$ (D) $(0, -7)$
- (4) The given equation $y = mx + c$ represents:-
(A) Symmetric form (B) Normal form (C) One point slope form (D) Slope intercept form
- (5) If two lines are perpendicular then angle between them is:-
(A) 0° (B) 90° (C) 180° (D) 270°
- (6) $(1, 0)$ is solution of inequality:-
(A) $9x + 2y < 8$ (B) $-x + 3y < 0$ (C) $3x + 5y < 6$ (D) $3x + 5y > 4$
- (7) The length of the latusrectum of parabola $y^2 = 4ax$ is:- (A) $2a$ (B) $4a$ (C) $4ax$ (D) $\frac{y}{2a}$
- (8) $x = at^2$, $y = 2at$ are the parametric equation of:-
(A) Circle (B) Parabola (C) Ellipse (D) Hyperbola
- (9) If eccentricity of a conic is $e > 1$ then the conic is:-
(A) Circle (B) Hyperbola (C) Parabola (D) Ellipse
- (10) $\int_0^1 \frac{dx}{\sqrt{1-x^2}} =$ (A) $\frac{\pi}{6}$ (B) $\frac{\pi}{4}$ (C) $\frac{\pi}{3}$ (D) $\frac{\pi}{2}$
- (11) Order of the differential equation $\frac{d^2y}{dx^2} + \frac{dy}{dx} - 3x = 0$ is:- (A) 1 (B) 2 (C) 0 (D) 3
- (12) $\int e^x \left(\ln x + \frac{1}{x} \right) dx$ (A) $\frac{e^x}{x} + c$ (B) $\ln x + e^x + c$ (C) $e^x \ln x + c$ (D) $\ln x - e^x + c$
- (13) $\int \frac{1}{\sqrt{1-x^2}} dx =$ (A) $\tan^{-1}x$ (B) $\cot^{-1}x + c$ (C) $\cos^{-1}x + c$ (D) $\sin^{-1}x + c$
- (14) If $u = [3, -4]$, then $|u| =$ (A) 5 (B) $\sqrt{2}$ (C) 4 (D) 3
- (15) Volume of tetrahedron is given by:-
(A) $\underline{u} \times (\underline{v} \times \underline{w})$ (B) $\frac{1}{6} [\underline{u} \underline{v} \underline{w}]$ (C) $(\underline{u} \times \underline{v}) \underline{w}$ (D) $\underline{u} \cdot (\underline{w} \times \underline{v})$
- (16) A function in which variables are real numbers is called:-
(A) Real valued function (B) Complex valued function (C) Variable (D) Relation
- (17) If $f(x) = x^3 - 2x^2 + 4x - 1$ then $f(0)$ is:- (A) 1 (B) 2 (C) 4 (D) -1
- (18) $\frac{d}{dx} \left(\frac{3}{2x+1} \right)$ is:- (A) $\frac{-6}{(2x+1)^2}$ (B) $\frac{4}{(2x+1)^2}$ (C) $\frac{2}{(2x+1)^3}$ (D) $\frac{-2}{(2x+1)^3}$
- (19) $\frac{d}{dx}(\sqrt{x})$ is:- (A) $\frac{1}{2\sqrt{x}}$ (B) $x^{-\frac{1}{2}}$ (C) $\frac{-1}{2}x^{-\frac{1}{2}}$ (D) $\frac{1}{2}x^{\frac{1}{2}}$
- (20) $\frac{d}{dx} \left(\cos^{-1} \frac{x}{a} \right) =$ (A) $\frac{-1}{\sqrt{1-\frac{x^2}{a^2}}}$ (B) $\frac{-a}{\sqrt{1-\frac{x^2}{a^2}}}$ (C) $\frac{-1}{\sqrt{a^2-x^2}}$ (D) $\frac{-1}{\sqrt{\frac{x^2}{a^2}-1}}$

Name of Subject: Punjabi Session: _____

Q.Nos	Paper Code 4321	Paper Code 4323	Paper Code 4325	Paper Code 4327
1	B	B	C	D
2	D	A	C	C
3	C	D	D	B
4	B	C	B	D
5	C	C	D	D
6	D	B	B	C
7	C	D	A	C
8	B	C	D	D
9	D	B	C	B
10	D	C	C	D
11	C	D	B	B
12	C	C	D	A
13	D	B	C	D
14	B	D	B	C
15	D	D	C	C
16	B	C	D	B
17	A	C	C	D
18	D	D	B	C
19	C	B	D	B
20	C	D	D	C

برقیکیٹ بابت صحیح سوالیہ پرچہ امارکنگ Key

ہم نے مضمون پنجابی پرچہ II گروپ سیکیم انٹرمیڈیٹ امتحان 2018 کا سوالیہ پرچہ انشائیہ و معروضی (Subjective & Objective) کو بنظر عین چیک کر لیا ہے یہ پرچہ Syllabus کے عین مطابق Set کیا گیا ہے۔ اس سوالیہ پرچہ میں کسی قسم کی کوئی غلطی نہ ہے۔ ہم نے سوالیہ پرچہ کا اردو اور انگریزی Version بھی چیک کر لیا ہے۔ یہ Version آپس میں مطابقت رکھتے ہیں۔ نیز اس پرچہ کی معروضی (MCQs) Key کی بابت تصدیق کی جاتی ہے کہ اس میں بھی کسی قسم کی کوئی غلطی نہ ہے۔ مزید یہ کہ ہم نے Key بنانے سے متعلق دفتر کی جانب سے تیار کردہ ہدایات وصول کر کے ان کا بغور مطالعہ کر لیا ہے اور ان کی روشنی میں Key بنائی ہے۔ نیز سب ایگزامینرز کیلئے تفصیلی مارکنگ ہدایات / مارکنگ سکیم / Rubrics بھی تیار کر دی گئی ہیں۔

Prepared & Checked By: _____

Dated: _____

S.#	Name	Designation	Institution	Mobile No	Signature
1	Mrs. Farah Wahim	AP	Govt. Emerson College Multan	0333 765844	
2	Mrs. Sadia Hassan	AP	Civil - Degree College Mumtazabad Multan	0314-6133603	
3					

ثانوی و اعلیٰ ثانوی تعلیمی بورڈ، ملتان

موری: 29-10-18 مضمون: سماجی پرچہ: آ۔ گروپ:

جنرل ہدایات برائے مارکنگ Key اولڈ سکیم انو سکیم (مارکنگ سکیم)

انٹرنیٹ فرسٹ ایکنڈ سالانہ امتحانی امتحان 2018ء

Sr #	Code	Error Indicated	Sr #	Code	Error Indicated
1.	UN	Un-Necessary	8.	Sp	Spelling Error
2.	Ir	Irrelevant	9.	P	Punctuation
3.	IN	Incomplete	10.	Wo	Wrong word error
4.	EX	Extra	11.	Wt	Wrong Tense
5.	Rp	Re-Produced	12.	Wf	Wrong Form
6.	Is	Insufficient	13.	OA	Over Attempt
7.	Gr	Grammar Error			

اہم نوٹ: ہر سوال "Full Award" سے کم نمبر لگانے کی صورت میں وجہ ضرور لکھیں۔

سوال نمبر 2 :- مختصر سوالات کے جوابات اگر درست ہوں تو اور امداد کی غلطیاں نہ ہوں تو پورے نمبر دیئے جائیں۔

سوال نمبر 3 :- مختصر سوالات کے جوابات اگر درست ہوں تو امداد کی غلطیاں نہ ہوں تو پورے نمبر دیئے جائیں۔

سوال نمبر 4 :- مختصر سوالات کے جوابات اگر درست ہوں تو امداد کی غلطیاں نہ ہوں تو پورے نمبر دیئے جائیں۔

سوال نمبر 5 :- بہر اتراف کی تشریح سبق کا نام اور شعاری کا نام لکھا ہے تو زیادہ سے زیادہ 3 نمبر دیئے جائیں۔

سوال نمبر 6 :- اشعار کی تشریح بہت اچھی ہے اور اشعار کا نام بھی لکھا ہے تو زیادہ سے زیادہ 3 نمبر دیئے جائیں۔

سوال نمبر 7 :- سبق کے خلد سے 8 نمبر دیئے جائیں۔

سوال نمبر 8 :- شاعر کی حالت زندگی اور فن پر زیادہ سے زیادہ 8 نمبر دیئے جائیں۔

مشق

سنہ 1402ھ

اسٹنٹ پروفیسر
گورنمنٹ ٹیچنگ کالج ممتاز آباد

سنہ 1402ھ
اسٹنٹ پروفیسر

گورنمنٹ ایمرسن کالج ملتان

انٹرمیڈیٹ امتحان پارٹ - II (کلاس بارہویں)

وقت = 2.30 گھنٹے

پنجابی پرچہ - دوسرا

کل نمبر = 80

انشائیہ

نوٹ:- جوابی کاپی تے اوہی سوال نمبر تے جزو نمبر درج کرو جیہدا کہ سوالیہ پرچہ تے درج اے۔

پہلا حصہ

10 = 2 x 5

2- کوئی پنج (5) جزاں دے جوابات دیو۔

- (i) قرآن مجید دی سورت ہود دی آیت 7 دا ترجمہ کی اے؟
 (ii) سعید داسٹر مجید اللہ نال کی رشتہ سی؟
 (iii) نعت دی تعریف کرو۔ کتاب وچوں اک شعری مثال دیو۔
 (iv) پنجاب وچ کپاہ واسطے کبھدے علاقے مشہور نیس؟
 (v) امام غزالی "تصوف بارے کی آکھدے نیس؟
 (vi) لوک گیت بولی دی تعریف کرو تے مثال وی دیو۔
 (vii) بابا فرید "دا کوئی اک بول لکھو۔ بول فرید وچوں
 (viii) مقولہ شاعر وچ شاعر عمر بارے کی آکھدے نیس؟

10 = 2 x 5

3- کوئی پنج (5) جزاں دے جوابات دیو۔

- (i) عنایت ماسٹر جی کیوں نہیں بھل سکدا؟
 (ii) سفر نامہ مہنگی صنف کیوں آکھیا جاندا اے۔
 (iii) حبیہ خاتون دی پہلی شادی کس نال ہوئی؟
 (iv) رؤف شیخ دے دو شعری مجموعے دے نال لکھو۔
 (v) حبیہ خاتون دا پنڈ کس وجہ نال مشہور اے؟
 (vi) منظور وزیر آبادی مطابق لوک نکران تک کیوں محدود ہوئے نیس؟
 (vii) نظم "کلاڑھ" دا موضوع کیہ اے؟
 (viii) "درداں دا کھڑیا موتیا" کبھدا شعری مجموعہ اے؟

10 = 2 x 5

4- کوئی پنج (5) جزاں دے جوابات دیو۔

- (i) "چین ہوم" کیہ سن تے برطانیہ نے ایہناں توں کیہ فائدہ چکیا؟
 (ii) لوک رسماں دے فائدے لکھو۔
 (iii) شبانوں متھے تے زخم کویں لگا؟
 (iv) ریڈار دی ایجاد وچ حصہ لین والے دو سائنسداناں دے نال لکھو۔
 (v) سبق گھسمیلا چائن وچ کس سماجی روگ نوں پیش کیتا گیا اے؟
 (vi) لوک گیت بولی دا تعارف کراؤ۔
 (vii) پنجاب دیاں لوک رسماں وچ عورت نوں کیہ اہمیت حاصل اے؟
 (viii) "سورج سمندر تے دے عمر گزارئی" دے شاعر تے شعری صنف لکھو۔

دوجا حصہ

15 = 2 + 2 + 11

5- دتے گئے پیرے دی تشریح کرو۔ سبق تے لکھاری دانان وی لکھو۔

پنجاب وچ پہلی واری 1950ء دے دہاکے ٹریکٹر آونے شروع ہوئے۔ زمیناں واہن بیجن لئی ٹریکٹراں نے بڑیاں سہولتاں پیدا کردتیاں نیس۔
 ٹریکٹر سخت توں سخت زمین واہندے کراہ تے سہاگہ دی مار دے نیس۔ ٹریکٹر نال کئی قسم دیاں ہلاں چلائیاں جان دیاں نیس۔

15 = 2 + 13

6- تھلے لکھے شعری جز دی تشریح کرو تے شاعر دانان وی لکھو۔

ایہہ تن میرا پشماں ہووے تے میں مُرشد وکھ نہ رجاں ہو
 نوں توں دے مڈھ لکھ لکھ لکھ پشماں ہک کھولاں ہک کجاں ہو
 اتنیاں ڈھیاں صبر نہ آوے ہور کتے ول بھجاں ہو
 مُرشد دا دیدار ہے باہو مینوں لکھ کر وڑاں ججاں ہو

10

7- کسے اک سبق دا خلاصہ لکھو۔ زراعت کہانی - گھسمیلا چائن

10 = 5 + 5

8- "مولوی لطف علی بہاولپوری" یاں "الطاف قریشی" وچوں اک دی حیاتی تے تہن اُتے بھرواں نوٹ لکھو۔

Paper Code

2018 (S)

رول نمبر

Number: 4321

انٹرمیڈیٹ امتحان پارٹ - II (کلاس بارہویں)

پنجابی پرچہ - دوسرا

وقت = 30 منٹ

کل نمبر = 20

معروضی

نوٹ۔ ہر سوال کے چار ممکنہ جوابات A، B، C اور D دیئے گئے ہیں۔ جوابی کاپی پر ہر سوال کے سامنے دیئے گئے دائروں میں سے درست جواب کے مطابق متعلقہ دائرہ کو مار کر یا پین سے بھر دیجئے۔ ایک سے زیادہ دائروں کو پُر کرنے یا کاٹ کر پُر کرنے کی صورت میں مذکورہ جواب غلط تصور ہوگا۔ دائروں کو پُر نہ کرنے کی صورت میں کوئی نمبر نہیں دیا جائے گا۔ اس سوالیہ پرچہ پر سوالات ہرگز حل نہ کریں۔

سوال نمبر 1-

- (1) ماہراں دے مطابق ذنیادا کل رقبہ _____ ایکڑاے۔ (A) پنجابہ ارب (B) تیبہ ارب (C) ویہہ ارب (D) دس ارب
- (2) پنجاب دی سب توں وڈی فصل _____ اے۔ (A) کماڈ (B) مکئی (C) چاول (D) کنک
- (3) ڈرامہ پتنگے وچ _____ کردار نیں۔ (A) 11 (B) 8 (C) 9 (D) 10
- (4) فرخندہ لوہی دے ناولٹ داناں اے۔ (A) پتے دے اوہلے (B) جنڈا انگیار (C) آری (D) شہر دے لوک
- (5) تنقید عربی لفظ اے۔ لہنوں پنجابی وچ ”آلوچنا“ دے علاوہ _____ آکھدے نیں۔ (A) ڈراڈ (B) مزاح (C) پرکھ (D) کھوج
- (6) یوسف شاہ چک مغل بادشاہ _____ دے زمانے وچ کشمیر دا حاکم سی۔ (A) ماہر (B) اورنگ زیب (C) تاملوں (D) اکبر
- (7) ”گھسمیلا چانن“ وچ شہو دے دو بھراواں دا ذکر اے۔ چھوٹے داناں سی۔ (A) اشرف (B) سہو (C) آفتاب (D) انور
- (8) سبق ”پنجاب دیاں لوک رساں“ _____ نے لکھیا اے۔ (A) یوسف بخاری (B) ڈاکٹر اختر حسین اختر (C) سجاد حیدر (D) ڈاکٹر بشیر گورایا
- (9) سیفل نامہ (مثنوی سیف الملوک) وچوں _____ لکھت تہا دے سلیبس وچ شامل اے۔ (A) نظم (B) غزل (C) نعت (D) حمد
- (10) راقب قصوری نے نعت _____ رہندیاں آکھنی شروع کیتی سی۔ (A) فیروز پور (B) لاہور (C) قصور (D) سرہند
- (11) ”رائنجن رائنجن مینوں سب کوئی آکھو، ہیر نہ آکھو کوئی“ اے مصرع _____ دا اے۔ (A) سلطان باہو (B) بلھے شاہ (C) شاہ حسین (D) خواجہ فرید
- (12) ”ہو“ اک صوفی شاعر دی مستقل ردیف اے۔ شاعر داناں اے۔ (A) شاہ حسین (B) خواجہ فرید (C) سلطان باہو (D) بلھے شاہ
- (13) ”حسن مہمان، نہیں گھریاری، کیہ اُسد فرمانا“ اے مصرع شاعر _____ دا اے۔ (A) فیروز دین شرف (B) استاد کرم (C) وارث شاہ (D) میں محمد بخش
- (14) نظم ”کھاڑکھ“ _____ دی اے۔ (A) اقبال صلاح الدین (B) بشیر مندر (C) بلھے شاہ (D) یعقوب انور
- (15) ”سرگھی داتارا“ وچوں _____ شاعر دی غزل تہانوں پڑھن نوں وتی گئی اے۔ (A) اکرام مجید (B) رؤف شیخ (C) ڈاکٹر رشید انور (D) سلیم کاشر
- (16) ”جیہوں مصنف پایا اوہو سینوں چار گیا“ شاعر _____ دا مصرع اے۔ (A) الیاس گھمن (B) ڈاکٹر رشید انور (C) میاں محمد بخش (D) وارث شاہ
- (17) ”توں وی جن اُچھال کوئی“ لکھاری _____ دی کتاب اے۔ (A) منظور وزیر آبادی (B) سلطان باہو (C) اختر حسین اختر (D) یوسف بخاری
- (18) الطاف قریشی دی کتاب _____ وچوں تیں اک نظم پڑھی اے۔ (A) یاداں (B) مورچھل دیاں سوچاں (C) داتا زہر پالا (D) اکھیاں دے پرچھاویں
- (19) ”سوچ سمندر تر دے عمر گزرائی“ شاعر _____ دی غزل دا پہلا مصرع اے۔ (A) رؤف شیخ (B) سلیم کاشر (C) علی محمد لوک (D) الطاف قریشی
- (20) غالب دے _____ مترجم نوں تیں ”ادب خزینہ“ وچ پڑھیا اے۔ (A) سلطان باہو (B) شریف کجھیا (C) امیر عابد (D) حسین شاد

Paper Code

2018 (S)

رول نمبر

Number: 4323

انٹرمیڈیٹ امتحان پارٹ - II (کلاس بارہویں)

پنجابی پرچہ - دوسرا

وقت = 30 منٹ

کل نمبر = 20

معروضی

نوٹ۔ ہر سوال کے چار ممکنہ جوابات A، B، C اور D دیئے گئے ہیں۔ جوابی کاپی پر ہر سوال کے سامنے دیئے گئے دائروں میں سے درست جواب کے مطابق متعلقہ دائرہ کو مار کر یا پن سے بھر دیجئے۔ ایک سے زیادہ دائروں کو بھر کرنے یا کاٹ کر پُر کرنے کی صورت میں مذکورہ جواب غلط تصور ہوگا۔ دائروں کو پُر نہ کرنے کی صورت میں کوئی نمبر نہیں دیا جائے گا۔ اس سوالیہ پرچہ پر سوالات ہرگز حل نہ کریں۔

سوال نمبر 1-

- (1) "نبیوں مصنف پایا او ہونہوں چار گیا" شاعر _____ دامصرع اے۔ (A) الیاس گھمن (B) ڈاکٹر رشید انور (C) میاں محمد بخش (D) وارث شاہ
- (2) "توں وی چن اچھا کوئی" لکھاری _____ دی کتاب اے۔ (A) منظور وزیر آبادی (B) سلطان باہو (C) اختر حسین اختر (D) یوسف بخاری
- (3) الطاف قریشی دی کتاب _____ وچوں تیں اک نظم پڑھی اے۔ (A) یاداں (B) مورچلدا یاں سوچاں (C) داتا تازہ پالا (D) اکیاں دے پرچھاویں
- (4) "سوچ سمندر تر دے عمر گزارنی" شاعر _____ دی غزل دا پہلا مصرع اے۔ (A) رؤف شیخ (B) سلیم کاشر (C) علی محمد ملوک (D) الطاف قریشی
- (5) غالب دے _____ مترجم نوں تیں "ادب خزینے" وچ پڑھیا اے۔ (A) سلطان باہو (B) شریف کجھانی (C) امیر عابد (D) حسین شاد
- (6) ماہراں دے مطابق ذنیادا گل رقبہ _____ ایکڑا اے۔ (A) پنجاب ارب (B) میہ ارب (C) دیہہ ارب (D) دس ارب
- (7) پنجاب دی سب توں وڈی فصل _____ اے۔ (A) کماڈ (B) مکئی (C) چاول (D) کنک
- (8) ڈرامہ پتنگے وچ _____ کردار نہیں۔ (A) 11 (B) 8 (C) 9 (D) 10
- (9) فرخندہ لوہی دے ناولٹ داناں اے۔ (A) پتے دے اوٹے (B) جنڈا انگیار (C) آرسی (D) شہر دے لوک
- (10) تنقید عربی لفظ اے۔ ایہوں پنجابی وچ "آلوچنا" دے علاوہ _____ آکھدے نیں۔ (A) ڈراؤ (B) مزاح (C) پرکھ (D) کھوج
- (11) یوسف شاہ پک مغل بادشاہ _____ دے زمانے وچ کشمیر دا حاکم سی۔ (A) بابر (B) اورنگ زیب (C) ہمایوں (D) اکبر
- (12) "گھسمیلا چانن" وچ شہو دے دو بھراواں دا ذکر اے۔ چھوٹے داناں سی۔ (A) اشرف (B) سید (C) آفتاب (D) انور
- (13) سبق "پنجاب دیاں لوک رساں" _____ نے لکھیا اے۔ (A) یوسف بخاری (B) ڈاکٹر اختر حسین اختر (C) سجاد حیدر (D) ڈاکٹر بشیر گورایا
- (14) سینگل نامہ (مثنوی سیف الملوک) وچوں _____ لکھت تہا دے سلیبس وچ شامل اے۔ (A) نظم (B) غزل (C) نعت (D) حمد
- (15) راقب قصوری نے نعت _____ رہندیاں آکھنی شروع کیتی سی۔ (A) فیروز پور (B) لاہور (C) قصور (D) سرہند
- (16) "رائنھن رائنھن مینوں سب کوئی آکھو، ہیر نہ آکھو کوئی" اے مصرع _____ دا اے۔ (A) سلطان باہو (B) بلھے شاہ (C) شاہ حسین (D) خواجہ فرید
- (17) "ہو" اک صوفی شاعر دی مستقل روئی اے۔ شاعر داناں اے۔ (A) شاہ حسین (B) خواجہ فرید (C) سلطان باہو (D) بلھے شاہ
- (18) "حسن مہمان، نہیں گھریاری، کیہ اُسدا فرمانا" اے مصرع شاعر _____ دا اے۔ (A) فیروز دین شرف (B) استاد کرم (C) وارث شاہ (D) میاں محمد بخش
- (19) نظم "کھاڑکھ" _____ دی اے۔ (A) اقبال صلاح الدین (B) بشیر منڈر (C) بلھے شاہ (D) یعقوب انور
- (20) "سرگھی داتا را" وچوں _____ شاعر دی غزل تہاوں پڑھنوں وئی گئی اے۔ (A) اکرام مجید (B) رؤف شیخ (C) ڈاکٹر رشید انور (D) سلیم کاشر

Paper Code

2018 (S)

رول نمبر

Number: 4325

انٹرمیڈیٹ امتحان پارٹ - II (کلاس بارہویں)

وقت = 30 منٹ

پنجابی پرچہ - دوسرا

کل نمبر = 20

معروضی

نوٹ۔ ہر سوال کے چار ممکنہ جوابات A، B، C اور D دیئے گئے ہیں۔ جوابی کاپی پر ہر سوال کے سامنے دیئے گئے دائروں میں سے درست جواب کے مطابق متعلقہ دائرہ کو مار کر یا پین سے بھر دیجئے۔ ایک سے زیادہ دائروں کو پُر کرنے یا کاٹ کر پُر کرنے کی صورت میں مذکورہ جواب غلط تصور ہوگا۔ دائروں کو پُر نہ کرنے کی صورت میں کوئی نمبر نہیں دیا جائے گا۔ اس سوالیہ پرچہ پر سوالات ہر گز حل نہ کریں۔

سوال نمبر 1-

- (1) ”راغب بن ریحان مینوں سب کوئی آکھو، ہیر نہ آکھو کوئی“ اے مصرع _____ دا اے۔ (A) سلطان باہو (B) بلھے شاہ (C) شاہ حسین (D) خواجہ فرید
- (2) ”ہو“ اک صوتی شاعر دی مستقل ردیف اے۔ شاعر داناں اے۔ (A) شاہ حسین (B) خواجہ فرید (C) سلطان باہو (D) بلھے شاہ
- (3) ”حسن مہمان، نہیں گھری، کیہ اسدا فرمانا“ اے مصرع شاعر _____ دا اے۔ (A) فیروز دین شرف (B) استاد کرم (C) وارث شاہ (D) میاں محمد بخش
- (4) نظم ”کھاڑکھ“ _____ دی اے۔ (A) اقبال صلاح الدین (B) بشیر منذر (C) بلھے شاہ (D) یعقوب انور
- (5) ”سرگھی داتارا“ وچوں _____ شاعر دی غزل تہانوں پڑھنوں وئی گئی اے۔ (A) اکرام مجید (B) رؤف شیخ (C) ڈاکٹر رشید انور (D) سلیم کاشر
- (6) ”بیہنوں مصنف پایا اوہ بیہنوں چار گیا“ شاعر _____ دا مصرع اے۔ (A) ایساں حسن (B) ڈاکٹر رشید انور (C) میاں محمد بخش (D) وارث شاہ
- (7) ”توں دی جن اچھاں کوئی“ لکھاری _____ دی کتاب اے۔ (A) منظور وزیر آبادی (B) سلطان باہو (C) اختر حسین اختر (D) یوسف بخاری
- (8) الطاف قریشی دی کتاب _____ وچوں تیں اک نظم پڑھی اے۔ (A) یاداں (B) مورچلہ یاں سوچاں (C) داتا ہر پالا (D) اکھیاں دے پرچھاویں
- (9) ”سوچ سمندر دے عمر گزرائی“ شاعر _____ دی غزل دا پہلا مصرع اے۔ (A) رؤف شیخ (B) سلیم کاشر (C) علی محمد بلوک (D) الطاف قریشی
- (10) غالب دے _____ مترجموں تیں ”ادب خزینے“ وچ پڑھیا اے۔ (A) سلطان باہو (B) شریف پنجابی (C) امیر عابد (D) حسین شاد
- (11) ماہراں دے مطابق ڈنڈا دا گل رقبہ _____ ایکڑا اے۔ (A) پنجاب ارب (B) مہیہ ارب (C) دیہ ارب (D) دس ارب
- (12) پنجاب دی سب توں وڈی فصل _____ اے۔ (A) کماڈ (B) مکئی (C) چاول (D) کنگ
- (13) ڈرامہ پینگے وچ _____ کردار نیں۔ (A) 11 (B) 8 (C) 9 (D) 10
- (14) فرخندہ لودھی دے ناولٹ داناں اے۔ (A) چٹے دے اوہلے (B) جنڈا انگیار (C) آرسی (D) شہر دے لوک
- (15) تنقید عربی لفظ اے۔ ایہوں پنجابی وچ ”آلوچتا“ دے علاوہ _____ آکھدے نیں۔ (A) ڈراؤ (B) مزاح (C) پرکھ (D) کھوج
- (16) یوسف شاہ چک مغل بادشاہ _____ دے زمانے وچ کشمیر دا حاکم سی۔ (A) بابر (B) اورنگ زیب (C) ہمایوں (D) اکبر
- (17) ”گھسمیلا چانن“ وچ شہود دے دو بھراواں دا ذکر اے۔ چھوٹے داناں سی۔ (A) اشرف (B) سیو (C) آفتاب (D) انور
- (18) سبق ”پنجاب دیاں لوک رساں“ _____ نے لکھیا اے۔ (A) یوسف بخاری (B) ڈاکٹر اختر حسین اختر (C) سجاد حیدر (D) ڈاکٹر بشیر گورایا
- (19) سیغل نامہ (مثنوی سیف الملوک) وچوں _____ لکھت تہا دے سلیبس وچ شامل اے۔ (A) نظم (B) غزل (C) نعت (D) حمد
- (20) راقب قصوری نے نعت _____ رہندیاں آکھنی شروع کیتی سی۔ (A) فیروز پور (B) لاہور (C) قصور (D) سرہند

Paper Code

2018 (S)

رول نمبر

Number: 4327

انٹرمیڈیٹ امتحان پارٹ - II (کلاس بارہویں)

وقت = 30 منٹ

پنجابی پرچہ - دوسرا

کل نمبر = 20

معروضی

نوٹ۔ ہر سوال کے چار ممکنہ جوابات A، B، C اور D دیئے گئے ہیں۔ جوابی کاپی پر ہر سوال کے سامنے دیئے گئے دائروں میں سے درست جواب کے مطابق متعلقہ دائرہ کو مار کر یا پین سے بھر دیجئے۔ ایک سے زیادہ دائروں کو پُر کرنے یا کاٹ کر پُر کرنے کی صورت میں مذکورہ جواب غلط تصور ہوگا۔ دائروں کو پُر نہ کرنے کی صورت میں کوئی نمبر نہیں دیا جائے گا۔ اس سوالیہ پرچہ پر سوالات ہر گز حل نہ کریں۔

سوال نمبر 1-

- (1) یوسف شاہ چک مغل بادشاہ _____ دے زمانے وچ کشمیر دا حاکم سی۔ (A) بابر (B) اورنگ زیب (C) ہمایوں (D) اکبر
- (2) ”گھسٹا چانن“ وچ شوہر دے دو بھراواں دا ذکر اے۔ چھوٹے دا ناں سی۔ (A) اشرف (B) سید (C) آفتاب (D) انور
- (3) سبق ”پنجاب دیاں لوک رساں“ _____ نے لکھیا اے۔ (A) یوسف بخاری (B) ڈاکٹر اختر حسین اختر (C) سجاد حیدر (D) ڈاکٹر بشیر گورایا
- (4) سیفل نامہ (مثنوی سیف الملوک) وچوں _____ لکھت تہا دے سلیبس وچ شامل اے۔ (A) نظم (B) غزل (C) نعت (D) حمد
- (5) راقب قصوری نے نعت _____ رہندیاں آکھنی شروع کیتی سی۔ (A) فیروز پور (B) لاہور (C) قصور (D) سرہند
- (6) ”راٹھن راٹھن مینوں سب کوئی آکھو، ہیر نہ آکھو کوئی“ اے مصرع _____ دا اے۔ (A) سلطان باہو (B) بلھے شاہ (C) شاہ حسین (D) خواجہ فرید
- (7) ”ہو“ اک صوفی شاعر دی مستقل ردیف اے۔ شاعر دا ناں اے۔ (A) شاہ حسین (B) خواجہ فرید (C) سلطان باہو (D) بلھے شاہ
- (8) ”حسن مہمان، نہیں گھریا، کیہ اُسدا فرمانا“ اے مصرع شاعر _____ دا اے۔ (A) فیروز زین شرف (B) استاد کرم (C) وارث شاہ (D) میں محمد بخش
- (9) نظم ”کھاڑکھ“ _____ دی اے۔ (A) اقبال صلاح الدین (B) بشیر مندر (C) بلھے شاہ (D) یعقوب انور
- (10) ”سرگھی داتا را“ وچوں _____ شاعر دی غزل تہا نوں پڑھن نوں وتی گئی اے۔ (A) اکرام مجید (B) رؤف شیخ (C) ڈاکٹر رشید انور (D) سلیم کاشتر
- (11) ”جیہوں مصنف پایا اوہو مینوں چار گیا“ شاعر _____ دا مصرع اے۔ (A) الیاس گھسن (B) ڈاکٹر رشید انور (C) میاں محمد بخش (D) وارث شاہ
- (12) ”توں وی چن اچھاں کوئی“ لکھاری _____ دی کتاب اے۔ (A) منظور وزیر آبادی (B) سلطان باہو (C) اختر حسین اختر (D) یوسف بخاری
- (13) الطاف قریشی دی کتاب _____ وچوں تیس اک نظم پڑھی اے۔ (A) یاداں (B) مورچلہ یاں سوچاں (C) داتا زہر پالا (D) اکھیاں دے پرچھاویں
- (14) ”سوچ سمندر تے عمر گزاری“ شاعر _____ دی غزل دا پہلا مصرع اے۔ (A) رؤف شیخ (B) سلیم کاشتر (C) علی محمد بلوک (D) الطاف قریشی
- (15) غالب دے _____ مترجم نوں تیس ”ادب خزینے“ وچ پڑھیا اے۔ (A) سلطان باہو (B) شریف کجاہی (C) اسیر عابد (D) حسین شاد
- (16) ماہراں دے مطابق دنیا دا کُل رقبہ _____ ایکڑ اے۔ (A) پنجاہ ارب (B) تیس ارب (C) دس ارب (D) دس ارب
- (17) پنجاب دی سب توں وڈی فصل _____ اے۔ (A) کماڈ (B) مکئی (C) چاول (D) کنگ
- (18) ڈرامہ پنگے وچ _____ کردار نیں۔ (A) 11 (B) 8 (C) 9 (D) 10
- (19) فرخندہ لودھی دے ناولٹ دا ناں اے۔ (A) پتے دے اوپے (B) جنڈا انگیار (C) آری (D) شہر دے لوک
- (20) تنقید عربی لفظ اے۔ لہوں پنجابی وچ ”آلوچنا“ دے علاوہ _____ آکھدے نیں۔ (A) ڈراؤ (B) مزاح (C) پرکھ (D) کھوج

www.arifrao.com
 BOARD OF INTERMEDIATE AND SECONDARY EDUCATION, MULTAN
 OBJECTIVE KEY FOR INTERMEDIATE ANNUAL/SUPPLY EXAMINATION, 2018'

Name of Subject: SARAFI Session: 2018 (S)

Q.Nos	Paper Code	Paper Code	Paper Code	Paper Code
	4961			
1	A			
2	A			
3	A			
4	B			
5	D			
6	B			
7	B			
8	C			
9	C			
10	A			
11	C			
12	C			
13	B			
14	D			
15	A			
16	B			
17	A			
18	A			
19	C			
20	D			

سرٹیفکیٹ بابت صحیح سوالیہ پرچہ امارنگ کی Key

ہم نے مضمون سرافکی پرچہ II گروپ سکیم نمبر انٹر سالانہ اضعفی امتحان 2018 کا سوالیہ پرچہ انشائیہ و معروضی (Subjective & Objective) کو بنظر عین چیک کر لیا ہے یہ پرچہ Syllabus کے عین مطابق Set کیا گیا ہے۔ اس سوالیہ پرچہ میں کسی قسم کی کوئی غلطی نہ ہے۔ ہم نے سوالیہ پرچہ کا اردو اور انگریزی Version بھی چیک کر لیا ہے۔ یہ Version آپس میں مطابقت رکھتے ہیں۔ نیز اس پرچہ کی معروضی (MCQs) کی بابت تصدیق کی جاتی ہے کہ اس میں بھی کسی قسم کی کوئی غلطی نہ ہے۔ مزید یہ کہ ہم نے Key بنانے سے متعلق دفتر کی جانب سے تیار کردہ ہدایات وصول کر کے ان کا بغور مطالعہ کر لیا ہے اور ان کی روشنی میں Key بنائی ہے۔ نیز سب ایگزامینرز کیلئے تفصیلی مارکنگ ہدایات / مارکنگ سکیم / Rubrics بھی تیار کر دی گئی ہیں۔

Prepared & Checked By:

Dated: _____

S.#	Name	Designation	Institution	Mobile No	Signature
1	سید حنا علی شاہ	اسٹنٹ سرپرست	گورنمنٹ ایمرن کالج ملتان	03006373829	
2	رفعت اعجاز	سکریٹری	گورنمنٹ وائٹری بلوچستان	03006353405	
3					

ثانوی و اعلیٰ ثانوی تعلیمی بورڈ، ملتان

مورہ: 28/10/2018 مضمون: سہ ماہی پرچہ: آ گروپ: اے
 جنرل ہدایات برائے مارکنگ Key اولڈ سیکیم اینڈ سیکیم (مارکنگ سیکیم)

انٹری پارٹ فرسٹ ایکنڈ سالانہ ضمنی امتحان 2018ء

Sr #	Code	Error Indicated	Sr #	Code	Error Indicated
1.	UN	Un-Necessary	8.	Sp	Spelling Error
2.	Ir	Irrelevant	9.	P	Punctuation
3.	IN	Incomplete	10.	Wo	Wrong word error
4.	EX	Extra	11.	Wt	Wrong Tense
5.	Rp	Re-Produced	12.	Wf	Wrong Form
6.	Is	Insufficient	13.	OA	Over Attempt
7.	Gr	Grammar Error			

اہم نوٹ: ہر سوال "Full Award" سے کم نمبر لگانے کی صورت میں وجہ ضرور لکھیں۔

سوال نمبر 2: بلکھاری کے معنی کا عنوان اور آڑ بھونڈ کے پورے طے دئے جائیں جبکہ کس طرح کے زیادہ سے زیادہ (9) طے دئے جائیں

سوال نمبر 3: مناد کا نام اور لفظ کے معنی کا عنوان کے پورے طے دئے جائیں جبکہ کس طرح کے زیادہ سے زیادہ (7) طے دئے جائیں

سوال نمبر 4: ہر جہز کی کس طرح سے زیادہ سے زیادہ (4) طے دئے جائیں

سوال نمبر 5: بلکھاری کے معنی کے پورے طے دئے جائیں جبکہ طلبہ کے درجہ ہونے کی بھی پورے طے دئے جاسکتے ہیں

سوال نمبر 6: شاعر کا نام کے پورے طے دئے جائیں جبکہ طلبہ کے زیادہ سے زیادہ (3) طے دئے جائیں

سوال نمبر 7: اس سوال کے زیادہ سے زیادہ (9) طے دئے جائیں

سوال نمبر 8: اس سوال کے زیادہ سے زیادہ (14) طے دئے جائیں

28/10/18
 Riazat Khichi
 28/10/18

انٹرمیڈیٹ امتحان پارٹ - II (کلاس بارہویں)

وقت = 2.40 گھنٹے

سراییکی پرچہ - دوسرا

کل نمبر = 80

انشائیہ

نوٹ۔ جوابی کاپی پر وہی سوال نمبر اور جزو نمبر درج کیجیے جو سوالیہ پرچے میں درج ہے۔

حصہ اول2- ڈتے گئے پیرا گراف وچوں صرف ہک دی اگرڈ پچڑ نال تشریح کرو۔ سبق تے لکھاری داناں وی لکھو۔ $15 = 1 + 1 + 3 + 10$

(الف) حضرت خواجہ غلام فریدؒ 1845ء مطابق 26 ذی قعدہ 1261ھ اچ حضرت خواجہ خدا بخشؒ المقلب بہ محبوب الہی دے گھر
 ہے۔ بلین اچ ہی قرآن حفظ کیتا تے بہوں علماں اچ وی کمال کون پچے۔ ظاہری تے باطنی تعلیم و تربیت آپنے وڈے بھرا
 حضرت فخر الدین فخر جہاں ” جہاں دا تخلص اوحدی ہا “ توں حاصل کیتی۔

(ب) پاکستان دے وجود وچ آون توں بعد نواب صادق محمد خان ایس ملک کون گھناں مالی سہارا ڈتا۔ کروڑاں روپے رُوک تے کچھ عرصے
 تیش پاکستان دے سرکاری ملازماں کون تنخواہ جیب اچوں ڈتوئیں۔ بہاولپور، ہندوستان دی اوپہلی ریاست ہی جیڑی پاکستان نال رلی۔

حصہ دوم3- ڈتے گئے نظماں دے جواں وچوں صرف ہک جزوی تشریح کرو۔ نظم دا عنوان تے شاعر داناں وی لکھو۔ $10 = 1 + 1 + 8$

(الف) اسماں سندھ صادق جی ماروی دے
 ہر ویلھے وقت مکانی ہوں
 اسماں اوں مظلوم مسافرہ دے
 ہر ویلھے وقت مکانی ہوں
 (ب) کے تیں ہک پتھاری پاہن
 کے تیں بھیجا کھاندیاں راہن
 بھلا ہوندا اسماں بھولے ہوندے
 بھیجے وچ نہ کیڑے پوندے

4- تلے ڈتے گئے غزلاں دے اشعار دی تشریح کرو۔ $15 = 5 \times 3$

(الف) ایہو عاجزانہ سوال ہے میکوں آپنے در توں جدا نہ کر
 تیڈا ذکر تیڈا خیال ہے میرے نال کوئی دغا نہ کر
 (ب) جیدھا ونڈے پیار وفا دروازے تے
 آکھا حاکم بھیج خدا دروازے تے
 (ج) توں جڈاں یاد آئیں رج کے رُنے اسماں، ساڈے نیناں دے ٹوبھے وی لکھ تار تھئے
 تیڈے سانگے سبج، روہی وانگے پٹنل، آپ کون آپ کیا کیا سنگھاریے اسماں

5- کہیں ہک سبق دا خلاصہ تے لکھاری داناں لکھو۔ $10 = 1 + 9$

(i) ماس تے مٹی (ii) تخی سرورد امیلہ

6- کہیں ہک نظم دا خلاصہ تے شاعر داناں لکھو۔ $5 = 1 + 4$

(i) قلعہ ڈیر اور (ii) جوانی دے جوہر

7- آپنے اتا سیں دی خیریت بارے خط لکھو۔ 10

8- ڈتے گئے عنواناں وچوں صرف ہک عنوان اتے بھرواں مضمون لکھو۔ 15

(i) والدین دے احسانات (ii) ماں بولی وچ تعلیم دی اہمیت

(iii) سرایکی لوک گیت (iv) من بھادناں سرایکی شاعر

Paper Code

2018 (S)

رول نمبر

Number: 4961

انٹرمیڈیٹ امتحان پارٹ - II (کلاس بارہویں)

وقت = 20 منٹ

سرائیکی پرچہ - دوسرا

کل نمبر = 20

معروضی

نوٹ۔ ہر سوال کے چار ممکنہ جوابات A، B، C اور D دیئے گئے ہیں۔ جوابی کاپی پر ہر سوال کے سامنے دیئے گئے دائروں میں سے درست جواب کے مطابق متعلقہ دائرہ کو مار کر یا پین سے بھر دیجئے۔ ایک سے زیادہ دائروں کو پُر کرنے یا کاٹ کر پُر کرنے کی صورت میں مذکورہ جواب غلط تصور ہوگا۔ دائروں کو پُر نہ کرنے کی صورت میں کوئی نمبر نہیں دیا جائے گا۔ اس سوالیہ پرچہ پر سوالات ہر گز حل نہ کریں۔

سوال نمبر 1۔

- (1) حضور کریم دی پہلی ذال _____ بن۔ (A) حضرت اماں خدیجہؓ (B) حضرت اماں عائشہؓ (C) حضرت اماں ماریہؓ (D) حضرت اماں حفصہؓ
- (2) سبق ”خولجہ فرید“ لکھت ہے۔ (A) میرحسان الخیدری چانڈیو (B) الطاف ڈاہر (C) طارق کشکوری (D) شوکت مغل
- (3) نذر دی ذال ہے۔ (A) رجمیاں (B) کموں (C) بھاگ بھری (D) رابیل
- (4) سرائیکی ریاست بہاولپور دے نواب بن۔ (A) نواب کالا باغ (B) نواب صادق محمد خان عباسی (C) نواب قیصر گسی (D) نواب ڈاہر
- (5) ”گلی“ _____ وچ ٹپ مارا۔ (A) کھوہ (B) نہر (C) دریا (D) تالاء
- (6) ”سکھ“ دی جمع ہے۔ (A) پتے (B) سکے (C) دستے (D) کاپیاں
- (7) ”پتے“ دی واحد ہے۔ (A) سکھ (B) پتہ (C) دستہ (D) کاپی
- (8) ”میز“ دی جمع ہے۔ (A) لکڑیاں (B) کرسیاں (C) میزاں (D) کاٹھ
- (9) ”جال“ دی جمع ہے۔ (A) کھالیاں (B) چالیاں (C) جالیاں (D) کھال
- (10) ”نہراں“ دی واحد ہے۔ (A) نہر (B) چشمہ (C) سنہر (D) ندی
- (11) محاورہ ”توڑنھاوٹ“ دامطلب ہے۔ (A) بر باد کرن (B) اکھوٹن (C) ہمیشہ نال راہون (D) دغا کرن
- (12) محاورہ ”شوشا چھوڑن“ دامطلب ہے۔ (A) سچ بولن (B) بخت لگن (C) انواہ چھوڑن (D) خوشامد کرن
- (13) محاورہ ”دل کھٹا کرن“ دامطلب ہے۔ (A) پیار کرن (B) نفرت کرن (C) چپ کرن (D) محنت کرن
- (14) محاورہ ”اک تک کرن“ دامطلب ہے۔ (A) خوش کرن (B) محنت کرن (C) پیار کرن (D) تنگ کرن
- (15) محاورہ ”بخت لگن“ دامطلب ہے۔ (A) نصیب چنگ تھیون (B) نفرت کرن (C) دل کھٹا کرن (D) چپ کرن
- (16) ”اُستاد“ دامترادف ہے۔ (A) حاکم (B) مرشد (C) غلام (D) بادشاہ
- (17) ”عالم“ دامترادف ہے۔ (A) جاہل (B) قاضی (C) اُستاد (D) مرشد
- (18) ”والد“ دی مؤنث ہے۔ (A) والدہ (B) پتر (C) بھتر بجا (D) چاچا
- (19) ”کبری“ دامذکر ہے۔ (A) بھید (B) اُٹھ (C) کبرا (D) گھوڑا
- (20) ”رات“ دامترادف ہے۔ (A) اجالا (B) روشنی (C) دن (D) اندھیرا

Name of Subject: Arabic

Session: Supply, 2018

Q.Nos	Paper Code 4241	Paper Code 4243	Paper Code 4245	Paper Code 4247
1	D	C	B	D
2	B	C	A	C
3	B	B	B	B
4	D	A	C	B
5	C	B	C	A
6	B	D	B	B
7	B	D	A	C
8	A	B	B	C
9	B	B	D	B
10	C	D	D	A
11	C	C	B	B
12	B	B	B	D
13	A	B	D	D
14	B	A	C	B
15	D	B	B	B
16	D	A	D	C
17	C	A	A	D
18	D	D	A	A
19	A	C	D	A
20	A	D	C	D

سرٹیفکیٹ بابت صحیح سوالیہ پرچہ امارکنگ Key

ہم نے مضمون عربی پرچہ دوسرا گروپ یکم انٹرسالانہ امتحانی امتحان 2018 کا سوالیہ پرچہ انشائیہ و معروضی (Subjective & Objective) کو بنظر محنت چیک کر لیا ہے یہ پرچہ Syllabus کے عین مطابق Set کیا گیا ہے۔ اس سوالیہ پرچہ میں کسی قسم کی کوئی غلطی نہ ہے۔ ہم نے سوالیہ پرچہ کا اردو اور انگریزی Version بھی چیک کر لیا ہے۔ یہ Version آپس میں مطابقت رکھتے ہیں۔ نیز اس پرچہ کی معروضی (MCQs) Key کی بابت تصدیق کی جاتی ہے کہ اس میں بھی کسی قسم کی کوئی غلطی نہ ہے۔ مزید یہ کہ ہم نے Key بنانے سے متعلق دفتر کی جانب سے تیار کردہ ہدایات وصول کر کے ان کا بغور مطالعہ کر لیا ہے اور ان کی روشنی میں Key بنائی ہے۔ نیز سب ایگزامینرز کیلئے تفصیلی مارکنگ ہدایات / مارکنگ اسکیم / Rubrics بھی تیار کر دی گئی ہیں۔

Prepared & Checked By:

Dated: 29-10-2018

S.#	Name	Designation	Institution	Mobile No	Signature
1	Dr. Hafiz Muhammad Ashgar Asad	Professor	Govt Emerson College Multan	03448798093	
2	Rizwan Ahmad Jan	A.P	Govt Emerson College Multan	0301-8023000	
3					

ثانوی و اعلیٰ ثانوی تعلیمی بورڈ، ملتان

تاریخ: 29-10-2018 مضمون: عربی پرچہ: B گروپ: -

جزل ہدایات برائے مارکنگ Key اولڈ سکیم انو سکیم (مارکنگ سکیم)

انٹرنیٹ فرسٹ ایکنڈ سالانہ امتحانی امتحان 2018ء

Sr #	Code	Error Indicated	Sr #	Code	Error Indicated
1.	UN	Un-Necessary	8.	Sp	Spelling Error
2.	Ir	Irrelevant	9.	P	Punctuation
3.	IN	Incomplete	10.	Wo	Wrong word error
4.	EX	Extra	11.	Wt	Wrong Tense
5.	Rp	Re-Produced	12.	Wf	Wrong Form
6.	Is	Insufficient	13.	OA	Over Attempt
7.	Gr	Grammar Error			

اہم نوٹ: ہر سوال "Full Award" سے کم نمبر لگانے کی صورت میں وجہ ضرور لکھیں۔

سوال نمبر 2 عربی زبان میں مختصر جوابات دینے ہیں۔ مختصر جوابات کی صورت میں ایک نمبر اور مکمل اور درست جواب تکلفیہ پر گورنر نمبر دیتے ہیں۔ اعراب مطلوب نہیں۔

سوال نمبر 3 (ا) اردو سے عربی زبان میں ترجمہ مطلوب ہے۔ مکمل اور درست جواب پر گورنر نمبر دیتے ہیں۔ تاہم اگر مختصر جواب پر ایک نمبر کاٹا جائے۔

(ب) واحد جمع درست لکھنے پر گورنر نمبر دیتے ہیں۔

(ج) جملے مکمل اور مفید ہونے پر گورنر نمبر دیتے ہیں۔ اور جو جواب ناقابل قبول ہے

سوال نمبر 4 عربی سے اردو ترجمہ مطلوب ہے۔ درست ترجمہ اور مکمل ترجمہ پر گورنر سات نمبر دیتے ہیں۔ تاہم اگر غلطی پر نمبر گورنر کاٹا جائے۔

سوال نمبر 5 دو شعری قطعہ کا اردو ترجمہ پر گورنر نمبر دیتے ہیں۔


سوال نمبر 6 (ا) درخواست عربی زبان میں لکھی ہو۔ خطاب و سلام اور آخر میں اختتام

کے ایک ایک نمبر اور درمیانی حصہ کے دو نمبر ہیں۔ اگر آگے تک نمبر دیتے ہیں۔

(ب) خط عربی زبان میں ہونا چاہیے۔ زیادہ سے زیادہ آگے تک نمبر دیتے جاسکتے ہیں۔

سوال نمبر 7 صافی کی گردان میں اعراب کا خیال رکھا جائے۔ صفحات

مطلوب نہیں۔

(ر) 

وقت = 2.30 گھنٹے
کل نمبر = 80

انشائیہ

عربی پرچہ - دوسرا

حصہ اول

- 2- أجب بالعربیة عن عشر جمَلٍ مما یأتی - (مندرجہ ذیل میں سے دس سوالات کے عربی میں جوابات دیجیے۔) 20
- (i) فی ائی سنۃ توفی السید جمال الدین الأفغانی؟ (ii) إلی من کتب أبو بکر رضی اللہ عنہ الرسالة؟
- (iii) هل یمکن أن یلعن الرجل والدیہ؟ (iv) هل بآکستان دولة إسلامیة کبری فی آسیا؟
- (v) أين فتح حسن حسابہ؟ (vi) أين یضع أسامہ میزان الحرارة؟
- (vii) بماذا أوصی اللہ الإنسان بوالدیہ؟ (viii) ما هی نواة الإسلام؟
- (ix) فی ائی سنۃ ولد فیصل المعظم رحمہ اللہ؟ (x) أتحب جمال الطبیعة؟
- (xi) ما هی آفة العلم؟ (xii) بماذا بدأ عمر بن عبد العزیز رحمہ اللہ خطبته؟
- (xiii) وما هی لعبة بآکستان القومیة؟ (xiv) ما هو أشد من القتل؟
- (xv) أين یقضى المواطنون الصیف؟

- 3- (الف) ترجم ترجمی بالعربیة خمس جمَلٍ مما یأتی - (مندرجہ ذیل میں سے پانچ جملوں کا عربی میں ترجمہ کیجیے۔) 10
- (i) آپ نے عربی و اسلامی علوم کا بل میں حاصل کئے۔ (ii) باقل عرب کے ایک احمق کا نام ہے۔
- (iii) مسلمان جنت میں داخل ہوں گے۔ (iv) یہ چراغ تیرے ہاتھ آ گیا ہے۔
- (v) میں کبھی اپنے وطن کو دھوکہ نہ دوں گا۔ (vi) مؤمن جب دوسرے مؤمن سے ملتا ہے تو سلام کہتا ہے۔
- (vii) پاکستان ۱۹۴۷ میں قائم ہوا۔ (viii) بیگ سے کس طرح رقم نکلوائی جاسکتی ہے؟

- 5 (ب) هاتِ رهاٹی خمس جموع المفردات و مفردات الجموع الآتیة - (درج ذیل میں سے پانچ الفاظ کے واحد کے جمع اور جمع کے واحد لکھیے۔)
- أقالیم - رُعَماء - بلد - نفس - وقت - أسَمال - أبطال - خصلۃ

- 5 (ج) استخیم / استخیم خمس کلمات مما یأتی فی جمَلٍ مفیدة (درج ذیل میں سے پانچ الفاظ کو مفید عربی جملوں میں استعمال کیجیے)
- عُضو - رجیل - حمائم - کفر - غلب - جهاز - طلل - أساس

حصہ دوم

- 4- ترجم ترجمی الجزئین من الأجزاء الآتیة إلی الأردیة - (درج ذیل اجزائیں سے دو اجزا کا اردو میں ترجمہ کیجیے)
- 15 = 7½ + 7½

(الف) وَلَمَّا وَصَلَ إلی الأستانة فی تزکیا العثمانيّة استقبله الصدر الأعظم استقبالا حارًا
وَ أكرمه ثم عینہ عضواً فی مجلس المعارف ولم یعجب إقامته الكثيرین من الرُعَماء
وَ رجال الدین فأخذوا یدسّون و یختلقون الأقویل الباطلة علیه فخرج من الأستانة
متجهاً إلی القاهرة.

(2)

(ب) لِلْمُؤْمِنِ عَلَى الْمُؤْمِنِ سِتٌّ خِصَالٌ ؛ يَعُودُهُ إِذَا مَرِضَ ، وَيَشْهَدُهُ إِذَا مَاتَ ، وَيُجِيبُهُ إِذَا دَعَاهُ ، وَيُسَلِّمُ عَلَيْهِ إِذَا لَقِيَهُ ، وَيُشَمِّتُهُ إِذَا عَطَسَ ، وَيَنْصَحُ لَهُ إِذَا غَابَ . رَوَاهُ لُنَسَائِي . قَالَ رَسُولُ اللَّهِ صَلَّى اللَّهُ عَلَيْهِ وَآلِهِ وَسَلَّمَ أَلْخَلْقُ عِيَالُ اللَّهِ ، فَأَحَبُّ الْخَلْقِ إِلَى اللَّهِ مَنْ أَحْسَنَ إِلَى عِيَالِهِ .

(ج) يَتَحَدَّثُ لَوْزِدَ هَيْدَلِي عَنْ شَخْصِيَّةٍ مَحَمَّدِ بْنِ عَبْدِ اللَّهِ بِاعْتِبَارِهَا الْمَثَلِ الْأَعْلَى فَيَقُولُ : إِنَّ لِلنَّبِيِّ الْعَرَبِيِّ أَخْلَاقًا قَوِيَّةً مَبْتَنَةً وَ شَخْصِيَّةً وَزِنْتَ وَ مَحَصَّتْ وَ اخْتَبَرَتْ فِي كُلِّ خُطْوَةٍ مِنْ خُطَا حَيَاتِهِ وَلَا نَقْصَ فِيهَا عَلَى الْإِطْلَاقِ .

5 + 5

5- تَرْجِمُ / تَرْجِمِي الْقِطْعَتَيْنِ مِنَ الْقِطْعَاتِ الشَّعْرِيَّةِ الْآتِيَةِ إِلَى اللُّغَةِ الْأُرْدِيَّةِ

(درج ذیل میں سے دو قطعات کا اردو میں ترجمہ کیجیے)

(الف) كُنْ إِلَى الْمَوْتِ عَلَى حُبِّ الْوَطَنِ
وَطَنُ الْمَرْءِ حِمَاهُ الْمُفْتَدَى
قَدْ عَرَفْتَ الدَّارَ وَالْأَهْلَ بِهِ
وَتَعْظُمُ فِي عَيْنِ الصَّغِيرِ صِغَارُهَا
تَجَمَّعَتْ فِي فُؤَادِهِ هِمَمٌ
فَإِنْ أَتَى حَظُّهَا بِأَزْمِنَةٍ
خَلَعَ الدَّبْنُوعُ عَلَى غُصُونِ الْبَنَانِ
وَنَمَتْ فُرُوعُ الدَّوْحِ حَتَّى صَافَحَتْ
وَتَنَوَّعَتْ بَسْطُ الرِّيَاضِ ، فَزَهَّرَهَا

(ب)

(ج)

مَنْ يَخُنْ أَوْطَانَهُ ، يَوْمًا يُخُنْ
يَذُكُرُ الْمِنَّةَ مِنْهُ وَالْيَدَا
كُلُّ حُبِّ شَعْبَةٍ مِنْ حُبِّهِ
وَتَصْغُرُ فِي عَيْنِ الْعَظِيمِ الْعُظَائِمُ
مِلءُ فَوْادِ الزَّمَانِ إِحْدَاهَا
أَوْسَعُ مِنْ ذَا الزَّمَانِ أُبْدَاهَا
خَلَّأَ فَوَاضِلَهَا عَلَى الْكُتُبَانِ
كَفَلَ الْكُتَيْبِ نَوَائِبَ الْأَغْصَانِ
مُتَبَايِنِ الْأَشْكَالِ وَالْأَلْوَانِ

6- اُكْتُبْ / اُكْتُبِي طَلَبًا بِاللُّغَةِ الْعَرَبِيَّةِ إِلَى رَئِيسِ الْكَلِيَّةِ .

(پرنسپل صاحب کو بوجہ بیماری رخصت کے لیے عربی میں درخواست لکھیے)

10

(اَوْ) (يَا)

اُكْتُبْ / اُكْتُبِي رِسَالَةً إِلَى أَبِيكَ تَطْلُبُ رِ تَطْلُبِينَ النُّقُودَ بِالْعَرَبِيَّةِ .

(اپنے والد صاحب کو پیسے منگوانے کے لیے عربی میں خط لکھیں۔)

7- اُكْتُبْ / اُكْتُبِي تَصْرِيْفَ الْمَاضِي مِنْ كَلِمَةِ " شَهَدَ " .

("شہد" سے فعل ماضی معروف کی گردان لکھیے۔)

5

وقت = 30 منٹ

کل نمبر = 20

معروضی

پرچہ - دوسرا

عربی

نوٹ۔ ہر سوال کے چار ممکنہ جوابات A، B، C اور D دیئے گئے ہیں۔ جوابی کاپی پر ہر سوال کے سامنے دیئے گئے دائروں میں سے درست جواب کے مطابق متعلقہ دائرہ کو مار کر یا پین سے بھر دیجئے۔ ایک سے زیادہ دائروں کو بھر کرنے یا کاٹ کر بھر کرنے کی صورت میں مذکورہ جواب غلط تصور ہوگا۔ دائروں کو بھر نہ کرنے کی صورت میں کوئی نمبر نہیں دیا جائے گا۔ اس سوالیہ پرچہ پر سوالات ہرگز حل نہ کریں۔

سوال نمبر 1۔

- (1) كَانَ السَّيِّدُ جَمَالَ الدِّينِ _____ مِنَ الرَّعِيْلِ الْأَوَّلِ. (A) الْبَلَكِسْتَانِي (B) الْهِنْدِي (C) الْعَرَبِيُّ (D) الْأَفْغَانِيُّ
- (2) شُكْرًا لَكَ يَا _____ الْفَاضِلَ. (A) أَحْ (B) آخِي (C) أَبِي (D) صَدِيقِي
- (3) قَدْ أَمَرَ أَبُو بَكْرٍ خَالِدًا بِالْمَسِيرِ _____ الْعِرَاقِ. (A) حَتَّى (B) إِلَى (C) عَلَى (D) مِنْ
- (4) كُنْ إِلَى _____ عَلَى حُبِّ الْوَطَنِ. (A) الْحَيَاةِ (B) الرُّوحِ (C) النَّفْسِ (D) الْمَوْتِ
- (5) تَقَعُ بَلَكِسْتَانُ جُغْرَافِيًّا فِي مَنطِقَةٍ _____ آسِيَا. (A) شِمَالِ (B) غَرْبِ (C) جُنُوبِ (D) شَرْقِ
- (6) تَوَلَّسْتَوِي فَهَوَّ كَاتِبٌ _____ (A) أَمْرِيكِيُّ (B) رُوسِيُّ (C) يَمَنِيُّ (D) أَفْرِيْقِيُّ
- (7) هَذِهِ طَرِيقَةٌ _____ مَأْمُونَةٌ. (A) مُغْلَقٌ (B) سَهْلَةٌ (C) سَهْلٌ (D) صَعْبٌ
- (8) الْمُؤْمِنُ لِلْمُؤْمِنِ _____ (A) كَالْبَنِيَانِ (B) كَالْبَيْتِ (C) كَالجِدَارِ (D) كَالسَّقْفِ
- (9) هَلْ أَخَذْتَ لِلْكَشْفِ _____ (A) مَوْقِعًا (B) مَوْعِدًا (C) مَوْطِنًا (D) طَيْبًا
- (10) وَاعْبُدُوا اللَّهَ وَلَا _____ بِهِ شَيْئًا. (A) تَكْرَهُوْا (B) تَفْعَلُوْا (C) تُشْرِكُوْا (D) تَزْكُرُوْا
- (11) قَدْ وُلِدَ فَيَصَلُ بْنُ عَبْدِ الْعَزِيزِ بِمَدِينَةِ _____ (A) الطَّائِفِ (B) كُوفَةَ (C) الرِّيَاضِ (D) الدَّامَمِ
- (12) مَاءٌ زَمَزَمَ _____ السَّقِيمِ. (A) السَّعُودِيُّ (B) يَسْفِينِي (C) حُبُّ (D) الْبَيْتِ
- (13) لَا يُلْدَعُ الْمُؤْمِنُ مِنْ جُحْرِ وَاحِدٍ _____ (A) مَرَّتَيْنِ (B) مَرَّةً (C) ثَلَاثَ مَرَّاتٍ (D) أَرْبَعَ مَرَّاتٍ
- (14) لَا خَوْفٌ عَلَيْهِمْ وَلَا _____ يَخْزَنُونَ. (A) هُوَ (B) هُمْ (C) هُنَّ (D) هِيَ
- (15) خَيْرُكُمْ مَنْ تَعَلَّمَ _____ وَ عَلَّمَهُ. (A) الْفِقَّةَ (B) الْحَدِيثَ (C) التَّارِيخَ (D) الْقُرْآنَ

ہاترہاتی صیغہ الماضي من المضارع و صیغہ المضارع من الماضي۔

(درج ذیل ماضی کے لیے مضارع اور مضارع کے لیے ماضی کا چناؤ کیجیے۔)

- (16) نَصَرَ (A) تَنْصُرُ (B) أَنْصُرُ (C) نَنْصُرُ (D) يَنْصُرُ
- (17) يَقُولُ (A) قَالَا (B) قَالَتْ (C) قَالَ (D) قَالَتَا
- (18) فَتَحَ (A) تَفْتَحُ (B) نَفْتَحُ (C) أَفْتَحُ (D) يَفْتَحُ
- (19) أَحْسَنَ (A) يُحْسِنُ (B) تُحْسِنُ (C) حَسَنَ (D) أَحْسَنَا
- (20) يَحْمِلُ (A) حَمَلَ (B) حَمَلُوا (C) حَمَلَتْ (D) حَمَلَا

وقت = 30 منٹ

معروضی

عربی پرچہ - دوسرا

کل نمبر = 20

نوٹ۔ ہر سوال کے چار ممکنہ جوابات A، B، C اور D دیئے گئے ہیں۔ جوابی کاپی پر ہر سوال کے سامنے دیئے گئے دائروں میں سے درست جواب کے مطابق متعلقہ دائرہ کو مار کر یا پین سے بھر دیجئے۔ ایک سے زیادہ دائروں کو پُر کرنے یا کاٹ کر پُر کرنے کی صورت میں مذکورہ جواب غلط تصور ہوگا۔ دائروں کو پُر نہ کرنے کی صورت میں کوئی نمبر نہیں دیا جائے گا۔ اس سوالیہ پرچہ پر سوالات ہر گز حل نہ کریں۔

سوال نمبر 1-

- (1) وَاعْبُدُوا اللَّهَ وَلَا _____ بِهِ شَيْئًا. (A) تَكْرَهُوا (B) تَفْعَلُوا (C) تُشْرِكُوا (D) تَزَكَّرُوا
- (2) قَدْ وُلِدَ فَيَصِلُ بْنُ عَبْدِ الْعَزِيزِ بِمَدِينَةِ _____ (A) الطَّائِفِ (B) كُوفَةَ (C) الرِّيَّاضِ (D) الدَّامِ
- (3) مَاءٌ زَمَزَمَ _____ السَّقِيمَ. (A) السُّعُودِيُّ (B) يَشْفِي (C) حُبًّا (D) الْبَيْتِ
- (4) لَا يُلْدَغُ الْمُؤْمِنُ مِنْ جُحْرِ وَاحِدٍ _____ (A) مَرَّتَيْنِ (B) مَرَّةً (C) ثَلَاثَ مَرَّاتٍ (D) أَرْبَعَ مَرَّاتٍ
- (5) لَا خَوْفَ عَلَيْهِمْ وَلَا _____ يَحْزَنُونَ. (A) هُوَ (B) هُمْ (C) هُمَا (D) هِيَ
- (6) خَيْرِكُمْ مَنْ تَعَلَّمَ _____ وَ عَلَّمَهُ. (A) الْفِقْهَ (B) الْحَدِيثَ (C) التَّارِيخَ (D) الْقُرْآنَ
- (7) كَانَ السَّيِّدُ جَمَالَ الدِّينِ _____ مِنَ الرَّعِيلِ الْأَوَّلِ (A) الْبَلْخِسْتَانِي (B) الْهِنْدِي (C) الْعَرَبِيُّ (D) الْأَفْغَانِيُّ
- (8) شُكْرًا لَكَ يَا _____ الْفَاضِلَ. (A) أَخِي (B) أَخِي (C) أَبِي (D) صَدِيقِي
- (9) قَدْ أَمَرَ أَبُو بَكْرٍ خَالِدًا بِالْمَسِيرِ _____ الْعِرَاقِ. (A) حَتَّى (B) إِلَى (C) عَلَى (D) مِنْ
- (10) كُنْ إِلَى _____ عَلَى حُبِّ الْوَطَنِ. (A) الْحَيَاةِ (B) الرُّوحِ (C) النَّفْسِ (D) الْمَوْتِ
- (11) تَقَعُ بَلْخِسْتَانُ جُغْرَافِيًّا فِي مَنطِقَةِ _____ آسِيَا. (A) شِمَالِ (B) غَرْبِ (C) جُنُوبِ (D) شَرْقِ
- (12) تَوْلَسْتَوِي فَهُوَ كَاتِبٌ _____ (A) أَمْرِيكِيُّ (B) رُوسِي (C) يَمْنِي (D) آفْرِيْقِي
- (13) هَذِهِ طَرِيقَةٌ _____ مَأْمُونَةٌ. (A) مَعْلُوقٌ (B) سَهْلَةٌ (C) سَهْلٌ (D) صَعْبٌ
- (14) الْمُؤْمِنُ لِلْمُؤْمِنِ _____ (A) كَالْبُنْيَانِ (B) كَالْبَيْتِ (C) كَالْحَدَارِ (D) كَالسَّقْفِ
- (15) هَلْ أَخَذْتَ لِلْكَشْفِ _____ (A) مَوْقِعًا (B) مَوْعِدًا (C) مَوْطِنًا (D) طَبِيبًا

ہاترہاتی صیغہ الماضي من المضارع و صیغہ المضارع من الماضي۔

(درج ذیل ماضی کے لیے مضارع اور مضارع کے لیے ماضی کا چناؤ کیجئے۔)

- (16) أَحْسَنَ (A) يُحْسِنُ (B) تُحْسِنُ (C) حَسَنَ (D) أَحْسَنَا
- (17) يَحْمِلُ (A) حَمَلَ (B) حَمِلُوا (C) حَمَلَتْ (D) حَمَلَا
- (18) نَصَرَ (A) تَنْصُرُ (B) أَنْصُرُ (C) نَنْصُرُ (D) يَنْصُرُ
- (19) يَقُولُ (A) قَالَا (B) قَالَتْ (C) قَالَ (D) قَالَتَا
- (20) فَتَحَ (A) تَفْتَحُ (B) نَفْتَحُ (C) أَفْتَحُ (D) يَفْتَحُ

وقت = 30 منٹ

معروضی

پرچہ - دوسرا

عربی

کل نمبر = 20

نوٹ۔ ہر سوال کے چار ممکنہ جوابات A، B، C اور D دیئے گئے ہیں۔ جوابی کاپی پر ہر سوال کے سامنے دیئے گئے دائروں میں سے درست جواب کے مطابق متعلقہ دائرہ کو مار کر یا پین سے بھر دیجئے۔ ایک سے زیادہ دائروں کو پُر کرنے یا کاٹ کر پُر کرنے کی صورت میں مذکورہ جواب غلط تصور ہوگا۔ دائروں کو پُر نہ کرنے کی صورت میں کوئی نمبر نہیں دیا جائے گا۔ اس سوالیہ پرچہ پر سوالات ہر گز حل نہ کریں۔

سوال نمبر 1۔

- (1) هَذِهِ طَرِيقَةٌ _____ مَأْمُونَةٌ. (A) مُغْلَقٌ (B) سَهْلَةٌ (C) سَهْلٌ (D) صَغْبٌ
- (2) الْمُؤْمِنُ لِلْمُؤْمِنِ _____ (A) كَالْبُنْيَانِ (B) كَالْبَيْتِ (C) كَالجِدَارِ (D) كَالسَّقْفِ
- (3) هَلْ أَخَذْتَ لِلْكَشْفِ _____ (A) مَوْقِعًا (B) مَوْعِدًا (C) مَوْطِنًا (D) طَبِيبًا
- (4) وَاعْبُدُوا اللَّهَ وَلَا _____ بِشَيْءٍ. (A) تَكَرَّهُوْا (B) تَفَعَّلُوا (C) تُشْرِكُوا (D) تَزْكُرُوا
- (5) قَدْ وُلِدَ فَيَضِلُّ بَنُ عَبْدِ الْعَزِيزِ بِمَدِينَةِ _____ (A) الطَّائِفِ (B) كُوفَهْ (C) الرِّيَاضِ (D) الدَّامِ
- (6) مَاءٌ زَمَزَمَ _____ السَّقِيمِ. (A) السَّعُودِيُّ (B) يَشْفِي (C) حُبُّ (D) الْبَيْتِ
- (7) لَا يُلْدَعُ الْمُؤْمِنُ مِنْ جُحْرٍ وَاحِدٍ _____ (A) مَرَّتَيْنِ (B) مَرَّةً (C) ثَلَاثَ مَرَّاتٍ (D) أَرْبَعَ مَرَّاتٍ
- (8) لَا خَوْفٌ عَلَيْهِمْ وَلَا _____ يَخْزَنُونَ. (A) هُوَ (B) هُمْ (C) هُمَا (D) هِيَ
- (9) خَيْرُكُمْ مَنْ تَعَلَّمَ _____ وَ عَلَّمَهُ. (A) الْفَقْهَ (B) الْحَدِيثَ (C) التَّارِيخَ (D) الْقُرْآنَ
- (10) كَانَ السَّيِّدُ جَمَالَ الدِّينِ _____ مِنَ الرَّعِيلِ الْأَوَّلِ. (A) الْبَاكِشْتَانِي (B) الْهِنْدِي (C) الْعَرَبِيُّ (D) الْأَفْغَانِيُّ
- (11) شُكْرًا لَكَ يَا _____ الْفَاضِلَ. (A) أَحْ (B) أَحْيَ (C) أَبِي (D) صَدِيقِي
- (12) قَدْ أَمَرَ أَبُو بَكْرٍ خَالِدًا بِالْمَسِيرِ _____ الْعِرَاقِ. (A) حَتَّى (B) إِلَى (C) عَلَى (D) مِنْ
- (13) كُنْ إِلَى _____ عَلَى حُبِّ الْوَطَنِ. (A) الْحَيَاةِ (B) الزَّوْجِ (C) النَّفْسِ (D) الْمَوْتِ
- (14) تَقَعُ بَلِكِسْتَانُ جُغْرَافِيًّا فِي مَنطِقَةِ _____ آسِيَا. (A) شِمَالِ (B) غَرْبِ (C) جَنُوبِ (D) شَرْقِ
- (15) تَوْلَسْتَوِي فَهُوَ كَاتِبٌ _____ (A) آمْرِيكِي (B) رُوسِي (C) يَمْنِي (D) أَفْرِيْقِي

ہات/ہاتی صیغۃ الماضي من المضارع و صیغۃ المضارع من الماضي۔

(درج ذیل ماضی کے لیے مضارع اور مضارع کے لیے ماضی کا چناؤ کیجیے۔)

- (16) فَتَحَ (A) تَفَتَحَ (B) نَفَتَحَ (C) أَفَتَحَ (D) يَفَتَحُ
- (17) أَحْسَنَ (A) يُحْسِنُ (B) تُحْسِنُ (C) حَسَنَ (D) أَحْسَنَا
- (18) يَحْمِلُ (A) حَمَلَ (B) حَمِلُوا (C) حَمَلَتْ (D) حَمَلَا
- (19) نَصَرَ (A) تَنْصُرُ (B) أَنْصُرُ (C) نَنْصُرُ (D) يَنْصُرُ
- (20) يَقُولُ (A) قَالَا (B) قَالَتْ (C) قَالَ (D) قَالَتَا

وقت = 30 منٹ

معروضی

عربی پرچہ - دوسرا

کل نمبر = 20

نوٹ۔ ہر سوال کے چار ممکنہ جوابات A، B، C اور D دیئے گئے ہیں۔ جوابی کاپی پر ہر سوال کے سامنے دیئے گئے دائروں میں سے درست جواب کے مطابق متعلقہ دائرہ کو مار کر یا پین سے بھر دیجئے۔ ایک سے زیادہ دائروں کو پُر کرنے یا کاٹ کر پُر کرنے کی صورت میں مذکورہ جواب غلط تصور ہوگا۔ دائروں کو پُر نہ کرنے کی صورت میں کوئی نمبر نہیں دیا جائے گا۔ اس سوالیہ پرچہ پر سوالات ہر گز حل نہ کریں۔

سوال نمبر 1۔

- (1) كُنْ إِلَى _____ عَلَى حُبِّ الْوَطَنِ. (A) الْحَيَاةِ (B) الزَّوْجِ (C) النَّفْسِ (D) الْمَوْتِ
- (2) تَقَعُ بَلِكِسْتَانُ جُغْرَافِيًّا فِي مَنطِقَةٍ _____ آسِيَا. (A) شِمَالِ (B) غَرْبِ (C) جُنُوبِ (D) شَرْقِ
- (3) تَوَلَسْتُوِي فَهَوَ كَاتِبٌ _____ (A) أَمْرِيكِيُّ (B) رُوسِيٌّ (C) يَمْنِيٌّ (D) أَفْرِيْقِيٌّ
- (4) هَذِهِ طَرِيقَةٌ _____ مَأْمُونَةٌ. (A) مَغْلُوقٌ (B) سَهْلَةٌ (C) سَهْلٌ (D) صَعْبٌ
- (5) الْمُؤْمِنُ لِلْمُؤْمِنِ _____ (A) كَالْبَنِيَانِ (B) كَالْبَنِيَتِ (C) كَالجِدَارِ (D) كَالسَّقْفِ
- (6) هَلْ أَخَذْتَ لِلْكَشْفِ _____ (A) مَوْقِعًا (B) مَوْعِدًا (C) مَوْطِنًا (D) طَيْبًا
- (7) وَاعْبُدُوا اللَّهَ وَلَا _____ بِهِ شَيْئًا. (A) تَكْرَهُوْا (B) تَفْعَلُوْا (C) تُشْرِكُوْا (D) تَزَكَّرُوْا
- (8) قَدْ وُلِدَ فَيَصَلُ بَنُ عَبْدِ الْعَزِيْزِ بِمَدِيْنَةِ _____ (A) الطَّائِفِ (B) كُوفَهْ (C) الرِّيَاضِ (D) الدَّامَمِ
- (9) مَاءٌ زَمَزَمَ _____ السَّقِيْمَ. (A) السُّعُوْدِيُّ (B) يَشْفِي (C) حُبُّ (D) الْبَيْتِ
- (10) لَا يُلْدَغُ الْمُؤْمِنُ مِنْ جُحْرِ وَاحِدٍ _____ (A) مَرَّتَيْنِ (B) مَرَّةً (C) ثَلَاثَ مَرَّاتٍ (D) أَرْبَعَ مَرَّاتٍ
- (11) لَا خَوْفٌ عَلَيْهِمْ وَلَا _____ يَحْزَنُونَ. (A) هُوَ (B) هُمْ (C) هُمَا (D) هِيَ
- (12) خَيْرُكُمْ مَنْ تَعَلَّمَ _____ وَ عَلَّمَهُ. (A) الْفِقْهَةَ (B) الْحَدِيثَ (C) التَّارِيخَ (D) الْقُرْآنَ
- (13) كَانَ السِّيْدُ جَمَالَ الدِّيْنِ _____ مِنَ الرَّعِيْلِ الْأَوَّلِ. (A) الْبَلِكِسْتَانِي (B) الْهِنْدِي (C) الْعَرَبِيُّ (D) الْأَفْغَانِيُّ
- (14) شُكْرًا لَكَ يَا _____ الْفَاضِلَ. (A) أَخٌ (B) أَخِي (C) أَبِي (D) صَدِيْقِي
- (15) قَدْ أَمَرَ أَبُو بَكْرٍ خَالِدًا بِالْمَسِيْرِ _____ الْعِرَاقِ. (A) حَتَّى (B) إِلَى (C) عَلَى (D) مِنْ

ہاترہاتی صیغۃ الماضي من المضارع و صیغۃ المضارع من الماضي۔

(درج ذیل ماضی کے لیے مضارع اور مضارع کے لیے ماضی کا چناؤ کیجیے۔)

- (16) يَقُولُ (A) قَالًا (B) قَالَتْ (C) قَالَ (D) قَالَتَا
- (17) فَتَحَ (A) تَفْتَحُ (B) نَفْتَحُ (C) أَفْتَحُ (D) يَفْتَحُ
- (18) أَحْسَنَ (A) يُحْسِنُ (B) تُحْسِنُ (C) حَسَنَ (D) أَحْسَنَا
- (19) يَحْمِلُ (A) حَمَلَ (B) حَمَلُوا (C) حَمَلَتْ (D) حَمَلَا
- (20) نَصَرَ (A) تَنْصُرُ (B) أَنْصُرُ (C) نَنْصُرُ (D) يَنْصُرُ

www.arifrao.com
 BOARD OF INTERMEDIATE AND SECONDARY EDUCATION, MULTAN
 OBJECTIVE KEY FOR INTERMEDEAT ANNUAL/SUPPLY EXAMINATION, 2018'

Name of Subject: Eng Elective II Session: _____

Q.Nos	Paper Code	Paper Code	Paper Code	Paper Code
	4271			
1	C			
2	B			
3	D			
4	C			
5	A			
6	B			
7	B			
8	A			
9	C			
10	D			
11	B			
12	A			
13	D			
14	C			
15	B			
16	C			
17	A			
18	D			
19	A			
20	B			

سرٹیفکیٹ مارت فیچ سوالیہ پرچہ امارنگ سکیم

ہم نے مضمون English پرچہ Elective گروپ سکیم ————— انٹر صلاحیت / ضمنی امتحان 2018 کا سوالیہ پرچہ انشائیہ و معروضی (Subjective & Objective) کو بنظر عین چیک کر لیا ہے یہ پرچہ Syllabus کے عین مطابق Set کیا گیا ہے۔ اس سوالیہ پرچہ میں کسی قسم کی کوئی غلطی نہ ہے۔ ہم نے سوالیہ پرچہ کا اردو اور انگریزی Version بھی چیک کر لیا ہے۔ یہ Version آپس میں مطابقت رکھتے ہیں۔ نیز اس پرچہ کی معروضی (MCQs) Key کی بابت تصدیق کی جاتی ہے کہ اس میں بھی کسی قسم کی کوئی غلطی نہ ہے۔ مزید یہ کہ ہم نے Key بنانے سے متعلق دفتر کی جانب سے تیار کردہ ہدایات وصول کر کے ان کا بغور مطالعہ کر لیا ہے اور ان کی روشنی میں Key بنائی ہے۔ نیز سب ایگزامینرز کیلئے تفصیلی مارکنگ ہدایات / مارکنگ سکیم / Rubrics بھی تیار کر دی گئی ہیں۔

Prepared & Checked By:

Dated: 29.10.18

S.#	Name	Designation	Institution	Mobile No	Signature
1	<u>Q. Jinn Khigee</u>	<u>AP Eng.</u>	<u>The Women University, Multan.</u>	<u>0301/7519502</u>	<u>[Signature]</u>
2	<u>Sh. Fayyaz Ahmad</u>	<u>Associate Prof.</u>	<u>Govt. Emerson College, Multan</u>	<u>0301-6339290</u>	<u>[Signature]</u>
3					

2018 (S)

Roll No: _____

INTERMEDIATE PART-II (12th CLASS)**ENGLISH (ELECTIVE) PAPER-II**

TIME ALLOWED: 2.30 Hours

SUBJECTIVE

MAXIMUM MARKS: 80

NOTE: - Write same question number and its part number in answer book, as given in the question paper.

SECTION-I

2. **Keeping in view the poems "The Watchers", "The Express" and "Young and Old", answer any SIX of the following short questions:-**

6 × 2 = 12

- (i) How do people use machines to dominate the world?
- (ii) How are brains more suitable to rule over the earth?
- (iii) Why does physical power seem essential to rule the world?
- (iv) Describe the beauty of "The Express".
- (v) What comfort has science brought for us?
- (vi) How has science disfigured the world?
- (vii) What happens when all the world is young?
- (viii) Give a contrast between youth and old age.
- (ix) What is the prayer for old age in the poem "Young and Old"?

3. **Keeping in view the drama, "The Merchant of Venice", answer any EIGHT of the following short questions:-**

8 × 2 = 16

- (i) How does Antonio find the world a stage?
- (ii) Why does Antonio agree on a pound of flesh for money?
- (iii) How is the "Merchant of Venice" a tragicomedy?
- (iv) Why can't Portia choose and refuse her husband?
- (v) How much money does Shylock arrange as loan?
- (vi) Discuss the business of Shylock.
- (vii) Why is Jessica more inclined to her lover than to her father?
- (viii) Who is the actual Merchant of Venice?
- (ix) Draw a character sketch of Shylock.
- (x) Why does Bassanio go to the lady in Belmont?
- (xi) Why does Portia disguise herself as a judge?
- (xii) Describe Antonio's reversal of fortune.

4. **Keeping in view the novel, "Under the Greenwood Tree", answer any SIX of the following short questions.**

6 × 2 = 12

- (i) What is the role of Mr. Dewy in the novel?
- (ii) Discuss Hardy's style as a novelist.
- (iii) Why is Maybold not an ideal clergyman?
- (iv) How did Dick arrange to meet Fancy?
- (v) How is Fancy more prominent among female characters?
- (vi) Why did Choirmen go to Mr. Penny's shop?
- (vii) How does upper Mellstock look?
- (viii) Why does Hardy lay emphasis on parish choir?
- (ix) How was Fancy tempted by Arthur Maybold?

SECTION-II

5. Draw a character sketch of Bassanio.

OR

15

Critically evaluate the poem "The Watchers".

OR

Draw a character sketch of Fancy.

6. Write an essay of 300-350 words on any one of the following topics:-

15

- (a) Democracy in Pakistan (b) Internet (c) My Hero

7. Write a letter to the editor of a newspaper pointing out uncleanness in your locality.

10

OR

Write a letter to the editor of a newspaper on the problem of rash driving on roads

Paper Code

Number: 4271

2018 (S)

Roll No. _____

INTERMEDIATE PART-II (12th CLASS)

ENGLISH (ELECTIVE) PAPER-II

TIME ALLOWED: 30 Minutes

OBJECTIVE

MAXIMUM MARKS: 20

Note: You have four choices for each objective type question as A, B, C and D. The choice which you think is correct, fill that bubble in front of that question number. Use marker or pen to fill the bubbles. Cutting or filling two or more bubbles will result in zero mark in that question. Attempt as many questions as given in objective type question paper and leave others blank. No credit will be awarded in case BUBBLES are not filled. Do not solve questions on this sheet of OBJECTIVE PAPER.

Q.No.1

(A) The Merchant of Venice

5

(1) Antonio's lawyer in the court was:-

- (A) Bassanio (B) Shylock (C) Portia (D) Gratiano

(2) Shylock hated the:-

- (A) Jews (B) Christian (C) Servants (D) Women

(3) The Merchant of Venice is a:-

- (A) Tragedy (B) Comedy (C) Farce (D) Tragicomedy

(4) Jessica's marriage is arranged with:-

- (A) Shylock (B) Gratiano (C) Lorenzo (D) Bassanio

(5) Antonio says that he has much:-

- (A) Ado (B) Pleasure (C) Lust (D) Desire

(B) A New Anthology of Poems

5

(6) Could we get rid of:-

- (A) Man (B) Clock (C) Battle (D) Mischief

(7) The old woman of the roads prayed to God for a:-

- (A) Car (B) House (C) Family (D) Son

(8) She leaves the station gliding like a:-

- (A) Queen (B) Ship (C) Car (D) Engine

(9) The children played in:-

- (A) Water (B) Filth (C) Street (D) Jungle

(10) The birds came from:-

- (A) USA (B) British (C) Australia (D) Siberia

(C) Under the Greenwood Tree

5

(11) In the winter the trees shed their:-

- (A) Branches (B) Leaves (C) Thorns (D) Stems

(12) Their flickering seemed like the flapping of:-

- (A) Wings (B) Feathers (C) Legs (D) Tails

(13) By profession Reuben was a:-

- (A) Teacher (B) Driver (C) Singer (D) Tranter

(14) In dancing party Fancy Day was a partner of:-

- (A) William (B) Shines (C) Dick (D) Mr. Penny

(15) Dark hair, little feet, clear deep eyes, it was:-

- (A) Mr. Dewy (B) Miss Fancy (C) Mary (D) Mr. Penny

(D) Choose the correct antonyms of the underlined words and fill up the bubbles.

5

(16) I left a fragment of mine behind:- (A) Part (B) Side (C) Whole (D) Body(17) Joseph Bowman had no distinctive appearance:- (A) Common (B) Lazy (C) Active (D) Special(18) They were standing at the junction of three ways:- (A) Meeting (B) Turning (C) Closing (D) Parting(19) Mr. Penny had a great sympathy for the neighbours:- (A) Cruelty (B) Mercy (C) Fancy (D) Leniency(20) They seemed to be distant in all manners:- (A) Away (B) Close (C) Same (D) Deep

www.arifrao.com
BOARD OF INTERMEDIATE AND SECONDARY EDUCATION, MULTAN
OBJECTIVE KEY FOR INTERMEDEAT ANNUAL/SUPPLY EXAMINATION, 2018'

Name of Subject: اردو اعلیٰ Session: ۲۰۱۸

Q.Nos	Paper Code	Paper Code	Paper Code	Paper Code
1	A	سی یا جو دل		
2	A	ڈاکٹر وزیر آغا		
3	A	۱۹۷۲ء		
4	B	نام کاظمی		
5	D	احقر گوندھوی		
6	A	حسرت موہانی		
7	C	پیام مشرق		
8	A	ایک		
9	B	دنی		
10	B	سیا ہی		
11	D	آخری		
12	D	فیض آباد		
13	C	میر کو		
14	B	تصوف		
15	C	ولی دکنی		
16	C	غزل		
17	D	غالب اور میر		
18	B	حفظ خاندانی		
19	A	ہم آواز الفاظ		
20	C	میلے مشعر کو		

سرٹیفکٹ بابت تفصیلی سوالیہ پرچہ مارکنگ Key

ہم نے مضمون اردو اعلیٰ پرچہ II گروپ سکیم انٹر سالانہ امتحان 2018 کا سوالیہ پرچہ انتہائی دمعروضی (Subjective & Objective) کو بنظر عین چیک کر لیا ہے یہ پرچہ Syllabus کے عین مطابق Set کیا گیا ہے۔ اس سوالیہ پرچہ میں کسی قسم کی کوئی غلطی نہ ہے۔ ہم نے سوالیہ پرچہ کا اردو اور انگریزی Version بھی چیک کر لیا ہے۔ یہ Version آپس میں مطابقت رکھتے ہیں۔ نیز اس پرچہ کی معروضی (MCQs) Key کی بابت تصدیق کی جاتی ہے کہ اس میں بھی کسی قسم کی کوئی غلطی نہ ہے۔ مزید یہ کہ ہم نے Key جاننے سے متعلق دفتر کی جانب سے تیار کردہ ہدایات وصول کر کے ان کا بغور مطالعہ کر لیا ہے اور ان کی روشنی میں Key بنائی ہے۔ نیز سب ایگزامینرز کیلئے تفصیلی مارکنگ ہدایات / مارکنگ سکیم / Rubrics بھی تیار کر دی گئی ہیں۔

Prepared & Checked By:

Dated: _____

S.#	Name	Designation	Institution	Mobile No	Signature
1	Dr. Riaz Hussain	A.P.	Govt. College, Civil Lines, Multan	0321-6396971	
2	Dr. Imtiaz Hussain	Associate Prof.	Govt. Emerson College, Multan	0303.6899181	
3					

17

2018 (S)

رول نمبر _____

انٹرمیڈیٹ امتحان پارٹ-II (کلاس بارہویں)

وقت = 2.30 گھنٹے

اردو اعلیٰ پرچہ - دوسرا

کل نمبر = 80

انشائیہ

نوٹ۔ جوابی کاپی پر وہی سوال نمبر اور جزو نمبر درج کیجیے جو کہ سوالیہ پرچے میں درج ہے۔

حصہ اول

2۔ (الف) درج ذیل اشعار کی تشریح کیجیے۔ نظم کا عنوان اور شاعر کا نام بھی تحریر کیجیے۔

10 = 1 + 1 + 4 + 4

(i) زمرد کی مانند سبزے کا رنگ روش پر جواہر لگا جیسے سنگ

(ii) چمن سے بھرا باغ، گل سے چمن کہیں زگس و گل، کہیں یاسمن

(ب) درج ذیل غزل کے اشعار کی تشریح کیجیے اور ہر شعر کے شاعر کا نام بھی تحریر کیجیے۔

15 = 1 + 1 + 1 + 4 + 4 + 4

(i) میں نے چاہا تھا کہ اندوہ و فاسے چھوٹوں وہ ستم گر مرے مرنے پہ بھی راضی نہ ہوا

(ii) ترے آزاد بندوں کی نہ یہ دنیا، نہ وہ دنیا یہاں مرنے کی پابندی، وہاں جینے کی پابندی

(iii) سادگی سے تم نہ سمجھے ترک دنیا کا سبب ورنہ وہ درویش تھے پردے میں دنیا دار بھی

حصہ دوم

3۔ درج ذیل نثر پارے کی تشریح بحوالہ سیاق و سباق کیجیے۔ مصنف کا نام اور سبق کا عنوان بھی تحریر کیجیے۔

10 = 1 + 1 + 2 + 6

مجھے اپنے زمانے کے بعض نامور اصحاب سے اور اپنی قوم کے اکثر بڑے بڑے شخصوں سے ملنے کا اتفاق ہوا ہے لیکن مولانا حالی جیسے پاک سیرت

اور خصائل کا بزرگ مجھے ابھی تک کوئی نہیں ملا۔ نواب عماد الملک فرمایا کرتے تھے کہ سرسید کی جماعت میں بحیثیت انسان کے مولانا حالی کا پایہ

بہت بلند تھا، اس بات میں سرسید بھی انھیں نہیں پہنچتے تھے۔

4۔ مرزا اسد اللہ خاں غالب یا خواجہ حیدر علی آتش میں سے کسی ایک کے مختصر سوانحی حالات اور شاعری کی خصوصیات تحریر کیجیے۔

10 = 4 + 6

5 = 2 + 3

5۔ درج ذیل میں سے کسی ایک کے سوانحی حالات اور نثر نگاری کی خصوصیات لکھیے۔

(i) مولوی عبدالحق (ii) مشتاق احمد یوسفی

10 = 4 + 6

6۔ رحمان بابا کے حالات زندگی اور کلام کی خصوصیات تحریر کیجیے۔

20

7۔ کسی ایک عنوان پر جامع مضمون تحریر کیجیے۔

(الف) دہشت گردی (ب) محسن انسانیت (ج) انٹرنیٹ کے فوائد و نقصانات

Paper Code

2018 (S)

رول نمبر

Number: 4371

انٹرمیڈیٹ امتحان پارٹ - II (کلاس بارہویں)

اردو اعلیٰ پرچہ - دوسرا

وقت = 30 منٹ

کل نمبر = 20

معروضی

نوٹ۔ ہر سوال کے چار ممکنہ جوابات A، B، C اور D دیئے گئے ہیں۔ جوابی کاپی پر ہر سوال کے سامنے دیئے گئے دائروں میں سے درست جواب کے مطابق متعلقہ دائرہ کو مار کر یا پین سے بھر دیجئے۔ ایک سے زیادہ دائروں کو بھر کرنے یا کاٹ کر پڑ کرنے کی صورت میں مذکورہ جواب غلط تصور ہوگا۔ دائروں کو پڑ نہ کرنے کی صورت میں کوئی نمبر نہیں دیا جائے گا۔ اس سوالیہ پرچہ پر سوالات ہر گز حل نہ کریں۔

سوال نمبر 1۔

- (1) "جھینگر کا جنازہ" سبق لیا گیا ہے۔ (A) سی پارہ دل (B) چند ہم عصر (C) خیال پارے (D) آواز دوست
- (2) "خیال پارے" کا مصنف ہے۔ (A) ڈاکٹر دزیر آغا (B) فکر تونسوی (C) مشتاق احمد یوسفی (D) مولانا حالی
- (3) ناصر کاظمی کا سال وفات ہے۔ (A) 1972ء (B) 1973ء (C) 1974ء (D) 1975ء
- (4) "برگ نے" شعری مجموعہ ہے۔ (A) احمد فراز کا (B) ناصر کاظمی کا (C) غالب کا (D) جگر مراد آبادی کا
- (5) جگر _____ سے اصلاح سخن لیتے تھے۔ (A) حسرت موہانی (B) علامہ محمد اقبالؒ (C) فانی بدایونی (D) اصغر گوٹروی
- (6) "نکات سخن" کے مصنف ہیں۔ (A) حسرت موہانی (B) جگر مراد آبادی (C) فانی بدایونی (D) علامہ محمد اقبالؒ
- (7) درج ذیل میں سے کون سا شعری مجموعہ اقبالؒ کا ہے؟ (A) پہلی بارش (B) نشاط امید (C) پیام مشرق (D) شعلہ طور
- (8) مومن کی غزلیات کے دیوان ہیں۔ (A) ایک (B) دو (C) تین (D) چار
- (9) غالب کا انتقال _____ میں ہوا۔ (A) آگرہ (B) دہلی (C) لکھنؤ (D) کلکتہ
- (10) ذوق کے والد پیشہ کے اعتبار سے تھے۔ (A) تاجر (B) سپاہی (C) مزدور (D) زمیندار
- (11) بہادر شاہ ظفر مغلیہ خاندان کے _____ بادشاہ تھے۔ (A) پہلے (B) دوسرے (C) تیسرے (D) آخری
- (12) آتش پیدا ہوئے۔ (A) بغداد (B) دہلی (C) لاہور (D) فیض آباد
- (13) مولوی عبدالحق نے "سرتاج شعرائے اردو" _____ کو کہا ہے۔ (A) خواجہ میر درد (B) غالب (C) میر (D) اقبالؒ
- (14) خواجہ میر درد کی شاعری کا اہم موضوع ہے۔ (A) مزاح (B) تصوف (C) منظر نگاری (D) جذبات نگاری
- (15) اردو کا "چاسر" کہا جاتا ہے۔ (A) غالب کو (B) میر تقی میر کو (C) ولی دکنی کو (D) خواجہ میر درد کو
- (16) بہادر شاہ ظفر کی وجہ شہرت صنف سخن _____ ہے۔ (A) قصیدہ (B) مرثیہ (C) غزل (D) مزاحیہ شاعری
- (17) غزل کا بہترین دور تھا۔ (A) آتش کا (B) غالب کا (C) میر کا (D) غالب اور میر کا
- (18) "شاہنامہ اسلام" کے شاعر ہیں۔ (A) مولانا حالی (B) حفیظ جالندھری (C) میر حسن (D) میر تقی میر
- (19) قافیہ کہتے ہیں۔ (A) ہم آواز الفاظ (B) بے آواز الفاظ (C) بے معانی الفاظ (D) با معانی الفاظ
- (20) مطلع کہتے ہیں۔ (A) آخری شعر کو (B) تیسرے شعر کو (C) پہلے شعر کو (D) دوسرے شعر کو

www.arifrao.com
 BOARD OF INTERMEDIATE AND SECONDARY EDUCATION, MULTAN
 OBJECTIVE KEY FOR INTERMEDIATE ANNUAL/SUPPLY EXAMINATION, 2018'

Name of Subject: Economics

Session: 2018 (S)

Q.Nos	Paper Code 4111	Paper Code 4113	Paper Code 4115	Paper Code 4117
1	C	A	D	D
2	C	C	B	A
3	A	D	D	B
4	A	B	B	C
5	A	C	B	B
6	D	D	A	C
7	B	A	C	C
8	D	B	D	A
9	B	C	B	A
10	B	B	C	A
11	A	C	D	D
12	C	C	A	B
13	D	A	B	D
14	B	A	C	B
15	C	A	B	B
16	D	D	C	A
17	A	B	C	C
18	B	D	A	D
19	C	B	A	B
20	B	B	A	C

برقیکیٹ بابت صحیح سوالیہ پرچہ امارکنگ Key

ہم نے مضمون معاشیات پرچہ B گروپ X سیم X ایئر سالانہ ضمنی امتحان 2018 کا سوالیہ پرچہ انشائیہ و معروضی (Subjective & Objective) کو بنظر عمیق چیک کر لیا ہے یہ پرچہ Syllabus کے عین مطابق Set کیا گیا ہے۔ اس سوالیہ پرچہ میں کسی قسم کی کوئی غلطی نہ ہے۔ ہم نے سوالیہ پرچہ کا اردو اور انگریزی Version بھی چیک کر لیا ہے۔ یہ Version آپس میں مطابقت رکھتے ہیں۔ نیز اس پرچہ کی معروضی (MCQs) Key کی بابت تصدیق کی جاتی ہے کہ اس میں بھی کسی قسم کی کوئی غلطی نہ ہے۔ مزید یہ کہ ہم نے Key بنانے کے متعلق دفتر کی جانب سے تیار کردہ ہدایات وصول کر کے ان کا بغور مطالعہ کر لیا ہے اور ان کی روشنی میں Key بنائی ہے۔ نیز سب ایگزامینرز کیلئے تفصیلی مارکنگ ہدایات / مارکنگ سیم / Rubrics بھی تیار کر دی گئی ہیں۔

Prepared & Checked By:

Dated: 29-10-18

S.#	Name	Designation	Institution	Mobile No	Signature
1-	Fayyaz Haider Hashmi	A.P	Govt. Millat D/c Multan	0300-7337628	Fayyaz Haider
2-	TANVIR ALAM	A-P	Govt. College of Science, Multan	0300-7321668	Tanvir Alam
3-	Dr. Zulfikar Ali	SSS	GHS S. D. Multan	0300-7386525	Zulfikar Ali
4-	Mahmood Akram Ansari	Associate Professor (Retired)	Govt. College of Science Multan	03007356960	M. A. Ansari
5-					

2018 (S)

رول نمبر

انٹرمیڈیٹ امتحان پارٹ - II (کلاس بارہویں)

ECONOMICS PAPER-II

معاشیات پرچہ دوسرا

TIME ALLOWED: 2.30 Hours

SUBJECTIVE حصہ انشائیہ

وقت = 2.30 گھنٹے

MAXIMUM MARKS: 80

کل نمبر = 80

نوٹ - جوابی کاپی پر وہی سوال نمبر اور جزو نمبر درج کیجیے جو کہ سوالیہ پرچے میں درج ہے۔
NOTE: - Write same question number and its part number in answer book, as given in the question paper.

SECTION-I حصہ اول

2. Attempt any eight parts.

16 = 2 x 8

سوال نمبر 2- کوئی سے آٹھ اجزاء کے جوابات تحریر کیجیے۔

- | | |
|--|---|
| (i) What is meant by Gross National Product? | (i) خام قومی پیداوار سے کیا مراد ہے؟ |
| (ii) Define Disposable Personal Income. | (ii) قابل تصرف شخصی آمدنی کی تعریف کریں۔ |
| (iii) What is meant by Marginal Propensity of Consume? | (iii) مختتم میلان صرف سے کیا مراد ہے؟ |
| (iv) Define Subsidy. | (iv) اعانہ کی تعریف کریں۔ |
| (v) Write four characteristics of Good Money. | (v) عمدہ زر کے چار اوصاف لکھیں۔ |
| (vi) What is meant by Convertible Paper Money? | (vi) بدل پذیر کاغذی زر سے کیا مراد ہے؟ |
| (vii) What is meant by Cross Cheque? | (vii) کراس چیک سے کیا مراد ہے؟ |
| (viii) Define Transactional Velocity of Money. | (viii) زر کی معاملاتی رفتار گردش کی تعریف کریں۔ |
| (ix) What is meant by Scheduled Bank? | (ix) فہرستی بینک سے کیا مراد ہے؟ |
| (x) Write the formula for creation of Credit Money. | (x) اعتباری زر کی تخلیق کا فارمولا لکھیں۔ |
| (xi) What is meant by Bank Rate Policy? | (xi) شرح بینک پالیسی سے کیا مراد ہے؟ |
| (xii) What is meant by Musharaka? | (xii) مشارکہ سے کیا مراد ہے؟ |

3. Attempt any eight parts.

16 = 2 x 8

سوال نمبر 3- کوئی سے آٹھ اجزاء کے جوابات تحریر کیجیے۔

- | | |
|--|--|
| (i) What is meant by Canon of Equality of Taxation? | (i) ٹیکس کے اصول مساوات سے کیا مراد ہے؟ |
| (ii) Define Indirect Tax. | (ii) بالواسطہ ٹیکس کی تعریف کریں۔ |
| (iii) Write two benefits of Indirect Tax. | (iii) بالواسطہ ٹیکس کے دو فوائد لکھیں۔ |
| (iv) Explain Public Finance in three lines. | (iv) سرکاری مالیات کی وضاحت تین سطروں میں واضح کریں۔ |
| (v) Define International Trade. | (v) بین الاقوامی تجارت کی تعریف کریں۔ |
| (vi) Write four disadvantages of International Trade. | (vi) غیر ملکی تجارت کے چار نقصانات تحریر کریں۔ |
| (vii) Define Classical Theory of International Trade. | (vii) بین الاقوامی تجارت کے کلاسیکی نظریہ کی تعریف کریں۔ |
| (viii) What is meant by Visible Goods? | (viii) مرئی اشیاء سے کیا مراد ہے؟ |
| (ix) What is meant by Infrastructure? | (ix) بنیادی تختی ڈھانچہ سے کیا مراد ہے؟ |
| (x) Write two steps of Government of Pakistan to increase per capita income. | (x) فی کس آمدنی میں اضافہ کے لیے حکومت پاکستان کے دو اقدامات لکھیں۔ |
| (xi) Write the role of money market for capital accumulation in three lines. | (xi) سرمایہ کاری میں اضافہ کے لیے بازار زر کا کردار تین سطروں میں لکھیں۔ |
| (xii) What is meant by equal distribution of Wealth? | (xii) دولت کی منصفانہ تقسیم سے کیا مراد ہے؟ |

(ورق الٹئے)

18

(2)

Q.No.4 Attempt any n ne parts.

18 = 2 x 9

سوال نمبر 4۔ کوئی سے نو اجزاء کے جوابات تحریر کیجیے۔

- (i) What is meant by Economic Development? معاشی ترقی سے کیا مراد ہے؟
- (ii) Write the methods of measurement of Economic Development. معاشی ترقی کی پیمائش کے طریقے لکھیں۔
- (iii) Write any four problems of Agriculture sector of Pakistan. پاکستان میں زرعی شعبہ کے چار اہم مسائل لکھیں۔
- (iv) Write four characteristics of the under developed economy. ترقی پذیر معیشت کی چار خصوصیات لکھیں۔
- (v) Describe any four benefits of Motorway. موٹروے کے چار فوائد بیان کیجیے۔
- (vi) What is meant by Dry Port? خشک گودی سے کیا مراد ہے؟
- (vii) Describe four departments of State Bank of Pakistan. سٹیٹ بینک آف پاکستان کے چار شعبے بیان کیجیے۔
- (viii) On which principle State Bank of Pakistan issue currency notes? سٹیٹ بینک کس اصول کے تحت کرنسی نوٹ جاری کرتا ہے؟
- (ix) When does the Financial year of Pakistan start and end? پاکستان کا مالی سال کب شروع ہو کر کب ختم ہوتا ہے؟
- (x) Define the concept of Zakat. زکوٰۃ کا مفہوم بیان کریں۔
- (xi) What is the aim of exchange control? ایکسچینج کنٹرول کا مقصد کیا ہوتا ہے؟
- (xii) What is meant by "Equality" in Islam? اسلامی نظام معیشت میں "مساوات" سے کیا مراد ہے؟
- (xiii) What is the concept of Islamic Economic System? اسلام کا نظام معیشت کے بارے میں تصور کیا ہے؟

SECTION-II حصہ دوم**NOTE: - Attempt any three questions. 30 = 10 x 3**

نوٹ۔ کوئی سے تین سوالات کے جوابات تحریر کیجیے۔

5. Describe different concepts of National Income. قومی آمدنی کے مختلف تصورات بیان کیجیے۔ -5
6. Explain different kinds of Banks. بینکوں کی اقسام کی وضاحت کریں۔ -6
7. What are the sources of income of our Central Government? ہماری مرکزی حکومت کے ذرائع آمدن کیا ہیں؟ -7
8. Describe advantages of International Trade. بین الاقوامی تجارت کے فوائد بیان کیجیے۔ -8
9. Describe the objectives of Motorway of Pakistan. پاکستان موٹروے کے مقاصد بیان کیجیے۔ -9

Paper Code

2018 (S)

رول نمبر

Number: 4111

انٹرمیڈیٹ امتحان پارٹ - II (کلاس بارہویں)

ECONOMICS PAPER-II

معاشیات پرچہ دوسرا

TIME ALLOWED: 30 Minutes

OBJECTIVE حصہ معروضی

وقت = 30 منٹ

MAXIMUM MARKS: 20

کل نمبر = 20

نوٹ۔ ہر سوال کے چار ممکنہ جوابات A، B، C اور D دیئے گئے ہیں۔ جوابی کاپی پر ہر سوال کے سامنے دیئے گئے دائروں میں سے درست جواب کے مطابق متعلقہ دائرہ کو مار کر یا پین سے بھر دیجئے۔ ایک سے زیادہ دائروں کو بھر کرنے یا کٹ کر پُر کرنے کی صورت میں مذکورہ جواب غلط تصور ہوگا۔ دائروں کو پُر نہ کرنے کی صورت میں کوئی نمبر نہیں دیا جائے گا۔ اس سوالیہ پرچہ پر

Note: you have four choices for each objective type question as A, B, C and D. The choice which you think is correct, fill that bubble in front of that question number. On bubble sheet, use marker or pen to fill the bubbles. Cutting or filling two or more bubbles will result in zero mark in that question. Attempt as many questions as given in objective type question paper and leave others blank. No credit will be awarded in case BUBBLES are not filled. Do not solve questions on this sheet of OBJECTIVE PAPER.

Q.No.1

سوال نمبر 1-

- (1) Wear and tear in capital stock is called:-
 (A) Productive expenditure پیداواری اخراجات
 (B) Rewards of factors عاملین کے معاوضے
 (C) Depreciation allowance فرسودگی الاؤنس
 (D) Unproductive expenditure غیر پیداواری اخراجات
- (2) Sum of values of all goods and services produced in one year is called:-
 (A) National Income قومی آمدنی
 (B) Net National Product خالص قومی پیداوار
 (C) Gross National Product خام قومی پیداوار
 (D) Gross Domestic Product خام داخلی پیداوار
- (3) During inflation value of money:-
 (A) Decreases کم ہو جاتی ہے
 (B) Increases بڑھ جاتی ہے
 (C) Remains stable برقرار رہتی ہے
 (D) Fluctuates تبدیل ہوتی رہتی ہے
- (4) The equation of exchange $MV = PT$ is given by:-
 (A) Fisher فشر
 (B) Crowther کراؤتھر
 (C) Keynes کیبنز
 (D) Robins رابنز
- (5) Clearing house facility is provided by:-
 (A) Central Bank مرکزی بینک
 (B) Commercial Bank تجارتی بینک
 (C) Agriculture Bank زرعی بینک
 (D) Saving Bank بچت بینک
- (6) Bank balance sheet has two parts:-
 (A) Money demand and money supply زرعی طلب اور زرعی رسد
 (B) Reserve money and loan زرخفظ اور قرضے
 (C) Demand and supply of credit قرضے کی طلب اور قرضے کی رسد
 (D) Assets and liability واجبات اور اثاثے
- (7) Public finance means:-
 (A) Govt. Income حکومتی آمدنی
 (B) Govt. Income and Expenditure حکومتی آمدنی اور خرچ
 (C) Govt. Debit حکومتی قرضہ
 (D) Govt. Expenditure حکومتی اخراجات
- (8) If Govt. income is less than its expenditure, the budget is called:-
 (A) Revenue Budget محصولاتی بجٹ
 (B) Non-Revenue Budget غیر محصولاتی بجٹ
 (C) Balanced Budget متوازن بجٹ
 (D) Deficit Budget خسارے کا بجٹ
- (9) Policy about imports and exports is called:-
 (A) Fiscal policy مالیاتی پالیسی
 (B) Commercial polity تجارتی پالیسی
 (C) Agricultural policy زرعی پالیسی
 (D) Monetary policy زرعی پالیسی
- (10) Number of SAARC member countries are:-
 (A) 5
 (B) 7
 (C) 9
 (D) 3
- (11) Pakistan is basically a country:-
 (A) Agricultural زرعی
 (B) Industrial صنعتی
 (C) Developed ترقی یافتہ
 (D) Trade تجارتی

(ورق الٹئے)

(2)

- (12) To increase saving in Pakistan it is necessary to:- پاکستان میں بچتوں میں اضافہ کرنے کے لیے ضروری ہے:- (12)
- (A) Increase in tax ٹیکس میں اضافہ (B) Increase in consumption صرف میں اضافہ
(C) Decrease in tax ٹیکس میں کمی (D) Increase in imports درآمدات میں اضافہ
- (13) Per capita income means:- فی کس آمدنی سے مراد ہے- (13)
- (A) Per labourer income فی مزدور آمدنی (B) Per family income فی خاندان آمدنی
(C) Per firm income فی فرم آمدنی (D) Per person income فی فرد آمدنی
- (14) Economic development means:- معاشی ترقی سے مراد ہے- (14)
- (A) Increase in employment روزگار میں اضافہ (B) Increase in real National income حقیقی قومی آمدنی میں اضافہ
(C) Increase in National income قومی آمدنی میں اضافہ (D) Increase in Agricultural income زرعی آمدنی میں اضافہ
- (15) Pakistan started its Economic planning with:- پاکستان نے معاشی منصوبہ بندی کا آغاز کیا- (15)
- (A) London plan لندن پلان کے ساتھ (B) Tokyo plan ٹوکیو پلان کے ساتھ
(C) Colombo plan کولمبو پلان کے ساتھ (D) Karachi plan کراچی پلان کے ساتھ
- (16) Unemployment due to mechanization of agriculture is:- زراعت میں مشینری کے استعمال کی وجہ سے بے روزگاری کہلاتی ہے- (16)
- (A) Seasonal موسمی (B) Industrial صنعتی (C) Disguised مستور (D) Structural ساختی
- (17) Credit money is controlled by:- اعتباری زر کو کنٹرول کرتا ہے- (17)
- (A) Central bank مرکزی بینک (B) Govt. حکومت (C) Commercial bank تجارتی بینک (D) Money market زرکی منڈی
- (18) In Pakistan, Govt. budget is prepared by:- حکومت پاکستان کا بجٹ تیار کرتا ہے- (18)
- (A) National Assembly قومی اسمبلی (B) Ministry of Finance وزارت خزانہ
(C) President of Pakistan صدر پاکستان (D) Central Bank مرکزی بینک
- (19) The policy to protect home industry from Foreign competition is called:- ملکی صنعتوں کو غیر ملکی مقابلہ سے بچانے کے لیے جو پالیسی اختیار کی جاتی ہے، کہلاتی ہے- (19)
- (A) Commercial policy تجارتی پالیسی (B) Fiscal policy مالیاتی پالیسی
(C) Protection policy تائین کی پالیسی (D) Monetary policy زرعی پالیسی
- (20) In capitalism there is sovereignty of:- سرمایہ دارانہ معاشی نظام میں حاکمیت ہوتی ہے- (20)
- (A) Producer آبر (B) Consumer صارف (C) Govt. حکومت (D) Labour مزدور

Paper Code

2018 (S)

رول نمبر

Number: 4113

انٹرمیڈیٹ امتحان پارٹ - II (کلاس بارہویں)

ECONOMICS PAPER-II

معاشیات پرچہ دوسرا

TIME ALLOWED: 30 Minutes

OBJECTIVE حصہ معروضی

وقت = 30 منٹ

MAXIMUM MARKS: 20

کل نمبر = 20

نوٹ۔ ہر سوال کے چار ممکنہ جوابات A، B، C اور D دیئے گئے ہیں۔ جوابی کاپی پر ہر سوال کے سامنے دیئے گئے دائروں میں سے درست جواب کے مطابق متعلقہ دائرہ کو مار کر یا پین سے مگر دیجئے۔ ایک سے زیادہ دائروں کو بھرنے یا کاٹ کر بھرنے کی صورت میں مذکورہ جواب غلط تصور ہوگا۔ دائروں کو بھرنے کی صورت میں کوئی نمبر نہیں دیا جائے گا۔ اس سوالیہ پرچہ پر سوالات ہر گز حل نہ کریں۔

Note: you have four choices for each objective type question as A, B, C and D. The choice which you think is correct, fill that bubble in front of that question number. On bubble sheet, use marker or pen to fill the bubbles. Cutting or filling two or more bubbles will result in zero mark in that question. Attempt as many questions as given in objective type question paper and leave others blank. No credit will be awarded in case BUBBLES are not filled. Do not solve questions on this sheet of OBJECTIVE PAPER.

Q.No.1

سوال نمبر 1-

- (1) Pakistan is basically a country:-
 (A) Agricultural زرعی (B) Industrial صنعتی (C) Developed ترقی یافتہ (D) Trade تجارتی
 پاکستان بنیادی طور پر ملک ہے۔
- (2) To increase saving in Pakistan it is necessary to:-
 (A) Increase in tax ٹیکس میں اضافہ (B) Increase in consumption صرف میں اضافہ
 (C) Decrease in tax ٹیکس میں کمی (D) Increase in imports درآمدات میں اضافہ
 پاکستان میں بچتوں میں اضافہ کرنے کے لیے ضروری ہے:-
- (3) Per capita income means:-
 (A) Per labourer income فی مزدور آمدنی (B) Per family income فی خاندان آمدنی
 (C) Per firm income فی فرم آمدنی (D) Per person income فی فرد آمدنی
 فی کس آمدنی سے مراد ہے۔
- (4) Economic development means:-
 (A) Increase in employment روزگار میں اضافہ (B) Increase in real National income حقیقی قومی آمدنی میں اضافہ
 (C) Increase in National income قومی آمدنی میں اضافہ (D) Increase in Agricultural income زرعی آمدنی میں اضافہ
 معاشی ترقی سے مراد ہے۔
- (5) Pakistan started its Economic planning with:-
 (A) London plan لندن پلان کے ساتھ (B) Tokyo plan ٹوکیو پلان کے ساتھ
 (C) Colombo plan کولمبو پلان کے ساتھ (D) Karachi plan کراچی پلان کے ساتھ
 پاکستان نے معاشی منصوبہ بندی کا آغاز کیا۔
- (6) Unemployment due to mechanization of agriculture is:-
 (A) Seasonal موسمی (B) Industrial صنعتی (C) Disguised مستور (D) Structural ساختی
 زراعت میں مشینری کے استعمال کی وجہ سے بے روزگاری کہلاتی ہے۔
- (7) Credit money is controlled by:-
 (A) Central bank مرکزی بینک (B) Govt. حکومت (C) Commercial bank تجارتی بینک (D) Money market زرعی منڈی
 اعتباری زر کو کنٹرول کرتا ہے۔
- (8) In Pakistan, Govt. budget is prepared by:-
 (A) National Assembly قومی اسمبلی (B) Ministry of Finance وزارت خزانہ
 (C) President of Pakistan صدر پاکستان (D) Central Bank مرکزی بینک
 حکومت پاکستان کا بجٹ تیار کرتا ہے۔
- (9) The policy to protect home industry from Foreign competition is called:-
 (A) Commercial policy تجارتی پالیسی (B) Fiscal policy مالیاتی پالیسی
 (C) Protection policy تائین کی پالیسی (D) Monetary policy زرعی پالیسی
 ملکی صنعتوں کو غیر ملکی مقابلہ سے بچانے کے لیے جو پالیسی اختیار کی جاتی ہے، کہلاتی ہے۔
- (10) In capitalism there is sovereignty of:-
 (A) Producer آجر (B) Consumer صارف (C) Govt. حکومت (D) Labour مزدور
 سرمایہ دارانہ معاشی نظام میں حاکمیت ہوتی ہے۔
- (11) Wear and tear in capital stock is called:-
 (A) Productive expenditure پیداواری اخراجات (B) Rewards of factors عاملین کے معاوضے
 (C) Depreciation allowance فرسودگی الاؤنس (D) Unproductive expenditure غیر پیداواری اخراجات
 سرمایہ کی اشیاء کی ٹوٹ پھوٹ کہلاتی ہے۔

(درجہ لکھئے)

(2)

- (12) Sum of values of all goods and services produced in one year is called:-
 (A) National Income قومی آمدنی
 (B) Net National Product خالص قومی پیداوار
 (C) Gross National Product خام قومی پیداوار
 (D) Gross Domestic Product خام داخلی پیداوار
- (13) During inflation value of money:-
 (A) Decreases کم ہو جاتی ہے
 (B) Increases بڑھ جاتی ہے
 (C) Remains stable برقرار رہتی ہے
 (D) Fluctuates تبدیل ہوتی رہتی ہے
- (14) The equation of exchange $MV = PT$ is given by:-
 (A) Fisher فشر نے
 (B) Crowther کراؤتھر نے
 (C) Keynes کینز نے
 (D) Robins رابنز نے
- (15) Clearing house facility is provided by:-
 (A) Central Bank مرکزی بینک
 (B) Commercial Bank تجارتی بینک
 (C) Agriculture Bank زرعی بینک
 (D) Saving Bank بچت بینک
- (16) Bank balance sheet has two parts:-
 (A) Money demand and money supply زرعی طلب اور زرعی رسد
 (B) Reserve money and loan زر محفوظ اور قرضے
 (C) Demand and supply of credit قرضے کی طلب اور قرضے کی رسد
 (D) Assets and liability واجبات اور اثاثے
- (17) Public finance means:-
 (A) Govt. Income حکومتی آمدنی
 (B) Govt. Income and Expenditure حکومتی آمدنی اور خرچ
 (C) Govt. Debit حکومتی قرضہ
 (D) Govt. Expenditure حکومتی اخراجات
- (18) If Govt. income is less than its expenditure, the budget is called:-
 (A) Revenue Budget محصولاتی بجٹ
 (B) Non-Revenue Budget غیر محصولاتی بجٹ
 (C) Balanced Budget متوازن بجٹ
 (D) Deficit Budget خسارے کا بجٹ
- (19) Policy about imports and exports is called:-
 (A) Fiscal policy مالیاتی پالیسی
 (B) Commercial polity تجارتی پالیسی
 (C) Agricultural policy زرعی پالیسی
 (D) Monetary policy زرعی پالیسی
- (20) Number of SAARC member countries are:-
 (A) 5
 (B) 7
 (C) 9
 (D) 3

Paper Code

2018 (S)

رول نمبر

Number: 4115

(کلاس بارہویں) II - انٹرمیڈیٹ امتحان پارٹ - II

ECONOMICS PAPER-II

معاشیات پرچہ دوسرا

TIME ALLOWED: 30 Minutes

OBJECTIVE

حصہ معروضی

وقت = 30 منٹ

MAXIMUM MARKS: 20

کل نمبر = 20

نوٹ۔ ہر سوال کے چار ممکنہ جوابات A، B، C اور D دیئے گئے ہیں۔ جوابی کاپی پر ہر سوال کے سامنے دیئے گئے دائروں میں سے درست جواب کے مطابق متعلقہ دائرہ کو مار کر یا پین سے بھر دیجئے۔ ایک سے زیادہ دائروں کو بھر کرنے یا کٹ کر پُر کرنے کی صورت میں مذکورہ جواب غلط تصور ہوگا۔ دائروں کو پُر نہ کرنے کی صورت میں کوئی نمبر نہیں دیا جائے گا۔ اس سوالیہ پرچہ پر سوالات ہرگز عمل نہ کریں۔

Note: you have four choices for each objective type question as A, B, C and D. The choice which you think is correct, fill that bubble in front of that question number. On bubble sheet, use marker or pen to fill the bubbles. Cutting or filling two or more bubbles will result in zero mark in that question. Attempt as many questions as given in objective type question paper and leave others blank. No credit will be awarded in case BUBBLES are not filled. Do not solve questions on this sheet of OBJECTIVE PAPER.

Q.No.1

سوال نمبر 1-

- (1) Bank balance sheet has two parts:-
 (A) Money demand and money supply زر کی طلب اور زر کی رسد
 (B) Reserve money and loan زر محفوظ اور قرضے
 (C) Demand and supply of credit قرضے کی طلب اور قرضے کی رسد
 (D) Assets and liability واجبات اور اثاثے
- (2) Public finance means:-
 (A) Govt. Income حکومتی آمدنی
 (B) Govt. Income and Expenditure حکومتی آمدنی اور خرچ
 (C) Govt. Debit حکومتی قرضہ
 (D) Govt. Expenditure حکومتی اخراجات
- (3) If Govt. income is less than its expenditure, the budget is called:-
 (A) Revenue Budget محصولاتی بجٹ
 (B) Non-Revenue Budget غیر محصولاتی بجٹ
 (C) Balanced Budget متوازن بجٹ
 (D) Deficit Budget خسارے کا بجٹ
- (4) Policy about imports and exports is called:-
 (A) Fiscal policy مالیاتی پالیسی
 (B) Commercial polity تجارتی پالیسی
 (C) Agricultural policy زرعی پالیسی
 (D) Monetary policy زرعی پالیسی
- (5) Number of SAARC member countries are:-
 (A) 5 (B) 7 (C) 9 (D) 3
- (6) Pakistan is basically a country:-
 (A) Agricultural زرعی (B) Industrial صنعتی (C) Developed ترقی یافتہ (D) Trade تجارتی
- (7) To increase saving in Pakistan it is necessary to:-
 (A) Increase in tax ٹیکس میں اضافہ
 (B) Increase in consumption صرف میں اضافہ
 (C) Decrease in tax ٹیکس میں کمی
 (D) Increase in imports درآمدات میں اضافہ
- (8) Per capita income means:-
 (A) Per labourer income فی مزدور آمدنی
 (B) Per family income فی خاندان آمدنی
 (C) Per firm income فی فرم آمدنی
 (D) Per person income فی فرد آمدنی
- (9) Economic development means:-
 (A) Increase in employment روزگار میں اضافہ
 (B) Increase in real National income حقیقی قومی آمدنی میں اضافہ
 (C) Increase in National income قومی آمدنی میں اضافہ
 (D) Increase in Agricultural income زرعی آمدنی میں اضافہ
- (10) Pakistan started its Economic planning with:-
 (A) London plan لندن پلان کے ساتھ
 (B) Tokyo plan ٹوکیو پلان کے ساتھ
 (C) Colombo plan کولمبو پلان کے ساتھ
 (D) Karachi plan کراچی پلان کے ساتھ
- (11) Unemployment due to mechanization of agriculture is:-
 (A) Seasonal موسمی (B) Industrial صنعتی (C) Disguised مستور (D) Structural ساختی

(درج ذیل سے)

(2)

- (12) Credit money is controlled by:- اعتباری زر کو کنٹرول کرتا ہے۔ (12)
 (A) Central bank مرکزی بینک (B) Govt. حکومت (C) Commercial bank تجارتی بینک (D) Money market زر کی منڈی
- (13) In Pakistan, Govt. budget is prepared by:- حکومت پاکستان کا بجٹ تیار کرتا ہے۔ (13)
 (A) National Assembly قومی اسمبلی (B) Ministry of Finance وزارت خزانہ
 (C) President of Pakistan صدر پاکستان (D) Central Bank مرکزی بینک
- (14) The policy to protect home industry from Foreign competition is called:- ملکی صنعتوں کو غیر ملکی مقابلہ سے بچانے کے لیے جو پالیسی اختیار کی جاتی ہے، کہلاتی ہے۔ (14)
 (A) Commercial policy تجارتی پالیسی (B) Fiscal policy مالیاتی پالیسی
 (C) Protection policy تائمن کی پالیسی (D) Monetary policy زر کی پالیسی
- (15) In capitalism there is sovereignty of:- سرمایہ دارانہ معاشی نظام میں حاکمیت ہوتی ہے۔ (15)
 (A) Producer آجر (B) Consumer صارف (C) Govt. حکومت (D) Labour مزدور
- (16) Wear and tear in capital stock is called:- سرمایہ کی اشیاء کی ٹوٹ پھوٹ کہلاتی ہے۔ (16)
 (A) Productive expenditure پیداواری اخراجات (B) Rewards of factors عاملین کے معاوضے
 (C) Depreciation allowance فرسودگی الاؤنس (D) Unproductive expenditure غیر پیداواری اخراجات
- (17) Sum of values of all goods and services produced in one year is called:- اشیاء و خدمات کی مالیت کا مجموعہ جو ایک سال کے عرصہ میں پیدا ہو، کہلاتا ہے۔ (17)
 (A) National Income قومی آمدنی (B) Net National Product خالص قومی پیداوار
 (C) Gross National Product خام قومی پیداوار (D) Gross Domestic Product خام داخلی پیداوار
- (18) During inflation value of money:- افراط زر کے دوران زر کی قدر:- (18)
 (A) Decreases کم ہو جاتی ہے (B) Increases بڑھ جاتی ہے
 (C) Remains stable برقرار رہتی ہے (D) Fluctuates تبدیل ہوتی رہتی ہے
- (19) The equation of exchange $MV = PT$ is given by:- مساوات مبادلہ $MV = PT$ پیش کی۔ (19)
 (A) Fisher فشر نے (B) Crowther کراؤتھر نے (C) Keynes کینز نے (D) Robins رابنز نے
- (20) Clearing house facility is provided by:- حساب گہری سہولت مہیا کرتا ہے۔ (20)
 (A) Central Bank مرکزی بینک (B) Commercial Bank تجارتی بینک
 (C) Agriculture Bank زر کی بینک (D) Saving Bank بچت بینک

Paper Code

2018 (S)

روٹ نمبر

Number: 4117

انٹرمیڈیٹ امتحان پارٹ - II (کلاس بارہویں)

ECONOMICS PAPER-II

معاشیات پرچہ دوسرا

TIME ALLOWED: 30 Minutes

OBJECTIVE حصہ معروضی

وقت = 30 منٹ

MAXIMUM MARKS: 20

کل نمبر = 20

نوٹ۔ ہر سوال کے چار ممکنہ جوابات A، B، C اور D دیئے گئے ہیں۔ جوابی کاپی پر ہر سوال کے سامنے دیئے گئے دائروں میں سے درست جواب کے مطابق متعلقہ دائرہ کو مار کر یا پین سے بھر دیجئے۔ ایک سے زیادہ دائروں کو نہ کرنے یا کاٹ کر نہ کرنے کی صورت میں مذکورہ جواب غلط تصور ہوگا۔ دائروں کو نہ کرنے کی صورت میں کوئی نمبر نہیں دیا جائے گا۔ اس سوالیہ پرچہ پر سوالات ہرگز حل نہ کریں۔

Note: you have four choices for each objective type question as A, B, C and D. The choice which you think is correct, fill that bubble in front of that question number. On bubble sheet, use marker or pen to fill the bubbles. Cutting or filling two or more bubbles will result in zero mark in that question. Attempt as many questions as given in objective type question paper and leave others blank. No credit will be awarded in case BUBBLES are not filled. Do not solve questions on this sheet of OBJECTIVE PAPER.

Q.No.1

سوال نمبر -1

- (1) Unemployment due to mechanization of agriculture is:-
 (A) Seasonal موسمی (B) Industrial صنعتی (C) Disguised مستور (D) Structural ساختی
 زراعت میں مشینری کے استعمال کی وجہ سے بے روزگاری کہلاتی ہے۔
- (2) Credit money is controlled by:-
 (A) Central bank مرکزی بینک (B) Govt. حکومت (C) Commercial bank تجارتی بینک (D) Money market زرکی منڈی
 اعتباری زر کو کنٹرول کرتا ہے۔
- (3) In Pakistan, Govt. budget is prepared by:-
 (A) National Assembly قومی اسمبلی (B) Ministry of Finance وزارت خزانہ (C) President of Pakistan صدر پاکستان (D) Central Bank مرکزی بینک
 حکومت پاکستان کا بجٹ تیار کرتا ہے۔
- (4) The policy to protect home industry from Foreign competition is called:-
 (A) Commercial policy تجارتی پالیسی (B) Fiscal policy مالیاتی پالیسی (C) Protection policy تائین کی پالیسی (D) Monetary policy زرکی پالیسی
 ملکی صنعتوں کو غیر ملکی مقابلہ سے بچانے کے لیے جو پالیسی اختیار کی جاتی ہے، کہلاتی ہے۔
- (5) In capitalism there is sovereignty of:-
 (A) Producer آجر (B) Consumer صارف (C) Govt. حکومت (D) Labour مزدور
 سرمایہ دارانہ معاشی نظام میں حاکمیت ہوتی ہے۔
- (6) Wear and tear in capital stock is called:-
 (A) Productive expenditure پیداواری اخراجات (B) Rewards of factors عاملین کے معاوضے (C) Depreciation allowance فرسودگی الاؤنس (D) Unproductive expenditure غیر پیداواری اخراجات
 سرمایہ کی اشیا کی ٹوٹ پھوٹ کہلاتی ہے۔
- (7) Sum of values of all goods and services produced in one year is called:-
 (A) National Income قومی آمدنی (B) Net National Product خالص قومی پیداوار (C) Gross National Product خام قومی پیداوار (D) Gross Domestic Product خام داخلی پیداوار
 اشیا و خدمات کی مالیت کا مجموعہ جو ایک سال کے عرصہ میں پیدا ہو، کہلاتا ہے۔
- (8) During inflation value of money:-
 (A) Decreases کم ہو جاتی ہے (B) Increases بڑھ جاتی ہے (C) Remains stable برقرار رہتی ہے (D) Fluctuates تبدیل ہوتی رہتی ہے
 افراط زر کے دوران زر کی قدر:-
- (9) The equation of exchange $MV = PT$ is given by:-
 (A) Fisher فشر نے (B) Crowther کراٹھرنے (C) Keynes کینز نے (D) Robins رابنز نے
 مساوات مبادلہ $MV = PT$ پیش کی۔
- (10) Clearing house facility is provided by:-
 (A) Central Bank مرکزی بینک (B) Commercial Bank تجارتی بینک (C) Agriculture Bank زرکی بینک (D) Saving Bank بچت بینک
 حساب گھر کی سہولت مہیا کرتا ہے۔
- (11) Bank balance sheet has two parts:-
 (A) Money demand and money supply زرکی طلب اور زرکی رسد (B) Reserve money and loan زر محفوظ اور قرضے (C) Demand and supply of credit قرضے کی طلب اور قرضے کی رسد (D) Assets and liability واجبات اور اثاثے
 بینک کی بیلنس شیٹ کے دو حصے ہوتے ہیں۔

(ورق الٹئے)

(2)

- (12) Public finance means:- (12) سرکاری مالیات سے مراد:-
 (A) Govt. Income حکومتی آمدنی (B) Govt. Income and Expenditure حکومتی آمدنی اور خرچ
 (C) Govt. Debit حکومتی قرضہ (D) Govt. Expenditure حکومتی اخراجات
- (13) If Govt. income is less than its expenditure, the budget is called:- (13) اگر حکومتی آمدنی کم اور خرچ زیادہ ہو تو بجٹ کہلاتا ہے۔
 (A) Revenue Budget محصولاتی بجٹ (B) Non-Revenue Budget غیر محصولاتی بجٹ
 (C) Balanced Budget متوازن بجٹ (D) Deficit Budget خسارے کا بجٹ
- (14) Policy about imports and exports is called:- (14) درآمدات و برآمدات سے متعلق پالیسی کو کہتے ہیں۔
 (A) Fiscal policy مالیاتی پالیسی (B) Commercial polity تجارتی پالیسی
 (C) Agricultural policy زرعی پالیسی (D) Monetary policy زرعی پالیسی
- (15) Number of SAARC member countries are:- (15) سارک کے ممبر ممالک کی تعداد ہے۔
 (A) 5 (B) 7 (C) 9 (D) 3
- (16) Pakistan is basically a country:- (16) پاکستان بنیادی طور پر ملک ہے۔
 (A) Agricultural زرعی (B) Industrial صنعتی (C) Developed ترقی یافتہ (D) Trade تجارتی
- (17) To increase saving in Pakistan it is necessary to:- (17) پاکستان میں بچتوں میں اضافہ کرنے کے لیے ضروری ہے:-
 (A) Increase in tax ٹیکس میں اضافہ (B) Increase in consumption صرف میں اضافہ
 (C) Decrease in tax ٹیکس میں کمی (D) Increase in imports درآمدات میں اضافہ
- (18) Per capita income means:- (18) فی کس آمدنی سے مراد ہے۔
 (A) Per labourer income فی مزدور آمدنی (B) Per family income فی خاندان آمدنی
 (C) Per firm income فی فرم آمدنی (D) Per person income فی فرد آمدنی
- (19) Economic development means:- (19) معاشی ترقی سے مراد ہے۔
 (A) Increase in employment روزگار میں اضافہ (B) Increase in real National income حقیقی قومی آمدنی میں اضافہ
 (C) Increase in National income قومی آمدنی میں اضافہ (D) Increase in Agricultural income زرعی آمدنی میں اضافہ
- (20) Pakistan started its Economic planning with:- (20) پاکستان نے معاشی منصوبہ بندی کا آغاز کیا۔
 (A) London plan لندن پلان کے ساتھ (B) Tokyo plan ٹوکیو پلان کے ساتھ
 (C) Colombo plan کولمبو پلان کے ساتھ (D) Karachi plan کراچی پلان کے ساتھ

Name of Subject: Principles of Banking Session: 2018

Q.Nos	Paper Code	Paper Code	Paper Code	Paper Code
	4951			
1	A			
2	C			
3	A			
4	A			
5	B			
6	D			
7	D			
8	D			
9	C			
10	A			
11	D			
12	B			
13	C			
14	B			
15	B			
16				
17				
18				
19				
20				

سرٹیفکیٹ بابت صحیح سوالیہ پرچہ / مارکنگ Key

ہم نے مضمون پرنسپلز آف بینکنگ پرچہ پہلے سہولت دہندہ / گروپ کامرس / سیکم / سنو / انٹرسالانہ / ضمنی امتحان 2018 کا سوالیہ پرچہ انشائیہ و معروضی (Subjective & Objective) کو بنظر عین چیک کر لیا ہے یہ پرچہ Syllabus کے عین مطابق Set کیا گیا ہے۔ اس سوالیہ پرچہ میں کسی قسم کی کوئی غلطی نہ ہے۔ ہم نے سوالیہ پرچہ کا اردو اور انگریزی Version بھی چیک کر لیا ہے۔ یہ Version آپس میں مطابقت رکھتے ہیں۔ نیز اس پرچہ کی معروضی (MCQs) Key کی بابت تصدیق کی جاتی ہے کہ اس میں بھی کسی قسم کی کوئی غلطی نہ ہے۔ مزید یہ کہ ہم نے Key بنانے سے متعلق دفتر کی جانب سے تیار کردہ ہدایات وصول کر کے ان کا بغور مطالعہ کر لیا ہے اور ان کی روشنی میں Key بنائی ہے۔ نیز سب ایگزامینرز کیلئے تفصیلی مارکنگ ہدایات / مارکنگ / Rubrics بھی تیار کر دی گئی ہیں۔

Prepared & Checked By:

Dated: 29-10-2018

S.#	Name	Designation	Institution	Mobile No	Signature
1	M. AZAM Assistant Professor	A.P Commerce	Govt Emerson College Multan.	0300638- 3886	
2	M. YASIR SHAHZAD S.S. Commerce.	S.S.	Gr. Camp HISS MAN.	0301 7400535	
3	Faisal Rasheed Asst. Professor	A.P Commerce	Govt. Degree College Makhdoom Aali	0300935077	

ثانوی و اعلیٰ ثانوی تعلیمی بورڈ، ملتان

مورخہ: 2018-10-29 مضمون: پہلی زبان: اردو پرچہ: پہلا دورہ گروپ: کامرس
 جزل ہدایات برائے مارکنگ Key اور اسکیم انوسکیم (مارکنگ اسکیم)

انٹری پارٹ فرسٹ ایسٹ سالانہ ضمنی امتحان 2018ء

Sr #	Code	Error Indicated	Sr #	Code	Error Indicated
1.	UN	Un-Necessary	8.	Sp	Spelling Error
2.	Ir	Irrelevant	9.	P	Punctuation
3.	IN	Incomplete	10.	Wo	Wrong word error
4.	EX	Extra	11.	Wt	Wrong Tense
5.	Rp	Re-Produced	12.	Wf	Wrong Form
6.	Is	Insufficient	13.	OA	Over Attempt
7.	Gr	Grammar Error			

اہم نوٹ: ہر سوال "Full Award" سے کم نمبر لگانے کی صورت میں وجہ ضرور لکھیں۔

سوال نمبر 4، 3، 2 میں درست جوابات کی صورت میں
 پورے 2 نمبرز دے جائیں جزوی درست جوابات کی صورت میں
 ایک نمبر دیا جائے 1/2 نمبر اور 1/4 نمبر سے کم نہ دیں۔
 سوال نمبر 9، 8، 7، 6، 5 میں درست جوابات کی صورت
 میں پورے 8 نمبرز دے جائیں اور
 جزوی درست جوابات کی صورت میں طلبہ کے
 مفاد کو مد نظر رکھا جائے۔

1- محمد اعظم اسٹڈنٹ ایسوسی ایشن، گورنمنٹ ایمرس، کانجہ ملتان
 03006389886

2- محمد باسیر شہزاد ایس ایس کامرس گورنمنٹ ٹیچر، صنیو H/5 سکول ملتان

0301-7400535

3- فیصل رشید خان اسٹڈنٹ ایسوسی ایشن، ڈگری کالج محمد علی
 03009350717

2018 (S)

رول نمبر

انٹرمیڈیٹ امتحان پارٹ - II (کلاس بارہویں)

اصول کامرس پرچہ - دوسرا (آپشن iii) بینکنگ
PRINCIPLES OF COMMERCE PAPER-II (Option-iii) BANKING (COMMERCE GROUP)
 (کامرس گروپ)

TIME ALLOWED: 2.10 Hours

SUBJECTIVE حصہ انشائیہ

وقت = 2.10 گھنٹے

MAXIMUM MARKS: 60

کل نمبر = 60

نوٹ - جوابی کاپی پر وہی سوال نمبر اور جزو نمبر درج کیجیے جو کہ سوالیہ پرچے میں درج ہے۔
 NOTE: - Write same question number and its part number on answer book, as given in the question paper.

SECTION-I حصہ اول**2. Attempt any six parts.**

12 = 2 x 6

سوال نمبر 2- کوئی سے چھ اجزاء کے جوابات تحریر کیجیے۔

- What is meant by articles of association of Bank?
- What is meant by Credit Creation of Bank?
- What is meant by Agriculture Bank?
- What is meant by Saving Account of Bank?
- What is meant by Cash Reserve?
- What is meant by Demand Loans?
- Define Debit Card.
- Describe the principles of note issue.
- What is meant by Bank Rate Policy of Central Bank?

- بنک کے ضوابط سے کیا مراد ہے؟
- بنک کے تخلیق زرا اعتبار سے کیا مراد ہے؟
- زرعی بنک سے کیا مراد ہے؟
- بنک کے بچت کے کھاتے سے کیا مراد ہے؟
- محفوظ زرنقد سے کیا مراد ہے؟
- طلبی قرضوں سے کیا مراد ہے؟
- ڈیبٹ کارڈ کی تعریف کیجیے۔
- نوٹ جاری کرنے کے اصول بیان کیجیے۔
- مرکزی بنک کی شرح بنک پالیسی سے کیا مراد ہے؟

3. Attempt any six parts.

12 = 2 x 6

سوال نمبر 3- کوئی سے چھ اجزاء کے جوابات تحریر کیجیے۔

- Define Bank Account.
- Define Pay-in Slip.
- Write any four advantages of opening an account for account holder.
- Write any three principles of lending.
- What is meant by Mortgage?
- Write basic kinds of credit instruments.
- Write names of the parties of cheque.
- Define Bank Draft.
- What is meant by retirement of bill of exchange?

- کھاتہ بنک کی تعریف کریں۔
- پے۔ ان سلپ کی تعریف کریں۔
- بنک میں کھاتہ کھلوانے سے کھاتہ دار کو حاصل ہونے والے کوئی سے چار فوائد لکھیں۔
- قرض جاری کرنے کے کوئی سے تین اصولوں کے نام لکھیں۔
- رہن سے کیا مراد ہے؟
- آلات اعتبار کی بنیادی اقسام تحریر کریں۔
- چیک کے فریقین کے نام لکھیں۔
- بنک ڈرافٹ کی تعریف کریں۔
- بھٹی کی سبکدوشی سے کیا مراد ہے؟

4. Attempt any six parts.

12 = 2 x 6

سوال نمبر 4- کوئی سے چھ اجزاء کے جوابات تحریر کیجیے۔

- Define Monetary Policy.
- What is meant by Deflation and what are its affects?
- Write down the names of any four Central Banks of the world.
- Define Central Bank.
- Why the responsibility of note issue was vested to Central Bank?
- What is meant by Foreign Exchange Control?
- Write down four important characteristics of a good security.
- How many schedule banks were there in Pakistan at the time of partition?
- Write down any four advantages of E-Banking.

- زری پالیسی کی تعریف کریں۔
- تقریباً زری سے کیا مراد ہے اور اس کے اثرات بتائیں؟
- دنیا کے کوئی سے چار مرکزی بینکوں کے نام لکھیں۔
- مرکزی بنک کی تعریف کریں۔
- مرکزی بنک کو نوٹ جاری کرنے کی ذمہ داری کیوں سونپی گئی۔
- مبادلہ خارجہ پر کنٹرول سے کیا مراد ہے؟
- ایک اچھی کفالت کی چار اہم خصوصیات تحریر کریں۔
- آزادی کے وقت پاکستان میں فہرستی بینکوں کی تعداد کتنی تھی؟
- ای۔ بینکنگ کے کوئی چار فوائد لکھیں۔

SECTION-II حصہ دوم

NOTE: - Attempt any three questions. 24 = 8 x 3

نوٹ - کوئی سے تین سوالات کے جوابات تحریر کیجیے۔

- Describe the various kinds of the Bank.
- Explain the reasons of dishonour of a cheque.
- Explain the procedure of opening letter of credit.
- Explain the functions of Central Bank.
- Discuss the importance of Foreign Exchange.

- بنک کی مختلف اقسام بیان کریں۔
- چیک کے مستر دہونے کی وجوہات بیان کریں۔
- تجارتی اعتبار کی خط کھولنے کا طریقہ بیان کریں۔
- مرکزی بنک کے فرائض بیان کریں۔
- مبادلہ خارجہ کی اہمیت بیان کریں۔

Paper Code

2018 (S)

رول نمبر

Number: 4951

انٹرمیڈیٹ امتحان پارٹ - II (کلاس بارہویں)

اصول کامرس پرچہ - دوسرا (آپشن iii) بینکنگ (Option-iii) BANKING (COMMERCE GROUP) (کامرس گروپ)

TIME ALLOWED: 20 Minutes

وقت = 20 منٹ

MAXIMUM MARKS: 15

OBJECTIVE حصہ معروضی

کل نمبر = 15

نوٹ - ہر سوال کے چار ممکنہ جوابات A، B، C اور D دیئے گئے ہیں۔ جوابی کاپی پر ہر سوال کے سامنے دیئے گئے دائروں میں سے درست جواب کے مطابق متعلقہ دائرہ کو مار کر یا پین سے بھر دیجئے۔ ایک سے زیادہ دائروں کو بھر کرنے یا کاٹ کر بھر کرنے کی صورت میں مذکورہ جواب غلط تصور ہوگا۔ دائروں کو بھر نہ کرنے کی صورت میں کوئی نمبر نہیں دیا جائے گا۔ اس سوالیہ پرچہ پر سوالات ہر مرحلہ نہ کریں۔

Note: you have four choices for each objective type question as A, B, C and D. The choice which you think is correct, fill that bubble in front of that question number. On bubble sheet, use marker or pen to fill the bubbles. Cutting or filling two or more bubbles will result in zero mark in that question. Attempt as many questions as given in objective type question paper and leave others blank. No credit will be awarded in case BUBBLES are not filled. Do not solve questions on this sheet of OBJECTIVE PAPER.

Q.No.1

سوال نمبر 1-

- (1) Commercial bank works for:-
 (A) Profit منافع کے لیے (B) Service خدمت کے لیے (C) Social welfare سماجی بہبود کے لیے (D) Government حکومت کے لیے
 تجارتی بینک کام کرتا ہے۔
- (2) Primary functions of Commercial bank are:-
 (A) Accepting deposits امانتوں کی وصولی (B) Advancing loans قرضوں کا اجراء (C) Accepting deposits and advancing loans امانتوں کی وصولی اور قرضوں کا اجراء (D) Public service عوام کی خدمت
 تجارتی بینک کے بنیادی فرائض ہیں۔
- (3) ATM is used for withdrawal of:-
 (A) Money رقم (B) Cheque چیک (C) Draft ڈرافٹ (D) List فہرست
 ایسٹ ایم ٹی کے لیے استعمال ہوتا ہے۔
- (4) Credit money is controlled by:-
 (A) Central bank مرکزی بینک (B) Commercial bank تجارتی بینک (C) Industrial bank صنعتی بینک (D) Agricultural bank زرعی بینک
 زر اعتبار کنٹرول ہوتا ہے۔
- (5) Scheduled bank is bound to keep following percentage of total assets within the country:-
 (A) 70 % (B) 80 % (C) 90 % (D) 95 %
 فہرستی بینک اپنے کل اثاثہ جات کا ملک میں رکھنے کا پابند ہوتا ہے۔
- (6) Bank account does not provide benefit to:-
 (A) Banks بنکوں کو (B) Customers گاہکوں کو (C) Government حکومت کو (D) Animals جانوروں کو
 بینک اکاؤنٹ فائدہ نہیں دیتا۔
- (7) Written agreement between bank and customers is in:-
 (A) Cheque book چیک بک میں (B) Pass book پاس بک میں (C) Cash book کیش بک میں (D) Application form for opening account کھاتہ کھولنے کے فارم میں
 بینک اور گاہک کے درمیان تحریری معاہدہ درج ہوتا ہے۔
- (8) In case of overdraft, bank receives interest on:-
 (A) Half amount آدھی رقم پر (B) Total amount کل رقم پر (C) On quarter amount ایک چوتھائی رقم پر (D) Used amount استعمال شدہ رقم پر
 اوور ڈرافٹ کی صورت میں بینک سود وصول کرتا ہے۔
- (9) _____ of customer is written on each leaf of cheque book.
 (A) Address پتہ (B) Telephone number ٹیلی فون نمبر (C) Account number اکاؤنٹ نمبر (D) Father's name باپ کا نام
 چیک بک کے ہر پت پر گاہک کا درج ہوتا ہے۔
- (10) Parties to bill of exchange are:-
 (A) Three تین (B) Four چار (C) Five پانچ (D) Six چھ
 ہنڈی کے فریق ہیں۔
- (11) Stock certificate is issued by:-
 (A) World bank عالمی بینک (B) Central bank مرکزی بینک (C) Stock market اسٹاک مارکیٹ (D) Limited company لمیٹڈ کمپنی
 اسٹاک سرٹیفکیٹ جاری کرتا ہے۔
- (12) _____ is sent through post office:-
 (A) Traveller's cheque سفری چیک (B) International money order انٹرنیشنل منی آرڈر (C) Bank draft بینک ڈرافٹ (D) Letter of credit اعتباری خط
 درج ذیل کو بذریعہ ڈاک خانہ بھیجا جاتا ہے۔
- (13) Developed money market is always:-
 (A) Elastic لچکدار (B) Less elastic کم لچکدار (C) More elastic زیادہ لچکدار (D) Not elastic غیر لچکدار
 ترقی یافتہ بازار زر ہمیشہ ہوتا ہے۔
- (14) Governor State Bank of Pakistan is appointed for:-
 (A) Two years دو سال کے لیے (B) Three years تین سال کے لیے (C) Five years پانچ سال کے لیے (D) Seven years سات سال کے لیے
 گورنر سٹیٹ بینک آف پاکستان کا تقرر ہوتا ہے۔
- (15) Price paid for the use of money is called:-
 (A) Profit منافع (B) Interest سود (C) Commission کمیشن (D) Tax ٹیکس
 رقم کے استعمال پر دی جانے والی قیمت کہلاتی ہے۔

BOARD OF INTERMEDIATE AND SECONDARY EDUCATION, MULTAN
OBJECTIVE KEY FOR INTERMEDIATE ANNUAL/SUPPLY EXAMINATION, 2018

Name of Subject: PHYSICS - 2018csSession: PHYSICS - 2018csGroup: 1st New SchemeGroup: 2nd old Scheme.

Q. Nos	Paper Code 4471	Paper Code 4473	Paper Code 4475	Paper Code 4477
1	A	A	D	C
2	C	C	A	B
3	C	B	C	C
4	D	A	A	B
5	B	C	B	D
6	C	C	A	A
7	B	D	C	C
8	C	B	B	A
9	B	C	A	B
10	D	B	C	A
11	A	C	C	C
12	C	B	D	B
13	A	D	B	A
14	B	A	C	C
15	A	C	B	C
16	C	A	C	D
17	B	B	B	B
18				
19				
20				

Q. Nos	Paper Code 8471	Paper Code 8473	Paper Code 8475	Paper Code 8477
1	C	D	A	D
2	B	B	B	B
3	A	C	C, D	C
4	D	D	C	A
5	B	A	B	D
6	C	C	A	B
7	A	D	D	C
8	D	A	B	D
9	B	B	C	A
10	C	C, D	A	C
11	D	C	D	D
12	A	B	B	A
13	C	A	C	B
14	D	D	D	C, D
15	A	B	A	C
16	B	C	C	B
17	C, D	A	D	A
18				
19				
20				

سرٹیفکٹ بابت صحیح سوالیہ پرچہ مارکنگ Key (New-old)

ہم نے مضمون Physics (New-old) پرچہ آر گروپ سکیم انٹر سالانہ امتحان 2018 کا سوالیہ پرچہ انشائیہ و معروضی (Subjective & Objective) کو بنظر عین چیک کر لیا ہے یہ پرچہ Syllabus کے عین مطابق Set کیا گیا ہے۔ اس سوالیہ پرچہ میں کسی قسم کی کوئی غلطی نہ ہے۔ ہم نے سوالیہ پرچہ کا اردو اور انگریزی Version بھی چیک کر لیا ہے۔ یہ Version آپس میں مطابقت رکھتے ہیں۔ نیز اس پرچہ کی معروضی (MCQs) Key کی بابت تصدیق کی جاتی ہے کہ اس میں بھی کسی قسم کی کوئی غلطی نہ ہے۔ مزید یہ کہ ہم نے Key بنانے سے متعلق دفتر کی جانب سے تیار کردہ ہدایات وصول کر کے ان کا بغور مطالعہ کر لیا ہے اور ان کی روشنی میں Key بنائی ہے۔ نیز سب ایگزامینرز کیلئے تفصیلی مارکنگ ہدایات / مارکنگ سکیم / Rubrics بھی تیار کر دی گئی ہیں۔

Prepared & Checked By:

Dated: 30-10-18

S.#	Name	Designation	Institution	Mobile No	Signature
1	Ali Hussain Gillani	Associate Prof.	Gourt. Emerson College, Multan.	0300-738 1119	
2	Muhammad Rafique	Associate Prof.	Gourt. P.G. College Burewala	0334-7201282	
3	Bashir Ahmad Phalki	Assistant Prof.	Gourt. Degree College Kahmirwala	03006305057	

ہم نے درج ذیل سوالیہ پرچہ (انشائیہ + معروضی) کی معروضی "Key" اور ہدایات کے حوالہ سے مکمل طور پر چیک کر لی ہے۔ کسی قسم کی کوئی غلطی نہ ہے۔

S.#	Name	Designation	Institution	Mobile No	Signature
1	Shabbir Ahmad Safiq	Asso. Prof.	Gourt. Civil Lines College Multan	03017551681	
2	Sayed Tanveer Ahmad Shah	Associate Prof.	Gourt. W. H. G. College Multan	03007348130	
3					

2018 (S)

Roll No: _____

INTERMEDIATE PART-II (12th CLASS)

PHYSICS PAPER-II (NEW SCHEME)

TIME ALLOWED: 2.40 Hours

SUBJECTIVE

MAXIMUM MARKS: 68

NOTE: - Write same question number and its part number on answer book, as given in the question paper.

SECTION-I2. **Attempt any eight parts.**

8 × 2 = 16

- (i) Is "E" necessarily zero inside a charged rubber balloon if balloon is spherical? Assume that charge is distributed uniformly over the surface.
- (ii) Show that the unit of product of resistance and capacitance is equal to second(s).
- (iii) Define dipole and electric polarization.
- (iv) Define electric field lines. Also draw the sketch of electric field due to a positive and negative charge.
- (v) How can a current loop be used to determine the presence of a magnetic field in a given region of space.
- (vi) Describe the change in the magnetic field inside a solenoid carrying a steady current "I", if the length of the solenoid is doubled but, the number of turns remains the same.
- (vii) What is difference between sensitive and dead beat galvanometer?
- (viii) Write down two uses of CRO.
- (ix) Show that \mathcal{E} and $\frac{\Delta\phi}{\Delta t}$ have the same units.
- (x) Can a D.C motor be turned into a D.C generator? What changes are required to be done?
- (xi) Define eddy current. How can we minimize effects of eddy current in a transformer?
- (xii) Define mutual induction and henry.

3. **Attempt any eight parts.**

8 × 2 = 16

- (i) What is the difference between emf and Terminal p.d?
- (ii) Is the filament resistance lower or higher in a 500 w, 220 v light bulb than in 100 w, 220 v bulb?
- (iii) State and explain Kirchhoff's First rule.
- (iv) What is meant by Modulation? Write down two types of Modulation.
- (v) In a R - L circuit will the current lag or lead the voltage? Illustrate your answer by vector diagram.
- (vi) Explain the conditions under which electromagnetic waves are produced from a source?
- (vii) What are Polymers? Give few examples.
- (viii) Define Modulus of elasticity and Young's modulus.
- (ix) What are Super Conductors? Give few examples.
- (x) Write briefly about operational amplifier.
- (xi) Why charge carriers are not present in the depletion region?
- (xii) Why ordinary silicon diodes do not emit light?

4. **Attempt any six parts.**

6 × 2 = 12

- (i) Define pair production and annihilation of matter.
- (ii) When does light behave as a wave and when does it behave as particle?
- (iii) Which photon red, green or blue carries the most (a) Energy (b) Momentum?
- (iv) Define population inversion and meta stable state.
- (v) What do we mean when we say that the atom is excited?

P.T.O

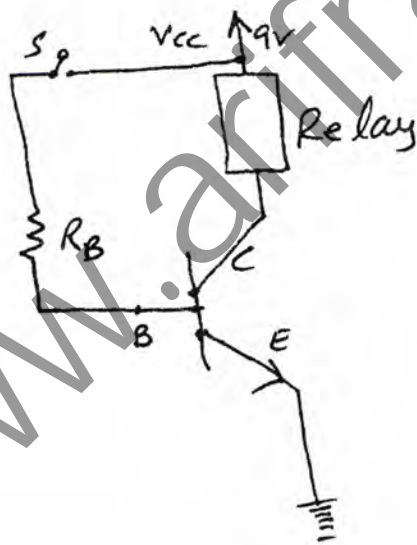
20

(2)

- (vi) What are advantages of lasers over ordinary light?
 (vii) Distinguish between Nuclear fission and Nuclear fusion.
 (viii) Show that $1U = 931 MeV$
 (ix) What do we mean by the term Critical mass?

SECTION-II**NOTE: - Attempt any three questions.****3 × 8 = 24**

- 5.(a) Define Tolerance of Resistor. How wheat stone bridge can be used to determine an unknown resistance. 1 + 4
- (b) A particle carrying a charge of $2e$ falls through a potential difference of $3.0V$. Calculate the energy acquired by it. 3
- 6.(a) Derive an expression for force on a moving charge in magnetic field. 5
- (b) A square coil of side 16 cm has 200 turns and rotates in a uniform magnetic field of magnitude $0.05T$. If the peak emf is 12 V . What is the angular velocity of the coil? 3
- 7.(a) What is impedance? How it is determined in $R - C$ and $R - L$ series circuit? 1 + 2 + 2
- (b) Fig show a transistor which operates a relay as the switch 's' is closed. The relay is energized by a current of 10 mA . Calculate the value of ' R_B '. The gain ' β ' of transistor is 200 . When the transistor conducts its ' V_{BE} ' can be assumed to be $0.6V$. 3



- 8.(a) What is Doping? Describe the formation of n - type and p - type semiconductor. 1 + 2 + 2
- (b) A 50 KeV photon is Compton scattered by a quasi-free electron. If the scattered photon comes off at 45° . What is its wavelength? 3
- 9.(a) Draw the sketch of a nuclear power station. Explain the working of four important parts of the nuclear reactor. 1 + 4
- (b) The wave length of K - ray from Copper is $1.377 \times 10^{-10}\text{ m}$. What is the energy difference between the two levels from which this transition results. 3

Paper Code

Number:

4471

2018 (S)

Roll No. _____

INTERMEDIATE PART-II (12th CLASS)

PHYSICS PAPER-II (NEW SCHEME)

TIME ALLOWED: 20 Minutes

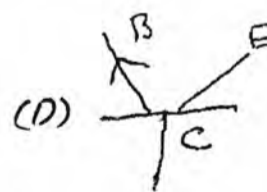
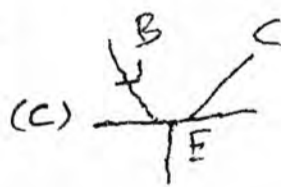
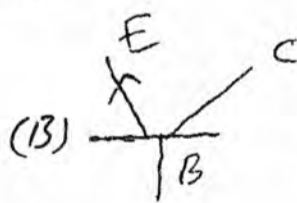
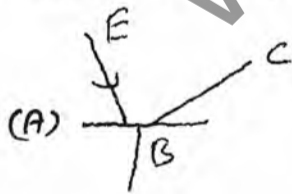
OBJECTIVE

MAXIMUM MARKS: 17

Note: You have four choices for each objective type question as A, B, C and D. The choice which you think is correct, fill that bubble in front of that question number. Use marker or pen to fill the bubbles. Cutting or filling two or more bubbles will result in zero mark in that question. Attempt as many questions as given in objective type question paper and leave others blank. No credit will be awarded in case BUBBLES are not filled. Do not solve questions on this sheet of OBJECTIVE PAPER.

Q.No.1

- (1) Electric flux will be zero if vector area is held:-
 (A) Perpendicular to field (B) At 45° to field (C) Parallel to field (D) At 60° to field
- (2) $\frac{V}{m}$ is equal to:-
 (A) $\frac{J}{m}$ (B) $\frac{C}{m}$ (C) $\frac{N}{C}$ (D) $\frac{C}{N}$
- (3) 50 C of charge flows through a conductor in one minute, current through the conductor is:-
 (A) 100 A (B) 50 A (C) 0.83 A (D) 0.74 A
- (4) The drift velocity of electrons is of the order of:-
 (A) 10^8 ms^{-1} (B) 10^6 ms^{-1} (C) 10^3 ms^{-1} (D) 10^{-3} ms^{-1}
- (5) In a straight current carrying conductor, the direction of magnetic field can be found by:-
 (A) Lenz's Law (B) Right hand rule (C) Left hand rule (D) Head to tail rule
- (6) The SI unit of magnetic flux density is:-
 (A) $\text{Nm}^{-1}\text{A}^{-2}$ (B) NAm^{-1} (C) $\text{NA}^{-1}\text{m}^{-1}$ (D) NA^{-1}m
- (7) The phase difference between each pair of coils of a three phase A.C. generator is:-
 (A) 180° (B) 120° (C) 90° (D) 0°
- (8) As motor speeds up, the back emf:-
 (A) Remains same (B) Decreases (C) Increases (D) Becomes zero
- (9) The square root of average square value of an A.C. is called:-
 (A) Average value (B) rms value (C) P - P value (D) Peak value
- (10) An A.C. voltmeter reads 220 V, its peak value is:-
 (A) 220 V (B) 350 V (C) 250 V (D) 311.12 V
- (11) Domain contains nearly:-
 (A) 10^{12} to 10^{16} atoms (B) 10^9 to 10^{10} atoms (C) 10^6 to 10^9 atoms (D) 10^3 to 10^6 atoms
- (12) A photo diode is operated in:-
 (A) Forward biased condition
 (B) Normal biased condition (C) Reverse biased condition (D) Without biased condition
- (13) The symbol of PNP transistor is:-



- (14) The minimum energy required by a photon to create an electron - positron pair is:-
 (A) 3 MeV (B) 1.02 MeV (C) 1.20 MeV (D) 0.511 MeV
- (15) The value of first Bohr's orbit radius is:-
 (A) 0.053 nm (B) 0.53 m (C) $0.53 \mu\text{m}$ (D) 0.53 nm
- (16) Curie is a unit of:-
 (A) Binding energy (B) Resistivity (C) Radioactivity (D) Conductivity
- (17) The half life of radioactive element is given by:-
 (A) $T_{1/2} = 0.693\lambda$ (B) $T_{1/2} = \frac{0.693}{\lambda}$ (C) $T_{1/2} = \frac{0.963}{\lambda}$ (D) $T_{1/2} = \frac{0.369}{\lambda}$

Paper Code

Number:

4473

2018 (S)

Roll No. _____

INTERMEDIATE PART-II (12th CLASS)

PHYSICS PAPER-II (NEW SCHEME)

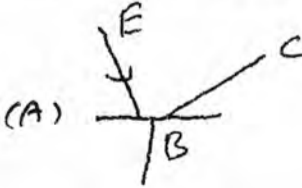

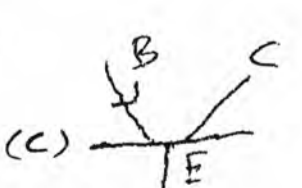
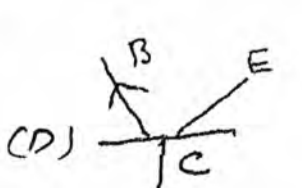
TIME ALLOWED: 20 Minutes

OBJECTIVE

MAXIMUM MARKS: 17

Note: You have four choices for each objective type question as A, B, C and D. The choice which you think is correct, fill that bubble in front of that question number. Use marker or pen to fill the bubbles. Cutting or filling two or more bubbles will result in zero mark in that question. Attempt as many questions as given in objective type question paper and leave others blank. No credit will be awarded in case BUBBLES are not filled. Do not solve questions on this sheet of OBJECTIVE PAPER.

Q.No.1

- (1) The value of first Bohr's orbit radius is:-
 (A) 0.053 nm (B) 0.53 m (C) 0.53 μ m (D) 0.53 nm
- (2) Curie is a unit of:-
 (A) Binding energy (B) Resistivity (C) Radioactivity (D) Conductivity
- (3) The half life of radioactive element is given by:-
 (A) $T_{1/2} = 0.693\lambda$ (B) $T_{1/2} = \frac{0.693}{\lambda}$ (C) $T_{1/2} = \frac{0.963}{\lambda}$ (D) $T_{1/2} = \frac{0.369}{\lambda}$
- (4) Electric flux will be zero if vector area is held:-
 (A) Perpendicular to field (B) At 45° to field (C) Parallel to field (D) At 60° to field
- (5) $\frac{V}{m}$ is equal to:-
 (A) $\frac{J}{m}$ (B) $\frac{C}{m}$ (C) $\frac{N}{C}$ (D) $\frac{C}{N}$
- (6) 50 C of charge flows through a conductor in one minute, current through the conductor is:-
 (A) 100 A (B) 50 A (C) 0.83 A (D) 0.74 A
- (7) The drift velocity of electrons is of the order of:-
 (A) 10^8 ms^{-1} (B) 10^6 ms^{-1} (C) 10^3 ms^{-1} (D) 10^{-3} ms^{-1}
- (8) In a straight current carrying conductor, the direction of magnetic field can be found by:-
 (A) Lenz's Law (B) Right hand rule (C) Left hand rule (D) Head to tail rule
- (9) The SI unit of magnetic flux density is:-
 (A) $\text{Nm}^{-1} \text{ A}^{-2}$ (B) NAm^{-1} (C) $\text{NA}^{-1} \text{ m}^{-1}$ (D) $\text{NA}^{-1} \text{ m}$
- (10) The phase difference between each pair of coils of a three phase A.C. generator is:-
 (A) 180° (B) 120° (C) 90° (D) 0°
- (11) As motor speeds up, the back emf:-
 (A) Remains same (B) Decreases (C) Increases (D) Becomes zero
- (12) The square root of average square value of an A.C. is called:-
 (A) Average value (B) rms value (C) P - P value (D) Peak value
- (13) An A.C. voltmeter reads 220 V, its peak value is:-
 (A) 220 V (B) 350 V (C) 250 V (D) 311.12 V
- (14) Domain contains nearly:-
 (A) 10^{12} to 10^{16} atoms (B) 10^9 to 10^{10} atoms (C) 10^6 to 10^9 atoms (D) 10^3 to 10^6 atoms
- (15) A photo diode is operated in:-
 (A) Forward biased condition
 (B) Normal biased condition (C) Reverse biased condition (D) Without biased condition
- (16) The symbol of PNP transistor is:-
 (A)  (B)  (C)  (D) 
- (17) The minimum energy required by a photon to create an electron - positron pair is:-
 (A) 3 MeV (B) 1.02 MeV (C) 1.20 MeV (D) 0.511 MeV

Paper Code

Number:

4475

2018 (S)

Roll No. _____

INTERMEDIATE PART-II (12th CLASS)

PHYSICS PAPER-II (NEW SCHEME)

TIME ALLOWED: 20 Minutes


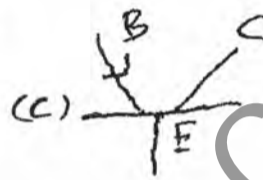

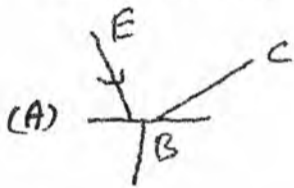
OBJECTIVE

MAXIMUM MARKS: 17

Note: You have four choices for each objective type question as A, B, C and D. The choice which you think is correct, fill that bubble in front of that question number. Use marker or pen to fill the bubbles. Cutting or filling two or more bubbles will result in zero mark in that question. Attempt as many questions as given in objective type question paper and leave others blank. No credit will be awarded in case BUBBLES are not filled. Do not solve questions on this sheet of OBJECTIVE PAPER.

Q.No.1

- (1) An A.C. voltmeter reads 220 V, its peak value is:-
 (A) 220 V (B) 350 V (C) 250 V (D) 311.12 V
- (2) Domain contains nearly:-
 (A) 10^{12} to 10^{16} atoms (B) 10^9 to 10^{10} atoms (C) 10^6 to 10^9 atoms (D) 10^3 to 10^6 atoms
- (3) A photo diode is operated in:-
 (A) Forward biased condition
 (B) Normal biased condition (C) Reverse biased condition (D) Without biased condition
- (4) The symbol of PNP transistor is:-



- (5) The minimum energy required by a photon to create an electron-positron pair is:-
 (A) 3 MeV (B) 1.02 MeV (C) 1.20 MeV (D) 0.511 MeV
- (6) The value of first Bohr's orbit radius is:-
 (A) 0.053 nm (B) 0.53 m (C) $0.53 \mu\text{m}$ (D) 0.53 nm
- (7) Curie is a unit of:-
 (A) Binding energy (B) Resistivity (C) Radioactivity (D) Conductivity
- (8) The half life of radioactive element is given by:-
 (A) $T_{1/2} = 0.693\lambda$ (B) $T_{1/2} = \frac{0.693}{\lambda}$ (C) $T_{1/2} = \frac{0.963}{\lambda}$ (D) $T_{1/2} = \frac{0.369}{\lambda}$
- (9) Electric flux will be zero if vector area is held:-
 (A) Perpendicular to field (B) At 45° to field (C) Parallel to field (D) At 60° to field
- (10) $\frac{V}{m}$ is equal to:-
 (A) $\frac{J}{m}$ (B) $\frac{C}{m}$ (C) $\frac{N}{C}$ (D) $\frac{C}{N}$
- (11) 50 C of charge flows through a conductor in one minute, current through the conductor is:-
 (A) 100 A (B) 50 A (C) 0.83 A (D) 0.74 A
- (12) The drift velocity of electrons is of the order of:-
 (A) 10^8ms^{-1} (B) 10^6ms^{-1} (C) 10^3ms^{-1} (D) 10^{-3}ms^{-1}
- (13) In a straight current carrying conductor, the direction of magnetic field can be found by:-
 (A) Lenz's Law (B) Right hand rule (C) Left hand rule (D) Head to tail rule
- (14) The SI unit of magnetic flux density is:-
 (A) $\text{Nm}^{-1}\text{A}^{-2}$ (B) NAm^{-1} (C) $\text{NA}^{-1}\text{m}^{-1}$ (D) NA^{-1}m
- (15) The phase difference between each pair of coils of a three phase A.C. generator is:-
 (A) 180° (B) 120° (C) 90° (D) 0°
- (16) As motor speeds up, the back emf:-
 (A) Remains same (B) Decreases (C) Increases (D) Becomes zero
- (17) The square root of average square value of an A.C. is called:-
 (A) Average value (B) rms value (C) P-P value (D) Peak value

Paper Code

Number:

4477

2018 (S)

Roll No. _____

INTERMEDIATE PART-II (12th CLASS)

PHYSICS PAPER-II (NEW SCHEME)

TIME ALLOWED: 20 Minutes

OBJECTIVE

MAXIMUM MARKS: 17

Note: You have four choices for each objective type question as A, B, C and D. The choice which you think is correct, fill that bubble in front of that question number. Use marker or pen to fill the bubbles. Cutting or filling two or more bubbles will result in zero mark in that question. Attempt as many questions as given in objective type question paper and leave others blank. No credit will be awarded in case BUBBLES are not filled. Do not solve questions on this sheet of OBJECTIVE PAPER.

Q.No.1

- (1) The SI unit of magnetic flux density is:-
 (A) $Nm^{-1}A^{-2}$ (B) NAm^{-1} (C) $NA^{-1}m^{-1}$ (D) $NA^{-1}m$
- (2) The phase difference between each pair of coils of a three phase A.C. generator is:-
 (A) 180° (B) 120° (C) 90° (D) 0°
- (3) As motor speeds up, the back emf:-
 (A) Remains same (B) Decreases (C) Increases (D) Becomes zero
- (4) The square root of average square value of an A.C. is called:-
 (A) Average value (B) rms value (C) P - P value (D) Peak value
- (5) An A.C. voltmeter reads 220 V, its peak value is:-
 (A) 220 V (B) 350 V (C) 250 V (D) 311.12 V
- (6) Domain contains nearly:-
 (A) 10^{12} to 10^{16} atoms (B) 10^9 to 10^{10} atoms (C) 10^6 to 10^9 atoms (D) 10^3 to 10^6 atoms
- (7) A photo diode is operated in:-
 (A) Forward biased condition
 (B) Normal biased condition (C) Reverse biased condition (D) Without biased condition
- (8) The symbol of PNP transistor is:-
- (A)

(B)

(C)

(D)
- (9) The minimum energy required by a photon to create an electron - positron pair is:-
 (A) 3 MeV (B) 1.02 MeV (C) 1.20 MeV (D) 0.511 MeV
- (10) The value of first Bohr's orbit radius is:-
 (A) 0.053 nm (B) 0.53 m (C) $0.53 \mu m$ (D) 0.53 nm
- (11) Curie is a unit of:-
 (A) Binding energy (B) Resistivity (C) Radioactivity (D) Conductivity
- (12) The half life of radioactive element is given by:-
 (A) $T_{1/2} = 0.693\lambda$ (B) $T_{1/2} = \frac{0.693}{\lambda}$ (C) $T_{1/2} = \frac{0.963}{\lambda}$ (D) $T_{1/2} = \frac{0.369}{\lambda}$
- (13) Electric flux will be zero if vector area is held:-
 (A) Perpendicular to field (B) At 45° to field (C) Parallel to field (D) At 60° to field
- (14) $\frac{V}{m}$ is equal to:-
 (A) $\frac{J}{m}$ (B) $\frac{C}{m}$ (C) $\frac{N}{C}$ (D) $\frac{C}{N}$
- (15) 50C of charge flows through a conductor in one minute, current through the conductor is:-
 (A) 100 A (B) 50 A (C) 0.83 A (D) 0.74 A
- (16) The drift velocity of electrons is of the order of:-
 (A) $10^8 ms^{-1}$ (B) $10^6 ms^{-1}$ (C) $10^3 ms^{-1}$ (D) $10^{-3} ms^{-1}$
- (17) In a straight current carrying conductor, the direction of magnetic field can be found by:-
 (A) Lenz's Law (B) Right hand rule (C) Left hand rule (D) Head to tail rule

2018 (S)

Roll No: _____

INTERMEDIATE PART-II (12th CLASS)**PHYSICS PAPER-II (OLD SCHEME)**

TIME ALLOWED: 3.10 Hours

SUBJECTIVE

MAXIMUM MARKS: 83

NOTE: - Write same question number and its part number on answer book, as given in the question paper.**SECTION-I****2. Attempt any Eight parts.****8 × 2 = 16**

- (i) Define $1.e.v$ and give its value in Joule.
- (ii) What will be the electric potential at a certain point due to a point charge?
- (iii) Suppose that you follow an electric field line due to a positive point charge. Do electric field and potential increases or decreases?
- (iv) The potential is constant throughout a given region of space. Is the electric field zero or non-zero in this region? Why?
- (v) Define Ampere's Law and give its formula.
- (vi) What is Cathode ray Oscilloscope?
- (vii) Why the voltmeter should have a very high resistance?
- (viii) Two charged particles are projected into a region where there is a magnetic field perpendicular to their velocities. If the charges are deflected in opposite directions, what can you say about them?
- (ix) What is Lenz's Law?
- (x) Define self induction and give its unit.
- (xi) Does the induced emf always act to decrease the magnetic flux through a circuit?
- (xii) Can a step-up transformer increase the power level? Explain.

3. Attempt any Eight parts.**8 × 2 = 16**

- (i) Why does the resistance of a conductor rise with temperature?
- (ii) Do bends in a wire affect its electrical resistance? Explain.
- (iii) State Kirchhoff's First Rule.
- (iv) A Sinusoidal Current has rms value of $10 A$. What is the maximum or peak value?
- (v) Name the device that will (a) permit flow of direct current but opposes the flow of alternating current. (b) Permit flow of alternating current but not the direct current.
- (vi) How does doubling the frequency effect the reactance of (a) Inductor (b) Capacitor?
- (vii) Define stress and strain. What are their SI units?
- (viii) Distinguish between Intrinsic and Extrinsic semi-conductor.
- (ix) Distinguish between Crystalline solids and Amorphous solids?
- (x) Why a Photo-diode is operated in reverse biased state?
- (xi) What is the net charge on n -type and p -type substance?
- (xii) Write the names of three regions of a transistor.

4. Attempt any Six parts.**6 × 2 = 12**

- (i) State and write the formula of Compton effect.
- (ii) When does light behave as a wave? When does it behave as a particle?
- (iii) Which has lower energy quanta, Radio-waves or X -rays? Why?
- (iv) What do you mean when we say that atom is excited?
- (v) What are the advantages of laser over ordinary light?
- (vi) What is meant by critical mass and critical volume?
- (vii) What is the term dead time for GM-counter?
- (viii) What do you understand by back ground radiation? Write down two sources of this radiation.
- (ix) What is a radioactive tracer? Describe its uses in industry.

(21)

SECTION-II (Essay Type)

8 × 3 = 24

NOTE: - Attempt any three questions.

- 5.(a) State Coulomb's Law. Find an expression for force between two charges when no medium is present between the charges. 5
- (b) The resistance of an iron wire at 0°C is $1 \times 10^4 \Omega$. What is the resistance at 500°C, if the temperature coefficient of resistance of iron is $11 \times 10^{-8} \Omega m$. 3
- 6.(a) What is transformer? Describe its principle, construction and working. 5
- (b) A power line 10.0 m high carries a current 200 A. Find the magnetic field of the wire at the ground. 3
- 7.(a) How Op - Amp can be used as inverting and non-inverting amplifier? 5
- (b) A circuit has an inductance of $\frac{1}{\pi} H$ and resistance of 2000Ω . A 50 Hz A.C is supplied to it. Calculate the reactance and impedance offered by the circuit. 3
- 8.(a) What do you mean by strain energy? Formulate the strain energy in a deformed material within its elastic limit. 5
- (b) A 50 KeV photon is Compton scattered by a quasi-free electron. If the scattered photon comes off at 45°, what is its wavelength? 3
- 9.(a) Derive expression for radii of quantized orbits of hydrogen. 5
- (b) Find the mass defect and the binding energy for tritium, if the atomic mass of tritium is 3.016049 amu, Mass of proton = 1.007276 amu. Mass of neutron = 1.008665 amu. 3

SECTION-III (PRACTICAL)

4 × 2 = 8

10. (a) Give answers to any Four.

- (i) How will you check weather the connections of slide wire bridge circuit are correct?
- (ii) What is NOT gate? Write its truth table? (iii) Give two uses of a Rheoastate.
- (iv) What is a shunt resistance? (v) What is a capacitance? Give its unit.
- (vi) What is rectification? Give name of its two types.
- (vii) Does the filament of a bulb obey Ohm's law? (viii) What is PN Junction? How is it forward biased?
- (b) Write down the brief procedure to determine the resistance of a wire by slide wire bridge. 3

OR

Write down the brief procedure to find internal resistance of a cell using potentiometer.

(c) Answer the questions given below on the basis of the following graph. 4

Graph-A

(i) What do you infer from the graph?

(ii) Find the slope of the graph.

OR

Graph-B

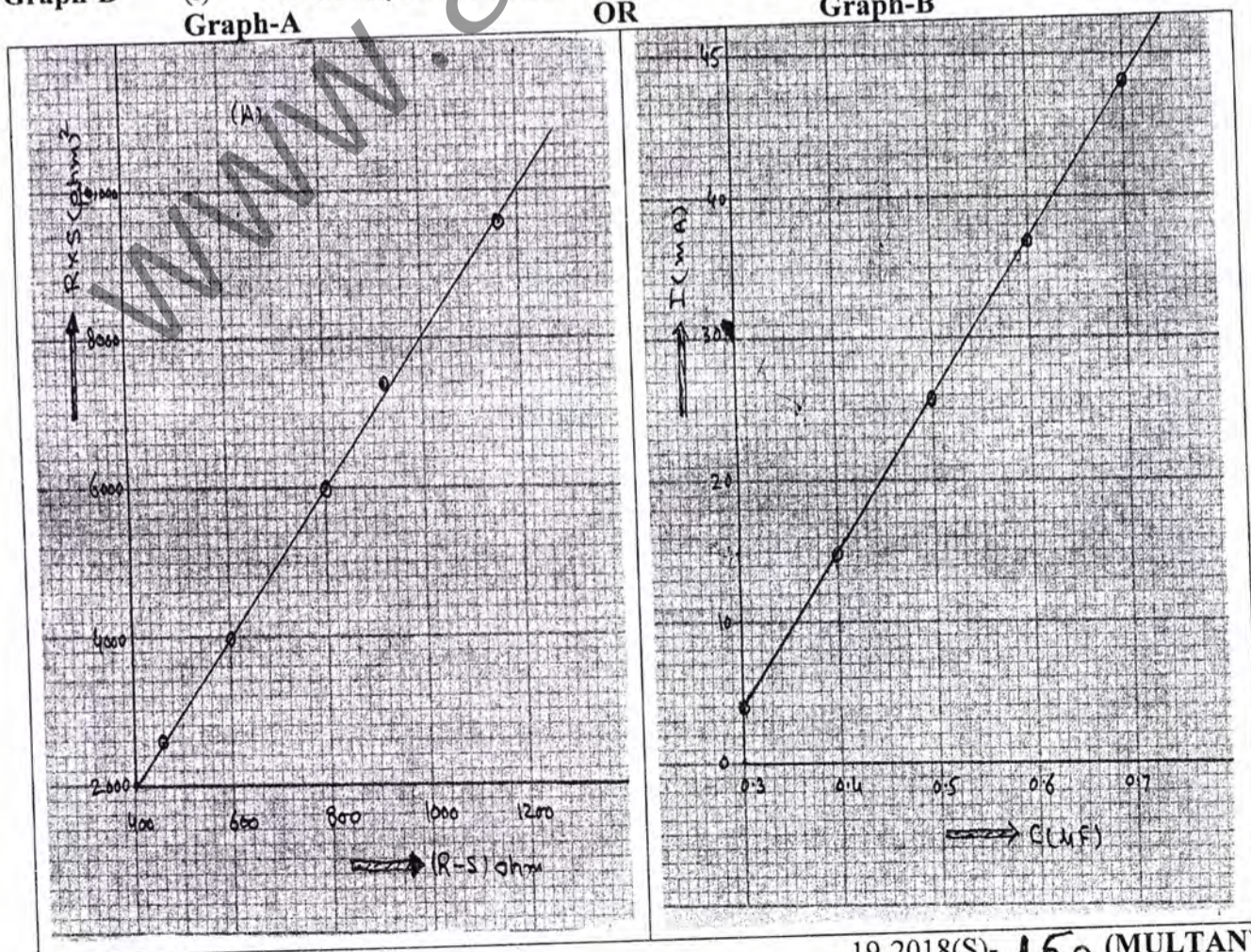
(i) What do you infer from the graph?

(ii) Find the slope of the graph.

Graph-A

OR

Graph-B



Paper Code

2018 (S)

Roll No. _____

Number:

8471

INTERMEDIATE PART-II (12th CLASS)

PHYSICS PAPER-II (OLD SCHEME)

TIME ALLOWED: 20 Minutes

OBJECTIVE

MAXIMUM MARKS: 17

Note: You have four choices for each objective type question as A, B, C and D. The choice which you think is correct, fill that circle in front of that question number. Use marker or pen to fill the circles. Cutting or filling two or more circles will result in zero mark in that question. Attempt as many questions as given in objective type question paper and leave others blank. No credit will be awarded in case BUBBLES are not filled. Do not solve questions on this sheet of OBJECTIVE PAPER.

Q.No.1

- (1) In photocopier, the drum is coated with a layer of:-
(A) Copper (B) Silver (C) Selenium (D) Gold
- (2) If time constant in RC series circuit is small, then capacitor is charged:-
(A) Slowly (B) Rapidly (C) At constant rate (D) Intermittently
- (3) The current flowing through each resistor of equal resistance in parallel combination, is:-
(A) Same (B) Different (C) Zero (D) Infinite
- (4) Two parallel wires carrying currents in the same direction:-
(A) Have no effect (B) Repel each other (C) No field around them (D) Attract each other
- (5) Cathode rays oscilloscope works by deflecting beam of:-
(A) Protons (B) Electrons (C) Neutrons (D) Positrons
- (6) The mutual inductance of the coils depends upon:-
(A) Density of coil (B) Material of coil (C) Geometry of coil (D) Stiffness of coil
- (7) A 50 mH coil carries a current of 2.0 A, then energy stored in its magnetic field is:-
(A) 0.1 J (B) 10 J (C) 100 J (D) 1000 J
- (8) The phase at the positive peak is:-
(A) Zero (B) π (C) 2π (D) $\frac{\pi}{2}$
- (9) In three phase A.C. supply, if first coil has phase 0° , then the other two coils will have phases:-
(A) 0° and 120° (B) 120° and 240° (C) 240° and 360° (D) 0° and 360°
- (10) In ferromagnetic substance, domain contains atoms nearly equal to:-
(A) 10^8 to 10^{12} (B) 10^{10} to 10^{14} (C) 10^{12} to 10^{16} (D) 10^{14} to 10^{18}
- (11) _____ is the building block of every complex electronic circuit.
(A) Semiconductor diode (B) Resistor (C) Capacitor (D) Amplifier
- (12) Photodiode is used for the detection of:-
(A) Light (B) Thermal radiation (C) Radio waves (D) Sound waves
- (13) The rest mass of photon is:-
(A) Infinite (B) Small (C) Zero (D) 1.67×10^{-27} kg
- (14) Application of wave-like nature of particle is:-
(A) Photodiode (B) Simple microscope (C) Compound microscope (D) Electron microscope
- (15) X-rays are similar in nature to:-
(A) γ -rays (B) β -rays (C) α -rays (D) Cathode rays
- (16) Hydrogen bomb is an example of:-
(A) Nuclear fission (B) Nuclear fusion (C) Chemical reaction (D) Chain reaction
- (17) Various type of cancer are treated by:-
(A) Carbon - 14 (B) Nickel - 63 (C) Cobalt - 60 (D) Strontium - 90

Paper Code

2018 (S)

Roll No. _____

Number:

8473

INTERMEDIATE PART-II (12th CLASS)**PHYSICS PAPER-II (OLD SCHEME)**

TIME ALLOWED: 20 Minutes

OBJECTIVE

MAXIMUM MARKS: 17

Note: You have four choices for each objective type question as A, B, C and D. The choice which you think is correct, fill that circle in front of that question number. Use marker or pen to fill the circles. Cutting or filling two or more circles will result in zero mark in that question. Attempt as many questions as given in objective type question paper and leave others blank. No credit will be awarded in case BUBBLES are not filled. Do not solve questions on this sheet of OBJECTIVE PAPER.

Q.No.1

- (1) The phase at the positive peak is:-
(A) Zero (B) π (C) 2π (D) $\frac{\pi}{2}$
- (2) In three phase A.C. supply, if first coil has phase 0° , then the other two coils will have phases:-
(A) 0° and 120° (B) 120° and 240° (C) 240° and 360° (D) 0° and 360°
- (3) In ferromagnetic substance, domain contains atoms nearly equal to:-
(A) 10^8 to 10^{12} (B) 10^{10} to 10^{14} (C) 10^{12} to 10^{16} (D) 10^{14} to 10^{18}
- (4) _____ is the building block of every complex electronic circuit.
(A) Semiconductor diode (B) Resistor (C) Capacitor (D) Amplifier
- (5) Photodiode is used for the detection of:-
(A) Light (B) Thermal radiation (C) Radio waves (D) Sound waves
- (6) The rest mass of photon is:-
(A) Infinite (B) Small (C) Zero (D) $1.67 \times 10^{-27} \text{ kg}$
- (7) Application of wave-like nature of particle is:-
(A) Photodiode (B) Simple microscope (C) Compound microscope (D) Electron microscope
- (8) X-rays are similar in nature to:-
(A) γ -rays (B) β -rays (C) α -rays (D) Cathode rays
- (9) Hydrogen bomb is an example of:-
(A) Nuclear fission (B) Nuclear fusion (C) Chemical reaction (D) Chain reaction
- (10) Various type of cancer are treated by:-
(A) Carbon - 14 (B) Nickel - 63 (C) Cobalt - 60 (D) Strontium - 90
- (11) In photocopier, the drum is coated with a layer of:-
(A) Copper (B) Silver (C) Selenium (D) Gold
- (12) If time constant in RC series circuit is small, then capacitor is charged:-
(A) Slowly (B) Rapidly (C) At constant rate (D) Intermittently
- (13) The current flowing through each resistor of equal resistance in parallel combination, is:-
(A) Same (B) Different (C) Zero (D) Infinite
- (14) Two parallel wires carrying currents in the same direction:-
(A) Have no effect (B) Repel each other (C) No field around them (D) Attract each other
- (15) Cathode rays oscilloscope works by deflecting beam of:-
(A) Protons (B) Electrons (C) Neutrons (D) Positrons
- (16) The mutual inductance of the coils depends upon:-
(A) Density of coil (B) Material of coil (C) Geometry of coil (D) Stiffness of coil
- (17) A 50 mH coil carries a current of 2.0 A , then energy stored in its magnetic field is:-
(A) 0.1 J (B) 10 J (C) 100 J (D) 1000 J

Paper Code

Number:

8475

2018 (S)

Roll No. _____

INTERMEDIATE PART-II (12th CLASS)

PHYSICS PAPER-II (OLD SCHEME)

TIME ALLOWED: 20 Minutes

OBJECTIVE

MAXIMUM MARKS: 17

Note: You have four choices for each objective type question as A, B, C and D. The choice which you think is correct, fill that circle in front of that question number. Use marker or pen to fill the circles. Cutting or filling two or more circles will result in zero mark in that question. Attempt as many questions as given in objective type question paper and leave others blank. No credit will be awarded in case BUBBLES are not filled. Do not solve questions on this sheet of OBJECTIVE PAPER.

Q.No.1

- (1) X - rays are similar in nature to:-
(A) γ - rays (B) β - rays (C) α - rays (D) Cathode rays
- (2) Hydrogen bomb is an example of:-
(A) Nuclear fission (B) Nuclear fusion (C) Chemical reaction (D) Chain reaction
- (3) Various type of cancer are treated by:-
(A) Carbon - 14 (B) Nickel - 63 (C) Cobalt - 60 (D) Strontium - 90
- (4) In photocopier, the drum is coated with a layer of:-
(A) Copper (B) Silver (C) Selenium (D) Gold
- (5) If time constant in RC series circuit is small, then capacitor is charged:-
(A) Slowly (B) Rapidly (C) At constant rate (D) Intermittently
- (6) The current flowing through each resistor of equal resistance in parallel combination, is:-
(A) Same (B) Different (C) Zero (D) Infinite
- (7) Two parallel wires carrying currents in the same direction:-
(A) Have no effect (B) Repel each other (C) No field around them (D) Attract each other
- (8) Cathode rays oscilloscope works by deflecting beam of:-
(A) Protons (B) Electrons (C) Neutrons (D) Positrons
- (9) The mutual inductance of the coils depends upon:-
(A) Density of coil (B) Material of coil (C) Geometry of coil (D) Stiffness of coil
- (10) A 50mH coil carries a current of 2.0A , then energy stored in its magnetic field is:-
(A) 0.1J (B) 10J (C) 100J (D) 1000J
- (11) The phase at the positive peak is:-
(A) Zero (B) π (C) 2π (D) $\frac{\pi}{2}$
- (12) In three phase A.C. supply, if first coil has phase 0° , then the other two coils will have phases:-
(A) 0° and 120° (B) 120° and 240° (C) 240° and 360° (D) 0° and 360°
- (13) In ferromagnetic substance, domain contains atoms nearly equal to:-
(A) 10^8 to 10^{12} (B) 10^{10} to 10^{14} (C) 10^{12} to 10^{16} (D) 10^{14} to 10^{18}
- (14) _____ is the building block of every complex electronic circuit.
(A) Semiconductor diode (B) Resistor (C) Capacitor (D) Amplifier
- (15) Photodiode is used for the detection of:-
(A) Light (B) Thermal radiation (C) Radio waves (D) Sound waves
- (16) The rest mass of photon is:-
(A) Infinite (B) Small (C) Zero (D) $1.67 \times 10^{-27}\text{kg}$
- (17) Application of wave-like nature of particle is:-
(A) Photodiode (B) Simple microscope (C) Compound microscope (D) Electron microscope

Paper Code

2018 (S)

Roll No. _____

Number:

8477

INTERMEDIATE PART-II (12th CLASS)**PHYSICS PAPER-II (OLD SCHEME)**

TIME ALLOWED: 20 Minutes

OBJECTIVE

MAXIMUM MARKS: 17

Note: You have four choices for each objective type question as A, B, C and D. The choice which you think is correct, fill that circle in front of that question number. Use marker or pen to fill the circles. Cutting or filling two or more circles will result in zero mark in that question. Attempt as many questions as given in objective type question paper and leave others blank. No credit will be awarded in case BUBBLES are not filled. Do not solve questions on this sheet of OBJECTIVE PAPER.

Q.No.1

- (1) Two parallel wires carrying currents in the same direction:-
(A) Have no effect (B) Repel each other (C) No field around them (D) Attract each other
- (2) Cathode rays oscilloscope works by deflecting beam of:-
(A) Protons (B) Electrons (C) Neutrons (D) Positrons
- (3) The mutual inductance of the coils depends upon:-
(A) Density of coil (B) Material of coil (C) Geometry of coil (D) Stiffness of coil
- (4) A 50 mH coil carries a current of 2.0 A, then energy stored in its magnetic field is:-
(A) 0.1 J (B) 10 J (C) 100 J (D) 1000 J
- (5) The phase at the positive peak is:-
(A) Zero (B) π (C) 2π (D) $\frac{\pi}{2}$
- (6) In three phase A.C. supply, if first coil has phase 0° , then the other two coils will have phases:-
(A) 0° and 120° (B) 120° and 240° (C) 240° and 360° (D) 0° and 360°
- (7) In ferromagnetic substance, domain contains atoms nearly equal to:-
(A) 10^8 to 10^{12} (B) 10^{10} to 10^{14} (C) 10^{12} to 10^{16} (D) 10^{14} to 10^{18}
- (8) _____ is the building block of every complex electronic circuit.
(A) Semiconductor diode (B) Resistor (C) Capacitor (D) Amplifier
- (9) Photodiode is used for the detection of:-
(A) Light (B) Thermal radiation (C) Radio waves (D) Sound waves
- (10) The rest mass of photon is:-
(A) Infinite (B) Small (C) Zero (D) 1.67×10^{-27} kg
- (11) Application of wave-like nature of particle is:-
(A) Photodiode (B) Simple microscope (C) Compound microscope (D) Electron microscope
- (12) X-rays are similar in nature to:-
(A) γ -rays (B) β -rays (C) α -rays (D) Cathode rays
- (13) Hydrogen bomb is an example of:-
(A) Nuclear fission (B) Nuclear fusion (C) Chemical reaction (D) Chain reaction
- (14) Various type of cancer are treated by:-
(A) Carbon - 14 (B) Nickel - 63 (C) Cobalt - 60 (D) Strontium - 90
- (15) In photocopier, the drum is coated with a layer of:-
(A) Copper (B) Silver (C) Selenium (D) Gold
- (16) If time constant in RC series circuit is small, then capacitor is charged:-
(A) Slowly (B) Rapidly (C) At constant rate (D) Intermittently
- (17) The current flowing through each resistor of equal resistance in parallel combination, is:-
(A) Same (B) Different (C) Zero (D) Infinite

BOARD OF INTERMEDIATE AND SECONDARY EDUCATION, MULTAN
OBJECTIVE KEY FOR INTERMEDIATE ANNUAL/SUPPLY EXAMINATION, 2018'

Name of Subject: OUTLINES OF HOME ECONOMICS Session: 2017 - 2018

Q.Nos	Paper Code	Paper Code	Paper Code	Paper Code
	4211			
1	D			
2	D			
3	A			
4	A & B			
5	A			
6	B			
7	D			
8	D			
9	C			
10	B			
11	D			
12	C			
13	D			
14	C			
15	B			
16	B			
17	B			
18				
19				
20				

ہم نے مضمون آؤٹ لائنز آف ہوم ایکنامکس پر ب گروپ سیکیم ٹیپو انٹرسالانہ ضمنی امتحان 2018 کا سوالیہ پرچہ انشائیہ و معروضی (Subjective & Objective) کو بنظر عمیق چیک کر لیا ہے یہ پرچہ Syllabus کے عین مطابق Set کیا گیا ہے۔ اس سوالیہ پرچہ میں کسی قسم کی کوئی غلطی نہ ہے۔ ہم نے سوالیہ پرچہ کا اردو اور انگریزی Version بھی چیک کر لیا ہے۔ یہ Version آپس میں مطابقت رکھتے ہیں۔ نیز اس پرچہ کی معروضی (MCQs) Key کی بابت تصدیق کی جاتی ہے کہ اس میں بھی کسی قسم کی کوئی غلطی نہ ہے۔ مزید یہ کہ ہم نے Key بنانے سے متعلق دفتر کی جانب سے تیار کردہ ہدایات وصول کر کے ان کا بغور مطالعہ کر لیا ہے اور ان کی روشنی میں Key بنائی ہے۔ نیز سب ایگزامینرز کیلئے تفصیلی مارکنگ ہدایات / مارکنگ سکیم / Rubrics بھی تیار کر دی گئی ہیں۔

Prepared & Checked By:

Dated: 30-11-2018.

S.#	Name	Designation	Institution	Mobile No	Signature
1	MRS. ANILA CHAUDHARY	(PRINCIPAL) ASSOCIATE PROF	Govt. College of Home Economics Multan.	0300-6332156	Anil Chaudhary
2	MRS. SABA MAQBOL	LECTURER	Govt. College of Home Economics, Multan.	0333-6133413	Saba Maqbool
3	MRS. TAYYABA TASLEEM	LECTURER	Govt. College of Home Economics, Multan.	0331-7040635	Tayyaba Tasleem

ثانوی و اعلیٰ ثانوی تعلیمی بورڈ، ملتان

مورخہ: 30.10.18 مضمون: ہوم سائنس (پہلا سہ ماہی) گروپ: _____

جزل ہدایات برائے مارکنگ Key اور اسکیم اینو اسکیم (مارکنگ اسکیم)

انٹرنیٹ فرسٹ ایسٹڈ سالانہ ضمنی امتحان 2018ء

Sr #	Code	Error Indicated	Sr #	Code	Error Indicated
1.	UN	Un-Necessary	8.	Sp	Spelling Error
2.	Ir	Irrelevant	9.	P	Punctuation
3.	IN	Incomplete	10.	Wo	Wrong word error
4.	EX	Extra	11.	Wt	Wrong Tense
5.	Rp	Re-Produced	12.	Wf	Wrong Form
6.	Is	Insufficient	13.	OA	Over Attempt
7.	Gr	Grammar Error			

اہم نوٹ: ہر سوال "Full Award" سے کم نمبر لگانے کی صورت میں وجہ ضرور لکھیں۔

- 1, In case of incomplete answer.
- 2, In case of wrong & irrelevant answer.
- 3, If the answer is not clear.

Instructions for Marking.

- Divide short Questions into Four parts and each part deserves 1/2 Mark.
- If short Question is divided in two parts then each part deserves 1 mark.
- In long Questions, Quality, Quantity, Relevancy, accuracy & hand writing are considered.

2018 (S)

رٹول نمبر

INTERMEDIATE PART-II (12th CLASS)

آؤٹ لائنز آف ہوم اکنامکس پرچہ - دوسرا
 (نیو سکیم)

TIME ALLOWED: 2.40 Hours

SUBJECTIVE حصہ انشائیہ

وقت = 2.40 گھنٹے

MAXIMUM MARKS: 68

کل نمبر = 68

نوٹ۔ جوابی کاپی پر وہی سوال نمبر اور جزو نمبر درج کیجیے جو کہ سوالیہ پرچے میں درج ہے۔
 NOTE: - Write same question number and its part number on answer book, as given in the question paper.

SECTION-I حصہ اول

2. Attempt any eight parts.

16 = 2 x 8

سوال نمبر 2۔ کوئی سے آٹھ اجزاء کے جوابات تحریر کیجیے۔

- (i) Write down names of four non-essential amino acids. (i) چار غیر ضروری امانوٹوشوں کے نام لکھیں۔
 (ii) What is the identification of a healthy person? (ii) ایک صحت مند انسان کی کیا پہچان ہے؟
 (iii) Define Fats. (iii) روغنیات کی تعریف کریں۔
 (iv) How many food groups are there? (iv) غذا کے بنیادی گروہ کتنے ہیں؟
 (v) Define Food and Nutrition. (v) غذا اور غذائیت کی تعریف لکھیں۔
 (vi) Write down the deficiency diseases of Protein. (vi) لحمیات کی کمی سے پیدا ہونے والے امراض تحریر کریں۔
 (vii) Every fatty diet is compound of how many parts? Write names. (vii) ہر روغنی غذا کتنے اجزاء کا مرکب ہے؟ نام لکھیں۔
 (viii) What are some general characteristics of Vitamins? (viii) حیاتین کے چند عمومی خواص کون سے ہیں؟
 (ix) Define Calorie. (ix) حرارہ کسے کہتے ہیں؟
 (x) Write chemical composition of Carbohydrates. (x) کاربوہائیڈریٹس کی ساخت بیان کیجیے۔
 (xi) Write four important functions of Protein. (xi) پروٹین کے چار اہم کام بیان کیجیے۔
 (xii) Write down four basic functions of Water. (xii) پانی کے چار بنیادی کام تحریر کیجیے۔

3. Attempt any eight parts.

16 = 2 x 8

سوال نمبر 3۔ کوئی سے آٹھ اجزاء کے جوابات تحریر کیجیے۔

- (i) Write any four principles of Menu Planning. (i) فہرست طعام کے کوئی چار اصول تحریر کریں۔
 (ii) What are Natural Fibres? Write names. (ii) قدرتی ریشے کون سے ہیں؟ نام لکھیں۔
 (iii) Write main objectives of cooking food. (iii) خوراک پکانے کے اہم مقاصد لکھیں۔
 (iv) Which points would you keep in mind while purchasing meat? (iv) گوشت کی خریداری میں کن باتوں کو مد نظر رکھنا چاہیے؟
 (v) Write any two machine troubles and their solution. (v) مشین میں ہونے والی کوئی دو خرابیاں اور ان کا حل لکھیں۔
 (vi) Write down the important functions of Calcium and Phosphorus. (vi) کلسیم اور فاسفورس کے اہم افعال بیان کیجیے۔
 (vii) Write down the effects of deficiency of Iodine. (vii) آیوڈین کی کمی کے اثرات بیان کیجیے۔
 (viii) Which four points are important for purchasing food? (viii) خوراک کی خریداری کے لیے چار اہم نکات کون سے ہیں؟
 (ix) Describe the best sources of Iron. (ix) فولاد کے بہترین ذرائع بیان کیجیے۔
 (x) Which food is called basic or staple food? (x) بنیادی خوراک کون سی خوراک کہلاتی ہے؟
 (xi) Write down four important functions of Fats. (xi) روغنیات کے چار اہم افعال بیان کیجیے۔
 (xii) Write down the names of Nutrients in Sequence. (xii) غذائی اجزاء ترتیب وار لکھیں۔

(ورق الٹئے)

(2)

4. Attempt any six parts.

12 = 2 x 6

- (i) Write procedure of taking care of sewing machine.
- (ii) How will you take care of woollen clothes?
- (iii) What is meant by Self-grooming?
- (iv) Write down necessary equipments for Ironing.
- (v) Write down the names of Natural Fibres.
- (vi) Twill weave is appropriate for what type of fabrics?
- (vii) What points would you keep in mind while making a good fitted dress?
- (viii) How will you plan a wardrobe for young children?
- (ix) Write down the method to get proficiency on machine.

سوال نمبر 4۔ کوئی سے چھ اجزاء کے جوابات تحریر کیجیے۔

- (i) سلائی مشین کی حفاظت کا طریقہ لکھیں۔
- (ii) اونی کپڑوں کی دیکھ بھال آپ کیسے کریں گی؟
- (iii) ذاتی زیبائش سے کیا مراد ہے؟
- (iv) استری کے لیے ضروری آلات تحریر کیجیے۔
- (v) قدرتی ریشوں کے نام لکھیں۔
- (vi) ٹویل بنائی کن خاص کپڑوں کے لیے موزوں ہے؟
- (vii) اچھی فٹنگ کے لباس بنانے کے لیے کن باتوں کا خیال رکھنا ضروری ہے؟
- (viii) چھوٹے بچوں کے کپڑوں کی منصوبہ بندی آپ کیسے کریں گے؟
- (ix) مشین پر مہارت حاصل کرنے کا طریقہ لکھیں۔

SECTION-II حصہ دوم

24 = 8 x 3

NOTE: - Attempt any three questions.

5. Write down steps of making thread from cotton fibre.

نوٹ۔ کوئی سے تین سوالات کے جوابات تحریر کیجیے۔
5۔ سوتی ریشے سے دھاگا بنانے کے مراحل بیان کریں۔

6. What is meant by Food requirements?
Write down food requirements of infancy period.

6۔ غذائی ضروریات سے کیا مراد ہے؟
شیر خورگی کے دور کی غذائی ضروریات بیان کیجیے۔
Write down food requirements of infancy period.

7. Why is food cooked? Write down the principles of cooking food.

7۔ کھانا کیوں پکا جاتا ہے؟
کھانا بنانے کے اصول بیان کیجیے۔

8. What are water soluble vitamins? Explain in detail any two vitamins of "B" complex.

8۔ پانی میں حل پذیر حیاتین کے نام لکھیں۔
حیاتین "بی کمپلکس" کے دو اہم حیاتین تفصیل سے لکھیں۔

9. Write different parts of sewing machine and their functions.

9۔ سلائی مشین کے اہم پرزوں کے نام اور کام تحریر کیجیے۔

Paper Code

2018 (S)

رول نمبر

Number: 4211

INTERMEDIATE PART-II (12th CLASS)

آؤٹ لائنز آف ہوم اکنامکس پرچہ - دوسرا
(نیو سکیم)

TIME ALLOWED: 20 Minutes

OBJECTIVE حصہ معروضی

وقت = 20 منٹ

MAXIMUM MARKS: 17

کل نمبر = 17

نوٹ - ہر سوال کے چار ممکنہ جوابات A, B, C اور D دیئے گئے ہیں۔ جوابی کاپی پر ہر سوال کے سامنے دیئے گئے دائروں میں سے درست جواب کے مطابق متعلقہ دائرہ کو مار کر یا پین سے بھر دیتے۔ ایک سے زیادہ دائروں کو بھر کر یا کاٹ کر بھر کرنے کی صورت میں مذکورہ جواب غلط تصور ہوگا۔ دائروں کو بھر نہ کرنے کی صورت میں کوئی نمبر نہیں دیا جائے گا۔ اس سوالیہ پرچہ پر

Note: you have four choices for each objective type question as A, B, C and D. The choice which you think is correct, fill that bubble in front of that question number. On bubble sheet, use marker or pen to fill the bubbles. Cutting or filling two or more bubbles will result in zero mark in that question. Attempt as many questions as given in objective type question paper and leave others blank. No credit will be awarded in case BUBBLES are not filled. Do not solve questions on this sheet of OBJECTIVE PAPER.

Q.No.1

سوال نمبر 1-

- (1) If antibodies are not produced then:-
(A) Anemia occurs اینیما ہو جاتا ہے (B) Resistance power develops قوت مدافعت پیدا ہوتی ہے
(C) Weakness occurs کمزوری ہو جاتی ہے (D) Resistance power decreases قوت مدافعت کم ہو جاتی ہے
- (2) _____ is needed to make designs with computer machine.
(A) Ripper رپر (B) Thimble انگشتانہ (C) Thread دھاگہ (D) Different discs مختلف ڈسکس
- (3) While cutting the cloth diagonally its angle, should be:-
(A) 45° (B) 90° (C) 360° (D) 180°
- (4) The diet of patient, should be:-
(A) Over cooked زیادہ پکی ہوئی (B) Balanced متوازن (C) Hard سخت (D) Fatty or oily چکنی و روغنی
- (5) _____ is attached to sewing machine operated by feet.
(A) Stand سٹینڈ (B) Handle ہتھی (C) Wood لکڑی (D) Glass شیشہ
- (6) The factors to acquire balanced diet is:-
(A) Physical conditions جسمانی کیفیت (B) Knowledge of food groups غذائی گروہ کا علم
(C) Hard work سخت محنت (D) Traditional dietary habits روایتی غذائی عادات
- (7) The strength of our bone structure depends upon:-
(A) Proteins لحمیات پر (B) Vitamins حیاتین پر (C) Fats چکنائی پر (D) Minerals معدنی نمکیات پر
- (8) The main source of Vitamin "D" is:-
(A) Fruits پھل (B) Cereals اناج (C) Salt نمک (D) Sun rays سورج کی شعاعیں
- (9) The chemical name of Niacin is:-
(A) Sulphuric acid سلفورک ایسڈ (B) Ascorbic acid اسکاربک ایسڈ (C) Nicotinic acid نکوٹینک ایسڈ (D) Acetic acid ایسٹک ایسڈ
- (10) Amount of calories in 1 gram of protein is:-
(A) 3 (B) 4 (C) 6 (D) 9
- (11) Proteins are made up of:-
(A) Lactose لیکوز (B) Lactic acid لیکٹک ایسڈ (C) Glycogen گلائی کوجن (D) Amino acid امینو ایسڈ
- (12) The best sources of Vitamins and Minerals are:-
(A) Pulses دالیں (B) Eggs انڈے (C) Fresh fruits and vegetables تازہ پھل اور ہنریاں (D) Meat گوشت
- (13) The name of Linen plant is:-
(A) Egg plant ایک پلانٹ (B) Cotton plant کاتن پلانٹ (C) Silk plant سلک پلانٹ (D) Flax plant فلکس پلانٹ
- (14) Oily foods are natural source of:-
(A) Vitamin A, B, C وٹامن اے، ب، ج (B) Vitamin B, C, D وٹامن ب، ج، د (C) Vitamin A, D, E وٹامن الف، د، ای (D) Vitamin B, C, E وٹامن ب، ج، ای
- (15) _____ part of machine pushes fabric while stitching.
(A) Lever لیور (B) Feed dog داندے (C) Screw پیچ (D) Needle سوئی
- (16) In every meal number of calories are:-
(A) Same ایک جیسی (B) Different مختلف (C) More زیادہ (D) Less کم
- (17) Detailed planning of food for whole day is called:-
(A) Time planning فہرست وقت (B) Meal planning فہرست طعام (C) Ingredient planning فہرست اشیا (D) Energy planning فہرست قوت

www.arifrao.com
 BOARD OF INTERMEDIATE AND SECONDARY EDUCATION, MULTAN
 OBJECTIVE KEY FOR INTERMEDEAT ANNUAL/SUPPLY EXAMINATION, 2018'

Name of Subject: Geography

Session: _____

Q.Nos	Paper Code	Paper Code	Paper Code	Paper Code
	4121			
1	D			
2	C			
3	A, C			
4	B			
5	A			
6	C			
7	D			
8	C			
9	A			
10	A			
11	A			
12	C			
13	B			
14	C			
15	A			
16	A			
17	B			
18				
19				
20				

مرٹیکٹ مابت صحیح سوالیہ پرچہ مارکنگ Key

ہم نے مضمون حضر افندہ پرچہ دوسرا گروپ سکیم نمبر انٹر ملٹائنہ ضمنی امتحان 2018 کا سوالیہ پرچہ انشائیہ و معروضی (Subjective & Objective) کو بنظر عینت چیک کر لیا ہے یہ پرچہ Syllabus کے عین مطابق Set کیا گیا ہے۔ اس سوالیہ پرچہ میں کسی قسم کی کوئی غلطی نہ ہے۔ ہم نے سوالیہ پرچہ کا اردو اور انگریزی Version بھی چیک کر لیا ہے۔ یہ Version آپس میں مطابقت رکھتے ہیں۔ نیز اس پرچہ کی معروضی (MCQs) Key کی بابت تصدیق کی جاتی ہے کہ اس میں بھی کسی قسم کی کوئی غلطی نہ ہے۔ مزید یہ کہ ہم نے Key بنانے سے متعلق دفتر کی جانب سے تیار کردہ ہدایات وصول کر کے ان کا بغور مطالعہ کر لیا ہے اور ان کی روشنی میں Key بنائی ہے۔ نیز سب ایگزامینرز کیلئے تفصیلی مارکنگ ہدایات / مارکنگ سکیم / Rubrics بھی تیار کر دی گئی ہیں۔

Prepared & Checked By:

Dated: 30-10-2018

S.#	Name	Designation	Institution	Mobile No	Signature
1	H. Elahi Bakhsh	AD	Govt. C. Civil Lines Multan	03017550895	
2	ch M. Anwar	AD	Govt. Emerson - C Multan	03006339510	
3					

23

ثانوی و اعلیٰ ثانوی تعلیمی بورڈ، ملتان

مورخہ: 2018-10-30 مضمون: حروفِ اقصیٰ پرچہ: II گروپ:

جزل ہدایات برائے مارکنگ Key اولڈ اسکیم اینڈ نئی اسکیم (مارکنگ اسکیم)

انٹرنیٹ فرسٹ ایکنڈ سالانہ ضمنی امتحان 2018ء

Sr #	Code	Error Indicated	Sr #	Code	Error Indicated
1.	UN	Un-Necessary	8.	Sp	Spelling Error
2.	Ir	Irrelevant	9.	P	Punctuation
3.	IN	Incomplete	10.	Wo	Wrong word error
4.	EX	Extra	11.	Wt	Wrong Tense
5.	Rp	Re-Produced	12.	Wf	Wrong Form
6.	Is	Insufficient	13.	OA	Over Attempt
7.	Gr	Grammar Error			

اہم نوٹ: ہر سوال "Full Award" سے کم نمبر لگانے کی صورت میں وجہ ضرور لکھیں۔

سوال نمبر 1 حصہ معروضی کی مارکنگ Key کے مطابق احتیاط سے کی جائے

سوال نمبر 2، 3 اور 4 کے درست جواب کی صورت میں فل (Full) نمبر دیں

سوال نمبر 5 جواب درست ہو تو (Maximum) نمبر دیں۔

سوال نمبر 6 یہاں حروف کے نام لکھیں اور ہر فصل کے نمبر الگ الگ دیں

سوال نمبر 7، 8 اور 9 کے درست جوابات ہوتے تو زیادہ سے زیادہ نمبر الگ الگ دیں

حافظ الیٰ بخش
AD گورنمنٹ ماہی سکول
لاہور ملتان
2 جوہداری محمد انور
AD گورنمنٹ ایمر سن ماہی ملتان

2018 (S)

رول نمبر

انٹرمیڈیٹ امتحان پارٹ - II (کلاس بارہویں)

GEOGRAPHY PAPER-II (NEW SCHEME)

جغرافیہ پرچہ - دوسرا (نیو سکیم)

TIME ALLOWED: 2.40 Hours

SUBJECTIVE حصہ انشائیہ

وقت = 2.40 گھنٹے

MAXIMUM MARKS: 68

کل نمبر = 68

نوٹ - جوابی کاپی پر وہی سوال نمبر اور جزو نمبر درج کیجیے جو کہ سوالیہ پرچے میں درج ہے۔

NOTE: - Write same question number and its part number on answer book, as given in the question paper.

SECTION-I حصہ اول

16 = 2 x 8

2. Attempt any eight parts.

- Write a short note on modest populated areas of the world.
- Write the names of member countries of common wealth.
- Write four characteristics of Continent Asia.
- Write the location of Continent Asia.
- Name the important coal producing areas of Pakistan.
- Write a short note on Tobacco crop of Pakistan.
- Write a note on Sugar cane cultivation in Pakistan.
- Write a short note on the hydro electric projects of China.
- Which are the important imports of China?
- Which are the important crops and fruits of Japan?
- Which are the important imports of Japan?
- Write the location of Saudi Arabia.

سوال نمبر 2- کوئی سے آٹھ اجزاء کے جوابات تحریر کیجیے۔

- دنیا کے اوسط آبادی رکھنے والے علاقوں پر مختصر نوٹ لکھیں۔
- دولت مشترکہ کے ممبر ممالک کے نام لکھیے۔
- براعظم ایشیا کی چار خصوصیات بیان کریں۔
- براعظم ایشیا کا محل وقوع بیان کریں۔
- پاکستان میں کوئلے کی پیداوار کے اہم علاقوں کے نام لکھیں۔
- پاکستان میں تنباکو کی فصل پر مختصر نوٹ لکھیں۔
- پاکستان میں گنے کی کاشت پر نوٹ لکھیں۔
- چین کے پن بجلی کے منصوبوں پر مختصر نوٹ لکھیں۔
- چین کی اہم درآمدات کون سی ہیں؟
- جاپان کی اہم فصلیں اور پھل کون سے ہیں؟
- جاپان کی اہم درآمدات کون سی ہیں؟
- سعودی عرب کا محل وقوع بیان کریں۔

3. Attempt any eight parts.

16 = 2 x 8

- Write important characteristics of Europe.
- Write names of any four countries of Europe.
- Describe the importance of location in the Development of U.K.
- Why is Birmingham called "Black Country"?
- Who are "Eskimos" and where they live?
- Write a note on Chinook wind.
- Which oceans are locate in the East and West of USA?
- Write important Exports of USA.
- Write thinly populated areas of South America.
- Describe the location of South America.
- Write a note on Paitogonia Plateau.
- Write four urban centres of Brazil.

سوال نمبر 3- کوئی سے آٹھ اجزاء کے جوابات تحریر کیجیے۔

- براعظم یورپ کی اہم خصوصیات تحریر کیجیے۔
- براعظم یورپ کے چار ممالک کے نام تحریر کیجیے۔
- سلطنت متحدہ کی ترقی میں محل وقوع کی اہمیت بیان کیجیے۔
- برمنگھم کو بلیک کنٹری کیوں کہا جاتا ہے؟
- "اسکیمو" کون ہیں اور کہاں رہتے ہیں؟
- چنوک ہوا پر نوٹ لکھیں۔
- ریاست ہائے متحدہ کے مشرق اور مغرب میں کون سے بحرواقع ہیں؟
- یو ایس اے کی اہم برآمدات تحریر کیجیے۔
- براعظم جنوبی امریکا کے کم آباد علاقے تحریر کیجیے۔
- براعظم جنوبی امریکا کا محل وقوع بیان کریں۔
- سطح مرتفع پینے کو نیارنوٹ لکھیں۔
- برازیل کی شہری آبادی کے چار مراکز تحریر کیجیے۔

4. Attempt any six parts.

12 = 2 x 6

- Which are densely populated areas of Africa?
- Define Rift Valley.
- Why the Nile river is called a gift of Egypt?
- Write important exports of Sudan.
- What do you know about the Industry of Sudan?
- Which areas do receive rainfall throughout the year in Australia?
- Write names of any four cities of Australia.
- Write a note on Basin of Lake Aire.
- Give a geographical introduction of continent Antarctica.

سوال نمبر 4- کوئی سے چھ اجزاء کے جوابات تحریر کیجیے۔

- براعظم افریقہ کے گنجان آباد علاقے کون سے ہیں؟
- شگافی وادی کی تعریف کیجیے۔
- دریائے نیل کو مصر کا تحفہ کیوں کہا جاتا ہے؟
- سوڈان کی اہم برآمدات تحریر کیجیے۔
- سوڈان کی صنعت کے بارے میں آپ کیا جانتے ہیں؟
- آسٹریلیا کے کن علاقوں میں سارا سال بارش رہتی ہے؟
- آسٹریلیا کے چار شہروں کے نام تحریر کیجیے۔
- جھیل آئر کے طاس پر نوٹ لکھیے۔
- براعظم انٹارکٹیکا کا جغرافیائی تعارف پیش کیجیے۔

SECTION-II حصہ دوم

24 = 8 x 3

NOTE: - Attempt any three questions.

- Write a detailed note on river basins of continent Asia. -5
- Write about Rabi and Kharief crops of Pakistan and describe about Rice, Wheat and Cotton. -6
- Write an essay on Industrial progress of China. -7
- Write a comprehensive note on the industries of United States of America. -8
- Explain in detail the physical features of continent Africa. -9

Paper Code

2018 (S)

رول نمبر

Number: 4121

انٹرمیڈیٹ امتحان پارٹ - II (کلاس بارہویں)

GEOGRAPHY PAPER-II (NEW SCHEME)

جغرافیہ پرچہ - دوسرا (نیو سکیم)

TIME ALLOWED: 20 Minutes

OBJECTIVE حصہ معروضی

وقت = 20 منٹ

MAXIMUM MARKS: 17

کل نمبر = 17

نوٹ - ہر سوال کے چار ممکنہ جوابات A، B، C اور D دیئے گئے ہیں۔ جوابی کاپی پر ہر سوال کے سامنے دیئے گئے دائروں میں سے درست جواب کے مطابق متعلقہ دائرہ کو مار کر یا پین سے بھر دیتے۔ ایک سے زیادہ دائروں کو بھر کرنے یا کٹ کر پُر کرنے کی صورت میں مذکورہ جواب غلط تصور ہوگا۔ دائروں کو پُر نہ کرنے کی صورت میں کوئی نمبر نہیں دیا جائے گا۔ اس سوالیہ پرچہ پر سوالات ہرگز حل نہ کریں۔

Note: you have four choices for each objective type question as A, B, C and D. The choice which you think is correct, fill that bubble in front of that question number. On bubble sheet, use marker or pen to fill the bubbles. Cutting or filling two or more bubbles will result in zero mark in that question. Attempt as many questions as given in objective type question paper and leave others blank. No credit will be awarded in case BUBBLES are not filled. Do not solve questions on this sheet of OBJECTIVE PAPER.

Q.No.1

سوال نمبر 1-

- (1) Total population of the world is:-
 (A) 4 Billion ارب (B) 5 Billion ارب (C) 6 Billion ارب (D) 7 Billion ارب
 (1) دنیا کی کل آبادی ہے۔
- (2) According to Physiography Asia is divided into _____ regions.
 (A) 12 (B) 10 (C) 6 (D) 4
 (2) طبعی لحاظ سے ایشیا _____ حصوں میں تقسیم ہے۔
- (3) Famous division for the production of Dates is:-
 (A) Kalat قلات (B) Khazdar خضدار (C) Multan ملتان (D) Lahore لاہور
 (3) کھجوروں کی پیداوار کے لیے مشہور ڈویژن ہے۔
- (4) The total under-forest area of Pakistan is:-
 (A) 3 % (B) 5 % (C) 8 % (D) 10 %
 (4) پاکستان کا کل زیر جنگلات رقبہ ہے۔
- (5) Total cultivable area of China is:-
 (A) 10 % (B) 12 % (C) 14 % (D) 16 %
 (5) چین کا _____ فیصد رقبہ قابل کاشت ہے۔
- (6) The major source of energy in Japan is:-
 (A) Natural gas قدرتی گیس (B) Oil تیل (C) Coal کوئلہ (D) Solar energy شمسی توانائی
 (6) جاپان میں توانائی کا سب سے بڑا وسیلہ ہے۔
- (7) The administrative capital of Saudi Arabia is:-
 (A) Jeddah جدہ (B) Yanbu یانبو (C) Makkah مکہ (D) Riyadh ریاض
 (7) سعودی عرب کا انتظامی دار الحکومت ہے۔
- (8) Continent _____ has the largest coastline.
 (A) Asia ایشیا (B) Africa افریقہ (C) Europe یورپ (D) Australia آسٹریلیا
 (8) براعظم _____ کا ساحل سب سے لمبا ہے۔
- (9) The total area of UK in Km² is:-
 (A) 241572 (B) 201570 (C) 152150 (D) 101720
 (9) سلطنت متحدہ کا کل رقبہ _____ مربع کلومیٹر ہے۔
- (10) Grand Canyon is the valley of the _____ river.
 (A) Colorado کولورڈو (B) Snake سنیک (C) Colombia کولمبیا (D) Mississippi مسیسیپی
 (10) گرینڈ کینن دریاے _____ کی وادی ہے۔
- (11) The largest film making centre of the world is:-
 (A) Los Angeles لاس اینجلس (B) New York نیویارک (C) San Fransisco سان فرانسکو (D) Arizona ایریڈونا
 (11) دنیا میں فلم سازی کا سب سے بڑا مرکز ہے۔
- (12) The Andes mountain range is located in _____ continent.
 (A) Australia آسٹریلیا (B) Europe یورپ (C) South America جنوبی امریکا (D) North America شمالی امریکا
 (12) اینڈیز پہاڑی سلسلہ براعظم _____ میں واقع ہے۔
- (13) The % area of Brazil located between equator and Tropic of Capricorn is:-
 (A) 95 % (B) 93 % (C) 80 % (D) 70 %
 (13) برازیل کا _____ فیصد حصہ خط استوا اور خط جدی کے درمیان واقع ہے۔
- (14) Nile river is located in:-
 (A) India انڈیا (B) Pakistan پاکستان (C) Africa افریقہ (D) Europe یورپ
 (14) دریاے نیل پایا جاتا ہے۔
- (15) According to the 2006 data the population of Sudan was:-
 (A) 41.18 million ملین (B) 43.19 million ملین (C) 40.7 million ملین (D) 38.13 million ملین
 (15) 2006ء کے اعداد و شمار کے مطابق سوڈان کی آبادی تھی۔
- (16) The basin of Murray Darling is in _____ continent.
 (A) Australia آسٹریلیا (B) Europe یورپ (C) Asia ایشیا (D) Africa افریقہ
 (16) مرے ڈارلنگ کا طاس براعظم _____ میں ہے۔
- (17) In Antarctica minimum temperature is observed at _____ point.
 (A) Victoria Land وکٹوریہ لینڈ (B) Vostak Station واسٹاک اسٹیشن (C) Coats land کوٹس لینڈ (D) MT. Erebus مائونٹ ایریلس
 (17) انٹارکٹیکا میں کم سے کم درجہ حرارت _____ مقام پر مشاہدہ کیا گیا۔

2018 (S) Roll No: _____
INTERMEDIATE PART-II (12th CLASS)

CHEMISTRY PAPER-II (OLD SCHEME)

TIME ALLOWED: 3.10 Hours

SUBJECTIVE

MAXIMUM MARKS: 83

NOTE: - Write same question number and its part number on answer book, as given in the question paper.

SECTION-I

2. **Attempt any Eight parts.**

$8 \times 2 = 16$

- (i) Why *d* and *f* Block Elements are called Transition Elements?
- (ii) Why Alkali metals give Ionic hydrides?
- (iii) Why 2 % Gypsum is added in cement?
- (iv) How Lime Mortar is prepared?
- (v) Give formulas of different acids of Boron.
- (vi) Why CO_2 is non-polar in nature and acidic in character?
- (vii) Why is SO_3 dissolved in H_2SO_4 and not in water?
- (viii) P_2O_5 is a powerful dehydrating agent. Prove by giving two examples.
- (ix) What are Freons and Teflons?
- (x) Why iodine has metallic Luster?
- (xi) Give chemical equation to convert chromate ions into dichromate ions.
- (xii) Define Ligand and Coordination sphere. Also give one example of each.

3. **Attempt any Eight parts.**

$8 \times 2 = 16$

- (i) Define Functional Group. Give two examples.
- (ii) Write down the structural formulas of two possible isomers of C_4H_{10} .
- (iii) Define Unsaturated Hydrocarbons. Give example.
- (iv) Give four uses of Methane.
- (v) How is Benzene prepared from? (i) Phenol (ii) Sodium Benzoate
- (vi) Write the mechanism of nitration of Benzene.
- (vii) Define Tertiary Alkyl Halides. Give example.
- (viii) What is Grignard reagent? How is it prepared?
- (ix) What is Fehling's solution test?
- (x) Write any four uses of formaldehyde.
- (xi) Give the names of the components of Environment.
- (xii) What is Acid Rain? How is it produced?

4. **Attempt any Six parts.**

$6 \times 2 = 12$

- (i) Why does phenol show acidic behaviour?
- (ii) How is diethyl ether prepared by Williamsons Synthesis?
- (iii) How can acetic acid be prepared from following compounds?
 (a) 2 - butene (b) Ethyl alcohol
- (iv) Explain the acidic and basic character of Amino Acids.
- (v) What are compound or conjugated proteins? Give one example.
- (vi) What are Thermoplastic polymers? Give two examples.

24

(2)

- (vii) What is Acid Number? What does it indicate?
 (viii) What are Fertilizers? Why are they required for proper growth of plants?
 (ix) Name four non woody raw materials used in production of paper.

SECTION-II**NOTE: - Attempt any three questions.****8 × 3 = 24**

- 5.(a) Define Hydration Energy. Give an example. How does it change in periodic table? 4
 (b) How Sodium metals is extracted by Down's cell? 4
- 6.(a) How wrought iron is manufactured from cast iron? Explain. 4
 (b) What is Recycling of Waste? Discuss its different methods. 4
- 7.(a) What is Cracking of Petroleum? Also mention three ways of cracking. 4
 (b) Explain Nucleophilic substitution Bimolecular S_N2 mechanism. 4
- 8.(a) Discuss Friedel – Crafts alkylation with mechanism and example. 4
 (b) How Phenol reacts with? 4
 (i) HNO_3 (ii) $NaOH$ (iii) Br_2 (iv) $H_2 / Ni - 150^\circ C$
- 9.(a) Write a note on Chlorination of Methane. 4
 (b) Write a note on Oxidation of Aldehydes and Ketones. 4

SECTION-III (PRACTICAL)**10. Attempt any three parts.**

- (i) Write the material required, equation and procedure for iodoform. 5
- (ii) How carboxylic group is identified and confirmed in an organic compound? 5
- (iii) How will you perform the qualitative analysis of Cl^{-} ion systematically? 5
- (iv) Write the qualitative analysis of Cu^{2+} ion in a systematic manner. 5
- (v) How will you analyze qualitatively Na^{+} ion in a systematic manner? 5

Paper Code

Number: 8481

2018 (S)

Roll No. _____

INTERMEDIATE PART-II (12th CLASS)

CHEMISTRY PAPER-II (OLD SCHEME)

TIME ALLOWED: 20 Minutes

OBJECTIVE

MAXIMUM MARKS: 17

Note: You have four choices for each objective type question as A, B, C and D. The choice which you think is correct, fill that bubble in front of that question number. Use marker or pen to fill the bubbles. Cutting or filling two or more bubbles will result in zero mark in that question. Attempt as many questions as given in objective type question paper and leave others blank. No credit will be awarded in case BUBBLES are not filled. Do not solve questions on this sheet of OBJECTIVE PAPER.

Q.No.1

- (1) Keeping in view size of atoms, _____ is the correct order.
(A) $Mg > Sr$ (B) $Ba > Mg$ (C) $Lu > Ce$ (D) $Cl > I$
- (2) Chile saltpetre has the chemical formula:-
(A) $NaNO_3$ (B) KNO_2 (C) $Na_2B_4O_7$ (D) $Na_2CO_3 \cdot H_2O$
- (3) Tinical is a mineral of:-
(A) Al (B) B (C) Si (D) C
- (4) Laughing gas is chemically:-
(A) NO (B) N_2O (C) NO_2 (D) N_2O_4
- (5) _____ is the strongest acid.
(A) $HClO$ (B) $HClO_2$ (C) $HClO_3$ (D) $HClO_4$
- (6) Of the following, _____ is a non-typical transition element.
(A) Cr (B) Mn (C) Zn (D) Fe
- (7) Which set of hybrid orbitals has planer triangular shape?
(A) sp^3 (B) sp (C) sp^2 (D) dsp^2
- (8) Formula of chloroform is:-
(A) CH_3Cl (B) CCL_4 (C) CH_2Cl_2 (D) $CHCl_3$
- (9) Benzene can not undergo:-
(A) Substitution reactions (B) Addition reactions (C) Oxidation reactions (D) Elimination reactions
- (10) When CO_2 is made to react with ethyl Magnesium Iodide, followed by acid hydrolysis, the product formed is:-
(A) Propane (B) Propanoic acid (C) Propanal (D) Propanol
- (11) Ethanol can be converted into ethanoic acid by:-
(A) Hydrogenation (B) Hydration (C) Oxidation (D) Fermentation
- (12) Cannizzaro's reaction is not given by:-
(A) Formaldehyde (B) Acetaldehyde (C) Benzaldehyde (D) Trimethylacetaldehyde
- (13) Acetic acid is manufactured by:-
(A) Distillation (B) Fermentation (C) Ozonolysis (D) Esterification
- (14) Of the following, _____ is not a fatty acid.
(A) Propanoic acid (B) Acetic acid (C) Phthalic acid (D) Butanoic acid
- (15) The reaction between fat and $NaOH$ is called:-
(A) Esterification (B) Hydrogenolysis (C) Fermentation (D) Saponification
- (16) The three elements needed for healthy growth of plants are:-
(A) N, S, P (B) N, Ca, P (C) N, P, K (D) N, K, C
- (17) The main pollutant of leather industry in waste water is due to salts of:-
(A) Lead (B) Chromium VI (C) Copper (D) Chromium III

Paper Code

Number: 8483

2018 (S)

Roll No. _____

INTERMEDIATE PART-II (12th CLASS)

CHEMISTRY PAPER-II (OLD SCHEME)

TIME ALLOWED: 20 Minutes

OBJECTIVE

MAXIMUM MARKS: 17

Note: You have four choices for each objective type question as A, B, C and D. The choice which you think is correct, fill that bubble in front of that question number. Use marker or pen to fill the bubbles. Cutting or filling two or more bubbles will result in zero mark in that question. Attempt as many questions as given in objective type question paper and leave others blank. No credit will be awarded in case BUBBLES are not filled. Do not solve questions on this sheet of OBJECTIVE PAPER.

Q.No.1

- (1) The reaction between fat and $NaOH$ is called:-
 (A) Esterification (B) Hydrogenolysis (C) Fermentation (D) Saponification
- (2) The three elements needed for healthy growth of plants are:-
 (A) N, S, P (B) N, Ca, P (C) N, P, K (D) N, K, C
- (3) The main pollutant of leather industry in waste water is due to salts of:-
 (A) Lead (B) Chromium VI (C) Copper (D) Chromium III
- (4) Keeping in view size of atoms, _____ is the correct order.
 (A) $Mg > Sr$ (B) $Ba > Mg$ (C) $Lu > Ce$ (D) $Cl > I$
- (5) Chile saltpetre has the chemical formula:-
 (A) $NaNO_3$ (B) KNO_2 (C) $Na_2B_4O_7$ (D) $Na_2CO_3 \cdot H_2O$
- (6) Tinical is a mineral of:-
 (A) Al (B) B (C) Si (D) C
- (7) Laughing gas is chemically:-
 (A) NO (B) N_2O (C) NO_2 (D) N_2O_4
- (8) _____ is the strongest acid.
 (A) $HClO$ (B) $HClO_2$ (C) $HClO_3$ (D) $HClO_4$
- (9) Of the following, _____ is a non-typical transition element.
 (A) Cr (B) Mn (C) Zn (D) Fe
- (10) Which set of hybrid orbitals has planer triangular shape?
 (A) sp^3 (B) sp (C) sp^2 (D) dsp^2
- (11) Formula of chloroform is:-
 (A) CH_3Cl (B) CCl_4 (C) CH_2Cl_2 (D) $CHCl_3$
- (12) Benzene can not undergo:-
 (A) Substitution reactions (B) Addition reactions (C) Oxidation reactions (D) Elimination reactions
- (13) When CO_2 is made to react with ethyl Magnesium Iodide, followed by acid hydrolysis, the product formed is:-
 (A) Propane (B) Propanoic acid (C) Propanal (D) Propanol
- (14) Ethanol can be converted into ethanoic acid by:-
 (A) Hydrogenation (B) Hydration (C) Oxidation (D) Fermentation
- (15) Cannizzaro's reaction is not given by:-
 (A) Formaldehyde (B) Acetaldehyde (C) Benzaldehyde (D) Trimethylacetaldehyde
- (16) Acetic acid is manufactured by:-
 (A) Distillation (B) Fermentation (C) Ozonolysis (D) Esterification
- (17) Of the following _____ is not a fatty acid.
 (A) Propanoic acid (B) Acetic acid (C) Phthalic acid (D) Butanoic acid

Paper Code

Number:

8485

2018 (S)

Roll No. _____

INTERMEDIATE PART-II (12th CLASS)

CHEMISTRY PAPER-II (OLD SCHEME)

TIME ALLOWED: 20 Minutes

OBJECTIVE

MAXIMUM MARKS: 17

Note: You have four choices for each objective type question as A, B, C and D. The choice which you think is correct, fill that bubble in front of that question number. Use marker or pen to fill the bubbles. Cutting or filling two or more bubbles will result in zero mark in that question. Attempt as many questions as given in objective type question paper and leave others blank. No credit will be awarded in case BUBBLES are not filled. Do not solve questions on this sheet of OBJECTIVE PAPER.

Q.No.1

- (1) Which set of hybrid orbitals has planer triangular shape?
 (A) sp^3 (B) sp (C) sp^2 (D) dsp^2
- (2) Formula of chloroform is:-
 (A) CH_3Cl (B) CCL_4 (C) CH_2Cl_2 (D) $CHCl_3$
- (3) Benzene can not undergo:-
 (A) Substitution reactions (B) Addition reactions (C) Oxidation reactions (D) Elimination reactions
- (4) When CO_2 is made to react with ethyl Magnesium Iodide, followed by acid hydrolysis, the product formed is:-
 (A) Propane (B) Propanoic acid (C) Propanal (D) Propanol
- (5) Ethanol can be converted into ethanoic acid by:-
 (A) Hydrogenation (B) Hydration (C) Oxidation (D) Fermentation
- (6) Cannizzaro's reaction is not given by:-
 (A) Formaldehyde (B) Acetaldehyde (C) Benzaldehyde (D) Trimethylacetaldehyde
- (7) Acetic acid is manufactured by:-
 (A) Distillation (B) Fermentation (C) Ozonolysis (D) Esterification
- (8) Of the following _____ is not a fatty acid.
 (A) Propanoic acid (B) Acetic acid (C) Phthalic acid (D) Butanoic acid
- (9) The reaction between fat and $NaOH$ is called:-
 (A) Esterification (B) Hydrogenolysis (C) Fermentation (D) Saponification
- (10) The three elements needed for healthy growth of plants are:-
 (A) N, S, P (B) N, Ca, P (C) N, P, K (D) N, K, C
- (11) The main pollutant of leather industry in waste water is due to salts of:-
 (A) Lead (B) Chromium VI (C) Copper (D) Chromium III
- (12) Keeping in view size of atoms, _____ is the correct order.
 (A) $Mg > Sr$ (B) $Ba > Mg$ (C) $Lu > Ce$ (D) $Cl > I$
- (13) Chile saltpetre has the chemical formula:-
 (A) $NaNO_3$ (B) KNO_2 (C) $Na_2B_4O_7$ (D) $Na_2CO_3 \cdot H_2O$
- (14) Tinical is a mineral of:-
 (A) Al (B) B (C) Si (D) C
- (15) Laughing gas is chemically:-
 (A) NO (B) N_2O (C) NO_2 (D) N_2O_4
- (16) _____ is the strongest acid.
 (A) $HClO$ (B) $HClO_2$ (C) $HClO_3$ (D) $HClO_4$
- (17) Of the following, _____ is a non-typical transition element.
 (A) Cr (B) Mn (C) Zn (D) Fe

Paper Code

Number:

8487

2018 (S)

Roll No. _____

INTERMEDIATE PART-II (12th CLASS)

CHEMISTRY PAPER-II (OLD SCHEME)

TIME ALLOWED: 20 Minutes

OBJECTIVE

MAXIMUM MARKS: 17

Note: You have four choices for each objective type question as A, B, C and D. The choice which you think is correct, fill that bubble in front of that question number. Use marker or pen to fill the bubbles. Cutting or filling two or more bubbles will result in zero mark in that question. Attempt as many questions as given in objective type question paper and leave others blank. No credit will be awarded in case BUBBLES are not filled. Do not solve questions on this sheet of OBJECTIVE PAPER.

Q.No.1

- (1) _____ is the strongest acid.
 (A) $HClO$ (B) $HClO_2$ (C) $HClO_3$ (D) $HClO_4$
- (2) Of the following, _____ is a non-typical transition element.
 (A) Cr (B) Mn (C) Zn (D) Fe
- (3) Which set of hybrid orbitals has planer triangular shape?
 (A) sp^3 (B) sp (C) sp^2 (D) dsp^2
- (4) Formula of chloroform is:-
 (A) CH_3Cl (B) CCl_4 (C) CH_2Cl_2 (D) $CHCl_3$
- (5) Benzene can not undergo:-
 (A) Substitution reactions (B) Addition reactions (C) Oxidation reactions (D) Elimination reactions
- (6) When CO_2 is made to react with ethyl Magnesium Iodide, followed by acid hydrolysis, the product formed is:-
 (A) Propane (B) Propanoic acid (C) Propanal (D) Propanol
- (7) Ethanol can be converted into ethanoic acid by:-
 (A) Hydrogenation (B) Hydration (C) Oxidation (D) Fermentation
- (8) Cannizzaro's reaction is not given by:-
 (A) Formaldehyde (B) Acetaldehyde (C) Benzaldehyde (D) Trimethylacetaldehyde
- (9) Acetic acid is manufactured by:-
 (A) Distillation (B) Fermentation (C) Ozonolysis (D) Esterification
- (10) Of the following _____ is not a fatty acid.
 (A) Propanoic acid (B) Acetic acid (C) Phthalic acid (D) Butanoic acid
- (11) The reaction between fat and $NaOH$ is called:-
 (A) Esterification (B) Hydrogenolysis (C) Fermentation (D) Saponification
- (12) The three elements needed for healthy growth of plants are:-
 (A) N, S, P (B) N, Ca, P (C) N, P, K (D) N, K, C
- (13) The main pollutant of leather industry in waste water is due to salts of:-
 (A) Lead (B) Chromium VI (C) Copper (D) Chromium III
- (14) Keeping in view size of atoms, _____ is the correct order.
 (A) $Mg > Sr$ (B) $Ba > Mg$ (C) $Lu > Ce$ (D) $Cl > I$
- (15) Chile saltpetre has the chemical formula:-
 (A) $NaNO_3$ (B) KNO_2 (C) $Na_2B_4O_7$ (D) $Na_2CO_3 \cdot H_2O$
- (16) Tinical is a mineral of:-
 (A) Al (B) B (C) Si (D) C
- (17) Laughing gas is chemically:-
 (A) NO (B) N_2O (C) NO_2 (D) N_2O_4

BOARD OF INTERMEDIATE AND SECONDARY EDUCATION, MULTAN
OBJECTIVE KEY FOR INTERMEDIATE ANNUAL/SUPPLY EXAMINATION, 2018

Name of Subject: Chemistry Part II
 Group: 1st old scheme.

Session: Chemistry Part - II
 Group: 2nd New scheme

Q. Nos	Paper Code 8481	Paper Code 8483	Paper Code 8485	Paper Code 8487
1	B	D	C	D
2	A	C	D	C
3	B	B	D	C
4	B	B	B	D
5	D	A	C	D
6	C	B	B	B
7	C	B	B	C
8	D	D	C	B
9	D	C	D	B
10	B	C	C	C
11	C	D	B	D
12	B	D	B	C
13	B	B	A	B
14	C	C	B	B
15	D	B	B	A
16	C	B	D	B
17	B	C	C	B
18				
19				
20				

Q. Nos	Paper Code 4481	Paper Code 4483	Paper Code 4485	Paper Code 4487
1	D	D	D	B
2	D	D	D	D
3	B	C	B	B
4	A	A	D	D
5	B	D	B	D
6	D	D	D	D
7	D	D	D	B
8	D	B	D	A
9	C	D	B	B
10	A	B	A	D
11	D	D	B	D
12	D	D	D	D
13	D	D	D	C
14	B	B	D	A
15	D	A	C	D
16	B	B	A	D
17	D	D	D	D
18				
19				
20				

ہم نے مضمون کیمیائی پرچہ II پرچہ II گروپ Old + New سیکیم انٹرمیڈیٹ مضنی امتحان 2018 کا سوالیہ پرچہ انشائیہ و معروضی (Subjective & Objective) کو بنظر عین چیک کر لیا ہے یہ پرچہ Syllabus کے عین مطابق Set کیا گیا ہے۔ اس سوالیہ پرچہ میں کسی قسم کی کوئی غلطی نہ ہے۔ ہم نے سوالیہ پرچہ کا اردو اور انگریزی Version بھی چیک کر لیا ہے۔ یہ Version آپس میں مطابقت رکھتے ہیں۔ نیز اس پرچہ کی معروضی (MCQs) کی بابت تصدیق کی جاتی ہے کہ اس میں بھی کسی قسم کی کوئی غلطی نہ ہے۔ مزید یہ کہ ہم نے Key بنانے سے متعلق دفتر کی جانب سے تیار کردہ ہدایات وصول کر کے ان کا بغور مطالعہ کر لیا ہے اور ان کی روشنی میں Key بنائی ہے۔ نیز سب ایگزامینرز کیلئے تفصیلی مارکنگ ہدایات / مارکنگ سکیم / Rubrics بھی تیار کر دی گئی ہیں۔

Prepared & Checked By:

Dated: _____

S.#	Name	Designation	Institution	Mobile No	Signature
1	Mian M. Nawaz.	Professor	GEC. Multan.	0300 6382621	
2	Dr. M. Ramzan	Assist. Prof	GEC. Multan	0334 6027542	
3	Muhammad Nazam Arshad	Associate Prof	G.E.C Multan	0334-6030916	

Re-Checked By: ہم نے درج بالا سوالیہ پرچہ (انشائیہ + معروضی) معروضی "Key" اور ہدایات کے حوالہ سے عمل طور پر چکی کر لی ہے۔ کسی قسم کی کوئی غلطی نہ ہے۔

S.#	Name	Designation	Institution	Mobile No	Signature
1	M. Tariq Shehzad	Assist. Prof	G. E. C Multan	0334 6070919	
2					
3					

(25)

2018 (S)

Roll No: _____

INTERMEDIATE PART-II (12th CLASS)**CHEMISTRY PAPER-II (NEW SCHEME)**

TIME ALLOWED: 2.40 Hours

SUBJECTIVE

MAXIMUM MARKS: 68

NOTE: - Write same question number and its part number on answer book, as given in the question paper.

SECTION-I2. **Attempt any eight parts.**

8 × 2 = 16

- (i) The oxidation states vary in a period but remain almost constant in a group. Give reason.
- (ii) What is Lanthanide contraction?
- (iii) Why is the aqueous solution of Na_2CO_3 is alkaline in nature?
- (iv) How is Borax Bead test performed?
- (v) What is Chemical Garden?
- (vi) Write any four uses of Borax.
- (vii) How does HNO_2 act as reducing agent? Show with two examples.
- (viii) What is effect of heat on orthophosphoric acid?
- (ix) Write any four similarities between Oxygen and Sulphur.
- (x) How Leather tanneries pollute water?
- (xi) What are Leachates?
- (xii) What is functional group? Write two examples of Oxygen containing functional groups.

3. **Attempt any eight parts.**

8 × 2 = 16

- (i) Define the followings:- (a) Ligand (b) Interstitial compounds
- (ii) What are non-typical transition elements?
- (iii) What is Raney Nickel? Give its important application.
- (iv) Prepare each of the following compounds from Ethyne:- (a) Acetaldehyde (b) Oxalic acid
- (v) How will you prepare each of the following compounds from benzene in two steps?
(a) 2, 4, 6 - Trinitrotoluene (b) Meta chloronitrobenzene
- (vi) Prepare Grignard reagent. Why dry ether is used as solvent for preparation of Grignard Reagent?
- (vii) Give names of following compounds by I.U.P.A.C.system:-
(a) $CH_3 - O - CH_2 - CH_3$ (b) $CH_3 - O - C_6H_5$
- (viii) Why Absolute alcohol can not be prepared by fermentation process?
- (ix) Give the mechanism of addition of HCN to an acetaldehyde.
- (x) What are naturally occurring sources of Aldehydes and Ketones?
- (xi) How the Acidic and Basic characteristics of Amino Acids are represented by chemical equations?
- (xii) Why the Carboxylic acids have high Boiling points than corresponding alcohols?

4. **Attempt any six parts.**

6 × 2 = 12

- (i) Define Homopolymer with an example.
- (ii) Define Saponification. Give its chemical reaction.
- (iii) Write down the role of DNA and RNA in life.
- (iv) What are fertilizers? Why are they needed?
- (v) Discuss reactions taking place for setting of cement in first twenty four hours.
- (vi) What are essential non-woody raw materials used in the production of pulp?
- (vii) Write balanced chemical reactions of KOH with (a) Sodium Bromide (b) Sodium Chloride
- (viii) How does oxidation state of Halogen affect the acidic strength of Oxyacids of Halogen? Give two reasons.
- (ix) Which one of these acids is more stronger and why? (a) $HClO_3$ (b) $HBrO_3$

SECTION-II

NOTE: - Attempt any three questions.

8 × 3 = 24

- 5.(a) Give differences of hydrogen with group I A and VII A elements. 4
- (b) Describe with diagram the manufacture of Sodium by Down's cell. 4
- 6.(a) Describe the open hearth process for the manufacture of steel. 4
- (b) How is water polluted by oil spillages and detergents? 4
- 7.(a) Write a short note on Cracking of Petroleum. 4
- (b) Write mechanism of Nitration and Sulphonation of Benzene 4
- 8.(a) Write note on Acidic Character of Acetylene. 4
- (b) Write two methods of preparation of di - ethyl ether also give its reaction with PCl_5 . 4
- 9.(a) How are alkyl halides classified? Write any two methods of preparing alkyl halides from alcohols. 4
- (b) How does acetone react with:- (i) NH_2OH (ii) $I_2/NaOH$ (iii) $NaHSO_3$ (iv) HCN 4

Paper Code

2018 (S)

Roll No. _____

Number:

4481

INTERMEDIATE PART-II (12th CLASS)

CHEMISTRY PAPER-II (NEW SCHEME)

TIME ALLOWED: 20 Minutes

OBJECTIVE

MAXIMUM MARKS: 17

Note: You have four choices for each objective type question as A, B, C and D. The choice which you think is correct, fill that bubble in front of that question number. Use marker or pen to fill the bubbles. Cutting or filling two or more bubbles will result in zero mark in that question. Attempt as many questions as given in objective type question paper and leave others blank. No credit will be awarded in case BUBBLES are not filled. Do not solve questions on this sheet of OBJECTIVE PAPER.

Q.No.1

- (1) The basis of Modern Periodic Law is:-
(A) Atomic mass (B) Electron affinity (C) Ionization potential (D) Atomic number
- (2) Among the following, _____ Sulphates is not soluble in water.
(A) Sodium Sulphate (B) Zinc Sulphate (C) Iron Sulphate (D) Barium Sulphate
- (3) The chief ore of Aluminium is:-
(A) Na_3AlF_6 (B) $Al_2O_3 \cdot 2H_2O$ (C) Al_2O_3 (D) $Al_2O_3 \cdot H_2O$
- (4) Among the following, _____ hydrogen halide is the weakest acid in the aqueous solution.
(A) HF (B) HBr (C) HI (D) HCl
- (5) In group V - A elements, the most electronegative element is:-
(A) Sb (B) N (C) P (D) As
- (6) f - Block elements are also called:-
(A) Non typical transition elements
(B) Normal transition elements (C) Outer transition elements (D) Inner transition elements
- (7) Pentane has number of isomers:-
(A) 6 (B) 4 (C) 5 (D) 3
- (8) Formula of Chloroform is:-
(A) CH_3Cl (B) CCl_4 (C) CH_2Cl_2 (D) $CHCl_3$
- (9) The electrophile in aromatic sulphonation is:-
(A) H_2SO_4 (B) HSO_4^- (C) SO_3 (D) SO_3^+
- (10) S_N2 reactions can be best carried out with:-
(A) Primary alkyl halides (B) Secondary alkyl halides (C) Tertiary alkyl halides (D) All of these
- (11) Rectified spirit contains alcohol about:-
(A) 80 % (B) 85 % (C) 90 % (D) 95 %
- (12) Among the following, _____ have the highest boiling point.
(A) Methanal (B) Ethanal (C) Propanal (D) 2 - hexanone
- (13) Among the following, _____ reagent is used to reduce a carboxylic group to an alcohol.
(A) N_2/Ni (B) H_2/Pt (C) $NaBH_4$ (D) $LiAlH_4$
- (14) A single chloride free radical can destroy how many ozone molecules?
(A) 100 (B) 100000 (C) 10000 (D) 10
- (15) _____ element is not present in all proteins.
(A) Carbon (B) Hydrogen (C) Nitrogen (D) Sulphur
- (16) _____ is not a calcareous material.
(A) Lime (B) Clay (C) Marble (D) Marine shell
- (17) Ecosystem is a smaller unit of:-
(A) Lithosphere (B) Hydrosphere (C) Atmosphere (D) Biosphere

Paper Code

2018 (S)

Roll No. _____

Number:

4483

INTERMEDIATE PART-II (12th CLASS)

CHEMISTRY PAPER-II (NEW SCHEME)

TIME ALLOWED: 20 Minutes

OBJECTIVE

MAXIMUM MARKS: 17

Note: You have four choices for each objective type question as A, B, C and D. The choice which you think is correct, fill that bubble in front of that question number. Use marker or pen to fill the bubbles. Cutting or filling two or more bubbles will result in zero mark in that question. Attempt as many questions as given in objective type question paper and leave others blank. No credit will be awarded in case BUBBLES are not filled. Do not solve questions on this sheet of OBJECTIVE PAPER.

Q.No.1

- (1) Pentane has number of isomers:-
(A) 6 (B) 4 (C) 5 (D) 3
- (2) Formula of Chloroform is:-
(A) CH_3Cl (B) CCl_4 (C) CH_2Cl_2 (D) $CHCl_3$
- (3) The electrophile in aromatic sulphonation is:-
(A) H_2SO_4 (B) HSO_4^- (C) SO_3 (D) SO_3^+
- (4) S_N2 reactions can be best carried out with:-
(A) Primary alkyl halides (B) Secondary alkyl halides (C) Tertiary alkyl halides (D) All of these
- (5) Rectified spirit contains alcohol about:-
(A) 80 % (B) 85 % (C) 90 % (D) 95 %
- (6) Among the following, _____ have the highest boiling point.
(A) Methanal (B) Ethanal (C) Propanal (D) 2-hexanone
- (7) Among the following, _____ reagent is used to reduce a carboxylic group to an alcohol.
(A) N_2/Ni (B) H_2/Pt (C) $NaBH_4$ (D) $LiAlH_4$
- (8) A single chloride free radical can destroy how many ozone molecules?
(A) 100 (B) 100000 (C) 10000 (D) 10
- (9) _____ element is not present in all proteins.
(A) Carbon (B) Hydrogen (C) Nitrogen (D) Sulphur
- (10) _____ is not a calcareous material.
(A) Lime (B) Clay (C) Marble (D) Marine shell
- (11) Ecosystem is a smaller unit of:-
(A) Lithosphere (B) Hydrosphere (C) Atmosphere (D) Biosphere
- (12) The basis of Modern Periodic Law is:-
(A) Atomic mass (B) Electron affinity (C) Ionization potential (D) Atomic number
- (13) Among the following, _____ Sulphates is not soluble in water.
(A) Sodium Sulphate (B) Zinc Sulphate (C) Iron Sulphate (D) Barium Sulphate
- (14) The chief ore of Aluminium is:-
(A) Na_3AlF_6 (B) $Al_2O_3 \cdot 2H_2O$ (C) Al_2O_3 (D) $Al_2O_3 \cdot H_2O$
- (15) Among the following, _____ hydrogen halide is the weakest acid in the aqueous solution.
(A) HF (B) HBr (C) HI (D) HCl
- (16) In group V - A elements, the most electronegative element is:-
(A) Sb (B) N (C) P (D) As
- (17) f-Block elements are also called:-
(A) Non typical transition elements
(B) Normal transition elements (C) Outer transition elements (D) Inner transition elements

Paper Code

2018 (S)

Roll No. _____

Number:

4485

INTERMEDIATE PART-II (12th CLASS)

CHEMISTRY PAPER-II (NEW SCHEME)

TIME ALLOWED: 20 Minutes

OBJECTIVE

MAXIMUM MARKS: 17

Note: You have four choices for each objective type question as A, B, C and D. The choice which you think is correct, fill that bubble in front of that question number. Use marker or pen to fill the bubbles. Cutting or filling two or more bubbles will result in zero mark in that question. Attempt as many questions as given in objective type question paper and leave others blank. No credit will be awarded in case BUBBLES are not filled. Do not solve questions on this sheet of OBJECTIVE PAPER.

Q.No.1

- (1) Among the following, _____ have the highest boiling point.
 (A) Methanal (B) Ethanal (C) Propanal (D) 2-hexanone
- (2) Among the following, _____ reagent is used to reduce a carboxylic group to an alcohol.
 (A) N_2/Ni (B) H_2/Pt (C) $NaBH_4$ (D) $LiAlH_4$
- (3) A single chloride free radical can destroy how many ozone molecules?
 (A) 100 (B) 100000 (C) 10000 (D) 10
- (4) _____ element is not present in all proteins.
 (A) Carbon (B) Hydrogen (C) Nitrogen (D) Sulphur
- (5) _____ is not a calcareous material.
 (A) Lime (B) Clay (C) Marble (D) Marine shell
- (6) Ecosystem is a smaller unit of:-
 (A) Lithosphere (B) Hydrosphere (C) Atmosphere (D) Biosphere
- (7) The basis of Modern Periodic Law is:-
 (A) Atomic mass (B) Electron affinity (C) Ionization potential (D) Atomic number
- (8) Among the following, _____ Sulphates is not soluble in water.
 (A) Sodium Sulphate (B) Zinc Sulphate (C) Iron Sulphate (D) Barium Sulphate
- (9) The chief ore of Aluminium is:-
 (A) Na_3AlF_6 (B) $Al_2O_3 \cdot 2H_2O$ (C) Al_2O_3 (D) $Al_2O_3 \cdot H_2O$
- (10) Among the following, _____ hydrogen halide is the weakest acid in the aqueous solution.
 (A) HF (B) HBr (C) HI (D) HCl
- (11) In group V - A elements, the most electronegative element is:-
 (A) Sb (B) N (C) P (D) As
- (12) f - Block elements are also called:-
 (A) Non typical transition elements
 (B) Normal transition elements (C) Outer transition elements (D) Inner transition elements
- (13) Pentane has number of isomers:-
 (A) 6 (B) 4 (C) 5 (D) 3
- (14) Formula of Chloroform is:-
 (A) CH_3Cl (B) CCl_4 (C) CH_2Cl_2 (D) $CHCl_3$
- (15) The electrophile in aromatic sulphonation is:-
 (A) H_2SO_4 (B) HSO_4^- (C) SO_3 (D) SO_3^+
- (16) S_N2 reactions can be best carried out with:-
 (A) Primary alkyl halides (B) Secondary alkyl halides (C) Tertiary alkyl halides (D) All of these
- (17) Rectified spirit contains alcohol about:-
 (A) 80 % (B) 85 % (C) 90 % (D) 95 %

Paper Code

2018 (S)

Roll No. _____

Number:

4487

INTERMEDIATE PART-II (12th CLASS)

CHEMISTRY PAPER-II (NEW SCHEME)

TIME ALLOWED: 20 Minutes

OBJECTIVE

MAXIMUM MARKS: 17

Note: You have four choices for each objective type question as A, B, C and D. The choice which you think is correct, fill that bubble in front of that question number. Use marker or pen to fill the bubbles. Cutting or filling two or more bubbles will result in zero mark in that question. Attempt as many questions as given in objective type question paper and leave others blank. No credit will be awarded in case BUBBLES are not filled. Do not solve questions on this sheet of OBJECTIVE PAPER.

Q.No.1

- (1) A single chloride free radical can destroy how many ozone molecules?
 (A) 100 (B) 100000 (C) 10000 (D) 10
- (2) _____ element is not present in all proteins.
 (A) Carbon (B) Hydrogen (C) Nitrogen (D) Sulphur
- (3) _____ is not a calcareous material.
 (A) Lime (B) Clay (C) Marble (D) Marine shell
- (4) Ecosystem is a smaller unit of:-
 (A) Lithosphere (B) Hydrosphere (C) Atmosphere (D) Biosphere
- (5) The basis of Modern Periodic Law is:-
 (A) Atomic mass (B) Electron affinity (C) Ionization potential (D) Atomic number
- (6) Among the following, _____ Sulphates is not soluble in water.
 (A) Sodium Sulphate (B) Zinc Sulphate (C) Iron Sulphate (D) Barium Sulphate
- (7) The chief ore of Aluminium is:-
 (A) Na_3AlF_6 (B) $Al_2O_3 \cdot 2H_2O$ (C) Al_2O_3 (D) $Al_2O_3 \cdot H_2O$
- (8) Among the following, _____ hydrogen halide is the weakest acid in the aqueous solution.
 (A) HF (B) HBr (C) HI (D) HCl
- (9) In group V - A elements, the most electronegative element is:-
 (A) Sb (B) N (C) P (D) As
- (10) f - Block elements are also called:-
 (A) Non typical transition elements
 (B) Normal transition elements (C) Outer transition elements (D) Inner transition elements
- (11) Pentane has number of isomers:-
 (A) 6 (B) 4 (C) 5 (D) 3
- (12) Formula of Chloroform is:-
 (A) CH_3Cl (B) CCl_4 (C) CH_2Cl_2 (D) $CHCl_3$
- (13) The electrophile in aromatic sulphonation is:-
 (A) H_2SO_4 (B) HSO_4^- (C) SO_3 (D) SO_3^+
- (14) S_N2 reactions can be best carried out with:-
 (A) Primary alkyl halides (B) Secondary alkyl halides (C) Tertiary alkyl halides (D) All of these
- (15) Rectified spirit contains alcohol about:-
 (A) 80 % (B) 85 % (C) 90 % (D) 95 %
- (16) Among the following, _____ have the highest boiling point.
 (A) Methanal (B) Ethanal (C) Propanal (D) 2 - hexanone
- (17) Among the following, _____ reagent is used to reduce a carboxylic group to an alcohol.
 (A) N_2/Ni (B) H_2/Pt (C) $NaBH_4$ (D) $LiAlH_4$

www.arifrao.com
BOARD OF INTERMEDIATE AND SECONDARY EDUCATION, MULTAN
OBJECTIVE KEY FOR INTERMEDIATE ANNUAL/SUPPLY EXAMINATION, 2018

Name of Subject: Civics Part. II Session: 2016-18

Q.Nos	Paper Code 4171	Paper Code 4173	Paper Code 4175	Paper Code 4177
1	C	D	C	A
2	D	A	C	C
3	C	B	C	B
4	B	A	D	D
5	A	D	D	A
6	C	C	D	A
7	B	D	A	C
8	D	C	B	C
9	A	B	A	C
10	A	A	D	D
11	C	C	C	D
12	C	B	D	D
13	C	D	C	A
14	D	A	B	B
15	D	A	A	A
16	D	C	C	D
17	A	C	B	C
18	B	C	D	D
19	A	D	A	C
20	D	D	A	B

سرٹیفکیٹ بابت صحیح سوالیہ پرچہ / مارکنگ Key

ہم نے مضمون مسوکس پرچہ II گروپ IML اسکیم انٹرسالہذا ضمنی امتحان 2018 کا سوالیہ پرچہ انشائیہ و معروضی (Subjective & Objective) کو بنظر عین چیک کر لیا ہے یہ پرچہ Syllabus کے عین مطابق Set کیا گیا ہے۔ اس سوالیہ پرچہ میں کسی قسم کی کوئی غلطی نہ ہے۔ ہم نے سوالیہ پرچہ کا اردو اور انگریزی Version بھی چیک کر لیا ہے۔ یہ Version آپس میں مطابقت رکھتے ہیں۔ نیز اس پرچہ کی معروضی (MCQs) Key کی بابت تصدیق کی جاتی ہے کہ اس میں بھی کسی قسم کی کوئی غلطی نہ ہے۔ مزید یہ کہ ہم نے Key بنانے سے متعلق دفتر کی جانب سے تیار کردہ ہدایات وصول کر کے ان کا بغور مطالعہ کر لیا ہے اور ان کی روشنی میں Key بنائی ہے۔ نیز سب ایگزامینرز کیلئے تفصیلی مارکنگ ہدایات / مارکنگ اسکیم Rubrics بھی تیار کر دی گئی ہیں۔

Prepared & Checked By:

Dated: 31-10-2018

S.#	Name	Designation	Institution	Mobile No	Signature
1	Abdul Latif Afza	A.P	Govt. Millat college Multan	0300-9632422	
2	Dr. M. Khalid	A.P	Govt Millat college Multan	0300-7183520	
3	M. Shakeel Siddiqi	A.P	Govt. Emerald college Multan	0300632381	

26

2018 (S)

رول نمبر

انٹرمیڈیٹ امتحان پارٹ - II (کلاس بارہویں)

CIVICS PAPER-II

SUBJECTIVE حصہ انشائیہ

سوکس پرچہ - دوسرا

TIME ALLOWED: 2.30 Hours

وقت = 2.30 گھنٹے

MAXIMUM MARKS: 80

کل نمبر = 80

نوٹ - جوابی کاپی پر وہی سوال نمبر اور جزو نمبر درج کیجیے جو کہ سوالیہ پرچے میں درج ہے۔
and its part number on answer book, as given in the question paper.

SECTION-I حصہ اول

2. Attempt any eight parts.

16 = 2 x 8

سوال نمبر 2 - کوئی سے آٹھ اجزاء کے جوابات تحریر کیجیے۔

- | | |
|---|--|
| (i) Write two objectives of Khalafit Movement. | (i) تحریک خلافت کے دو مقاصد لکھیں۔ |
| (ii) When did All India Muslim League come into being? | (ii) آل انڈیا مسلم لیگ کب قائم ہوئی؟ |
| (iii) Who did lead the Simla Deputation? | (iii) شملہ وفد کا سربراہ کون تھا؟ |
| (iv) When did Sir Syed Ahmad Khan establish Aligarh School? | (iv) سر سید احمد خان نے علی گڑھ میں سکول کب قائم کیا؟ |
| (v) When did Indian National Congress establish? | (v) انڈین نیشنل کانگریس کب بنی؟ |
| (vi) What is meant by "Alberts Bill"? | (vi) "البرٹ بل" سے کیا مراد ہے؟ |
| (vii) Write the names of two books of Sir Syed Ahmad Khan. | (vii) سر سید احمد خان کی تصنیفات میں سے دو کے نام لکھیں۔ |
| (viii) Define two Nations Theory. | (viii) دو قومی نظریہ کی تعریف لکھیں۔ |
| (ix) Write down two important points of Muhammad Ali Bogra formula. | (ix) محمد علی بوگرہ فارمولا کے دو اہم نکات لکھیں۔ |
| (x) What is meant by Quorum? | (x) کورم سے کیا مراد ہے؟ |
| (xi) What is meant by "Chaura Chauri" incident? | (xi) سانحہ "چورا چوری" سے کیا مراد ہے؟ |
| (xii) What is meant by Ideology? | (xii) آئیڈیالوجی سے کیا مراد ہے؟ |

3. Attempt any eight parts.

16 = 2 x 8

سوال نمبر 3 - کوئی سے آٹھ اجزاء کے جوابات تحریر کیجیے۔

- | | |
|--|---|
| (i) What is the composition of Supreme Court? | (i) سپریم کورٹ کی تشکیل کیسے ہوتی ہے؟ |
| (ii) Write down two features of 1962 Constitution. | (ii) 1962ء کے آئین کی دو خصوصیات بیان کریں۔ |
| (iii) Write down two powers of Supreme Court of Pakistan. | (iii) پاکستان کی سپریم کورٹ کے دو اختیارات بیان کریں۔ |
| (iv) What is meant by Provincial Autonomy? | (iv) صوبائی خود مختاری سے کیا مراد ہے؟ |
| (v) Write down two powers of Parliament of Pakistan. | (v) پاکستان کی پارلیمنٹ کے دو اختیارات لکھیں۔ |
| (vi) What is meant by Referendum? | (vi) استصواب رائے سے کیا مراد ہے؟ |
| (vii) Who can dissolve the National Assembly? | (vii) قومی اسمبلی کو کون برخاست کر سکتا ہے؟ |
| (viii) Write down two functions of Speaker of Pakistan. | (viii) پاکستان کے سپیکر کے دو فرائض بیان کریں۔ |
| (ix) Write down two powers of President of Pakistan. | (ix) پاکستان کے صدر کے دو اختیارات بیان کریں۔ |
| (x) Describe two conditions for voter under 1973 Constitution. | (x) 1973ء کے آئین کے تحت ووٹر کی دو شرائط بیان کریں۔ |
| (xi) Who did dismiss the first Constituent Assembly and when? | (xi) کس نے پہلی دستور ساز اسمبلی کو تحلیل کیا اور کب؟ |
| (xii) What is meant by vote of no confidence? | (xii) عدم اعتماد سے کیا مراد ہے؟ |

(2)

4. Attempt any nine parts.

18 = 2 x 9

- (i) What is meant by Secondary and Higher Secondary Education?
- (ii) What is the importance of Computer Education?
- (iii) What is meant by Unbalanced diet?
- (iv) What is meant by Formal Education?
- (v) What is meant by Social Order?
- (vi) What is meant by Protocol?
- (vii) What is meant by Feudal System?
- (viii) Write down two merits of National integration.
- (ix) Which two countries signed Indus Basin Treaty?
- (x) When Palestine issue was born?
- (xi) When and where was incident of World Trade Centre occurred?
- (xii) Write down two objectives of UN.
- (xiii) Write down two powers of International Court of Justice.

سوال نمبر 4۔ کوئی سے نو اجزاء کے جوابات تحریر کیجیے۔

- (i) ثانوی و اعلیٰ ثانوی تعلیم کیا ہے؟
- (ii) کمپیوٹر کی تعلیم کی اہمیت کیا ہے؟
- (iii) غیر متوازن غذا سے کیا مراد ہے؟
- (iv) رسمی تعلیم سے کیا مراد ہے؟
- (v) معاشرتی نظم و ضبط سے کیا مراد ہے؟
- (vi) پروٹوکول سے کیا مراد ہے؟
- (vii) جاگیردارانہ نظام سے کیا مراد ہے؟
- (viii) قومی یک جہتی کے دو فوائد لکھیں۔
- (ix) سندھ طاس معاہدہ کن دو ممالک کے درمیان ہوا؟
- (x) مسئلہ فلسطین کب پیدا ہوا؟
- (xi) ورلڈ ٹریڈ سنٹر کا واقعہ کب اور کہاں رونما ہوا؟
- (xii) اقوام متحدہ کے دو مقاصد لکھیے۔
- (xiii) بین الاقوامی عدالت انصاف کے دو اختیارات لکھیے۔

SECTION-II حصہ دوم

NOTE: - Attempt any three questions.

30 = 10 x 3

نوٹ۔ کوئی سے تین سوالات کے جوابات تحریر کیجیے۔

5. Describe the political services of Sir Syed Ahmad Khan. 5۔ سر سید احمد خان کی سیاسی خدمات بیان کیجیے۔
6. Describe the causes of separation of East Pakistan in 1971. 6۔ 1971ء میں مشرقی پاکستان کی علیحدگی کے اسباب بیان کریں۔
7. Write the powers and functions of President according to 1973 Constitution. 7۔ 1973ء کے آئین کے مطابق صدر مملکت کے اختیارات و فرائض بیان کریں۔
8. Describe the significance of Social Order. 8۔ معاشرتی نظم و ضبط کی اہمیت بیان کیجیے۔
9. Review the relations between Pakistan and Afghanistan. 9۔ پاکستان اور افغانستان کے تعلقات کا جائزہ لیجیے۔

Paper Code

2018 (S)

Number: 4171

انٹرمیڈیٹ امتحان پارٹ - II (کلاس بارہویں)

CIVICS PAPER-II

OBJECTIVE حصہ معروضی

سوئس پرچہ دوسرا

TIME ALLOWED: 30 Minutes

وقت = 30 منٹ

MAXIMUM MARKS: 20

کل نمبر = 20

نوٹ۔ ہر سوال کے چار ممکنہ جوابات A، B، C اور D دیئے گئے ہیں۔ جوابی کاپی پر ہر سوال کے سامنے دیئے گئے دائروں میں سے درست جواب کے مطابق متعلقہ دائرہ کو مارکر یا پین سے بھر دیجئے۔ ایک سے زیادہ دائروں کو بھرنے یا کٹ کر پھرنے کی صورت میں مذکورہ جواب غلط تصور ہوگا۔ دائروں کو پھرنے نہ کرنے کی صورت میں کوئی نمبر نہیں دیا جائے گا۔ اس سوالیہ پرچہ پر سوالات ہرگز حل نہ کریں۔

Note: you have four choices for each objective type question as A, B, C and D. The choice which you think is correct, fill that bubble in front of that question number. On bubble sheet, use marker or pen to fill the bubbles. Cutting or filling two or more bubbles will result in zero mark in that question. Attempt as many questions as given in objective type question paper and leave others blank. No credit will be awarded in case BUBBLES are not filled. Do not solve questions on this sheet of OBJECTIVE PAPER.

Q.No.1

سوال نمبر 1-

- (1) Muhammadan Educational Conference established in:-
 (A) 1866ء میں (B) 1876ء میں (C) 1886ء میں (D) 1896ء میں
 (1) محمدن ایجوکیشنل کانفرنس کا قیام عمل میں لایا گیا۔
- (2) _____ used the term Two Nation Theory, first time in subcontinent.
 (A) Quaid-e-Azam قائد اعظم نے (B) Allama Muhammad Iqbal علامہ محمد اقبال نے (C) Sir Syed Ahmad Khan سر سید احمد خاں نے (D) _____
 (2) برصغیر میں دو قوموں کی نظریے کی اصطلاح سب سے پہلے استعمال کی۔
- (3) Quaid-e-Azam presented his fourteen points in:-
 (A) 1925ء میں (B) 1927ء میں (C) 1929ء میں (D) 1931ء میں
 (3) قائد اعظم نے چودہ نکات پیش کئے۔
- (4) Khilafat Movement began in:-
 (A) 1916ء میں (B) 1919ء میں (C) 1921ء میں (D) 1930ء میں
 (4) تحریک خلافت شروع ہوئی۔
- (5) Bengal Partition took place in:-
 (A) 1905ء میں (B) 1907ء میں (C) 1909ء میں (D) 1911ء میں
 (5) بنگال کی تقسیم ہوئی۔
- (6) Sir Syed Ahmad Khan issued Tehzeeb ul Akhlaq Magazine in:-
 (A) 1860ء میں (B) 1865ء میں (C) 1870ء میں (D) 1875ء میں
 (6) سر سید احمد خاں نے رسالہ تہذیب الاخلاق جاری کیا۔
- (7) The number of members National Assembly in Pakistan is:-
 (A) 332 (B) 342 (C) 352 (D) 362
 (7) پاکستان کی قومی اسمبلی کے ممبران کی تعداد ہے۔
- (8) Eighth amendment was made in 1973 Constitution in:-
 (A) 1979ء میں (B) 1981ء میں (C) 1983ء میں (D) 1985ء میں
 (8) 1973ء کے آئین میں آٹھویں ترمیم کی گئی۔
- (9) _____ clauses are there in 1962 Constitution.
 (A) 250 (B) 280 (C) 310 (D) 340
 (9) 1962ء کے آئین کی _____ دفعات ہیں۔
- (10) The period of Presidential Ordinance is:-
 (A) 4 months چار ماہ (B) 6 months چھ ماہ (C) 8 months آٹھ ماہ (D) 10 months دس ماہ
 (10) صدارتی آرڈیننس کے لیے ہوتا ہے۔
- (11) The age of retirement of Supreme Court Judge is:-
 (A) 55 years سال (B) 60 years سال (C) 65 years سال (D) 70 years سال
 (11) سپریم کورٹ کے جج کی ریٹائرمنٹ کی عمر ہے۔
- (12) The average age of males in Pakistan according to the data of 2013-2014 is:-
 (A) 60 years سال (B) 62 years سال (C) 64.6 years سال (D) 66 years سال
 (12) 2013-2014 کے اعداد و شمار کے مطابق پاکستان میں مردوں کی اوسط عمر ہے۔
- (13) The literacy rate in Pakistan according to the data of 2013-2014 is:-
 (A) 45 % فیصد (B) 53 % فیصد (C) 60 % فیصد (D) 62 % فیصد
 (13) 2013-2014 کے اعداد و شمار کے مطابق پاکستان میں شرح خواندگی ہے۔
- (14) _____ party system is prevailed in Pakistan.
 (A) Single party system ایک جماعتی نظام (B) Two party system دو جماعتی نظام (C) Three party system تین جماعتی نظام (D) Multi party system کثیر جماعتی نظام
 (14) پاکستان میں _____ جماعتی نظام رائج ہے۔
- (15) Hazrat Moazz bin Jabal(R.A) was the Governor of:-
 (A) Syria شام (B) Iraq عراق (C) Iran ایران (D) Yemen یمن
 (15) حضرت معاذ بن جبلؓ کے گورنر تھے۔
- (16) Islamic state of Madina was founded in _____ .
 (A) 4 Hijri ہجری (B) 3 Hijri ہجری (C) 2 Hijri ہجری (D) 1st Hijri ہجری
 (16) مدینہ منورہ میں اسلامی ریاست کی بنیاد رکھی گئی۔
- (17) _____ is sole basis of Pakistani Nationality.
 (A) Islam اسلام (B) Unity and cooperation اتحاد و تعاون (C) Language زبان (D) Territory علاقہ
 (17) پاکستانی قومیت کی واحد بنیاد _____ ہے۔
- (18) Re-public of China came into being in:-
 (A) 1947ء (B) 1949ء (C) 1951ء (D) 1953ء
 (18) عوامی جمہوریہ چین کا قیام _____ میں عمل میں آیا۔
- (19) United Nations came into being on:-
 (A) 24 October, 1945 اکتوبر 24، 1945 (B) 24 October, 1946 اکتوبر 24، 1946 (C) 24 October, 1947 اکتوبر 24، 1947 (D) 24 October, 1948 اکتوبر 24، 1948
 (19) اقوام متحدہ _____ کو وجود میں آئی۔
- (20) The length of boundary between Pakistan and Afghanistan is:-
 (A) 2240 kilometres کلومیٹر (B) 2246 kilometres کلومیٹر (C) 2250 kilometres کلومیٹر (D) 2252 kilometres کلومیٹر
 (20) پاکستان اور افغانستان کی سرحد کی لمبائی ہے۔

Paper Code

2018 (S)

رول نمبر

Number: 4173

انٹرمیڈیٹ امتحان پارٹ - II (کلاس بارہویں)

CIVICS PAPER-II

OBJECTIVE حصہ معروضی

سوکس پرچہ دوسرا

TIME ALLOWED: 30 Minutes

وقت = 30 منٹ

MAXIMUM MARKS: 20

کل نمبر = 20

نوٹ۔ ہر سوال کے چار ممکنہ جوابات A، B، C اور D دیئے گئے ہیں۔ جوابی کاپی پر ہر سوال کے سامنے دیئے گئے دائروں میں سے درست جواب کے مطابق متعلقہ دائرہ کو مار کر یا پین سے بھر دیجئے۔ ایک سے زیادہ دائروں کو بھر کرنے یا کاٹ کر پُر کرنے کی صورت میں مذکورہ جواب غلط تصور ہوگا۔ دائروں کو پُر نہ کرنے کی صورت میں کوئی نمبر نہیں دیا جائے گا۔ اس سوالیہ پرچہ پر

Note: you have four choices for each objective type question as A, B, C and D. The choice which you think is correct, fill that bubble in front of that question number. On bubble sheet, use marker or pen to fill the bubbles. Cutting or filling two or more bubbles will result in zero mark in that question. Attempt as many questions as given in objective type question paper and leave others blank. No credit will be awarded in case BUBBLES are not filled. Do not solve questions on this sheet of OBJECTIVE PAPER.

Q.No.1

سوال نمبر 1-

- (1) Islamic state of Madina was founded in _____.
 (A) 4 Hijri (B) 3 Hijri (C) 2 Hijri (D) 1st Hijri
 مدینہ منورہ میں اسلامی ریاست کی بنیاد رکھی گئی۔
- (2) _____ is sole basis of Pakistani Nationality.
 (A) Islam (B) Unity and cooperation (C) Language (D) Territory
 پاکستانی قومیت کی واحد بنیاد ہے۔
- (3) Re-public of China came into being in:-
 (A) 1947 (B) 1949 (C) 1951 (D) 1953
 عوامی جمہوریہ چین کا قیام _____ میں عمل میں آیا۔
- (4) United Nations came into being on:-
 (A) 24 October, 1945 (B) 24 October, 1946 (C) 24 October, 1947 (D) 24 October, 1948
 اقوام متحدہ _____ کو وجود میں آئی۔
- (5) The length of boundary between Pakistan and Afghanistan is:-
 (A) 2240 kilometres (B) 2246 kilometres (C) 2250 kilometres (D) 2252 kilometres
 پاکستان اور افغانستان کی سرحد کی لمبائی ہے۔
- (6) Muhammadan Educational Conference established in:-
 (A) 1866 (B) 1876 (C) 1886 (D) 1896
 محمدان ایجوکیشنل کانفرنس کا قیام عمل میں لایا گیا۔
- (7) _____ used the term Two Nation Theory, first time in subcontinent.
 (A) Quaid-e-Azam (B) Allama Muhammad Iqbal (C) Shah Wali Ullah (D) Sir Syed Ahmad Khan
 برصغیر میں دو قومی نظریے کی اصطلاح سب سے پہلے استعمال کی۔
- (8) Quaid-e-Azam presented his fourteen points in:-
 (A) 1925 (B) 1927 (C) 1929 (D) 1931
 قائد اعظم نے چودہ نکات پیش کئے۔
- (9) Khilafat Movement began in:-
 (A) 1916 (B) 1919 (C) 1921 (D) 1930
 تحریک خلافت شروع ہوئی۔
- (10) Bengal Partition took place in:-
 (A) 1905 (B) 1907 (C) 1909 (D) 1911
 بنگال کی تقسیم ہوئی۔
- (11) Sir Syed Ahmad Khan issued Tehzeeb ul Akhlaq Magazine in:-
 (A) 1860 (B) 1865 (C) 1870 (D) 1875
 سرسید احمد خاں نے رسالہ تہذیب الاخلاق جاری کیا۔
- (12) The number of members National Assembly in Pakistan is:-
 (A) 332 (B) 342 (C) 352 (D) 362
 پاکستان کی قومی اسمبلی کے ممبران کی تعداد ہے۔
- (13) Eighth amendment was made in 1973 Constitution in:-
 (A) 1979 (B) 1981 (C) 1983 (D) 1985
 1973ء کے آئین میں آٹھویں ترمیم کی گئی۔
- (14) _____ clauses are there in 1962 Constitution.
 (A) 250 (B) 280 (C) 310 (D) 340
 1962ء کے آئین کی _____ دفعات ہیں۔
- (15) The period of Presidential Ordinance is:-
 (A) 4 months (B) 6 months (C) 8 months (D) 10 months
 صدارتی آرڈیننس _____ کے لیے ہوتا ہے۔
- (16) The age of retirement of Supreme Court Judge is:-
 (A) 55 years (B) 60 years (C) 65 years (D) 70 years
 سپریم کورٹ کے جج کی ریٹائرمنٹ کی عمر ہے۔
- (17) The average age of males is Pakistan according to the data of 2013-2014 is:-
 (A) 60 years (B) 62 years (C) 64.6 years (D) 66 years
 2013-2014 کے اعداد و شمار کے مطابق پاکستان میں مردوں کی اوسط عمر ہے۔
- (18) The literacy rate in Pakistan according to the data of 2013-2014 is:-
 (A) 45 % (B) 53 % (C) 60 % (D) 62 %
 2013-2014 کے اعداد و شمار کے مطابق پاکستان میں شرح خواندگی ہے۔
- (19) _____ party system is prevailed in Pakistan.
 (A) Single party system (B) Two party system (C) Three party system (D) Multi party system
 پاکستان میں _____ جماعتی نظام رائج ہے۔
- (20) Hazrat Moazz bin Jabal(R.A) was the Governor of:-
 (A) Syria (B) Iraq (C) Iran (D) Yemen
 حضرت معاذ بن جبلؓ کے گورنر تھے۔

Paper Code

Number: 4175

انٹرمیڈیٹ امتحان پارٹ - II (کلاس بارہویں)

CIVICS PAPER-II

OBJECTIVE حصہ معروضی

سوکس پرچہ دوسرا

TIME ALLOWED: 30 Minutes

وقت = 30 منٹ

MAXIMUM MARKS: 20

کل نمبر = 20

نوٹ۔ ہر سوال کے چار ممکنہ جوابات A، B، C اور D دیئے گئے ہیں۔ جوابی کاپی پر ہر سوال کے سامنے دیئے گئے دائروں میں سے درست جواب کے مطابق متعلقہ دائرہ کو مار کر یا پین سے بھر دیجئے۔ ایک سے زیادہ دائروں کو بھر کرنے یا کاٹ کر بھر کرنے کی صورت میں مذکورہ جواب غلط تصور ہوگا۔ دائروں کو بھر نہ کرنے کی صورت میں کوئی نمبر نہیں دیا جائے گا۔ اس سوالیہ پرچہ پر سوالات ہرگز حل نہ کریں۔

Note: you have four choices for each objective type question as A, B, C and D. The choice which you think is correct, fill that bubble in front of that question number. On bubble sheet, use marker or pen to fill the bubbles. Cutting or filling two or more bubbles will result in zero mark in that question. Attempt as many questions as given in objective type question paper and leave others blank. No credit will be awarded in case BUBBLES are not filled. Do not solve questions on this sheet of OBJECTIVE PAPER.

Q.No.1

سوال نمبر 1-

- (1) The age of retirement of Supreme Court Judge is:-
(A) 55 years سال (B) 60 years سال (C) 65 years سال (D) 70 years سال
سپریم کورٹ کے جج کی ریٹائرمنٹ کی عمر ہے۔
- (2) The average age of males in Pakistan according to the data of 2013-2014 is:-
(A) 60 years سال (B) 62 years سال (C) 64.6 years سال (D) 66 years سال
2013-2014 کے اعداد و شمار کے مطابق پاکستان میں مردوں کی اوسط عمر ہے۔
- (3) The literacy rate in Pakistan according to the data of 2013-2014 is:-
(A) 45 % فیصد (B) 53 % فیصد (C) 60 % فیصد (D) 62 % فیصد
2013-2014 کے اعداد و شمار کے مطابق پاکستان میں شرح خواندگی ہے۔
- (4) _____ party system is prevailed in Pakistan.
(A) Single party system ایک جماعتی نظام (B) Two party system دو جماعتی نظام
(C) Three party system تین جماعتی نظام (D) Multi party system کثیر جماعتی نظام
پاکستان میں _____ جماعتی نظام رائج ہے۔
- (5) Hazrat Moazz bin Jabal(R.A) was the Governor of:-
(A) Syria شام (B) Iraq عراق (C) Iran ایران (D) Yemen یمن
حضرت معاذ بن جبلؓ کے گورنر تھے۔
- (6) Islamic state of Madina was founded in _____.
(A) 4 Hijri 4 ہجری (B) 3 Hijri 3 ہجری (C) 2 Hijri 2 ہجری (D) 1st Hijri 1 ہجری
مدینہ منورہ میں اسلامی ریاست کی بنیاد رکھی گئی۔
- (7) _____ is sole basis of Pakistani Nationality.
(A) Islam اسلام (B) Unity and cooperation اتحاد و تعاون (C) Language زبان (D) Territory علاقہ
پاکستانی قومیت کی واحد بنیاد _____ ہے۔
- (8) Re-public of China came into being in:-
(A) 1947ء (B) 1949ء (C) 1951ء (D) 1953ء
عوامی جمہوریہ چین کا قیام _____ میں عمل میں آیا۔
- (9) United Nations came into being on:-
(A) 24 October, 1945 اکتوبر 24، 1945 (B) 24 October, 1946 اکتوبر 24، 1946 (C) 24 October, 1947 اکتوبر 24، 1947 (D) 24 October, 1948 اکتوبر 24، 1948
اقوام متحدہ _____ کو وجود میں آئی۔
- (10) The length of boundary between Pakistan and Afghanistan is:-
(A) 2240 kilometres کلومیٹر (B) 2246 kilometres کلومیٹر (C) 2250 kilometres کلومیٹر (D) 2252 kilometres کلومیٹر
پاکستان اور افغانستان کی سرحد کی لمبائی ہے۔
- (11) Muhammadan Educational Conference established in:-
(A) 1866ء میں (B) 1876ء میں (C) 1886ء میں (D) 1896ء میں
محمدان ایجوکیشنل کانفرنس کا قیام عمل میں لایا گیا۔
- (12) _____ used the term Two Nation Theory, first time in subcontinent.
(A) Quaid-e-Azam قائد اعظم نے (B) Allama Muhammad Iqbal علامہ محمد اقبال نے (C) Shah Wali Ullah شاہ ولی اللہ نے (D) Sir Syed Ahmad Khan سر سید احمد خاں نے
برصغیر میں دو قومی نظریے کی اصطلاح سب سے پہلے استعمال کی۔
- (13) Quaid-e-Azam presented his fourteen points in:-
(A) 1925ء میں (B) 1927ء میں (C) 1929ء میں (D) 1931ء میں
قائد اعظمؒ نے چودہ نکات پیش کئے۔
- (14) Khilafat Movement began in:-
(A) 1916ء میں (B) 1919ء میں (C) 1921ء میں (D) 1930ء میں
تحریک خلافت شروع ہوئی۔
- (15) Bengal Partition took place in:-
(A) 1905ء میں (B) 1907ء میں (C) 1909ء میں (D) 1911ء میں
بنگال کی تقسیم ہوئی۔
- (16) Sir Syed Ahmad Khan issued Tehzeeb ul Akhlaq Magazine in:-
(A) 1860ء میں (B) 1865ء میں (C) 1870ء میں (D) 1875ء میں
سر سید احمد خاں نے رسالہ تہذیب الاخلاق جاری کیا۔
- (17) The number of members National Assembly in Pakistan is:-
(A) 332 (B) 342 (C) 352 (D) 362
پاکستان کی قومی اسمبلی کے ممبران کی تعداد ہے۔
- (18) Eighth amendment was made in 1973 Constitution in:-
(A) 1979ء میں (B) 1981ء میں (C) 1983ء میں (D) 1985ء میں
1973ء کے آئین میں آٹھویں ترمیم کی گئی۔
- (19) _____ clauses are there in 1962 Constitution.
(A) 250 (B) 280 (C) 310 (D) 340
1962ء کے آئین کی _____ دفعات ہیں۔
- (20) The period of Presidential Ordinance is:-
(A) 4 months چار ماہ (B) 6 months چھ ماہ (C) 8 months آٹھ ماہ (D) 10 months دس ماہ
صدارتی آرڈیننس _____ کے لیے ہوتا ہے۔

Paper Code

2018 (S)

رول نمبر

Number: 4177

(کلاس بارہویں) II - انٹرمیڈیٹ امتحان پارٹ - II

CIVICS PAPER-II

OBJECTIVE حصہ معروضی

سوکس پچھ دوسرا

TIME ALLOWED: 30 Minutes

وقت = 30 منٹ

MAXIMUM MARKS: 20

کل نمبر = 20

نوٹ - ہر سوال کے چار ممکنہ جوابات A، B، C اور D دیئے گئے ہیں۔ جوابی کاپی پر ہر سوال کے سامنے دیئے گئے دائروں میں سے درست جواب کے مطابق متعلقہ دائرہ کو مار کر یا پین سے بھر دیتے۔ ایک سے زیادہ دائروں کو بھر کرنے یا کاٹ کر پُر کرنے کی صورت میں مذکورہ جواب غلط تصور ہوگا۔ دائروں کو پُر نہ کرنے کی صورت میں کوئی نمبر نہیں دیا جائے گا۔ اس سوالیہ پچھ پر سوالات ہرگز حل نہ کریں۔

Note: you have four choices for each objective type question as A, B, C and D. The choice which you think is correct, fill that bubble in front of that question number. On bubble sheet, use marker or pen to fill the bubbles. Cutting or filling two or more bubbles will result in zero mark in that question. Attempt as many questions as given in objective type question paper and leave others blank. No credit will be awarded in case BUBBLES are not filled. Do not solve questions on this sheet of OBJECTIVE PAPER.

Q.No.1

سوال نمبر 1-

- (1) Bengal Partition took place in:-
(A) 1905ء میں (B) 1907ء میں (C) 1909ء میں (D) 1911ء میں
بنگال کی تقسیم ہوئی۔ (1)
- (2) Sir Syed Ahmad Khan issued Tehzeeb ul Akhlaq Magazine in:-
(A) 1860ء میں (B) 1865ء میں (C) 1870ء میں (D) 1875ء میں
سر سید احمد خاں نے رسالہ تہذیب الاخلاق جاری کیا۔ (2)
- (3) The number of members National Assembly in Pakistan is:-
(A) 332 (B) 342 (C) 352 (D) 362
پاکستان کی قومی اسمبلی کے نمبران کی تعداد ہے۔ (3)
- (4) Eighth amendment was made in 1973 Constitution in:-
(A) 1979ء میں (B) 1981ء میں (C) 1983ء میں (D) 1985ء میں
1973ء کے آئین میں آٹھویں ترمیم کی گئی۔ (4)
- (5) _____ clauses are there in 1962 Constitution.
(A) 250 (B) 280 (C) 310 (D) 340
1962ء کے آئین کی _____ دفعات ہیں۔ (5)
- (6) The period of Presidential Ordinance is:-
(A) 4 months چار ماہ (B) 6 months چھ ماہ (C) 8 months آٹھ ماہ (D) 10 months دس ماہ
صدارتی آرڈیننس کے لیے ہوتا ہے۔ (6)
- (7) The age of retirement of Supreme Court Judge is:-
(A) 55 years سال (B) 60 years سال (C) 65 years سال (D) 70 years سال
سپریم کورٹ کے جج کی ریٹائرمنٹ کی عمر ہے۔ (7)
- (8) The average age of males in Pakistan according to the data of 2013-2014 is:-
(A) 60 years سال (B) 62 years سال (C) 64.6 years سال (D) 66 years سال
2013-2014 کے اعداد و شمار کے مطابق پاکستان میں مردوں کی اوسط عمر ہے۔ (8)
- (9) The literacy rate in Pakistan according to the data of 2013-2014 is:-
(A) 45 % فیصد (B) 53 % فیصد (C) 60 % فیصد (D) 62 % فیصد
2013-2014 کے اعداد و شمار کے مطابق پاکستان میں شرح خواندگی ہے۔ (9)
- (10) _____ party system is prevailed in Pakistan.
(A) Single party system ایک جماعتی نظام (B) Two party system دو جماعتی نظام (C) Three party system تین جماعتی نظام (D) Multi party system کثیر جماعتی نظام
پاکستان میں _____ جماعتی نظام رائج ہے۔ (10)
- (11) Hazrat Moazz bin Jabal(R.A) was the Governor of:-
(A) Syria شام (B) Iraq عراق (C) Iran ایران (D) Yemen یمن
حضرت معاذ بن جبلؓ کے گورنر تھے۔ (11)
- (12) Islamic state of Madina was founded in _____.
(A) 4 Hijri ہجری (B) 3 Hijri ہجری (C) 2 Hijri ہجری (D) 1st Hijri ہجری
مدینہ منورہ میں اسلامی ریاست کی بنیاد رکھی گئی۔ (12)
- (13) _____ is sole basis of Pakistani Nationality.
(A) Islam اسلام (B) Unity and cooperation اتحاد و تعاون (C) Language زبان (D) Territory علاقہ
پاکستانی قومیت کی واحد بنیاد _____ ہے۔ (13)
- (14) Re-public of China came into being in:-
(A) 1947ء (B) 1949ء (C) 1951ء (D) 1953ء
عوامی جمہوریہ چین کا قیام _____ میں عمل میں آیا۔ (14)
- (15) United Nations came into being on:-
(A) 24 October, 1945 اکتوبر 24 (B) 24 October, 1946 اکتوبر 24 (C) 24 October, 1947 اکتوبر 24 (D) 24 October, 1948 اکتوبر 24
اقوام متحدہ _____ کو وجود میں آئی۔ (15)
- (16) The length of boundary between Pakistan and Afghanistan is:-
(A) 2240 kilometres کلومیٹر (B) 2246 kilometres کلومیٹر (C) 2250 kilometres کلومیٹر (D) 2252 kilometres کلومیٹر
پاکستان اور افغانستان کی سرحد کی لمبائی ہے۔ (16)
- (17) Muhammadan Educational Conference established in:-
(A) 1866ء میں (B) 1876ء میں (C) 1886ء میں (D) 1896ء میں
محمدان ایجوکیشنل کانفرنس کا قیام عمل میں لایا گیا۔ (17)
- (18) _____ used the term Two Nation Theory, first time in subcontinent.
(A) Quaid-e-Azam قائد اعظم نے (B) Allama Muhammad Iqbal علامہ محمد اقبال نے (C) Shah Wali Ullah شاہ ولی اللہ نے (D) Sir Syed Ahmad Khan سر سید احمد خاں نے
برصغیر میں دو قومی نظریے کی اصطلاح سب سے پہلے استعمال کی۔ (18)
- (19) Quaid-e-Azam presented his fourteen points in:-
(A) 1925ء میں (B) 1927ء میں (C) 1929ء میں (D) 1931ء میں
قائد اعظمؒ نے چودہ نکات پیش کئے۔ (19)
- (20) Khilafat Movement began in:-
(A) 1916ء میں (B) 1919ء میں (C) 1921ء میں (D) 1930ء میں
تحریک خلافت شروع ہوئی۔ (20)

Name of Subject: StatisticsSession: 2018

Q.Nos	Paper Code 4181	Paper Code 4183	Paper Code 4185	Paper Code 4187
1	A	A	D	D
2	C	C	C	B
3	C	D	A	D
4	B	A	B	C
5	D	C	A	A
6	B	C	B	B
7	D	B	C	A
8	C	D	C	B
9	A	B	A	C
10	B	D	C	C
11	A	C	D	A
12	B	A	A	C
13	C	B	C	D
14	C	A	C	A
15	A	B	B	C
16	C	C	D	C
17	D	C	B	B
18				
19				
20				

مرٹیکٹ بابت صحیح سوالیہ پرچہ امارٹنگ Key

ہم نے مضمون Statistics پرچہ II گروپ New سیکر انٹرمڈیٹ امتحان 2018 کا سوالیہ پرچہ انشائیہ و معروضی (Subjective & Objective) کو بنظر عین چیک کر لیا ہے یہ پرچہ Syllabus کے عین مطابق Set کیا گیا ہے۔ اس سوالیہ پرچہ میں کسی قسم کی کوئی غلطی نہ ہے۔ ہم نے سوالیہ پرچہ کا اردو اور انگریزی Version بھی چیک کر لیا ہے۔ یہ Version آپس میں مطابقت رکھتے ہیں۔ نیز اس پرچہ کی معروضی (MCQs) Key کی بابت تصدیق کی جاتی ہے کہ اس میں بھی کسی قسم کی کوئی غلطی نہ ہے۔ مزید یہ کہ ہم نے Key بنانے سے متعلق دفتر کی جانب سے تیار کردہ ہدایات وصول کر کے ان کا بغور مطالعہ کر لیا ہے اور ان کی روشنی میں Key بنائی ہے۔ نیز سب ایگزامینرز کیلئے تفصیلی مارٹنگ ہدایات / مارٹنگ سکیم Rubrics بھی تیار کر دی گئی ہیں۔

Prepared & Checked By:

Dated: 31-10-2018

S.#	Name	Designation	Institution	Mobile No	Signature
1	EHSAN UR REHMAN	ASSOCIATE PROFESSOR	Gout P/Cs College Khanewal	03008333707	
2	Muhammad Azam	Associate Prof.	Gout, Emerson College Multan	03007330629	
3	Muhammad Zia	Lecturer	Gout College Civil Lines Multan	03350805802	
4	AFTAB AHMAD ANSARI	Associate Professor	Civil College of Science Multan	03336057036	
5	AMIR-AHMAD	Associate Professor	G.C of Science Multan	0308-8629286	

(27)

2018 (S)

Roll No: _____

INTERMEDIATE PART-II (12th CLASS)**STATISTICS PAPER-II (NEW SCHEME)**

TIME ALLOWED: 2.40 Hours

SUBJECTIVE

MAXIMUM MARKS: 68

NOTE: - Write same question number and its part number in answer book, as given in the question paper.**SECTION-I****2. Attempt any eight parts.****8 × 2 = 16**

- (i) What is the relation between Mean, Median and Mode in Normal distribution?
- (ii) Define Normal Frequency Distribution.
- (iii) Explain Standard Normal Distribution.
- (iv) In normal distribution $\mu = 100$, $\sigma = 10$ find Q_1 and Q_3 .
- (v) Write the p.d.f. of Normal Distribution.
- (vi) Elaborate the term Estimation.
- (vii) Write down Confidence Interval for ' μ ' when δ is known.
- (viii) Differentiate between Null Hypothesis and Alternative Hypothesis.
- (ix) Explain the term Testing of Hypothesis.
- (x) Differentiate between one sided and two sided test.
- (xi) What is Central Processing Unit?
- (xii) What is Computer?

3. Attempt any eight parts.**8 × 2 = 16**

- (i) Differentiate between Parameter and Statistic.
- (ii) Define Sampling Design.
- (iii) Define Sampling Frame.
- (iv) Define Standard Error.
- (v) Differentiate between sample survey and census.
- (vi) Define Cluster Sampling.
- (vii) Write three properties of regression coefficient.
- (viii) Define Regressand.
- (ix) $n = 10$; $\sum x = 20$; $\sum y = 260$, $\sum xy = 3490$; $\sum x^2 = 3144$ find b_{yx}
- (x) Define Correlation.
- (xi) $r = 0.98$; $S_{xy} = 36$; $S_x^2 = 16$ find S_y
- (xii) Write the properties of correlation coefficient.

4. Attempt any six parts.**6 × 2 = 12**

- (i) Differentiate between Quantitative Variable and Attribute.
- (ii) Define positive and negative association.
- (iii) What is meant by Independence of Attributes?
- (iv) Define Rank Correlation.
- (v) Define Co-efficient of Contingency.
- (vi) What is meant by Time series?
- (vii) What are multiplicative and additive models in time series?
- (viii) Define the term Secular Trend.
- (ix) Define Signal and Noise.

P.T.O

(2)

SECTION-II**3 × 8 = 24****NOTE: - Attempt any three questions.**

- 5.(a) If $X \sim N(70, 25)$, find a point that has 87.9 % of the distribution below it. 4
- (b) If $X \sim N(500, 100)$, find the probabilities (i) between 485 and 512 (ii) above 515 4
- 6.(a) If the size of the simple random sample from an infinite population is 36 and $\sigma_{\bar{x}} = 2$, then find the value of σ . How large must the sample size become if S.E is reduced to be 1.2? 4
- (b) A population consist of values 2, 4, 6, 8. Draw all possible sample of size two without replacement and verify $\mu_{\bar{x}} = \mu$. 4
- 7.(a) A random sample of 16 packs of mangrine has an average content of 195 grams and a standard deviation of 9 grams. Give a 99% confidence interval for μ . 4
- (b) A random sample of 10 from an approximately normal distribution with mean μ gave $\bar{x} = 20$ and $\sum(x - \bar{x}) = 144$. Test the hypothesis that the mean in the population is 19.5 at $\alpha = .05$. 4
- 8.(a) Obtain the estimated regression line of x on y from the given results: 4
 $n = 9, \sum(x - 90) = -25, \sum(x - 90)^2 = 301, \sum(y - 127) = 12, \sum(y - 127)^2 = 1006,$
 $\sum(x - 90)(y - 127) = -469$
- (b) Compute coefficient of correlation for a sample of 20 paires, given that:- 4
 $\bar{X} = 2, \bar{Y} = 8, \sum X^2 = 180, \sum y^2 = 1424$ and $\sum XY = 404$
- 9.(a) From the following data, test the hypothesis that the following flower colour is independent of flatness of leaf at $\alpha = 0.05$. 4
- | | Flat leaves | Lean leaves |
|---------------|-------------|-------------|
| White flowers | 99 | 36 |
| Red flowers | 20 | 5 |
- (b) From the following time series, determine the trend by using the method of 3 – years moving average. 4
- | Years | 1968 | 1969 | 1970 | 1971 | 1972 | 1973 | 1974 | 1975 | 1976 |
|--------|------|------|------|------|------|------|------|------|------|
| Values | 2 | 4 | 6 | 8 | 7 | 6 | 8 | 10 | 12 |

Paper Code

2018 (S)

Roll No. _____

Number: 4181

INTERMEDIATE PART-II (12th CLASS)

STATISTICS PAPER-II (NEW SCHEME)

TIME ALLOWED: 20 Minutes

OBJECTIVE

MAXIMUM MARKS: 17

Note: You have four choices for each objective type question as A, B, C and D. The choice which you think is correct, fill that circle in front of that question number. Use marker or pen to fill the circles. Cutting or filling two or more circles will result in zero mark in that question. Attempt as many questions as given in objective type question paper and leave others blank. No credit will be awarded in case BUBBLES are not filled. Do not solve questions on this sheet of OBJECTIVE PAPER.

Q.No.1

- (1) The normal distribution ranges from:-
(A) $-\infty$ to $+\infty$ (B) $-\infty$ to Zero (C) Zero to ∞ (D) $-\infty$ to 100
- (2) In a normal distribution:-
(A) Mean $>$ Median $>$ Mode
(B) Mean $<$ Median $<$ Mode (C) Mean = Median = Mode (D) All these
- (3) In a normal distribution, whose mean is μ and standard deviation δ , the value of quartile deviation is approximately:- (A) $\frac{4}{5}$ (B) $\frac{4}{5}\delta$ (C) $\frac{2}{3}\delta$ (D) $\frac{2}{3}$
- (4) The possible samples in sampling without replacement are taken by:-
(A) N^n (B) ${}^N C_n$ (C) n^N (D) ${}^N C_{n-1}$
- (5) Random sampling provides reliable:-
(A) Parameters (B) Units (C) Digits (D) Estimates
- (6) The standard error can be reduced by increasing the:-
(A) Population size (B) Sample size (C) Sampling error (D) Non-sampling error
- (7) An estimator $\hat{\theta}$ of a population parameter θ is said to be unbiased if:-
(A) $E(\hat{\theta}) \neq \theta$ (B) $E(\hat{\theta}) > \theta$ (C) $E(\hat{\theta}) < \theta$ (D) $E(\hat{\theta}) = \theta$
- (8) The level of significance is denoted by:-
(A) β (B) $1 - \beta$ (C) α (D) $1 - \alpha$
- (9) If H_0 is true and we reject H_0 , it is called:-
(A) Type - I error (B) Type - II error (C) Sampling error (D) Standard error
- (10) Independent variable is also called:-
(A) Regressand (B) Regressor (C) Explained variable (D) Response variable
- (11) If b_{yx} and b_{xy} have negative signs then sign of r_{xy} will be:-
(A) -ve (B) No sign (C) +ve (D) Both +ve and -ve
- (12) The range of correlation co-efficient is:-
(A) $-\infty$ to ∞ (B) -1 to +1 (C) -1 to ∞ (D) Zero to ∞
- (13) The two attributes are independent if:-
(A) $Q = -1$ (B) $Q = +1$ (C) $Q = 0$ (D) $Q = +1.5$
- (14) The relationship between two attributes is called:-
(A) Correlation (B) Regression (C) Association (D) Covariance
- (15) The seasonal variations occur within a period of:-
(A) One year (B) Two years (C) Three years (D) Four years
- (16) A systematic component of variation in a time series is called:-
(A) Noise (B) Irregular Movement (C) Signal (D) None of these
- (17) RAM is called _____ storage.
(A) Auxiliary (B) Secondary (C) Non-volatile (D) Primary

Paper Code

2018 (S)

Roll No. _____

Number: 4183

INTERMEDIATE PART-II (12th CLASS)

STATISTICS PAPER-II (NEW SCHEME)

TIME ALLOWED: 20 Minutes

OBJECTIVE

MAXIMUM MARKS: 17

Note: You have four choices for each objective type question as A, B, C and D. The choice which you think is correct, fill that circle in front of that question number. Use marker or pen to fill the circles. Cutting or filling two or more circles will result in zero mark in that question. Attempt as many questions as given in objective type question paper and leave others blank. No credit will be awarded in case BUBBLES are not filled. Do not solve questions on this sheet of OBJECTIVE PAPER.

Q.No.1

- (1) The seasonal variations occur within a period of:-
 (A) One year (B) Two years (C) Three years (D) Four years
- (2) A systematic component of variation in a time series is called:-
 (A) Noise (B) Irregular Movement (C) Signal (D) None of these
- (3) RAM is called _____ storage.
 (A) Auxiliary (B) Secondary (C) Non-volatile (D) Primary
- (4) The normal distribution ranges from:-
 (A) $-\infty$ to $+\infty$ (B) $-\infty$ to Zero (C) Zero to ∞ (D) $-\infty$ to 100
- (5) In a normal distribution:-
 (A) Mean > Median > Mode
 (B) Mean < Median < Mode (C) Mean = Median = Mode (D) All these
- (6) In a normal distribution, whose mean is μ and standard deviation δ , the value of quartile deviation is approximately:- (A) $\frac{4}{5}$ (B) $\frac{4}{5}\delta$ (C) $\frac{2}{3}\delta$ (D) $\frac{2}{3}$
- (7) The possible samples in sampling without replacement are taken by:-
 (A) N^n (B) ${}^N C_n$ (C) n^N (D) ${}^N C_{n-1}$
- (8) Random sampling provides reliable:-
 (A) Parameters (B) Units (C) Digits (D) Estimates
- (9) The standard error can be reduced by increasing the:-
 (A) Population size (B) Sample size (C) Sampling error (D) Non-sampling error
- (10) An estimator $\hat{\theta}$ of a population parameter θ is said to be unbiased if:-
 (A) $E(\hat{\theta}) \neq \theta$ (B) $E(\hat{\theta}) > \theta$ (C) $E(\hat{\theta}) < \theta$ (D) $E(\hat{\theta}) = \theta$
- (11) The level of significance is denoted by:-
 (A) β (B) $1 - \beta$ (C) α (D) $1 - \alpha$
- (12) If H_o is true and we reject H_o , it is called:-
 (A) Type - I error (B) Type - II error (C) Sampling error (D) Standard error
- (13) Independent variable is also called:-
 (A) Regressand (B) Regressor (C) Explained variable (D) Response variable
- (14) If b_{yx} and b_{xy} have negative signs then sign of r_{xy} will be:-
 (A) -ve (B) No sign (C) +ve (D) Both +ve and -ve
- (15) The range of correlation co-efficient is:-
 (A) $-\infty$ to ∞ (B) -1 to +1 (C) -1 to ∞ (D) Zero to ∞
- (16) The two attributes are independent if:-
 (A) $Q = -1$ (B) $Q = +1$ (C) $Q = 0$ (D) $Q = +1.5$
- (17) The relationship between two attributes is called:-
 (A) Correlation (B) Regression (C) Association (D) Covariance

Paper Code

2018 (S)

Roll No. _____

Number: 4185

INTERMEDIATE PART-II (12th CLASS)

STATISTICS PAPER-II (NEW SCHEME)

TIME ALLOWED: 20 Minutes

OBJECTIVE

MAXIMUM MARKS: 17

Note: You have four choices for each objective type question as A, B, C and D. The choice which you think is correct, fill that circle in front of that question number. Use marker or pen to fill the circles. Cutting or filling two or more circles will result in zero mark in that question. Attempt as many questions as given in objective type question paper and leave others blank. No credit will be awarded in case BUBBLES are not filled. Do not solve questions on this sheet of OBJECTIVE PAPER.

Q.No.1

- (1) An estimator $\hat{\theta}$ of a population parameter θ is said to be unbiased if:-
 (A) $E(\hat{\theta}) \neq \theta$ (B) $E(\hat{\theta}) > \theta$ (C) $E(\hat{\theta}) < \theta$ (D) $E(\hat{\theta}) = \theta$
- (2) The level of significance is denoted by:-
 (A) β (B) $1 - \beta$ (C) α (D) $1 - \alpha$
- (3) If H_0 is true and we reject H_0 , it is called:-
 (A) Type - I error (B) Type - II error (C) Sampling error (D) Standard error
- (4) Independent variable is also called:-
 (A) Regressand (B) Regressor (C) Explained variable (D) Response variable
- (5) If b_{yx} and b_{xy} have negative signs then sign of r_{xy} will be:-
 (A) - ve (B) No sign (C) + ve (D) Both + ve and - ve
- (6) The range of correlation co-efficient is:-
 (A) $-\infty$ to ∞ (B) -1 to +1 (C) -1 to ∞ (D) Zero to ∞
- (7) The two attributes are independent if:-
 (A) $Q = -1$ (B) $Q = +1$ (C) $Q = 0$ (D) $Q = +1.5$
- (8) The relationship between two attributes is called:-
 (A) Correlation (B) Regression (C) Association (D) Covariance
- (9) The seasonal variations occur within a period of:-
 (A) One year (B) Two years (C) Three years (D) Four years
- (10) A systematic component of variation in a time series is called:-
 (A) Noise (B) Irregular Movement (C) Signal (D) None of these
- (11) RAM is called _____ storage.
 (A) Auxiliary (B) Secondary (C) Non-volatile (D) Primary
- (12) The normal distribution ranges from:-
 (A) $-\infty$ to $+\infty$ (B) $-\infty$ to Zero (C) Zero to ∞ (D) $-\infty$ to 100
- (13) In a normal distribution:-
 (A) Mean > Median > Mode
 (B) Mean < Median < Mode
 (C) Mean = Median = Mode (D) All these
- (14) In a normal distribution, whose mean is μ and standard deviation δ , the value of quartile deviation is approximately:- (A) $\frac{4}{5}$ (B) $\frac{4}{5}\delta$ (C) $\frac{2}{3}\delta$ (D) $\frac{2}{3}$
- (15) The possible samples in sampling without replacement are taken by:-
 (A) N^n (B) ${}^N C_n$ (C) n^N (D) ${}^N C_{n-1}$
- (16) Random sampling provides reliable:-
 (A) Parameters (B) Units (C) Digits (D) Estimates
- (17) The standard error can be reduced by increasing the:-
 (A) Population size (B) Sample size (C) Sampling error (D) Non-sampling error

Paper Code

2018 (S)

Roll No. _____

Number: 4187

INTERMEDIATE PART-II (12th CLASS)

STATISTICS PAPER-II (NEW SCHEME)

TIME ALLOWED: 20 Minutes

OBJECTIVE

MAXIMUM MARKS: 17

Note: You have four choices for each objective type question as A, B, C and D. The choice which you think is correct, fill that circle in front of that question number. Use marker or pen to fill the circles. Cutting or filling two or more circles will result in zero mark in that question. Attempt as many questions as given in objective type question paper and leave others blank. No credit will be awarded in case BUBBLES are not filled. Do not solve questions on this sheet of OBJECTIVE PAPER.

Q.No.1

- (1) Random sampling provides reliable:-
(A) Parameters (B) Units (C) Digits (D) Estimates
- (2) The standard error can be reduced by increasing the:-
(A) Population size (B) Sample size (C) Sampling error (D) Non-sampling error
- (3) An estimator $\hat{\theta}$ of a population parameter θ is said to be unbiased if:-
(A) $E(\hat{\theta}) \neq \theta$ (B) $E(\hat{\theta}) > \theta$ (C) $E(\hat{\theta}) < \theta$ (D) $E(\hat{\theta}) = \theta$
- (4) The level of significance is denoted by:-
(A) β (B) $1 - \beta$ (C) α (D) $1 - \alpha$
- (5) If H_0 is true and we reject H_0 , it is called:-
(A) Type - I error (B) Type - II error (C) Sampling error (D) Standard error
- (6) Independent variable is also called:-
(A) Regressand (B) Regressor (C) Explained variable (D) Response variable
- (7) If b_{yx} and b_{xy} have negative signs then sign of r_{xy} will be:-
(A) - ve (B) No sign (C) + ve (D) Both + ve and - ve
- (8) The range of correlation co-efficient is:-
(A) $-\infty$ to ∞ (B) -1 to $+1$ (C) -1 to ∞ (D) Zero to ∞
- (9) The two attributes are independent if:-
(A) $Q = -1$ (B) $Q = +1$ (C) $Q = 0$ (D) $Q = +1.5$
- (10) The relationship between two attributes is called:-
(A) Correlation (B) Regression (C) Association (D) Covariance
- (11) The seasonal variations occur within a period of:-
(A) One year (B) Two years (C) Three years (D) Four years
- (12) A systematic component of variation in a time series is called:-
(A) Noise (B) Irregular Movement (C) Signal (D) None of these
- (13) RAM is called _____ storage.
(A) Auxiliary (B) Secondary (C) Non-volatile (D) Primary
- (14) The normal distribution ranges from:-
(A) $-\infty$ to $+\infty$ (B) $-\infty$ to Zero (C) Zero to ∞ (D) $-\infty$ to 100
- (15) In a normal distribution:-
(A) Mean > Median > Mode
(B) Mean < Median < Mode
(C) Mean = Median = Mode (D) All these
- (16) In a normal distribution, whose mean is μ and standard deviation δ , the value of quartile deviation is approximately:- (A) $\frac{4}{5}$ (B) $\frac{4}{5}\delta$ (C) $\frac{2}{3}\delta$ (D) $\frac{2}{3}$
- (17) The possible samples in sampling without replacement are taken by:-
(A) N^n (B) ${}^N C_n$ (C) n^N (D) ${}^N C_{n-1}$

Name of Subject: PSY

Session: _____

Q.Nos	Paper Code	Paper Code	Paper Code	Paper Code
	4161			
1	C			
2	D			
3	D			
4	A			
5	B			
6	A			
7	B			
8	A			
9	B			
10	D			
11	A			
12	C			
13	A			
14	B			
15	A			
16	A.B.C.D			
17	C			
18				
19				
20				

سرٹیفکیٹ بابت صحیح سوالیہ پرچہ امارنگ Key

ہم نے مضمون نفسیات پرچہ II گروپ سکیم New انٹر میڈیٹ / معنی امتحان 2018 کا سوالیہ پرچہ انشائیہ و معروضی (Subjective & Objective) کو بنظر عمیق چیک کر لیا ہے یہ پرچہ Syllabus کے عین مطابق Set کیا گیا ہے۔ اس سوالیہ پرچہ میں کسی قسم کی کوئی غلطی نہ ہے۔ ہم نے سوالیہ پرچہ کا اردو اور انگریزی Version بھی چیک کر لیا ہے۔ یہ Version آپس میں مطابقت رکھتے ہیں۔ نیز اس پرچہ کی معروضی (MCQs) Key کی بابت تصدیق کی جاتی ہے کہ اس میں بھی کسی قسم کی کوئی غلطی نہ ہے۔ مزید یہ کہ ہم نے Key بنانے سے متعلق دفتر کی جانب سے تیار کردہ ہدایات وصول کر کے ان کا بغور مطالعہ کر لیا ہے اور ان کی روشنی میں Key بنائی ہے۔ نیز سب ایگزامینرز کیلئے تفصیلی مارکنگ ہدایات / مارکنگ سکیم Rubrics بھی تیار کر دی گئی ہیں۔

Prepared & Checked By:

Dated: 01-11-18

S.#	Name	Designation	Institution	Mobile No	Signature
1	Ihsan-ul-Haq	Asst. Prof. BPS-18	Govt. Emerson College Multan	0306-7489271	
2	Muhammad-ul-Islam	Lec BPS-17	//	0302- 7326629	
3					

(28)

NOTE: - Write same question number and

نوٹ۔ جوابی کاپی پر وہی سوال نمبر اور جزو نمبر درج کیجیے جو کہ سوالیہ پرچے میں درج ہے۔

its part number on answer book, as given in the question paper.

SECTION-I حصہ اول

2. Attempt any eight parts.

16 = 2 x 8

- Define Maturation.
- What is meant by Development?
- Explain difference between Growth and Development.
- Define Psychological Development.
- Define Physical Development.
- When does the sense of temperature develop in children?
- Explain importance of Vocational Guidance.
- What is meaning of Counselling?
- Describe two principles of Guidance.
- What is meant by Ego in Psychoanalysis?
- What is meant by ABC model given by Albert Eliss?
- What is Educational Guidance at Secondary level?

سوال نمبر 2۔ کوئی سے آٹھ اجزاء کے جوابات تحریر کیجیے۔

- پختگی کی تعریف کیجیے۔
- نشوونما سے کیا مراد ہے؟
- بالیدگی اور نمو میں فرق واضح کیجیے۔
- نفسیاتی نشوونما کی تعریف کیجیے۔
- جسمانی نشوونما کی تعریف کیجیے۔
- بچوں میں درجہ حرارت کی حس کب پیدا ہوتی ہے؟
- پیشہ ورانہ رہنمائی کی اہمیت واضح کیجیے۔
- مشاورت کا مفہوم کیا ہے؟
- رہنمائی کے دو اصول بیان کیجیے۔
- تحلیل نفسی میں "ایگو" سے کیا مراد ہے؟
- البرٹ ایلس کے بیان کردہ ماڈل ABC سے کیا مراد ہے؟
- ثانوی سطح پر تعلیمی رہنمائی کیا ہے؟

3. Attempt any eight parts.

16 = 2 x 8

- What is meant by "Impact of Good Health"?
- What is Social View Point?
- What is the concept of Mental Health by Maulana Ashraf Ali Thanvi(RA)?
- Explain Abnormal Behaviour.
- What is Psychological Criteria?
- What are the Changes in life?
- Define Conflict.
- What are life pressure, events and environmental conditions?
- Define Panic Disorder.
- What is Generalized Anxiety Disorder?
- Explain Bulimia Nervosa.
- What is Schizoid Phoenix?

سوال نمبر 3۔ کوئی سے آٹھ اجزاء کے جوابات تحریر کیجیے۔

- "اچھی صحت کا اثر" سے کیا مراد ہے؟
- سماجی نقطہ نظر کیا ہے؟
- مولانا اشرف علی تھانویؒ کا تصور ذہنی صحت کیا ہے؟
- غیر طبعی کردار کی وضاحت کیجیے۔
- نفسیاتی معیار کیا ہے؟
- زندگی میں تبدیلیاں کیا ہیں؟
- کشمکش کی تعریف کیجیے۔
- زندگی کے دباؤ، واقعات اور ماحولی شرائط کیا ہیں؟
- اضطرابی عارضہ کی تعریف کیجیے۔
- عمومی تشویش کا عارضہ کیا ہے؟
- بسیار خوری کی وضاحت کیجیے۔
- شیزائڈ شخص عارضہ کیا ہے؟

4. Attempt any six parts.

12 = 2 x 6

- What is Social Psychology?
- What is the importance of family in Socialization?
- What is meant by Anti-social Behaviour?
- Give some reasons of Prejudice.
- Define Attitude.
- What is meant by Leader?
- How public opinion is formed?
- How drug addiction can be eradicated?
- Describe the characteristics of Socialization.

سوال نمبر 4۔ کوئی سے چھ اجزاء کے جوابات تحریر کیجیے۔

- سماجی نفسیات کیا ہے؟
- عمل سماجیت میں خاندان کی اہمیت کیا ہے؟
- سماج دشمن کردار سے کیا مراد ہے؟
- تعصب کی چند وجوہات کا ذکر کیجیے۔
- روپے کی تعریف کیجیے۔
- قائد سے کیا مراد ہے؟
- رائے عامہ کی تشکیل کیسے ہوتی ہے؟
- نشے کا تدارک کیسے کیا جاسکتا ہے؟
- سماجیت کی خصوصیات بیان کیجیے۔

SECTION-II حصہ دوم

NOTE: - Attempt any three questions.

24 = 8 x 3

- Describe Erikson's theory of Psychosocial Development.
- Define Anxiety. Explain the symptoms and causes of Anxiety disorder.
- Explain types of Schizophrenia in detail.
- Explain in detail four elements of Socialization.
- Write an essay on Rational Emotive Behaviour Counselling Techniques of Albert Ellis.

نوٹ۔ کوئی سے تین سوالات کے جوابات تحریر کیجیے۔

- ایریکسن کا نفسیاتی اور سماجی نمو کا نظریہ بیان کیجیے۔
- تشویش کی تعریف کیجیے اور تشویش سے پیدا ہونے والے امراض کے اسباب اور علامات واضح کیجیے۔
- انشقاق ذہنی (شیزوفرینیا) کی اقسام کی تفصیلاً وضاحت کیجیے۔
- سماجیت کے چار عناصر تفصیلاً بیان کیجیے۔
- البرٹ ایلس کی عقلی جذباتی کرداری مشاورت کی تکنیک پر مضمون لکھیے۔

Paper Code

2018 (S)

رول نمبر

Number: 4161

انٹرمیڈیٹ امتحان پارٹ - II (کلاس بارہویں)

PSYCHOLOGY PAPER-II (NEW SCHEME)

نفسیات پرچہ - دوسرا (نوسکیم)

TIME ALLOWED: 20 Minutes

وقت = 20 منٹ

MAXIMUM MARKS: 17

حصہ معروضی OBJECTIVE

کل نمبر = 17

نوٹ - ہر سوال کے چار ممکنہ جوابات A، B، C اور D دیئے گئے ہیں۔ جوابی کاپی پر ہر سوال کے سامنے دیئے گئے دائروں میں سے درست جواب کے مطابق متعلقہ دائرہ کو مار کر یا پین سے مھر دیجئے۔ ایک سے زیادہ دائروں کو پُر کرنے یا کاٹ کر پُر کرنے کی صورت میں مذکورہ جواب غلط تصور ہوگا۔ دائروں کو پُر نہ کرنے کی صورت میں کوئی نمبر نہیں دیا جائے گا۔ اس سوالیہ پرچہ پر سوالات ہرگز حل نہ کریں۔

Note: you have four choices for each objective type question as A, B, C and D. The choice which you think is correct, fill that bubble in front of that question number. On bubble sheet, use marker or pen to fill the bubbles. Cutting or filling two or more bubbles will result in zero mark in that question. Attempt as many questions as given in objective type question paper and leave others blank. No credit will be awarded in case BUBBLES are not filled. Do not solve questions on this sheet of OBJECTIVE PAPER.

Q.No.1

سوال نمبر 1-

- (1) Development is _____ process. (1) نشوونما _____ عمل ہے۔
(A) Learning سیکھنے کا (B) Preparation تیاری کا (C) Changes تبدیلیوں کا (D) Mental ذہنی
- (2) _____ action is Phylogenetic. (2) _____ عمل فائوجینیٹک ہے۔
(A) Cycling سائیکل چلانا (B) Throwing of ball گیند پھینکنا (C) Swimming تیرنا (D) Crolling گھٹنوں چلانا
- (3) A girl develop similarity with her:- (3) ایک لڑکی _____ کے ساتھ تاشل قائم کرتی ہے۔
(A) Father باپ (B) Sister بہن (C) Brother بھائی (D) Mother ماں
- (4) The concept of conservation of body develops at age of _____ years. (4) جسم اور جسامت کے تحفظ کا تصور _____ سال کی عمر میں پیدا ہوتا ہے۔
(A) Eleven گیارہ (B) Ten دس (C) Two دو (D) Five پانچ
- (5) Freud's theory of _____ is related to Counselling. (5) فرائڈ کا _____ نظریہ مشاورت سے تعلق رکھتا ہے۔
(A) Cognitive ذوقنی (B) Psychoanalysis تحلیل نفسی (C) Non-directive غیر ہدایتی (D) Rational emotive behaviour counselling technique عقلی کرداری مشاورت کی تکنیک
- (6) _____ standards exist for the mental health in the modern Psychology. (6) جدید نفسیات میں ذہنی صحت کے _____ معیار موجود ہیں۔
(A) Four چار (B) Five پانچ (C) Six چھ (D) Seven سات
- (7) _____ is the event of life due to which a person feels the most stress. (7) _____ کے واقعہ سے ایک شخص سب سے زیادہ باؤ محسوس کرتا ہے۔
(A) Divorce طلاق (B) Death of life partner جیون ساتھی کی موت (C) Marriage شادی (D) Retirement ریٹائرمنٹ
- (8) The person with disease of _____ feels two to forty time sudden and violent attack of eating. (8) _____ کے عارضہ میں مبتلا فرد کو ایک ہفتے میں دو سے چالیس مرتبہ کھانے کے دورے پڑتے ہیں۔
(A) Binge eating پر خوری (B) Bulimia Nervosa بسیار خوری (C) Anorexia Nervosa کم خوری (D) Anxiety تشویش
- (9) _____ symptoms of Schizophrenia are described in DSM IV. (9) DSM IV میں شیذوفرینیا کی _____ علامات بیان کی گئی ہیں۔
(A) Four چار (B) Five پانچ (C) Six چھ (D) Seven سات
- (10) _____ belongs Eleven Point Rating Scale. (10) _____ گیارہ درجائی شرمی پیمانہ سے تعلق رکھتا ہے۔
(A) Bogardus بوگاردس (B) Likert لیکرٹ (C) Osgood آس گڈ (D) Thurstone تھرستون
- (11) There are _____ stages for the formation of Public Opinion. (11) رائے عامہ کی تشکیل کے _____ مراحل ہیں۔
(A) Four چار (B) Six چھ (C) Eight آٹھ (D) Nine نو
- (12) The persons of special qualities are called:- (12) مخصوص خوبیوں کے حامل افراد کہلاتے ہیں۔
(A) Patients مریض (B) Learners طلبا (C) Leaders قائدین (D) Children بچے
- (13) Factor of _____ plays very powerful role in public opinion formation. (13) _____ کا عنصر رائے عامہ کی تشکیل میں زیادہ طاقتور کردار ادا کرتا ہے۔
(A) Mass Media ذرائع ابلاغ (B) Imitation نقلی (C) Message پیغام (D) Suggestion القاء یا ایما
- (14) Process of _____ helps in the solutions of the future problems. (14) _____ کا عمل مستقبل کے مسائل کو حل کرنے میں مدد دیتا ہے۔
(A) Cognition ذوقنی (B) Counselling مشاورت (C) Introduction تعارف (D) Anxiety پریشانی
- (15) In _____ counselling technique ABC model is used. (15) _____ مشاورت کی تکنیک میں ABC ماڈل استعمال کیا جاتا ہے۔
(A) Rational Emotive Behaviour عقلی کرداری (B) Psychoanalysis تحلیل نفسی (C) Home گھریلو (D) Person Centered شخصی مرتکز
- (16) In _____ technique of Counselling teaching is very important. (16) _____ مشاورتی تکنیک میں پڑھانا ایک اہم تکنیک ہے۔
(A) Psychoanalysis تحلیل نفسی (B) Rational emotive behaviour عقلی کرداری (C) Clined-centered therapy شخصی مرتکز تھراپی (D) Tolman ٹالمن
- (17) Treatment by books is the method of treatment of:- (17) علاج بذریعہ کتب _____ کا طریقہ علاج ہے۔
(A) Freud فرائڈ (B) Adler ایڈلر (C) Maulana Ashraf Ali Thanvi (RA) مولانا اشرف علی تھانوی (D) Tolman ٹالمن

www.arifrao.com
 BOARD OF INTERMEDIATE AND SECONDARY EDUCATION, MULTAN.
 OBJECTIVE KEY FOR INTERMEDEAT ANNUAL/SUPPLY EXAMINATION, 2018

Name of Subject: تاریخ اسلام (سنو بکس)
 Group: 1st Paper - II

Session: تاریخ اسلام (مسلمان سہن)
 Group: 2nd Paper - II

Q. Nos	Paper Code 4071	Paper Code 4073	Paper Code 4075	Paper Code 4077
1	A	B	D	C
2	C	B	A	B
3	C	B	C	C
4	A	D	A	B
5	C	C	A	C
6	C	D	A	B
7	B	A	C	B
8	C	C	C	B
9	B	A	A	D
10	C	A	C	C
11	B	A	C	D
12	B	C	B	A
13	B	C	C	C
14	D	A	B	A
15	C	C	C	A
16	D	C	B	A
17	A	B	B	C
18	C	C	B	C
19	A	B	D	A
20	A	C	C	C

Q. Nos	Paper Code 4311	Paper Code 4313	Paper Code 4315	Paper Code 4317
1	A	A	C	A
2	A	A	B	B
3	B	C	C	A
4	C	C	C	A
5	B	C	B	D
6	C	A	A	A
7	B	A	B	A
8	C	B	A	C
9	C	C	A	C
10	B	B	D	C
11	A	C	A	A
12	B	B	A	A
13	A	C	C	B
14	A	C	C	C
15	D	B	C	B
16	A	A	A	C
17	A	B	A	B
18	C	A	B	C
19	C	A	C	C
20	C	D	B	B

سرٹیفکٹ بابت صحیح سوالیہ پرچہ امارنگ کی Key

ہم نے مضمون تاریخ اسلام پرچہ (Subjective & Objective) کو بنظر عمیق چیک کر لیا ہے یہ پرچہ Syllabus کے عین مطابق Set کیا گیا ہے۔ اس سوالیہ پرچہ میں کسی قسم کی کوئی غلطی نہ ہے۔ ہم نے سوالیہ پرچہ کا اردو اور انگریزی Version بھی چیک کر لیا ہے۔ یہ Version آپس میں مطابقت رکھتے ہیں اور Syllabus کے مطابق بھی ہیں۔ نیز اس پرچہ کی معروضی (MCQs) Key کی بابت بھی تصدیق کی جاتی ہے کہ اس میں بھی کسی قسم کی کوئی غلطی نہ ہے۔ MCQs کی "Key" کو دوبارہ بھی بغور چیک کر لیا گیا ہے۔ مزید یہ کہ ہم نے Key بنانے سے متعلق دفتر کی جانب سے تیار کردہ ہدایات وصول کر کے ان کا بغور مطالعہ کر لیا ہے اور ان کی روشنی میں Key بنائی ہے۔ نیز سب ایگزامینرز کیلئے تفصیلی ہدایات / مارنگ سکیم / Rubrics بھی تیار کر دی گئی ہیں۔

Prepared & Checked By:

S.#	Name	Designation	Institution	Mobile No	Signature
1	ملک محمد معنان	ایس کی ایڈیٹر	گورنمنٹ کالج سولہ لائٹس ملتان	0321-895 8337895	
2	محمد فرراز	اسٹنڈرڈ ایڈیٹر	گورنمنٹ ملٹری کالج ملتان	0333-820 8209561	

انٹرمیڈیٹ امتحان پارٹ - II (کلاس بارہویں)

HISTORY OF ISLAM (ABBASIDS OF BAGHDAD)

تاریخ اسلام (عباسی آف بغداد)

PAPER-II (Option-i)

پرچہ - دوسرا (آپشن i)

TIME ALLOWED: 2.30 Hours

SUBJECTIVE حصہ انشائیہ

وقت = 2.30 گھنٹے

MAXIMUM MARKS: 80

کل نمبر = 80

نوٹ - جوابی کاپی پر وہی سوال نمبر اور جزو نمبر درج کیجیے جو کہ سوالیہ پرچے میں درج ہے۔
NOTE: - Write same question number and its part number on answer book, as given in the question paper.

SECTION-I حصہ اول

2. Attempt any eight parts.

16 = 2 x 8

سوال نمبر 2- کوئی سے آٹھ اجزاء کے جوابات تحریر کیجیے۔

- (i) How did relations of Abbasides and Ummayyads become deprave? (i) عباسیوں اور امویوں کے تعلقات کیسے خراب ہوئے؟
- (ii) Write two sentences about Imam Muhammad Nafs-i-Zakiya(RA). (ii) امام محمد نفیس زکیہ کے متعلق دو جملے تحریر کیجیے۔
- (iii) How many graves were dug for Mansoor? (iii) منصور کے لیے کتنی قبریں حودی گئیں؟
- (iv) Who was Eisa bin Moosa? (iv) عیسیٰ بن موسیٰ کون تھا؟
- (v) Write names of any two ministers of As-Saffah. (v) السفاح کے کوئی سے دو وزراء کے نام لکھیے۔
- (vi) Where is Hashmiya? (vi) ہاشمیہ کہاں ہے؟
- (vii) Who was the first Abbasside caliph? (vii) پہلا عباسی خلیفہ کون تھا؟
- (viii) Who was Marajal? (viii) مراجل کون تھی؟
- (ix) How did Abul Abbaas treat with Ummiyads? (ix) ابو العباس نے امویوں سے کیا سلوک کیا؟
- (x) The first observatory was constructed during the reign of Mamoon. Describe its objects. (x) پہلی رصد گاہ مامون کے دور میں تعمیر ہوئی۔ اس کے مقاصد بیان کیجیے۔
- (xi) Write the names of last two caliphs of Abbasside dynasty. (xi) عباسی خاندان کے آخری دو خلفاء کے نام تحریر کیجیے۔
- (xii) Artificial moon rising from a well, who was its inventor? (xii) کنویں سے مصنوعی چاند نکلتا تھا۔ کس نے ایجاد کیا؟

3. Attempt any eight parts.

16 = 2 x 8

سوال نمبر 3- کوئی سے آٹھ اجزاء کے جوابات تحریر کیجیے۔

- (i) What was the real name of Queen Zubaidah? (i) ملکہ زبیدہ کا اصل نام کیا تھا؟
- (ii) Write the names of any two sons of Yahya Barmaki. (ii) یحییٰ برمکی کے کوئی سے دو فرزندوں کے نام لکھیے۔
- (iii) What is meant by Saamra? (iii) سامرا سے کیا مراد ہے؟
- (iv) What is meant by Shab-i-Khulfa? (iv) شبِ خلفاء سے کیا مراد ہے؟
- (v) Who was Ibrahim Moosli? (v) ابراہیم موسلی کون تھا؟
- (vi) Write the names of two wives of Mehdi. (vi) مہدی کی دو بیویوں کے نام لکھیے۔
- (vii) How long Mamoon ruled over? (vii) مامون نے کتنے برس حکومت کی؟
- (viii) How Afsheen Haider died? (viii) افسہین حیدر کیسے فوت ہوا؟
- (ix) Who were Zat? (ix) زط کون تھے؟
- (x) What was Mamoon's behaviour toward non-muslims? (x) مامون کا غیر مسلموں سے رویہ کیسا تھا؟
- (xi) Who were Karamtah? (xi) قرامطہ کون تھے؟
- (xii) Who was Ahmad-bin Hanbal? (xii) احمد بن حنبل کون تھے؟

(ورق الٹئے)

(2)

4. Attempt any nine parts.

18 = 2 x 9

- (i) What role did Turks play in the downfall of Abbasside Caliphate?
- (ii) Who were All-i-Hamdan?
- (iii) Write the impacts of crusades on the Muslim culture in few words.
- (iv) Who abolished the Abbasside Government?
- (v) Give two causes for destruction of Baghdad.
- (vi) Write the names of two books of Saha-i-Sitta.
- (vii) Who was the last Ummiyad caliph?
- (viii) Who was the last Abbaside caliph?
- (ix) What was the name of Salah-ud-Din Ayubi's father?
- (x) Who wrote the famous book Ghuniat-ul-Talbeen?
- (xi) Where and by whom Fatmide government was established?
- (xii) Briefly introduce Hassan bin Sabah.
- (xiii) In how many parts Mamoon's reign is divided?

سوال نمبر 4۔ کوئی سے نو اجزاء کے جوابات تحریر کیجیے۔

- (i) خلافت عباسیہ کے زوال میں ترکوں نے کیا کردار ادا کیا؟
- (ii) آل حمدان کون تھے؟
- (iii) مسلم ثقافت پر صلیبی جنگوں کے اثرات چند الفاظ میں تحریر کیجیے۔
- (iv) عباسی حکومت کا خاتمہ کس نے کیا؟
- (v) بغداد کی تباہی کی دو وجوہات لکھیے۔
- (vi) صحاح ستہ کی دو کتابوں کے نام تحریر کیجیے۔
- (vii) آخر اموی خلیفہ کون تھا؟
- (viii) آخری عباسی خلیفہ کون تھا؟
- (ix) صلاح الدین ایوبی کے والد کا کیا نام تھا؟
- (x) مشہور کتاب غنیۃ الطالبین کس کی تصنیف ہے؟
- (xi) کس نے اور کہاں فاطمی حکومت قائم کی؟
- (xii) حسن بن صباح کا مختصر تعارف تحریر کیجیے۔
- (xiii) مامون کے دور کو کتنے حصوں میں تقسیم کیا جاتا ہے؟

SECTION-II حصہ دوم

NOTE: - Attempt any three questions.

30 = 10 x 3

نوٹ۔ کوئی سے تین سوالات کے جوابات تحریر کیجیے۔

5. Narrate those reforms for which Haroon-ur-Rashid's reign is considered as the golden period. -5
اُن اصلاحات کو بیان کیجیے جن کی وجہ سے ہارون الرشید کے دور کو سنہری زمانہ کہا جاتا ہے۔
6. Who were Barmakas? What were causes of their downfall. -6
برآمدکون تھے؟ ان کے زوال کے اسباب بیان کیجیے۔
7. Describe the causes of Tragedy of Baghdad. -7
سابقہ بغداد کے اسباب بیان کیجیے۔
8. Write a note on the war of succession fought between Amin and Mamoon. -8
امین اور مامون کے درمیان لڑی گئی جنگ تخت نشینی پر ایک نوٹ تحریر کیجیے۔
9. Write short note on:- -9
مختصر نوٹ تحریر کیجیے۔
(i) Hazrat Abdul Qadir Jilani(RA) حضرت عبدالقادر جیلانیؒ
(ii) Imam Muhammad Nafs-i-Zakiya(RA) امام محمد نفس زکیہؒ

Paper Code

2018 (S)

Number: 4071

انٹرمیڈیٹ امتحان پارٹ - II (کلاس بارہویں)

HISTORY OF ISLAM (ABBASIDS OF BAGHDAD)

تاریخ اسلام (عباسی آف بغداد)

PAPER-II (Option-i)

پرچہ - دوسرا (آپشن i)

TIME ALLOWED: 30 Minutes

OBJECTIVE حصہ معروضی

وقت = 30 منٹ

MAXIMUM MARKS: 20

کل نمبر = 20

نوٹ۔ ہر سوال کے چار ممکنہ جوابات A، B، C اور D دیئے گئے ہیں۔ جوابی کاپی پر ہر سوال کے سامنے دیئے گئے دائروں میں سے درست جواب کے مطابق متعلقہ دائرہ کو مارکر یا پین سے بھر دیجئے۔ ایک سے زیادہ دائروں کو بھر کرنا یا کٹ کر پڑھنے کی صورت میں مذکورہ جواب غلط تصور ہوگا۔ دائروں کو پڑھنے کرنے کی صورت میں کوئی نمبر نہیں دیا جائے گا۔ اس سوالیہ پرچہ پر

Note: you have four choices for each objective type question as A, B, C and D. The choice which you think is correct, fill that bubble in front of that question number. On bubble sheet, use marker or pen to fill the bubbles. Cutting or filling two or more bubbles will result in zero mark in that question. Attempt as many questions as given in objective type question paper and leave others blank. No credit will be awarded in case BUBBLES are not filled. Do not solve questions on this sheet of OBJECTIVE PAPER.

Q.No.1

سوال نمبر 1-

- (1) Abbassides were descendant of:- (A) Hazrat Abbas(R.A) کی حضرت عباسؓ (1) عباسی اولاد تھے۔
- (B) Hazrat Ali(R.A) کی حضرت علیؓ (C) Hazrat Usman(R.A) کی حضرت عثمانؓ (D) Hazrat Umar Farooq(R.A) کی حضرت عمر فاروقؓ (2) حضرت عمر فاروقؓ کی Hazrat Umar Farooq(R.A) کی حضرت عثمانؓ کی Hazrat Usman(R.A) کی حضرت علیؓ کی Hazrat Ali(R.A) کی
- (2) The colour of Abbaside's flag Zil was:- (A) White سفید (B) Red سرخ (C) Black کالا (D) Blue نیلا (2) عباسی پرچم کا رنگ تھا۔
- (3) Saffah means:- (A) Beautiful خوبصورت (B) Tall دراز قد (C) Bloody سفاک (D) Black کالا (3) سفاک کا مطلب ہے۔
- (4) Abu Jaffer Mansoor died in:- (A) 158 A.H 158 ہجری میں (B) 155 A.H 155 ہجری میں (C) 157 A.H 157 ہجری میں (D) 168 A.H 168 ہجری میں (4) ابو جعفر منصور فوت ہوا۔
- (5) Ummayyad's last governor of Khurasan was:- (A) Hajaj حجاج (B) Musa موسیٰ (C) Nasr bin Sayyar نصر بن سيار (D) Abdullah عبد اللہ (5) خراسان میں آخری اموی گورنر تھا۔
- (6) The mother of Amin was:- (A) Kheezran خیزران (B) Reeta ریٹہ (C) Zubaidah زبیدہ (D) Marajal مراجل (6) امین کی ماں تھی۔
- (7) The real founder of Abbaside caliphate was:- (A) Alsaffah السفاک (B) Almansoor المنصور (C) Haroon ہارون (D) Mamoon مامون (7) خلافت عباسیہ کا حقیقی بانی تھا۔
- (8) The relation between Mehdi and Mansoor was:- (A) Grand father دادا (B) Nephew بھتیجا (C) Son بیٹا (D) Friend دوست (8) مہدی اور منصور کے درمیان رشتہ تھا۔
- (9) The minister of Mamoon was:- (A) Fazal bin Rabee فضل بن ربيع (B) Fazal bin Sahl فضل بن سهل (C) Tahir طاہر (D) Harisma ہرثمہ (9) مامون کا وزیر تھا۔
- (10) The name of Haroon-ur-Rashid's tutor was:- (A) Khalid Barmaki خالد برمکی (B) Fazal Barmaki فضل برمکی (C) Yahya Barmaki یحییٰ برمکی (D) Jaffer Barmaki جعفر برمکی (10) ہارون الرشید کے تالیق کا نام تھا۔
- (11) Caliph Mamoon was buried in:- (A) Toos طوس (B) Turtoos طرطوس (C) Khurasan خراسان (D) Kufa کوفہ (11) خلیفہ مامون دفن ہوئے۔
- (12) Moota was written by:- (A) Imam Muslim(RA) امام مسلمؒ کی (B) Imam Maalik(RA) امام مالکؒ کی (C) Imam Bukhari(RA) امام بخاریؒ کی (D) Imam Shaafi(RA) امام شافعیؒ کی (12) مؤطا تصنیف ہے۔
- (13) Nauman bin Sabit was the real name of:- (A) Imam Ismail(RA) امام اسماعیلؒ کا (B) Imam Abu Hanifa(RA) امام ابوحنیفہؒ کا (C) Imam Maalik(RA) امام مالکؒ کا (D) Imam Muhammad(RA) امام محمدؒ کا (13) نعمان بن ثابت، اصل نام تھا۔
- (14) Ibn-i-Muqana declared himself to be a:- (A) Prophet پیغمبر ہونے کا (B) Caliph خلیفہ ہونے کا (C) Mehdi مہدی ہونے کا (D) God خدا ہونے کا (14) ابن مقلع نے اپنے لئے دعویٰ کیا۔
- (15) The fall of Baghdad took place by:- (A) Changez Khan چنگیز خان (B) Mangoo Khan منگوخان (C) Halakoo Khan ہلاکوخان (D) Tughral Khan طغرل خان (15) سقوط بغداد کے ہاتھوں ہوا۔
- (16) The book of Imam Ghazalli(RA) was:- (A) Kitab-ul-Khiraj کتاب الخراج (B) Fatooh-ul- Baldan فتوح البلدان (C) Sahih Bukhari صحیح بخاری (D) Ehyae-ul-Uloom احیاء العلوم (16) امام غزالیؒ کی کتاب تھی۔
- (17) Diwan-ul-Shurta was:- (A) Police پولیس (B) Army فوج (C) Postal service پوسٹل سروس (D) Judiciary عدلیہ (17) دیوان الشریعہ تھی۔
- (18) The name of secret centre of Abasid Movement was:- (A) Kufa کوفہ (B) Basra بصرہ (C) Hameemiya حمیمیہ (D) Baghdad بغداد (18) تحریک عباسیہ کے خفیہ مرکز کا نام تھا۔
- (19) The leader of Abbasside movement was:- (A) Muhammad bin Ali محمد بن علی (B) Saffah سفاک (C) Mansoor منصور (D) Haroon ہارون (19) تحریک عباسیہ کے قائد کا نام تھا۔
- (20) Shiekh Abdul Qadir Jilani(RA) is descendant of:- (A) Hazrat Imam Hassan(R.A) کی حضرت امام حسنؓ (B) Hazrat Imam Hussain(R.A) کی حضرت امام حسینؓ (C) Hazrat Umar(R.A) کی حضرت عمرؓ (D) Hazrat Usman(R.A) کی حضرت عثمانؓ (20) شیخ عبدالقادر جیلانیؒ اولاد ہیں۔

Paper Code

2018 (S)

Number: 4073

انٹرمیڈیٹ امتحان پارٹ - II (کلاس بارہویں)

HISTORY OF ISLAM (ABBASIDS OF BAGHDAD)

تاریخ اسلام (عباسی آف بغداد)

PAPER-II (Option i)

پرچہ - دوسرا (آپشن i)

TIME ALLOWED: 30 Minutes

OBJECTIVE حصہ معروضی

وقت = 30 منٹ

MAXIMUM MARKS: 20

کل نمبر = 20

نوٹ۔ ہر سوال کے چار ممکنہ جوابات A, B, C اور D دیئے گئے ہیں۔ جوابی کاپی پر ہر سوال کے سامنے دیئے گئے دائروں میں سے درست جواب کے مطابق متعلقہ دائرہ کو مار کر یا پین سے پھر

دیکھئے۔ ایک سے زیادہ دائروں کو گھرنے یا کاٹ کر پھرنے کی صورت میں مذکورہ جواب غلط تصور ہوگا۔ دائروں کو پھرنے کی صورت میں کوئی نمبر نہیں دیا جائے گا۔ اس سوال پرچہ پر سوالات ہرگز عمل نہ کریں۔

Note: you have four choices for each objective type question as A, B, C and D. The choice which you think is correct, fill that bubble in front of that question number. On bubble sheet, use marker or pen to fill the bubbles. Cutting or filling two or more bubbles will result in zero mark in that question. Attempt as many questions as given in objective type question paper and leave others blank. No credit will be awarded in case BUBBLES are not filled. Do not solve questions on this sheet of OBJECTIVE PAPER.

Q.No.1

سوال نمبر 1-

- (1) Caliph Mamoon was buried in:-
 (A) Toos طوس (B) Turtoos طرطوس (C) Khurasan خراسان (D) Kufa کوفہ
 (1) خلیفہ مامون دفن ہوئے۔
- (2) Moota was written by:-
 (A) Imam Muslim (RA) امام مسلمؒ کی (B) Imam Malik (RA) امام مالکؒ کی (C) Imam Bukhari (RA) امام بخاریؒ کی (D) Imam Shaafi (RA) امام شافعیؒ کی
 (2) مؤطا تصنیف ہے۔
- (3) Nauman bin Sabit was the real name of:-
 (A) Imam Ismail (RA) امام اسماعیلؒ کا (B) Imam Abu Hanifa (RA) امام ابوحنیفہؒ کا (C) Imam Malik (RA) امام مالکؒ کا (D) Imam Muhammad (RA) امام محمدؒ کا
 (3) نعمان بن ثابت، اصل نام تھا۔
- (4) Ibn-i-Muqana declared himself to be a:-
 (A) Prophet خدا ہونے کا (B) Caliph خلیفہ ہونے کا (C) Mehdi مہدی ہونے کا (D) God خدا ہونے کا
 (4) ابن مقفع نے اپنے لئے دعویٰ کیا۔
- (5) The fall of Baghdad took place by:-
 (A) Changez Khan چنگیز خان (B) Mangoo Khan منگوخان (C) Halakoo Khan ہلاکوخان (D) Tughral Khan تغرل خان
 (5) سقوط بغداد کے ہاتھوں ہوا۔
- (6) The book of Imam Ghazalli (RA) was:-
 (A) Kitab-ul-Khiraaj کتاب الخراج (B) Fatooh-ul-Baldan فتوح البلدان (C) Sahih Bukhari صحیح بخاری (D) Ehyae-ul-Uloom احیاء العلوم
 (6) امام غزالی کی کتاب تھی۔
- (7) Diwan-ul-Shurta was:-
 (A) Police پولیس (B) Army فوج (C) Postal service محکمہ ڈاک (D) Judiciary عدلیہ
 (7) دیوان الشتر تھی۔
- (8) The name of secret centre of Abbasid Movement was:-
 (A) Kufa کوفہ (B) Basra بصرہ (C) Hameemiya حمیمیہ (D) Baghdad بغداد
 (8) تحریک عباسیہ کے خفیہ مرکز کا نام تھا۔
- (9) The leader of Abbasside movement was:-
 (A) Muhammad bin Ali محمد بن علی (B) Saffah سفاح (C) Mansoor منصور (D) Haroon ہارون
 (9) تحریک عباسیہ کے قائد کا نام تھا۔
- (10) Shiekh Abdul Qadir Jilani (RA) is descendant of:-
 (A) Hazrat Imam Hassan (R.A) حضرت امام حسنؑ کی (B) Hazrat Imam Hussain (R.A) حضرت امام حسینؑ کی (C) Hazrat Umar (R.A) حضرت عمرؑ کی (D) Hazrat Usman (R.A) حضرت عثمانؑ کی
 (10) شیخ عبدالقادر جیلانیؒ اولاد ہیں۔
- (11) Abbassides were descendant of:-
 (A) Hazrat Abbas (R.A) حضرت عباسؑ کی (B) Hazrat Ali (R.A) حضرت علیؑ کی (C) Hazrat Usman (R.A) حضرت عثمانؑ کی (D) Hazrat Umar Farooq (R.A) حضرت عمر فاروقؑ کی
 (11) عباسی اولاد تھے۔
- (12) The colour of Abbaside's flag Zil was:-
 (A) White سفید (B) Red سرخ (C) Black کالا (D) Blue نیلا
 (12) عباسی پرچم کا رنگ تھا۔
- (13) Saffah means:-
 (A) Beautiful خوبصورت (B) Tall دراز قد (C) Bloody سفاک (D) Black کالا
 (13) سفاح کا مطلب ہے۔
- (14) Abu Jaffer Mansoor died in:-
 (A) 158 A.H 158 ہجری میں (B) 155 A.H 155 ہجری میں (C) 157 A.H 157 ہجری میں (D) 168 A.H 168 ہجری میں
 (14) ابو جعفر منصور فوت ہوا۔
- (15) Ummayyad's last governor of Khurasan was:-
 (A) Hajaj حجاج (B) Musa موسیٰ (C) Nasr bin Sayyar نصر بن سیار (D) Abdullah عبداللہ
 (15) خراسان میں آخری اموی گورنر تھا۔
- (16) The mother of Amin was:-
 (A) Kheezran خیزران (B) Reeta ریطہ (C) Zubaidah زبیدہ (D) Marajal مراجل
 (16) امین کی ماں تھی۔
- (17) The real founder of Abbaside caliphate was:-
 (A) Alsaffah السفاح (B) Almansoor المنصور (C) Haroon ہارون (D) Mamoon مامون
 (17) خلافت عباسیہ کا حقیقی بانی تھا۔
- (18) The relation between Mehdi and Mansoor was:-
 (A) Grand father دادا (B) Nephew بھتیجا (C) Son بیٹا (D) Friend دوست
 (18) مہدی اور منصور کے درمیان رشتہ تھا۔
- (19) The minister of Mamoon was:-
 (A) Fazal bin Rabee فضل بن ربیع (B) Fazal bin Sahl فضل بن سہل (C) Tahir طاہر (D) Harisma ہرثمہ
 (19) مامون کا وزیر تھا۔
- (20) The name of Haroon-ur-Rashid's tutor was:-
 (A) Khalid Barmaki خالد برمکی (B) Fazal Barmaki فضل برمکی (C) Yahya Barmaki یحییٰ برمکی (D) Jaffer Barmaki جعفر برمکی
 (20) ہارون الرشید کے اتالیق کا نام تھا۔

HISTORY OF ISLAM (ABBASIDS OF BAGHDAD)

تاریخ اسلام (عباسی آف بغداد)

PAPER-II (Option-i)

پرچہ - دوسرا (آپشن i)

TIME ALLOWED: 30 Minutes

OBJECTIVE حصہ معروضی

وقت = 30 منٹ

MAXIMUM MARKS: 20

کل نمبر = 20

نوٹ - ہر سوال کے چار ممکنہ جوابات A، B، C اور D دیئے گئے ہیں۔ جوابی کارڈ پر ہر سوال کے سامنے دیئے گئے دائروں میں سے درست جواب کے مطابق متعلقہ دائرہ کو مار کر یا پین سے بھر

دیجئے۔ ایک سے زیادہ دائروں کو بھر کر یا کٹ کر پُر کرنے کی صورت میں مذکورہ جواب غلط تصور ہوگا۔ دائروں کو پُر نہ کرنے کی صورت میں کوئی نمبر نہیں دیا جائے گا۔ اس سوالیہ پرچہ پر

Note: you have four choices for each objective type question as A, B, C and D. The choice which you think is correct, fill that bubble in front of that question number. On bubble sheet, use marker or pen to fill the bubbles. Cutting or filling two or more bubbles will result in zero mark in that question. Attempt as many questions as given in objective type question paper and leave others blank. No credit will be awarded in case BUBBLES are not filled. Do not solve questions on this sheet of OBJECTIVE PAPER.

Q.No.1

سوال نمبر 1-

- (1) The book of Imam Ghazali(RA) was:- (A) Kitab-ul-Khiraj کتاب الخراج کی کتاب تھی۔ (1)
(B) Fatooh-ul- Baldan فتوح البلدان (C) Sahih Bukhari صحیح بخاری (D) Ehyae-ul-Uloom احیائے العلوم
- (2) Diwan-ul-Shurta was:- (A) Police پولیس (B) Army فوج (C) Postal service محکمہ ڈاک (D) Judiciary عدلیہ (2)
(A) Police پولیس (B) Army فوج (C) Postal service محکمہ ڈاک (D) Judiciary عدلیہ
- (3) The name of secret centre of Abbasid Movement was:- (A) Kufa کوفہ (B) Basra بصرہ (C) Hameemiya حمیمیہ (D) Baghdad بغداد (3)
(A) Kufa کوفہ (B) Basra بصرہ (C) Hameemiya حمیمیہ (D) Baghdad بغداد
- (4) The leader of Abbasside movement was:- (A) Muhammad bin Ali محمد بن علی (B) Saffah سفاح (C) Mansoor منصور (D) Haroon ہارون (4)
(A) Muhammad bin Ali محمد بن علی (B) Saffah سفاح (C) Mansoor منصور (D) Haroon ہارون
- (5) Shiekh Abdul Qadir Jilani(RA) is descendant of:- (A) Hazrat Imam Hassan(R.A) کی حضرت امام حسنؑ (B) Hazrat Imam Hussain(R.A) کی حضرت امام حسینؑ (5)
(A) Hazrat Imam Hassan(R.A) کی حضرت امام حسنؑ (B) Hazrat Imam Hussain(R.A) کی حضرت امام حسینؑ (C) Hazrat Umar(R.A) کی حضرت عثمانؑ (D) Hazrat Usman(R.A) کی حضرت عثمانؑ
- (6) Abbassides were descendant of:- (A) Hazrat Abbas(R.A) کی حضرت عباسؑ (B) Hazrat Ali(R.A) کی حضرت علیؑ (C) Hazrat Usman(R.A) کی حضرت عثمانؑ (D) Hazrat Umar Farooq(R.A) کی حضرت عمر فاروقؑ (6)
(A) Hazrat Abbas(R.A) کی حضرت عباسؑ (B) Hazrat Ali(R.A) کی حضرت علیؑ (C) Hazrat Usman(R.A) کی حضرت عثمانؑ (D) Hazrat Umar Farooq(R.A) کی حضرت عمر فاروقؑ
- (7) The colour of Abbaside's flag Zil was:- (A) White سفید (B) Red سرخ (C) Black کالا (D) Blue نیلا (7)
(A) White سفید (B) Red سرخ (C) Black کالا (D) Blue نیلا
- (8) Saffah means:- (A) Beautiful خوبصورت (B) Tall دراز قد (C) Bloody سفاک (D) Black کالا (8)
(A) Beautiful خوبصورت (B) Tall دراز قد (C) Bloody سفاک (D) Black کالا
- (9) Abu Jaffer Mansoor died in:- (A) 158 A.H 158 ہجری میں (B) 155 A.H 155 ہجری میں (C) 157 A.H 157 ہجری میں (D) 168 A.H 168 ہجری میں (9)
(A) 158 A.H 158 ہجری میں (B) 155 A.H 155 ہجری میں (C) 157 A.H 157 ہجری میں (D) 168 A.H 168 ہجری میں
- (10) Ummayyad's last governor of Khurasan was:- (A) Hajaj حجاج (B) Musa موسیٰ (C) Nasr bin Sayyar نصر بن سیار (D) Abdullah عبداللہ (10)
(A) Hajaj حجاج (B) Musa موسیٰ (C) Nasr bin Sayyar نصر بن سیار (D) Abdullah عبداللہ
- (11) The mother of Amin was:- (A) Kheezran خیزران (B) Reeta ریٹہ (C) Zubaidah زبیدہ (D) Marajal مر اجل (11)
(A) Kheezran خیزران (B) Reeta ریٹہ (C) Zubaidah زبیدہ (D) Marajal مر اجل
- (12) The real founder of Abbaside caliphate was:- (A) Alsaffah السفاح (B) Almansoor المنصور (C) Haroon ہارون (D) Mamoon مامون (12)
(A) Alsaffah السفاح (B) Almansoor المنصور (C) Haroon ہارون (D) Mamoon مامون
- (13) The relation between Mehdi and Mansoor was:- (A) Grand father دادا (B) Nephew بھتیجا (C) Son بیٹا (D) Friend دوست (13)
(A) Grand father دادا (B) Nephew بھتیجا (C) Son بیٹا (D) Friend دوست
- (14) The minister of Mamoon was:- (A) Fazal bin Rabee فضل بن ربیع (B) Fazal bin Sahl فضل بن سہل (C) Tahir طاہر (D) Harisma ہرثمہ (14)
(A) Fazal bin Rabee فضل بن ربیع (B) Fazal bin Sahl فضل بن سہل (C) Tahir طاہر (D) Harisma ہرثمہ
- (15) The name of Haroon-ur-Rashid's tutor was:- (A) Khalid Barmaki خالد برکی (B) Fazal Barmaki فضل برکی (C) Yahya Barmaki یحییٰ برکی (D) Jaffer Barmaki جعفر برکی (15)
(A) Khalid Barmaki خالد برکی (B) Fazal Barmaki فضل برکی (C) Yahya Barmaki یحییٰ برکی (D) Jaffer Barmaki جعفر برکی
- (16) Caliph Mamoon was buried in:- (A) Toos طوس (B) Turtoos طرطوس (C) Khurasan خراسان (D) Kufa کوفہ (16)
(A) Toos طوس (B) Turtoos طرطوس (C) Khurasan خراسان (D) Kufa کوفہ
- (17) Moota was written by:- (A) Imam Muslim(RA) امام مسلمؑ کی (B) Imam Maalik(RA) امام مالکؑ کی (C) Imam Bukhari(RA) امام بخاریؑ کی (D) Imam Shaafi(RA) امام شافعیؑ کی (17)
(A) Imam Muslim(RA) امام مسلمؑ کی (B) Imam Maalik(RA) امام مالکؑ کی (C) Imam Bukhari(RA) امام بخاریؑ کی (D) Imam Shaafi(RA) امام شافعیؑ کی
- (18) Nauman bin Sabit was the real name of:- (A) Imam Ismail(RA) امام اسماعیلؑ کا (B) Imam Abu Hanifa(RA) امام ابوحنیفہؑ کا (C) Imam Maalik(RA) امام مالکؑ کا (D) Imam Muhammad(RA) امام محمدؑ کا (18)
(A) Imam Ismail(RA) امام اسماعیلؑ کا (B) Imam Abu Hanifa(RA) امام ابوحنیفہؑ کا (C) Imam Maalik(RA) امام مالکؑ کا (D) Imam Muhammad(RA) امام محمدؑ کا
- (19) Ibn-i-Muqana declared himself to be a:- (A) Prophet پیغمبر ہونے کا (B) Caliph خلیفہ ہونے کا (C) Mehdi مہدی ہونے کا (D) God خدا ہونے کا (19)
(A) Prophet پیغمبر ہونے کا (B) Caliph خلیفہ ہونے کا (C) Mehdi مہدی ہونے کا (D) God خدا ہونے کا
- (20) The fall of Baghdad took place by:- (A) Changez Khan چنگیز خان (B) Mangoo Khan منگوان خان (C) Halakoo Khan ہلاکوخان (D) Tughral Khan تغرل خان (20)
(A) Changez Khan چنگیز خان (B) Mangoo Khan منگوان خان (C) Halakoo Khan ہلاکوخان (D) Tughral Khan تغرل خان

Paper Code

2018 (S)

Number: 4077

انٹرمیڈیٹ امتحان پارٹ - II (کلاس بارہویں)

HISTORY OF ISLAM (ABBASIDS OF BAGHDAD)

تاریخ اسلام (عباسی آف بغداد)

PAPER-II (Option - i)

پرچہ - دوسرا (آپشن i)

TIME ALLOWED: 30 Minutes

OBJECTIVE حصہ معروضی

وقت = 30 منٹ

MAXIMUM MARKS: 20

کل نمبر = 20

نوٹ - ہر سوال کے چار ممکنہ جوابات A، B، C اور D دیئے گئے ہیں۔ جوابی کارڈ پر ہر سوال کے سامنے دیئے گئے دائروں میں سے درست جواب کے مطابق متعلقہ دائرہ کو مار کر یا پین سے بھر دیجئے۔ ایک سے زیادہ دائروں کو بھرنے یا کاٹ کر بھرنے کی صورت میں مذکورہ جواب غلط تصور ہوگا۔ دائروں کو بھرنے کی صورت میں کوئی نمبر نہیں دیا جائے گا۔ اس سوالیہ پرچہ پر سوالات ہرگز حل نہ کریں۔

Note: you have four choices for each objective type question as A, B, C and D. The choice which you think is correct, fill that bubble in front of that question number. On bubble sheet, use marker or pen to fill the bubbles. Cutting or filling two or more bubbles will result in zero mark in that question. Attempt as many questions as given in objective type question paper and leave others blank. No credit will be awarded in case BUBBLES are not filled. Do not solve questions on this sheet of OBJECTIVE PAPER.

Q.No.1

سوال نمبر 1-

- (1) The mother of Amin was:-
 (A) Kheezran خیزران (B) Reeta ریٹہ (C) Zubaidah زبیدہ (D) Marajal مراجل
 امین کی ماں تھی۔
- (2) The real founder of Abbaside caliphate was:-
 (A) Alsaffah السفاح (B) Almansoor المنصور (C) Haroon ہارون (D) Mamoon مامون
 خلافت عباسیہ کا حقیقی بانی تھا۔
- (3) The relation between Mehdi and Mansoor was:-
 (A) Grand father دادا (B) Nephew بھتیجا (C) Son بیٹا (D) Friend دوست
 مہدی اور منصور کے درمیان رشتہ تھا۔
- (4) The minister of Mamoon was:-
 (A) Fazal bin Rabee فضل بن ربیع (B) Fazal bin Sahl فضل بن سہل (C) Tahir طاہر (D) Harisma ہرشمہ
 مامون کا وزیر تھا۔
- (5) The name of Haroon-ur-Rashid's tutor was:-
 (A) Khalid Barmaki خالد برمکی (B) Fazal Barmaki فضل برمکی (C) Yahya Barmaki یحییٰ برمکی (D) Jaffer Barmaki جعفر برمکی
 ہارون الرشید کے اتالیق کا نام تھا۔
- (6) Caliph Mamoon was buried in:-
 (A) Toos طوس (B) Turtoos طرطوس (C) Khurasan خراسان (D) Kufa کوفہ
 خلیفہ مامون دفن ہوئے۔
- (7) Moota was written by:-
 (A) Imam Muslim (RA) امام مسلم (B) Imam Maalik (RA) امام مالک (C) Imam Bukhari (RA) امام بخاری (D) Imam Shaafi (RA) امام شافعی
 موطا تصنیف ہے۔
- (8) Nauman bin Sabit was the real name of:-
 (A) Imam Ismail (RA) امام اسماعیل (B) Imam Abu Hanifa (RA) امام ابوحنیفہ (C) Imam Maalik (RA) امام مالک (D) Imam Muhammad (RA) امام محمد
 نعمان بن ثابت، اصل نام تھا۔
- (9) Ibn-i-Muqana declared himself to be a:-
 (A) Prophet پیغمبر ہونے کا (B) Caliph خلیفہ ہونے کا (C) Mehdi مہدی ہونے کا (D) God خدا ہونے کا
 ابن مقفع نے اپنے لئے دعویٰ کیا۔
- (10) The fall of Baghdad took place by:-
 (A) Changez Khan چنگیز خان (B) Mangoo Khan منگو خان (C) Halakoo Khan ہلاکو خان (D) Tughral Khan تغرل خان
 سقوط بغداد کے ہاتھوں ہوا۔
- (11) The book of Imam Ghazalli (RA) was:-
 (A) Kitab-ul-Khiraj کتاب الخراج (B) Fatooh-ul-Baldan فتوح البلدان (C) Sahih Bukhari صحیح بخاری (D) Ehyae-ul-Uloom احیاء العلوم
 امام غزالی کی کتاب تھی۔
- (12) Diwan-ul-Shurta was:-
 (A) Police پولیس (B) Army فوج (C) Postal service محکمہ ڈاک (D) Judiciary عدلیہ
 دیوان الشریعہ تھی۔
- (13) The name of secret centre of Abasid Movement was:-
 (A) Kufa کوفہ (B) Basra بصرہ (C) Hameemiya حمیمیہ (D) Baghdad بغداد
 تحریک عباسیہ کے خفیہ مرکز کا نام تھا۔
- (14) The leader of Abbasside movement was:-
 (A) Muhammad bin Ali محمد بن علی (B) Saffah سفاح (C) Mansoor منصور (D) Haroon ہارون
 تحریک عباسیہ کے قائد کا نام تھا۔
- (15) Shiekh Abdul Qadir Jilani (RA) is descendant of:-
 (A) Hazrat Imam Hassan (R.A) حضرت امام حسن (B) Hazrat Imam Hussain (R.A) حضرت امام حسین (C) Hazrat Umar (R.A) حضرت عمر (D) Hazrat Usman (R.A) حضرت عثمان
 شیخ عبدالقادر جیلانی اولاد ہیں۔
- (16) Abbassides were descendant of:-
 (A) Hazrat Abbas (R.A) حضرت عباس (B) Hazrat Ali (R.A) حضرت علی (C) Hazrat Usman (R.A) حضرت عثمان (D) Hazrat Umar Farooq (R.A) حضرت عمر فاروق
 عباسی اولاد تھے۔
- (17) The colour of Abbaside's flag Zil was:-
 (A) White سفید (B) Red سرخ (C) Black کالا (D) Blue نیلا
 عباسی پرچم کا رنگ تھا۔
- (18) Saffah means:-
 (A) Beautiful خوبصورت (B) Tall دراز قد (C) Bloody سفاک (D) Black کالا
 سفاح کا مطلب ہے۔
- (19) Abu Jaffer Mansoor died in:-
 (A) 158 A.H 158 ہجری میں (B) 155 A.H 155 ہجری میں (C) 157 A.H 157 ہجری میں (D) 168 A.H 168 ہجری میں
 ابو جعفر منصور فوت ہوا۔
- (20) Ummayyad's last governor of Khurasan was:-
 (A) Hajaj حاج (B) Musa موسیٰ (C) Nasr bin Sayyar نصر بن سيار (D) Abdullah عبداللہ
 خراسان میں آخری اموی گورنر تھا۔

2018 (S)

رول نمبر

انٹرمیڈیٹ امتحان پارٹ - II (کلاس بارہویں)

HISTORY OF ISLAM (MUSLIMS IN SPAIN)

تاریخ اسلام (مسلم اسپین)

PAPER-II (Option-ii)

پرچہ - دوسرا (آپشن ii)

TIME ALLOWED: 2.30 Hours

SUBJECTIVE حصہ انشائیہ

وقت = 2.30 گھنٹے

MAXIMUM MARKS: 80

کل نمبر = 80

نوٹ: - جوابی کاپی پر وہی سوال نمبر اور جزو نمبر درج کیجیے جو کہ سوالیہ پرچے میں درج ہے۔
and its part number on answer book, as given in the question paper.

SECTION-I حصہ اول

2. Attempt any eight parts.

16 = 2 x 8

سوال نمبر 2- کوئی سے آٹھ اجزاء کے جوابات تحریر کیجیے۔

(i) What was the end of Musa bin Nusair?

(i) موسیٰ بن نصیر کا کیا انجام ہوا؟

(ii) In which continent Spain is situated?

(ii) اسپین کس براعظم میں واقع ہے؟

(iii) What was the old name of Spain?

(iii) اسپین کا پرانا نام کیا تھا؟

(iv) Who was Eologoes?

(iv) یولوجس کون تھا؟

(v) Write a short note on Tariq bin Ziyad.

(v) طارق بن زیاد پر مختصر نوٹ لکھیے۔

(vi) Write a short note on Goth.

(vi) گوتھ پر مختصر نوٹ لکھیے۔

(vii) Write a short note on Radrick.

(vii) راڈرک پر مختصر نوٹ لکھیے۔

(viii) Give two causes of the conquer of Haspania.

(viii) فتح ہسپانیہ کے دو اسباب بیان کیجیے۔

(ix) What was Godult Revolt?

(ix) معرکہ گولڈٹ کیا تھا؟

(x) What is Ifitah ul Undlus?

(x) افتتاح الاندلس کیا ہے؟

(xi) Write a short note on Masarah.

(xi) مصارہ پر مختصر نوٹ لکھیے۔

(xii) Who is Tareef bin Maalik?

(xii) طریف بن مالک کون تھا؟

3. Attempt any eight parts.

16 = 2 x 8

سوال نمبر 3- کوئی سے آٹھ اجزاء کے جوابات تحریر کیجیے۔

(i) When and where was Abdur Rehman Aldakhil born?

(i) عبدالرحمن الداخل کب اور کہاں پیدا ہوا؟

(ii) How did Abdur Rehman Aldakhil enter Spain?

(ii) عبدالرحمن الداخل اندلس میں داخل کیسے ہوا؟

(iii) For how many years did Abdur Rehman Aldakhil rule?

(iii) عبدالرحمن الداخل نے کتنے سال حکمرانی کی؟

(iv) Write a short note on Qazi.

(iv) قاضی پر مختصر نوٹ لکھیے۔

(v) Write a short note on Shah-e-France.

(v) شاہ فرانس پر مختصر نوٹ لکھیے۔

(vi) Write a short note on Cordova.

(vi) قرطبہ پر مختصر نوٹ لکھیے۔

(vii) Who was the mother of Hasham-I?

(vii) ہشام اول کی ماں کون تھی؟

(viii) At what age Hakam became ruler?

(viii) حکم جب حکمران بنا تو اس کی عمر کتنی تھی؟

(ix) What was the day of Ditch?

(ix) یوم الخندق کیا تھا؟

(x) Write a short note on Spanish March.

(x) سپینش مارچ پر مختصر نوٹ لکھیے۔

(xi) How many years Al Hakam-II ruled?

(xi) الحکم ثانی نے کتنا عرصہ حکمرانی کی؟

(xii) At what age Abdur Rehman-II became ruler?

(xii) عبدالرحمن ثانی کس عمر میں حکمران بنا؟

(ورق اللی)

30

(2)

4. Attempt any nine parts.

18 = 2 x 9

سوال نمبر 4۔ کوئی سے نو اجزا کے جوابات تحریر کیجیے۔

- | | |
|--|--|
| (i) Write a short note on Yahya bin Yahya. | (i) یحییٰ بن یحییٰ پر مختصر نوٹ لکھیے۔ |
| (ii) Who was Abdullah's mother? | (ii) عبداللہ کی ماں کون تھی؟ |
| (iii) Write a short note on Norman Looters. | (iii) نارمن قزاقوں پر مختصر نوٹ لکھیے۔ |
| (iv) Write a short note on the death of Al Manzar. | (iv) المنذر کی وفات پر مختصر نوٹ لکھیے۔ |
| (v) Write a short note on Pooiy War. | (v) جنگ پولی پر مختصر نوٹ لکھیے۔ |
| (vi) At what age Abdur Rehman Al Nasir became ruler? | (vi) عبدالرحمن الناصر کس عمر میں تخت نشین ہوا؟ |
| (vii) Write a short note on Ditch war. | (vii) جنگ خندق پر مختصر نوٹ لکھیے۔ |
| (viii) Who build the Al Zahra? | (viii) الزہرا کس نے تعمیر کیا؟ |
| (ix) Who was Al Hakam-II? | (ix) الحکم ثانی کون تھا؟ |
| (x) Who was Abu Al Fatuh? | (x) ابوالفتح کون تھا؟ |
| (xi) Who was Queen Sabeeh? | (xi) ملکہ صبیحہ کون تھی؟ |
| (xii) Write a short note on Hasham-ul-Mutamad? | (xii) ہشام المستمد پر مختصر نوٹ لکھیے۔ |
| (xiii) Write a short note on Cordova Masjid. | (xiii) مسجد قرطبہ پر مختصر نوٹ لکھیے۔ |

SECTION-II حصہ دوم

NOTE: - Attempt any three questions. 30 = 10 x 3

نوٹ۔ کوئی سے تین سوالات کے جوابات تحریر کیجیے۔

- | | |
|--|--|
| 5. Describe the political condition of the Spain at the time of Muslims attack on Spain. | 5- مسلمانوں کے حملہ پہلے کے وقت سپین کے سیاسی حالات بیان کریں۔ |
| 6. Describe the achievements of Abdur Rehman Aldakhil. | 6- عبدالرحمن الداخل کے کارہائے نمایاں بیان کیجیے۔ |
| 7. Describe the religious policy of Al Hakam-I. | 7- الحکم اول کی مذہبی پالیسی بیان کیجیے۔ |
| 8. Describe the important events of Ameer Abdullah's reign. | 8- امیر عبداللہ کے دور کے اہم واقعات بیان کیجیے۔ |
| 9. Describe the causes of the downfall of Banu Ummayyah in Spain. | 9- بنو امیہ کے سپین میں زوال کے اسباب بیان کیجیے۔ |

Paper Code

Number: 4311

انٹرمیڈیٹ امتحان پارٹ - II (کلاس بارہویں)

HISTORY OF ISLAM (MUSLIMS IN SPAIN)

تاریخ اسلام (مسلم ان سپین)

PAPER-II (Option-ii)

پرچہ - دوسرا (آپشن ii)

TIME ALLOWED: 30 Minutes

OBJECTIVE حصہ معروضی

وقت = 30 منٹ

MAXIMUM MARKS: 20

کل نمبر = 20

نوٹ - ہر سوال کے چار ممکنہ جوابات A, B, C اور D دیئے گئے ہیں۔ جوابی کاپی پر ہر سوال کے سامنے دیئے گئے دائروں میں سے درست جواب کے مطابق متعلقہ دائرہ کو مارکر یا پین سے مہر دیتے ہیں۔ ایک سے زیادہ دائروں کو پُر کرنے یا کاٹ کر پُر کرنے کی صورت میں مذکورہ جواب غلط تصور ہوگا۔ دائروں کو پُر نہ کرنے کی صورت میں کوئی نمبر نہیں دیا جائے گا۔ اس سوالیہ پرچہ پر

Note: you have four choices for each objective type question as A, B, C and D. The choice which you think is correct, fill that bubble in front of that question number. On bubble sheet, use marker or pen to fill the bubbles. Cutting or filling two or more bubbles will result in zero mark in that question. Attempt as many questions as given in objective type question paper and leave others blank. No credit will be awarded in case BUBBLES are not filled. Do not solve questions on this sheet of OBJECTIVE PAPER.

Q.No.1

سوال نمبر 1-

- (1) Spain is situated in:-
 (A) Europe یورپ میں (B) Asia ایشیا میں (C) America امریکا میں (D) Africa افریقہ میں
- (2) Musa born in:-
 (A) Syria شام میں (B) Iran ایران میں (C) Iraq عراق میں (D) Arab عرب میں
- (3) _____ was ruler in 8th century.
 (A) Goth گاتھ (B) Radrick راڈرک (C) Sharleman شارلیمان (D) Fanso فانسو
- (4) Tariq was:-
 (A) Arabi عربی (B) Afriqee افریقی (C) Barbar بربر (D) Ajmi عجمی
- (5) Battle of Guwadrut was fought in:-
 (A) 710 AD میں (B) 711 AD میں (C) 712 AD میں (D) 713 AD میں
- (6) Cordova was conquered by:-
 (A) Alla علا نے (B) Ali علی نے (C) Mughees مغیث نے (D) Idrees ادریس نے
- (7) Musa enter in Spain in:-
 (A) 711 AD میں (B) 712 AD میں (C) 713 AD میں (D) 714 AD میں
- (8) Musa was died at the age of:-
 (A) 67 years سال (B) 77 years سال (C) 78 years سال (D) 90 years سال
- (9) Attack on France in:-
 (A) 730 AD میں (B) 731 AD میں (C) 732 AD میں (D) 733 AD میں
- (10) Abdur Rehman Aldakhil was born in:-
 (A) 112 AH ہجری میں (B) 113 AH ہجری میں (C) 114 AH ہجری میں (D) 115 AH ہجری میں
- (11) Abdur Rehman Aldakhil reached at Albearah in:-
 (A) 755 AD میں (B) 754 AD میں (C) 750 AD میں (D) 753 AD میں
- (12) Abdur Rehman Aldakhil ruled:-
 (A) 30 years سال (B) 33 years سال (C) 34 years سال (D) 35 years سال
- (13) When Hasham became ruler his age was:-
 (A) 32 years سال (B) 33 years سال (C) 34 years سال (D) 35 years سال
- (14) Hasham ruled:-
 (A) 7 years سال (B) 9 years سال (C) 11 years سال (D) 12 years سال
- (15) Al Hakam became ruler at the age of:-
 (A) 19 years سال (B) 20 years سال (C) 21 years سال (D) 22 years سال
- (16) People were killed at the day of Ditch:-
 (A) 5300 (B) 5500 (C) 6000 (D) 6500
- (17) Revolt of Marwah occurred in:-
 (A) 213 AH ہجری میں (B) 223 AH ہجری میں (C) 203 AH ہجری میں (D) 204 AH ہجری میں
- (18) Muhammad-I became ruler in:-
 (A) 750 AD میں (B) 751 AD میں (C) 852 AD میں (D) 853 AD میں
- (19) Al Manzar died in:-
 (A) 666 AD میں (B) 777 AD میں (C) 888 AD میں (D) 999 AD میں
- (20) Ibne Khaldoon was:-
 (A) Poet شاعر (B) Doctor طبیب (C) Historian مؤرخ (D) Artist آرٹسٹ

HISTORY OF ISLAM (MUSLIMS IN SPAIN)

تاریخ اسلام (مسلم اسپین)

PAPER-II (Option-ii)

پرچہ - دوسرا (آپشن ii)

TIME ALLOWED: 30 Minutes

OBJECTIVE حصہ معروضی

وقت = 30 منٹ

MAXIMUM MARKS: 20

کل نمبر = 20

نوٹ:- ہر سوال کے چار ممکنہ جوابات A، B، C اور D دیئے گئے ہیں۔ جوابی کاپی پر ہر سوال کے سامنے دیئے گئے دائروں میں سے درست جواب کے مطابق متعلقہ دائرہ کو مارکر یا پین سے بھر دیجئے۔ ایک سے زیادہ دائروں کو بھر کرنے یا کاٹ کر بھر کرنے کی صورت میں مذکورہ جواب غلط تصور ہوگا۔ دائروں کو بھر نہ کرنے کی صورت میں کوئی نمبر نہیں دیا جائے گا۔ اس سوالیہ پرچہ پر سوالات ہرگز حل نہ کریں۔

Note: you have four choices for each objective type question as A, B, C and D. The choice which you think is correct, fill that bubble in front of that question number. On bubble sheet, use marker or pen to fill the bubbles. Cutting or filling two or more bubbles will result in zero mark in that question. Attempt as many questions as given in objective type question paper and leave others blank. No credit will be awarded in case BUBBLES are not filled. Do not solve questions on this sheet of OBJECTIVE PAPER.

Q.No.1

سوال نمبر 1-

- (1) People were killed at the day of Ditch:-
 (A) 5300 (B) 5500 (C) 6000 (D) 6500
 یوم الخندق میں لوگ قتل ہوئے۔ (1)
- (2) Revolt of Marwah occurred in:-
 (A) 213 AH (B) 223 AH (C) 203 AH (D) 204 AH
 ماروہ کی بغاوت ہوئی۔ (2)
- (3) Muhammad-I became ruler in:-
 (A) 750 AD (B) 751 AD (C) 852 AD (D) 853 AD
 محمد اول حکمران بنا۔ (3)
- (4) Al Manzar died in:-
 (A) 666 AD (B) 777 AD (C) 888 AD (D) 999 AD
 المنذر نے وفات پائی۔ (4)
- (5) Ibne Khaldoun was:-
 (A) Poet شاعر (B) Doctor طبیب (C) Historian مؤرخ (D) Artist آرٹسٹ
 ابن خلدون تھا۔ (5)
- (6) Spain is situated in:-
 (A) Europe یورپ میں (B) Asia ایشیا میں (C) America امریکا میں (D) Africa افریقہ میں
 اسپین واقع ہے۔ (6)
- (7) Musa born in:-
 (A) Syria شام میں (B) Iran ایران میں (C) Iraq عراق میں (D) Arab عرب میں
 موسی پیدا ہوا۔ (7)
- (8) _____ was ruler in 8th century.
 (A) Goth گوتھ (B) Radrick رادریک (C) Sharleman شارلیمان (D) Fanso فانسو
 آٹھویں صدی میں حکمران تھا۔ (8)
- (9) Tariq was:-
 (A) Arabi عربی (B) Afriquee افریقی (C) Barbar بربر (D) Ajmi عجمی
 طارق تھا۔ (9)
- (10) Battle of Guwadlut was fought in:-
 (A) 710 AD (B) 711 AD (C) 712 AD (D) 713 AD
 جنگ گواڈلٹ ہوئی۔ (10)
- (11) Cordova was conquered by:-
 (A) Alla علا نے (B) Ali علی نے (C) Mughees منگیش نے (D) Idrees ادریس نے
 قرطبہ کو فتح کیا۔ (11)
- (12) Musa enter in Spain in:-
 (A) 711 AD (B) 712 AD (C) 713 AD (D) 714 AD
 موسی اسپین میں داخل ہوا۔ (12)
- (13) Musa was died at the age of:-
 (A) 67 years سال (B) 77 years سال (C) 78 years سال (D) 90 years سال
 موسی فوت ہوا تو اس کی عمر تھی۔ (13)
- (14) Attack on France in:-
 (A) 730 AD (B) 731 AD (C) 732 AD (D) 733 AD
 فرانس پر حملہ ہوا۔ (14)
- (15) Abdur Rehman Aldakhil was born in:-
 (A) 112 AH (B) 113 AH (C) 114 AH (D) 115 AH
 عبدالرحمن الداخل پیدا ہوا۔ (15)
- (16) Abdur Rehman Aldakhil reached at Albearah in:-
 (A) 755 AD (B) 754 AD (C) 750 AD (D) 753 AD
 عبدالرحمن الداخل البیرہ پہنچا۔ (16)
- (17) Abdur Rehman Aldakhil ruled:-
 (A) 30 years سال (B) 33 years سال (C) 34 years سال (D) 35 years سال
 عبدالرحمن الداخل حکمران رہا۔ (17)
- (18) When Hasham became ruler his age was:-
 (A) 32 years سال (B) 33 years سال (C) 34 years سال (D) 35 years سال
 ہشام جب حکمران بنا تو اس کی عمر تھی۔ (18)
- (19) Hasham ruled:-
 (A) 7 years سال (B) 9 years سال (C) 11 years سال (D) 12 years سال
 ہشام حکمران رہا۔ (19)
- (20) Al Hakam became ruler at the age of:-
 (A) 19 years سال (B) 20 years سال (C) 21 years سال (D) 22 years سال
 الحکم کی عمر میں حکمران بنا۔ (20)

Paper Code

Number: 4315

انٹرمیڈیٹ امتحان پارٹ - II (کلاس بارہویں)

HISTORY OF ISLAM (MUSLIMS IN SPAIN)

تاریخ اسلام (مسلم ان سپین)

PAPER-II (Option-ii)

پرچہ - دوسرا (آپشن ii)

TIME ALLOWED: 30 Minutes

OBJECTIVE حصہ معروضی

وقت = 30 منٹ

MAXIMUM MARKS: 20

کل نمبر = 20

نوٹ - ہر سوال کے چار ممکنہ جوابات A، B، C اور D دیئے گئے ہیں۔ جوابی کاپی پر ہر سوال کے سامنے دیئے گئے دائروں میں سے درست جواب کے مطابق متعلقہ دائرہ کو مار کر یا پین سے بھر دیجئے۔ ایک سے زیادہ دائروں کو بھر کرنے یا کاٹ کر پڑ کرنے کی صورت میں مذکورہ جواب غلط تصور ہوگا۔ دائروں کو پڑ نہ کرنے کی صورت میں کوئی نمبر نہیں دیا جائے گا۔ اس سوال پرچہ پر

Note: you have four choices for each objective type question as A, B, C and D. The choice which you think is correct, fill that bubble in front of that question number. On bubble sheet, use marker or pen to fill the bubbles. Cutting or filling two or more bubbles will result in zero mark in that question. Attempt as many questions as given in objective type question paper and leave others blank. No credit will be awarded in case BUBBLES are not filled. Do not solve questions on this sheet of OBJECTIVE PAPER.

Q.No.1

سوال نمبر 1-

- (1) Cordova was conquered by:-
 (A) علاء نے (A) Alla (B) علی نے (B) Ali (C) مغیث نے (C) Mughees (D) ادریس نے (D) Idrees
- (2) Musa enter in Spain in:-
 (A) 711 AD میں (A) 711 AD (B) 712 AD میں (B) 712 AD (C) 713 AD میں (C) 713 AD (D) 714 AD میں (D) 714 AD
- (3) Musa was died at the age of:-
 (A) 67 سال (A) 67 years (B) 77 سال (B) 77 years (C) 78 سال (C) 78 years (D) 90 سال (D) 90 years
- (4) Attack on France in:-
 (A) 730 AD میں (A) 730 AD (B) 731 AD میں (B) 731 AD (C) 732 AD میں (C) 732 AD (D) 733 AD میں (D) 733 AD
- (5) Abdur Rehman Aldakhil was born in:-
 (A) 112 AH ہجری میں (A) 112 AH (B) 113 AH ہجری میں (B) 113 AH (C) 114 AH ہجری میں (C) 114 AH (D) 115 AH ہجری میں (D) 115 AH
- (6) Abdur Rehman Aldakhil reached at Albearah in:-
 (A) 755 AD میں (A) 755 AD (B) 754 AD میں (B) 754 AD (C) 750 AD میں (C) 750 AD (D) 753 AD میں (D) 753 AD
- (7) Abdur Rehman Aldakhil ruled:-
 (A) 30 سال (A) 30 years (B) 33 سال (B) 33 years (C) 34 سال (C) 34 years (D) 35 سال (D) 35 years
- (8) When Hasham became ruler his age was:-
 (A) 32 سال (A) 32 years (B) 33 سال (B) 33 years (C) 34 سال (C) 34 years (D) 35 سال (D) 35 years
- (9) Hasham ruled:-
 (A) 7 سال (A) 7 years (B) 9 سال (B) 9 years (C) 11 سال (C) 11 years (D) 12 سال (D) 12 years
- (10) Al Hakam became ruler at the age of:-
 (A) 19 سال (A) 19 years (B) 20 سال (B) 20 years (C) 21 سال (C) 21 years (D) 22 سال (D) 22 years
- (11) People were killed at the day of Ditch:-
 (A) 5300 (A) 5300 (B) 5500 (B) 5500 (C) 6000 (C) 6000 (D) 6500 (D) 6500
- (12) Revolt of Marwah occurred in:-
 (A) 213 AH ہجری میں (A) 213 AH (B) 223 AH ہجری میں (B) 223 AH (C) 203 AH ہجری میں (C) 203 AH (D) 204 AH ہجری میں (D) 204 AH
- (13) Muhammad-I became ruler in:-
 (A) 750 AD میں (A) 750 AD (B) 751 AD میں (B) 751 AD (C) 852 AD میں (C) 852 AD (D) 853 AD میں (D) 853 AD
- (14) Al Manzar died in:-
 (A) 666 AD میں (A) 666 AD (B) 777 AD میں (B) 777 AD (C) 888 AD میں (C) 888 AD (D) 999 AD میں (D) 999 AD
- (15) Ibne Khaldun was:-
 (A) شاعر (A) Poet (B) طبیب (B) Doctor (C) مؤرخ (C) Historian (D) آرٹسٹ (D) Artist
- (16) Spain is situated in:-
 (A) یورپ میں (A) Europe (B) ایشیا میں (B) Asia (C) امریکا میں (C) America (D) افریقہ میں (D) Africa
- (17) Musa born in:-
 (A) شام میں (A) Syria (B) ایران میں (B) Iran (C) عراق میں (C) Iraq (D) عرب میں (D) Arab
- (18) _____ was ruler in 8th century.
 (A) گاتھ (A) Goth (B) رڈریک (B) Radrick (C) شارلیمان (C) Sharleman (D) فانسو (D) Fanso
- (19) Tariq was:-
 (A) عربی (A) Arabi (B) افریقی (B) Afriqee (C) بربر (C) Barbar (D) عجمی (D) Ajmi
- (20) Battle of Guwadlut was fought in:-
 (A) 710 AD میں (A) 710 AD (B) 711 AD میں (B) 711 AD (C) 712 AD میں (C) 712 AD (D) 713 AD میں (D) 713 AD

Paper Code

Number: 4317

انٹرمیڈیٹ امتحان پارٹ - II (کلاس بارہویں)

HISTORY OF ISLAM (MUSLIMS IN SPAIN)

تاریخ اسلام (مسلم ان سپین)

PAPER-II (Option-ii)

پرچہ - دوسرا (آپشن ii)

TIME ALLOWED: 30 Minutes

OBJECTIVE حصہ معروضی

وقت = 30 منٹ

MAXIMUM MARKS: 20

کل نمبر = 20

نوٹ - ہر سوال کے چار ممکنہ جوابات A، B، C اور D دیئے گئے ہیں۔ جو اپنی کاپی پر ہر سوال کے سامنے دیئے گئے دائروں میں سے درست جواب کے مطابق متعلقہ دائرہ کو مار کر یا پین سے بھر دیجئے۔ ایک سے زیادہ دائروں کو بھر کرنے یا کاٹ کر پڑ کرنے کی صورت میں مذکورہ جواب غلط تصور ہوگا۔ دائروں کو پڑ نہ کرنے کی صورت میں کوئی نمبر نہیں دیا جائے گا۔ اس سوالیہ پرچہ پر سوالات ہرگز حل نہ کریں۔

Note: you have four choices for each objective type question as A, B, C and D. The choice which you think is correct, fill that bubble in front of that question number. On bubble sheet, use marker or pen to fill the bubbles. Cutting or filling two or more bubbles will result in zero mark in that question. Attempt as many questions as given in objective type question paper and leave others blank. No credit will be awarded in case BUBBLES are not filled. Do not solve questions on this sheet of OBJECTIVE PAPER.

Q.No.1

سوال نمبر 1-

- (1) Abdur Rehman Aldakhil reached at Albearah in:-
 (A) 755 AD میں (B) 754 AD میں (C) 750 AD میں (D) 753 AD میں
 عبد الرحمن الداخل البیہر پہنچا۔
- (2) Abdur Rehman Aldakhil ruled:-
 (A) 30 years سال (B) 33 years سال (C) 34 years سال (D) 35 years سال
 عبد الرحمن الداخل حکمران رہا۔
- (3) When Hasham became ruler his age was:-
 (A) 32 years سال (B) 33 years سال (C) 34 years سال (D) 35 years سال
 ہشام جب حکمران بنا تو اس کی عمر تھی۔
- (4) Hasham ruled:-
 (A) 7 years سال (B) 9 years سال (C) 11 years سال (D) 12 years سال
 ہشام حکمران رہا۔
- (5) Al Hakam became ruler at the age of:-
 (A) 19 years سال (B) 20 years سال (C) 21 years سال (D) 22 years سال
 الحکم کی عمر میں حکمران بنا۔
- (6) People were killed at the day of Ditch:-
 (A) 5300 (B) 5500 (C) 6000 (D) 6500
 یوم الخندق میں لوگ قتل ہوئے۔
- (7) Revolt of Marwah occurred in:-
 (A) 213 AH ہجری میں (B) 223 AH ہجری میں (C) 203 AH ہجری میں (D) 204 AH ہجری میں
 ماروہ کی بغاوت ہوئی۔
- (8) Muhammad-I became ruler in:-
 (A) 750 AD میں (B) 751 AD میں (C) 852 AD میں (D) 853 AD میں
 محمد اول حکمران بنا۔
- (9) Al Manzar died in:-
 (A) 666 AD میں (B) 777 AD میں (C) 888 AD میں (D) 999 AD میں
 المنذر نے وفات پائی۔
- (10) Ibne Khaldoun was:-
 (A) Poet شاعر (B) Doctor طبیب (C) Historian مؤرخ (D) Artist آرٹسٹ
 ابن خلدون تھا۔
- (11) Spain is situated in:-
 (A) Europe میں (B) Asia میں (C) America میں (D) Africa میں
 سپین واقع ہے۔
- (12) Musa born in:-
 (A) Syria میں (B) Iran میں (C) Iraq میں (D) Arab میں
 موسیٰ پیدا ہوا۔
- (13) _____ was ruler in 8th century.
 (A) Goth گاتھ (B) Radrick راڈریک (C) Sharleman شارلیمان (D) Fanso فانسو
 آٹھویں صدی میں حکمران تھا۔
- (14) Tariq was:-
 (A) Arabi عربی (B) Afriqee افریقی (C) Barbar بربر (D) Ajmi عجمی
 طارق تھا۔
- (15) Battle of Guwadrut was fought in:-
 (A) 710 AD میں (B) 711 AD میں (C) 712 AD میں (D) 713 AD میں
 جنگ گواڈرٹ ہوئی۔
- (16) Cordova was conquered by:-
 (A) Alla نے (B) Ali نے (C) Mughees نے (D) Idrees نے
 قرطبہ کو فتح کیا۔
- (17) Musa enter in Spain in:-
 (A) 711 AD میں (B) 712 AD میں (C) 713 AD میں (D) 714 AD میں
 موسیٰ سپین میں داخل ہوا۔
- (18) Musa was died at the age of:-
 (A) 67 years سال (B) 77 years سال (C) 78 years سال (D) 90 years سال
 موسیٰ فوت ہوا تو اس کی عمر تھی۔
- (19) Attack on France in:-
 (A) 730 AD میں (B) 731 AD میں (C) 732 AD میں (D) 733 AD میں
 فرانس پر حملہ ہوا۔
- (20) Abdur Rehman Aldakhil was born in:-
 (A) 112 AH ہجری میں (B) 113 AH ہجری میں (C) 114 AH ہجری میں (D) 115 AH ہجری میں
 عبد الرحمن الداخل پیدا ہوا۔

www.arifrao.com
BOARD OF INTERMEDIATE AND SECONDARY EDUCATION, MULTAN
OBJECTIVE KEY FOR INTERMEDIATE ANNUAL/SUPPLY EXAMINATION, 2018

Name of Subject: تاریخ پاکستان II
(1977-73)

Session: 2018/15

Q.Nos	Paper Code	Paper Code	Paper Code	Paper Code
	4101	4103	4105	4107
1	A	A	A	A
2	B	C	A	A
3	A	B	B	B
4	B	A	D	A
5	D	D	A	A
6	A	A	C	A
7	A	A	B	B
8	A	B	A	A
9	B	A	D	B
10	D	A	A	D
11	A	A	A	A
12	C	B	B	A
13	B	A	A	A
14	A	B	A	B
15	D	D	A	D
16	A	A	B	A
17	A	A	A	C
18	B	A	B	B
19	A	B	D	A
20	A	D	A	D

سرٹیفکیٹ بابت صحیح سوالیہ پرچہ مارکنگ Key

ہم نے مضمون تاریخ پاکستان پرچہ II دیکر گروپ سکیم انٹرمیڈیٹ امتحان 2018 کا سوالیہ پرچہ انشائیہ و معروضی (Subjective & Objective) کو بنظر عین چیک کر لیا ہے یہ پرچہ Syllabus کے عین مطابق Set کیا گیا ہے۔ اس سوالیہ پرچہ میں کسی قسم کی کوئی غلطی نہ ہے۔ ہم نے سوالیہ پرچہ کا اردو اور انگریزی Version بھی چیک کر لیا ہے۔ یہ Version آپ کے میں مطابقت رکھتے ہیں۔ نیز اس پرچہ کی معروضی (MCQs) Key کی بابت تصدیق کی جاتی ہے کہ اس میں بھی کسی قسم کی کوئی غلطی نہ ہے۔ مزید یہ کہ ہم نے Key بنانے سے متعلق دفتر کی جانب سے تیار کردہ ہدایات وصول کر کے ان کا بغور مطالعہ کر لیا ہے اور ان کی روشنی میں Key بنائی ہے۔ نیز سب ایگزامینرز کیلئے تفصیلی مارکنگ ہدایات / مارکنگ سکیم / Rubrics بھی تیار کر دی گئی ہیں۔

Prepared & Checked By:

Dated: 01-11-2018

S.#	Name	Designation	Institution	Mobile No	Signature
1	ملک محمد رحمان	ایسوسی ایٹ ڈائریکٹر	گورنمنٹ کالج رسول لائٹس ملتان	0321- 6337895	
2	محمد فرساز	اسٹنڈنگ ڈائریکٹر	گورنمنٹ ایلڈ ارسین کالج ملتان	0333- 8209561	
3					

2018 (S)

رول نمبر

انٹرمیڈیٹ امتحان پارٹ - II (کلاس بارہویں)

HISTORY OF PAKISTAN (1947-1973) PAPER-II تاریخ پاکستان (1947-1973) پرچہ - دوسرا

TIME ALLOWED: 2.30 Hours

SUBJECTIVE حصہ انشائیہ

وقت = 2.30 گھنٹے

MAXIMUM MARKS: 80

کل نمبر = 80

نوٹ - جوابی کاپی پر وہی سوال نمبر اور جزو نمبر درج کیجیے جو کہ سوالیہ پرچے میں درج ہے۔
and its part number on answer book, as given in the question paper.

SECTION-I حصہ اول

2. Attempt any eight parts.

16 = 2 x 8

سوال نمبر 2- کوئی سے آٹھ اجزاء کے جوابات تحریر کیجیے۔

- (i) Who was the Education Minister in the first Cabinet of Pakistan? پاکستان کی پہلی کابینہ میں وزیر تعلیم کون تھے؟
- (ii) When was the second report of the basic principles committee presented in the Assembly? بنیادی اصولوں کی کمیٹی کی دوسری رپورٹ کب اسمبلی میں پیش کی گئی؟
- (iii) Write down two points of Objective Resolution. قرارداد مقاصد کے دو نکات تحریر کریں۔
- (iv) When did Liaquat Ali Khan visit America? لیاقت علی خاں نے امریکا کا دورہ کب کیا؟
- (v) Write down the names of sixth and seventh Prime Ministers of Pakistan. پاکستان کے چھٹے اور ساتویں وزرائے اعظم کے نام لکھیں۔
- (vi) To which province Muhammad Ali Bogra belonged? محمد علی بوگرہ کا تعلق کس صوبے سے تھا؟
- (vii) Who was Sikander Mirza? سکندر مرزا کون تھا؟
- (viii) Which Prime Minister did remain Prime Minister for just two months? کون سا وزیر اعظم صرف دو ماہ وزیر اعظم رہا؟
- (ix) What was the Law of "PRODA"? " پروڈا " کا قانون کیا تھا؟
- (x) Define the Parliamentary System of Government. پارلیمانی نظام حکومت کی تعریف کریں۔
- (xi) Write down two causes of One Unit. وحدت مغربی پاکستان کی دو وجوہات لکھیں۔
- (xii) Who did write the National Anthem of Pakistan? پاکستانی کا قومی ترانہ کس نے لکھا؟

3. Attempt any eight parts.

16 = 2 x 8

سوال نمبر 3- کوئی سے آٹھ اجزاء کے جوابات تحریر کیجیے۔

- (i) When and in whose reign capital was changed? دارالحکومت کی تبدیلی کب اور کس کے دور میں ہوئی؟
- (ii) When and which system was introduced by Ayub Khan? ایوب خان نے کب اور کونسا نظام متعارف کروایا؟
- (iii) Write down two features of the Constitution of 1962. 1962ء کے آئین کی دو خصوصیات تحریر کیجیے۔
- (iv) What is meant by "Tashqand Announcement"? اعلان تاشقند سے کیا مراد ہے؟
- (v) What is meant by L.F.O? ایل۔ ایف۔ او سے کیا مراد ہے؟
- (vi) Write two sentences on Naheed Mirza. ناہید مرزا کے بارے میں دو جملے تحریر کیجیے۔
- (vii) When Indus Treaty was signed? سندھ طاس کا معاہدہ کب ہوا؟
- (viii) When and in whose reign "Decade of Development" was celebrated? " عشرہ ترقی " کب اور کس کے دور میں منایا گیا؟
- (ix) Which Constitution was given by the single man? کون سا آئین فرد واحد کا عطا کردہ تھا؟
- (x) Which two parties did emerge in the election of 1970? 1970 کے انتخابات میں کون سی دو پارٹیاں ابھر کر سامنے آئیں؟
- (xi) Write the names of highjackers of "Ganga" aircraft. " گنگا " طیارے کو اغوا کرنے والوں کے نام بتائیں۔
- (xii) When did Yahya Khan impose Martial Law? یحییٰ خان نے مارشل لا کب لگایا؟

(ورق الٹئے)

(2)

4. Attempt any nine parts.

18 = 2 x 9

- (i) When and how did Gawadar become the part of Pakistan?
- (ii) Who was the Army Chief in East Pakistan?
- (iii) When did Bhutto come into rule?
- (iv) In whose reign, Qaidianes were declared as minority?
- (v) When and where Second Islamic Leaders Conference was held?
- (vi) Write two sentences about the significance of Simla Pact.
- (vii) What is the core issue between India and Pakistan?
- (viii) What is boundary between Pakistan and Afghanistan called?
- (ix) Write the names of capitals of Japan and India.
- (x) What was the name of Bhutto's father?
- (xi) Write two sentences on Pak-Turkey relations.
- (xii) Write two points of 1973 Constitution.
- (xiii) Write the new name of R.C.D.

سوال نمبر 4۔ کوئی سے نواجزا کے جوابات تحریر کیجیے۔

- (i) گوادرب اور کیسے پاکستان کا حصہ بنا؟
- (ii) مشرقی پاکستان میں فوج کی قیادت کس کے پاس تھی؟
- (iii) بھٹو نے اقتدار کب سنبھالا؟
- (iv) کس کے دور میں قادیانیوں کو اقلیت قرار دیا گیا؟
- (v) دوسری اسلامی سربراہی کانفرنس کب اور کہاں منعقد ہوئی؟
- (vi) شملہ معاہدہ کی اہمیت پر دو جملے تحریر کریں۔
- (vii) بھارت اور پاکستان کا اہم ترین مسئلہ کون سا ہے؟
- (viii) پاکستان اور افغانستان کے درمیان سرحد کو کیا کہتے ہیں؟
- (ix) جاپان اور بھارت کے دارالحکومتوں کے نام لکھیے۔
- (x) بھٹو کے والد کا کیا نام تھا؟
- (xi) پاک ترکی تعلقات پر دو جملے لکھیے۔
- (xii) 1973ء کے آئین کے دو نکات تحریر کریں۔
- (xiii) آر۔سی۔ ڈی کا نیا نام لکھیے۔

SECTION-II حصہ دوم

NOTE: - Attempt any three questions.

30 = 10 x 3

نوٹ۔ کوئی سے تین سوالات کے جوابات تحریر کیجیے۔

5. How did Quaid-e-Azam overcome the initial difficulties faced by Pakistan?
6. Describe the services of Khawaja Nazimuddin as Prime Minister of Pakistan.
7. Write a note on President Ayub Khan's basic democratic system.
8. Describe any five causes of the war of 1971.
9. Analyse the agrarian reforms introduced by Zulfiqar Ali Bhutto.

- 5۔ قائد اعظم نے پاکستان کو درپیش ابتدائی مشکلات پر کیسے قابو پایا؟
- 6۔ خواجہ ناظم الدین کی بطور وزیر اعظم پاکستان خدمات بیان کیجیے۔
- 7۔ صدر ایوب کے بنیادی جمہوریت کے نظام پر نوٹ لکھیے۔
- 8۔ 1971ء کی جنگ کی کوئی سی پانچ وجوہات بیان کریں۔
- 9۔ ذوالفقار علی بھٹو کی زرعی اصلاحات کا جائزہ لیں۔

Paper Code

2018 (S)

رول نمبر

Number: 4101

انٹرمیڈیٹ امتحان پارٹ - II (کلاس بارہویں)

HISTORY OF PAKISTAN (1947-1973) PAPER-II تاریخ پاکستان (1947-1973) پرچہ - دوسرا

TIME ALLOWED: 30 Minutes

OBJECTIVE حصہ معروضی

وقت = 30 منٹ

MAXIMUM MARKS: 20

کل نمبر = 20

نوٹ - ہر سوال کے چار ممکنہ جوابات A، B، C اور D دیئے گئے ہیں۔ جوابی کارٹی پر ہر سوال کے سامنے دیئے گئے دائروں میں سے درست جواب کے مطابق متعلقہ دائرہ کو مارکر یا پین سے بھر دیجئے۔ ایک سے زیادہ دائروں کو بھر کرنے یا کاٹ کر پڑ کرنے کی صورت میں مذکورہ جواب غلط تصور ہوگا۔ دائروں کو پڑ نہ کرنے کی صورت میں کوئی نمبر نہیں دیا جائے گا۔ اس سوالیہ پرچہ پر سوالات ہرگز حل نہ کریں۔

Note: you have four choices for each objective type question as A, B, C and D. The choice which you think is correct, fill that bubble in front of that question number. On bubble sheet, use marker or pen to fill the bubbles. Cutting or filling two or more bubbles will result in zero mark in that question. Attempt as many questions as given in objective type question paper and leave others blank. No credit will be awarded in case BUBBLES are not filled. Do not solve questions on this sheet of OBJECTIVE PAPER.

Q.No.1

سوال نمبر 1-

- (1) An Oath from Quaid-e-Azam(RA) as Governor General of Pakistan was taken by:- قائد اعظم سے گورنر جنرل پاکستان کا حلف لیا۔ (A) Justice Abdul Rashid جسٹس عبدالرشید نے (B) Justice Din Muhammad جسٹس دین محمد نے (C) Justice Shabir Ahmad جسٹس شبیر احمد نے (D) Justice Rehman جسٹس رحمن نے
- (2) The first Prime Minister of Pakistan was:- پاکستان کے پہلے وزیر اعظم تھے۔ (A) Muhammad Ali Bogra محمد علی بوگرہ (B) Liaquat Ali Khan لیاقت علی خان (C) Junejo جونجو (D) Benazir Bhutto بینظیر بھٹو
- (3) The first Defence Minister of Pakistan was:- پاکستان کے پہلے وزیر دفاع تھے۔ (A) Liaquat Ali Khan لیاقت علی خان (B) Ghulam Muhammad غلام محمد (C) Sikander Mirza سکندر مرزا (D) Quaid-e-Azam قائد اعظم
- (4) The name of first Governor General of Pakistan was:- پاکستان کے پہلے گورنر جنرل کا نام تھا۔ (A) Nazimuddin ناظم الدین (B) Quaid-e-Azam قائد اعظم (C) Sikander Mirza سکندر مرزا (D) Ghulam Muhammad غلام محمد
- (5) The first president of Pakistan was:- پاکستان کے پہلے صدر تھے۔ (A) Quaid-e-Azam قائد اعظم (B) Ghulam Muhammad غلام محمد (C) Nazimuddin ناظم الدین (D) Sikander Mirza سکندر مرزا
- (6) Moody was:- موڈی تھا۔ (A) Governor of Punjab گورنر پنجاب (B) Prime Minister وزیر اعظم (C) Governor of Sindh گورنر سندھ (D) Governor of Balochistan گورنر بلوچستان
- (7) The 2nd Prime Minister of Pakistan was:- پاکستان کے دوسرے وزیر اعظم تھے۔ (A) Khawaja Nazimuddin خواجہ ناظم الدین (B) Muhammad Ali Bogra محمد علی بوگرہ (C) Suhwardi سہروردی (D) Feroz Khan فیروز خان
- (8) Objective Resolution was passed in:- قرارداد مقاصد منظور ہوئی۔ (A) 1949ء میں (B) 1950ء میں (C) 1954ء میں (D) 1952ء میں
- (9) The State Bank of Pakistan was inaugurated on:- سٹیٹ بینک آف پاکستان کا افتتاح ہوا۔ (A) 1st July 1949 یکم جولائی (B) 1st July 1948 یکم جولائی (C) 1st July 1947 یکم جولائی (D) 1st July 1940 یکم جولائی
- (10) Maulvi Tamiz-ud-Din was:- مولوی تمیز الدین تھے۔ (A) Chief Minister وزیر اعلیٰ (B) Governor گورنر (C) Prime Minister وزیر اعظم (D) Speaker سپیکر
- (11) The first Martial Law was imposed in Pakistan in:- پاکستان میں پہلا مارشل لاء لگایا گیا۔ (A) 1958ء میں (B) 1959ء میں (C) 1960ء میں (D) 1961ء میں
- (12) Zulfikar Ali Bhutto became President in:- ذوالفقار علی بھٹو صدر بنے۔ (A) 1969ء میں (B) 1970ء میں (C) 1971ء میں (D) 1972ء میں
- (13) The 2nd capital city of Pakistan is:- پاکستان کا دوسرا دارالحکومت ہے۔ (A) Karachi کراچی (B) Islamabad اسلام آباد (C) Multan ملتان (D) Lahore لاہور
- (14) Pakistan became member of U.N.O on:- پاکستان یو۔ این۔ او کا ممبر بنا۔ (A) 30 September 1947 ستمبر 30 (B) 15th August 1947 اگست 15 (C) 3rd October 1947 اکتوبر 3 (D) 30 December 1947 دسمبر 30
- (15) One-unit was abolished in:- دن - یونٹ ختم کیا گیا۔ (A) 1955ء میں (B) 1965ء میں (C) 1966ء میں (D) 1970ء میں
- (16) The Prime Minister of Pakistan in 1973 was:- 1973ء میں پاکستان کے وزیر اعظم تھے۔ (A) Zulfikar Ali Bhutto ذوالفقار علی بھٹو (B) Muhammad Ali محمد علی (C) Junejo جونجو (D) Sikander Mirza سکندر مرزا
- (17) The Tashqand Treaty was signed in:- معاہدہ تاشقند ہوا۔ (A) 1966ء میں (B) 1967ء میں (C) 1968ء میں (D) 1969ء میں
- (18) The Constitution of 1962 was abrogated in:- 1962ء کا آئین منسوخ ہوا۔ (A) 1970ء میں (B) 1969ء میں (C) 1968ء میں (D) 1967ء میں
- (19) The Constitution of 1973 was made in the reign of _____. 1973ء کا آئین _____ کے دور حکومت میں تشکیل دیا گیا۔ (A) Zulfikar Ali Bhutto ذوالفقار علی بھٹو (B) Mujeeb-ur-Rehman مجیب الرحمن (C) Zia-ul-Haq ضیاء الحق (D) Muhammad Ali محمد علی
- (20) "Friends not Master" was written by:- "فرینڈز ناٹ ماسٹر" لکھی۔ (A) Ayub Khan ایوب خان نے (B) Bogra بوگرہ نے (C) Bhutto بھٹو نے (D) Muhammad Khan محمد خان

Paper Code

2018 (S)

رول نمبر

Number: 4103

انٹرمیڈیٹ امتحان پارٹ - II (کلاس بارہویں)

HISTORY OF PAKISTAN (1947-1973) PAPER-II تاریخ پاکستان (1947-1973) پرچہ - دوسرا

TIME ALLOWED: 30 Minutes

OBJECTIVE حصہ معروضی

وقت = 30 منٹ

MAXIMUM MARKS: 20

کل نمبر = 20

نوٹ۔ ہر سوال کے چار ممکنہ جوابات A، B، C اور D دیئے گئے ہیں۔ جوابی کاپی پر ہر سوال کے سامنے دیئے گئے دائروں میں سے درست جواب کے مطابق متعلقہ دائرہ کو مار کر یا پین سے بھر دیجئے۔ ایک سے زیادہ دائروں کو بھر کر یا کاٹ کر پُر کرنے کی صورت میں مذکورہ جواب غلط تصور ہوگا۔ دائروں کو پُر نہ کرنے کی صورت میں کوئی نمبر نہیں دیا جائے گا۔ اس سوال پرچہ پر سوالات ہرگز حل نہ کریں۔

Note: you have four choices for each objective type question as A, B, C and D. The choice which you think is correct, fill that bubble in front of that question number. On bubble sheet, use marker or pen to fill the bubbles. Cutting or filling two or more bubbles will result in zero mark in that question. Attempt as many questions as given in objective type question paper and leave others blank. No credit will be awarded in case BUBBLES are not filled. Do not solve questions on this sheet of OBJECTIVE PAPER.

Q.No.1

سوال نمبر 1-

- (1) The first Martial Law was imposed in Pakistan in:- پاکستان میں پہلا مارشل لاء لگایا گیا۔ (1)
- (A) 1958ء میں (B) 1959ء میں (C) 1960ء میں (D) 1961ء میں
- (2) Zulfikar Ali Bhutto became President in:- ذوالفقار علی بھٹو صدر بنے۔ (2)
- (A) 1969ء میں (B) 1970ء میں (C) 1971ء میں (D) 1972ء میں
- (3) The 2nd capital city of Pakistan is:- پاکستان کا دوسرا دارالخلافہ ہے۔ (3)
- (A) Karachi کراچی (B) Islamabad اسلام آباد (C) Multan ملتان (D) Lahore لاہور
- (4) Pakistan became member of U.N.O on:- پاکستان یو این او کا ممبر بنا۔ (4)
- (A) 30 September 1947 30 ستمبر (B) 15th August 1947 15 اگست (C) 3rd October 1947 3 اکتوبر (D) 30 December 1947 30 دسمبر
- (5) One-unit was abolished in:- دن۔ یونٹ ختم کیا گیا۔ (5)
- (A) 1955ء میں (B) 1965ء میں (C) 1966ء میں (D) 1970ء میں
- (6) The Prime Minister of Pakistan in 1973 was:- 1973ء میں پاکستان کے وزیر اعظم تھے۔ (6)
- (A) Zulfikar Ali Bhutto ذوالفقار علی بھٹو (B) Muhammad Ali Jinnah محمد علی جناح (C) Junejo جونجو (D) Sikander Mirza سکندر مرزا
- (7) The Tashqand Treaty was signed in:- معاہدہ تاشقند ہوا۔ (7)
- (A) 1966ء میں (B) 1967ء میں (C) 1968ء میں (D) 1969ء میں
- (8) The Constitution of 1962 was abrogated in:- 1962ء کا آئین منسوخ ہوا۔ (8)
- (A) 1970ء میں (B) 1969ء میں (C) 1968ء میں (D) 1967ء میں
- (9) The Constitution of 1973 was made in the reign of _____ 1973ء کا آئین _____ کے دور حکومت میں تشکیل دیا گیا۔ (9)
- (A) Zulfikar Ali Bhutto ذوالفقار علی بھٹو (B) Mujeeb-ur-Rehman مجیب الرحمن (C) Zia-ul-Haq ضیاء الحق (D) Muhammad Ali Jinnah محمد علی جناح
- (10) "Friends not Master" was written by:- "فرینڈز ناٹ ماسٹر" لکھی۔ (10)
- (A) Ayub Khan ایوب خاں نے (B) Bogra بوگرہ نے (C) Bhutto بھٹو نے (D) Muhammad Khan محمد خاں
- (11) An Oath from Quaid-e-Azam(RA) as Governor General of Pakistan was taken by:- قائد اعظم سے گورنر جنرل پاکستان کا حلف لیا۔ (11)
- (A) Justice Abdul Rashid جسٹس عبدالرشید نے (B) Justice Din Muhammad جسٹس دین محمد نے (C) Justice Shabir Ahmad جسٹس شبیر احمد نے (D) Justice Rehman جسٹس رحمن نے
- (12) The first Prime Minister of Pakistan was:- پاکستان کے پہلے وزیر اعظم تھے۔ (12)
- (A) Muhammad Ali Bogra محمد علی بوگرہ (B) Liaquat Ali Khan لیاقت علی خان (C) Junejo جونجو (D) Benazir Bhutto بینظیر بھٹو
- (13) The first Defence Minister of Pakistan was:- پاکستان کے پہلے وزیر دفاع تھے۔ (13)
- (A) Liaquat Ali Khan لیاقت علی خان (B) Ghulam Muhammad غلام محمد (C) Sikander Mirza سکندر مرزا (D) Quaid-e-Azam قائد اعظم
- (14) The name of first Governor General of Pakistan was:- پاکستان کے پہلے گورنر جنرل کا نام تھا۔ (14)
- (A) Nazimuddin ناظم الدین (B) Quaid-e-Azam قائد اعظم (C) Sikander Mirza سکندر مرزا (D) Ghulam Muhammad غلام محمد
- (15) The first president of Pakistan was:- پاکستان کے پہلے صدر تھے۔ (15)
- (A) Quaid-e-Azam قائد اعظم (B) Ghulam Muhammad غلام محمد (C) Nazimuddin ناظم الدین (D) Sikander Mirza سکندر مرزا
- (16) Moody was:- موڈی تھا۔ (16)
- (A) Governor of Punjab گورنر پنجاب (B) Prime Minister وزیر اعظم (C) Governor of Sindh گورنر سندھ (D) Governor of Balochistan گورنر بلوچستان
- (17) The 2nd Prime Minister of Pakistan was:- پاکستان کے دوسرے وزیر اعظم تھے۔ (17)
- (A) Khawaja Nazimuddin خواجہ ناظم الدین (B) Muhammad Ali Bogra محمد علی بوگرہ (C) Suhrawardi سہروردی (D) Feroz Khan فیروز خاں
- (18) Objective Resolution was passed in:- قرارداد مقاصد منظور ہوئی۔ (18)
- (A) 1949ء میں (B) 1950ء میں (C) 1954ء میں (D) 1952ء میں
- (19) The State Bank of Pakistan was inaugurated on:- سٹیٹ بینک آف پاکستان کا افتتاح ہوا۔ (19)
- (A) 1st July 1949 یکم جولائی (B) 1st July 1948 یکم جولائی (C) 1st July 1947 یکم جولائی (D) 1st July 1940 یکم جولائی
- (20) Maulvi Tamiz-ud-Din was:- مولوی تمیز الدین تھے۔ (20)
- (A) Chief Minister وزیر اعلیٰ (B) Governor گورنر (C) Prime Minister وزیر اعظم (D) Speaker سپیکر

Paper Code

Number: 4105

2018 (S)

انٹرمیڈیٹ امتحان پارٹ - II (کلاس بارہویں)

رول نمبر

HISTORY OF PAKISTAN (1947-1973) PAPER-II تاریخ پاکستان (1947-1973) پرچہ - دوسرا

TIME ALLOWED: 30 Minutes

OBJECTIVE حصہ معروضی

وقت = 30 منٹ

MAXIMUM MARKS: 20

کل نمبر = 20

نوٹ۔ ہر سوال کے چار ممکنہ جوابات A، B، C اور D دیئے گئے ہیں۔ جوابی کا پی پر ہر سوال کے سامنے دیئے گئے دائروں میں سے درست جواب کے مطابق متعلقہ دائرہ کو مار کر یا پین سے بھر دیجئے۔ ایک سے زیادہ دائروں کو بھر کر یا کاٹ کر پُر کرنے کی صورت میں مذکورہ جواب غلط تصور ہوگا۔ دائروں کو پُر نہ کرنے کی صورت میں کوئی نمبر نہیں دیا جائے گا۔ اس سوالیہ پرچہ پر

Note: you have four choices for each objective type question as A, B, C and D. The choice which you think is correct, fill that bubble in front of that question number. On bubble sheet, use marker or pen to fill the bubbles. Cutting or filling two or more bubbles will result in zero mark in that question. Attempt as many questions as given in objective type question paper and leave others blank. No credit will be awarded in case BUBBLES are not filled. Do not solve questions on this sheet of OBJECTIVE PAPER.

Q.No.1

سوال نمبر 1-

- (1) The 2nd Prime Minister of Pakistan was:- (A) Khawaja Nazimuddin خواجہ ناظم الدین (B) Muhammad Ali Bogra محمد علی بوگرہ (C) Suhrawardi سہروردی (D) Feroz Khan فیروز خان
- (2) Objective Resolution was passed in:- (A) 1949ء میں (B) 1950ء میں (C) 1954ء میں (D) 1952ء میں
- (3) The State Bank of Pakistan was inaugurated on:- (A) 1st July 1949 کیم جولائی (B) 1st July 1948 کیم جولائی (C) 1st July 1947 کیم جولائی (D) 1st July 1940 کیم جولائی
- (4) Maulvi Tamiz-ud-Din was:- (A) Chief Minister وزیر اعلیٰ (B) Governor گورنر (C) Prime Minister وزیر اعظم (D) Speaker سپیکر
- (5) The first Martial Law was imposed in Pakistan in:- (A) 1958ء میں (B) 1959ء میں (C) 1960ء میں (D) 1961ء میں
- (6) Zulfikar Ali Bhutto became President in:- (A) 1969ء میں (B) 1970ء میں (C) 1971ء میں (D) 1972ء میں
- (7) The 2nd capital city of Pakistan is:- (A) Karachi کراچی (B) Islamabad اسلام آباد (C) Multan ملتان (D) Lahore لاہور
- (8) Pakistan became member of U.N.O on:- (A) 30 September 1947 30 ستمبر (B) 15th August 1947 15 اگست (C) 3rd October 1947 3 اکتوبر (D) 30 December 1947 30 دسمبر
- (9) One-unit was abolished in:- (A) 1955ء میں (B) 1965ء میں (C) 1966ء میں (D) 1970ء میں
- (10) The Prime Minister of Pakistan in 1973 was:- (A) Zulfikar Ali Bhutto ذوالفقار علی بھٹو (B) Muhammad Ali محمد علی (C) Junejo جونجو (D) Sikander Mirza سکندر مرزا
- (11) The Tashqand Treaty was signed in:- (A) 1966ء میں (B) 1967ء میں (C) 1968ء میں (D) 1969ء میں
- (12) The Constitution of 1962 was abrogated in:- (A) 1970ء میں (B) 1969ء میں (C) 1968ء میں (D) 1967ء میں
- (13) The Constitution of 1973 was made in the reign of _____. (A) Zulfikar Ali Bhutto ذوالفقار علی بھٹو (B) Mujeeb-ur-Rehman مجیب الرحمن (C) Zia-ul-Haq ضیاء الحق (D) Muhammad Ali محمد علی
- (14) "Friends not Master" was written by:- (A) Ayub Khan ایوب خان نے (B) Bogra بوگرہ نے (C) Bhutto بھٹو نے (D) Muhammad Khan محمد خاں
- (15) An Oath from Quaid-e-Azam(RA) as Governor General of Pakistan was taken by:- (A) Justice Abdul Rashid جسٹس عبدالرشید نے (B) Justice Din Muhammad جسٹس دین محمد نے (C) Justice Shabir Ahmad جسٹس شبیر احمد نے (D) Justice Rehman جسٹس رحمن نے
- (16) The first Prime Minister of Pakistan was:- (A) Muhammad Ali Bogra محمد علی بوگرہ (B) Liaquat Ali Khan لیاقت علی خان (C) Junejo جونجو (D) Benazir Bhutto بینظیر بھٹو
- (17) The first Defence Minister of Pakistan was:- (A) Liaquat Ali Khan لیاقت علی خان (B) Ghulam Muhammad غلام محمد (C) Sikander Mirza سکندر مرزا (D) Quaid-e-Azam قائد اعظم
- (18) The name of first Governor General of Pakistan was:- (A) Nazimuddin ناظم الدین (B) Quaid-e-Azam قائد اعظم (C) Sikander Mirza سکندر مرزا (D) Ghulam Muhammad غلام محمد
- (19) The first president of Pakistan was:- (A) Quaid-e-Azam قائد اعظم (B) Ghulam Muhammad غلام محمد (C) Nazimuddin ناظم الدین (D) Sikander Mirza سکندر مرزا
- (20) Moody was:- (A) Governor of Punjab گورنر پنجاب (B) Prime Minister وزیر اعظم (C) Governor of Sindh گورنر سندھ (D) Governor of Balochistan گورنر بلوچستان

Paper Code

2018 (S)

رول نمبر

Number: 4107

انٹرمیڈیٹ امتحان پارٹ - II (کلاس بارہویں)

HISTORY OF PAKISTAN (1947-1973) PAPER-II تاریخ پاکستان (1947-1973) پرچہ - دوسرا

TIME ALLOWED: 30 Minutes

OBJECTIVE حصہ معروضی

وقت = 30 منٹ

MAXIMUM MARKS: 20

کل نمبر = 20

نوٹ۔ ہر سوال کے چار ممکنہ جوابات A، B، C اور D دیئے گئے ہیں۔ جوابی کاپی پر ہر سوال کے سامنے دیئے گئے دائروں میں سے درست جواب کے مطابق متعلقہ دائرہ کو مار کر یا پین سے گھر دیجئے۔ ایک سے زیادہ دائروں کو پُر کرنے یا کاٹ کر پُر کرنے کی صورت میں مذکورہ جواب غلط تصور ہوگا۔ دائروں کو پُر نہ کرنے کی صورت میں کوئی نمبر نہیں دیا جائے گا۔ اس سوالیہ پرچہ پر سوالات ہرگز حل نہ کریں۔

Note: you have four choices for each objective type question as A, B, C and D. The choice which you think is correct, fill that bubble in front of that question number. On bubble sheet, use marker or pen to fill the bubbles. Cutting or filling two or more bubbles will result in zero mark in that question. Attempt as many questions as given in objective type question paper and leave others blank. No credit will be awarded in case BUBBLES are not filled. Do not solve questions on this sheet of OBJECTIVE PAPER.

Q.No.1

سوال نمبر 1-

- (1) The Prime Minister of Pakistan in 1973 was:- 1973ء میں پاکستان کے وزیراعظم تھے۔ (A) Zulfikar Ali Bhutto ذوالفقار علی بھٹو (B) Muhammad Ali Jinnah محمد علی جناح (C) Junejo جونجو (D) Sikander Mirza سکندر مرزا
- (2) The Tashqand Treaty was signed in:- معاہدہ تاشقند ہوا۔ (A) 1966ء میں (B) 1967ء میں (C) 1968ء میں (D) 1969ء میں
- (3) The Constitution of 1962 was abrogated in:- 1962ء کا آئین منسوخ ہوا۔ (A) 1970ء میں (B) 1969ء میں (C) 1968ء میں (D) 1967ء میں
- (4) The Constitution of 1973 was made in the reign of _____. 1973ء کا آئین _____ کے دور حکومت میں تشکیل دیا گیا۔ (A) Zulfikar Ali Bhutto ذوالفقار علی بھٹو (B) Mujeeb-ur-Rehman مجیب الرحمن (C) Zia-ul-Haq ذیاء الحق (D) Muhammad Ali Jinnah محمد علی جناح
- (5) "Friends not Master" was written by:- "فرینڈز ناٹ ماسٹر" لکھی۔ (A) Ayub Khan ایوب خاں نے (B) Bogra بوگرہ نے (C) Bhutto بھٹو نے (D) Muhammad Khan محمد خاں نے
- (6) An Oath from Quaid-e-Azam(RA) as Governor General of Pakistan was taken by:- قائداعظم سے گورنر جنرل پاکستان کا حلف لیا۔ (A) Justice Abdul Rashid جسٹس عبدالرشید نے (B) Justice Din Muhammad جسٹس دین محمد نے (C) Justice Shabir Ahmad جسٹس شبیر احمد نے (D) Justice Rehman جسٹس رحمن نے
- (7) The first Prime Minister of Pakistan was:- پاکستان کے پہلے وزیراعظم تھے۔ (A) Muhammad Ali Bogra محمد علی بوگرہ (B) Liaquat Ali Khan لیاقت علی خان (C) Junejo جونجو (D) Benazir Bhutto بینظیر بھٹو
- (8) The first Defence Minister of Pakistan was:- پاکستان کے پہلے وزیر دفاع تھے۔ (A) Liaquat Ali Khan لیاقت علی خان (B) Ghulam Muhammad غلام محمد (C) Sikander Mirza سکندر مرزا (D) Quaid-e-Azam قائداعظم
- (9) The name of first Governor General of Pakistan was:- پاکستان کے پہلے گورنر جنرل کا نام تھا۔ (A) Nazimuddin ناظم الدین (B) Quaid-e-Azam قائداعظم (C) Sikander Mirza سکندر مرزا (D) Ghulam Muhammad غلام محمد
- (10) The first president of Pakistan was:- پاکستان کے پہلے صدر تھے۔ (A) Quaid-e-Azam قائداعظم (B) Ghulam Muhammad غلام محمد (C) Nazimuddin ناظم الدین (D) Sikander Mirza سکندر مرزا
- (11) Moody was:- موڈی تھا۔ (A) Governor of Punjab گورنر پنجاب (B) Prime Minister وزیراعظم (C) Governor of Sindh گورنر سندھ (D) Governor of Balochistan گورنر بلوچستان
- (12) The 2nd Prime Minister of Pakistan was:- پاکستان کے دوسرے وزیراعظم تھے۔ (A) Khawaja Nazimuddin خواجہ ناظم الدین (B) Muhammad Ali Bogra محمد علی بوگرہ (C) Suhrawardi سہروردی (D) Feroz Khan فیروز خان
- (13) Objective Resolution was passed in:- قرارداد مقاصد منظور ہوئی۔ (A) 1949ء میں (B) 1950ء میں (C) 1954ء میں (D) 1952ء میں
- (14) The State Bank of Pakistan was inaugurated on:- سٹیٹ بینک آف پاکستان کا افتتاح ہوا۔ (A) 1st July 1949 کیم جولائی (B) 1st July 1948 کیم جولائی (C) 1st July 1947 کیم جولائی (D) 1st July 1940 کیم جولائی
- (15) Maulvi Tamiz-ud-Din was:- مولوی تمیز الدین تھے۔ (A) Chief Minister وزیراعلیٰ (B) Governor گورنر (C) Prime Minister وزیراعظم (D) Speaker سپیکر
- (16) The first Martial Law was imposed in Pakistan in:- پاکستان میں پہلا مارشل لاء لگا گیا۔ (A) 1958ء میں (B) 1959ء میں (C) 1960ء میں (D) 1961ء میں
- (17) Zulfikar Ali Bhutto became President in:- ذوالفقار علی بھٹو صدر بنے۔ (A) 1969ء میں (B) 1970ء میں (C) 1971ء میں (D) 1972ء میں
- (18) The 2nd capital city of Pakistan is:- پاکستان کا دوسرا دارالحکومت ہے۔ (A) Karachi کراچی (B) Islamabad اسلام آباد (C) Multan ملتان (D) Lahore لاہور
- (19) Pakistan became member of U.N.O on:- پاکستان یو۔ این۔ او کا ممبر بنا۔ (A) 30 September 1947 ستمبر 30 (B) 15th August 1947 اگست 15 (C) 3rd October 1947 اکتوبر 3 (D) 30 December 1947 دسمبر 30
- (20) One-unit was abolished in:- ون۔ یونٹ ختم کیا گیا۔ (A) 1955ء میں (B) 1965ء میں (C) 1966ء میں (D) 1970ء میں

Name of Subject: اُردو لازمی

Session: 2018

Q.Nos	Paper Code	Paper Code	Paper Code	Paper Code
	4021	4023	4025	4027
1	C	A	D	B
2	B	B	A	D
3	D	C	B	A
4	A	B	C	B
5	B	D	B	C
6	B	C	D	C
7	C	B	C	D
8	D	B	B	C
9	C	C	B	B
10	B	D	C	B
11	A	B	D	B
12	B	A,C	B	D
13	D	A	A,C	B
14	B	B	A	A,C
15	A,C	D	B	A
16	C	D	B	D
17	D	D	D	B
18	B	C	D	D
19	D	D	C	D
20	D	B	D	C

سرٹیفکیٹ بابت صحیح سوالیہ پرچہ امارنگ Key

ہم نے مضمون اُردو لازمی پرچہ دوسرا گروپ سکیم انٹر سالانہ امتحان 2018 کا سوالیہ پرچہ انشائیہ و معروضی (Subjective & Objective) کو بنظر عین چیک کر لیا ہے یہ پرچہ Syllabus کے عین مطابق Set کیا گیا ہے۔ اس سوالیہ پرچہ میں کسی قسم کی کوئی غلطی نہ ہے۔ ہم نے سوالیہ پرچہ کا اردو اور انگریزی Version بھی چیک کر لیا ہے۔ یہ Version آپس میں مطابقت رکھتے ہیں۔ نیز اس پرچہ کی معروضی (MCQs) Key کی بابت تصدیق کی جاتی ہے کہ اس میں بھی کسی قسم کی کوئی غلطی نہ ہے۔ مزید یہ کہ ہم نے Key بنانے سے متعلق دفتر کی جانب سے تیار کردہ ہدایات وصول کر کے ان کا بغور مطالعہ کر لیا ہے اور ان کی روشنی میں Key بنائی ہے۔ نیز سب ایگزامینرز کیلئے تفصیلی مارکنگ ہدایات / مارکنگ سکیم / Rubrics بھی تیار کر دی گئی ہیں۔

Prepared & Checked By:

Dated: 02-11-2018

S.#	Name	Designation	Institution	Mobile No	Signature
1	سید محمد بشیر رضا نوری	A.P	گورنمنٹ علامہ ارحمین اسلامیہ ڈگری کالج ملتان	0300 7184532	
2	ڈاکٹر ابراہیم سعید السعید	Associate Prof	گورنمنٹ کالج اسکول لائٹسرس دہقان	0333-6102985	
3	کوثر پروین	A.P	گورنمنٹ ولایت حسین کالج ملتان	0313-6167039	

اجملہ زیدی
0300 6368738 گورنمنٹ کالج اسکول ملتان
0300 6899181 ڈاکٹر ابراہیم سعید السعید
AP ایسوسی ایٹ پروفیسر

2018 (S)

رول نمبر

انٹرمیڈیٹ امتحان پارٹ - II (کلاس بارہویں)

وقت = 2.40 گھنٹے

اردو (لازمی) پرچہ - دوسرا

کل نمبر = 80

انشائیہ

نوٹ۔ جوابی کاپی پر وہی سوال نمبر اور جزو نمبر درج کیجیے جو سوالیہ پرچے میں درج ہے۔

حصہ اول

10 = 1 + 1 + 8

2- (الف) درج ذیل اشعار کی تشریح کیجیے۔ نظم کا عنوان اور شاعر کا نام بھی لکھیے۔

ترے قدم پہ نظر آئے محفل انجم
وہ بانگین، وہ اچھوتا شباب پیدا کر
ترا شباب امانت ہے ساری دنیا کی
تو خارزار جہاں میں گلاب پیدا کر

10 = 1 + 3 + 3 + 3

(ب) درج ذیل اشعار کی تشریح کیجیے اور شاعر کا نام بھی لکھیے۔

شور برپا ہے خانہ دل میں
کوئی دیوار سی گری ہے ابھی
بھری دنیا میں جی نہیں لگتا
جانے کس چیز کی کمی ہے ابھی
تو شریک سخن نہیں ہے تو کیا
ہم سخن تیری خامشی ہے ابھی

حصہ دوم

15 = 1 + 1 + 3 + 10

3- سیاق و سباق کے حوالہ سے کسی ایک جزو کی تشریح کیجیے۔ مصنف کا نام اور سبق کا عنوان بھی تحریر کیجیے۔

(الف) علی گڑھ تحریک کی وجہ سے قوم میں کئی اور تحریکات شروع ہو گئیں۔ اختلافات ضرور رونما ہوئے لیکن ایک حد تک یہ نئی زندگی کا نشان تھے۔
سر سید، امیر علی اور دیگر بزرگوں نے اسلام کو مغربی علوم سے اس طرح جا ملایا تھا کہ اسے ایک ترقی یافتہ مذہب ثابت کیا لیکن اس جدید علم الکلام کے رد عمل کے طور پر بعض اور مذہبی مساعی بروئے کار آئیں۔

(ب) میں لاہور آیا تو کچھ دنوں زمیندار کے دفتر میں بھی قیام رہا۔ ایک رات کا ذکر ہے کہ کسی نے پچھلے پہر میر انشاہدہ بلایا۔ میں آنکھیں ملتا ہوا اٹھ بیٹھا۔ لیکن ابھی صبح کا ڈب تھی۔ ہر طرف تاریکی چھائی ہوئی تھی۔ صرف اتنا معلوم ہوا کہ کوئی شخص میرے سر ہانے کھڑا ہے۔
میں گھبرایا کہ الٹی یہ کیا ماجرا ہے۔ اتنے میں مولانا کی آواز آئی کہ اٹھو میرے ساتھ سیر کو چلو۔

10 = 1 + 9

4- مندرجہ ذیل میں سے کسی ایک نصابی سبق کا خلاصہ لکھیے اور مصنف کا نام بھی تحریر کیجیے۔

(i) پہلی فتح (ii) قرطبہ کا قاضی

5

5- نصاب میں شامل احسان دانش کی نظم ”تغیر“ کا خلاصہ تحریر کیجیے۔

20

6- مندرجہ ذیل عنوانات میں سے کسی ایک پر مفصل مضمون تحریر کیجیے۔

(i) محسن انسانیت (ii) حب وطن (iii) ایک یادگار سفر

10

7- دوست کے نام خط لکھ کر اس کی والدہ کی وفات پر تعزیت کیجیے۔

PAPER CODE

2018 (S)

رول نمبر

NUMBER:4021

انٹرمیڈیٹ امتحان پارٹ - II (کلاس بارہویں)

وقت = 20 منٹ

اردو (لازمی) پرچہ - دوسرا

کل نمبر = 20

حصہ معروضی

نوٹ۔ ہر سوال کے چار ممکنہ جوابات A، B، C اور D دیئے گئے ہیں۔ جوابی کاپی پر ہر سوال کے سامنے دیئے گئے دائروں میں سے درست جواب کے مطابق متعلقہ دائرہ کو مار کر یا پین سے بھر دیجئے۔ ایک سے زیادہ دائروں کو بھرنے یا کاٹ کر پڑ کرنے کی صورت میں مذکورہ جواب غلط تصور ہوگا۔ دائروں کو پڑ نہ کرنے کی صورت میں کوئی نمبر نہیں دیا جائے گا۔ اس سوالیہ پرچہ پر سوالات ہر گز حل نہ کریں۔

سوال نمبر 1-

نثری اسباق کے مطابق درست جواب کی نشان دہی کیجیے۔

- (1) حضرت عمر بن عبدالعزیزؓ کے غلام کا نام تھا۔
 (A) کریم (B) رحیم (C) مزام (D) رستم
- (2) مولوی نذیر احمد کے پوتے کا نام ہے۔
 (A) عنایت اللہ دہلوی (B) شاہد احمد دہلوی (C) مرزا سعید (D) ہاشم
- (3) حاج بن یوسف کو خاتون نے خط لکھا۔
 (A) فاطمہ (B) زینب (C) عائشہ (D) ناہید
- (4) بیگم اختر ریاض الدین کی جائے پیدائش ہے۔
 (A) کلکتہ (B) کراچی (C) دہلی (D) ہوائی
- (5) مولانا ظفر علی خان نے اخبار _____ نکالا۔
 (A) جنگ (B) زمیندار (C) سردار (D) امروز
- مطابقت اور حروف کے صحیح استعمال کو پیش نظر رکھتے ہوئے درست جواب منتخب کیجیے۔
- (6) بازار سے چند لڑکیاں اور لڑکے گزر _____
 (A) رہی تھیں (B) رہے تھے (C) رہا تھا (D) رہوتھے
- (7) بکریاں گھاس _____ ہیں۔
 (A) چرتیں (B) چرتے (C) چرتی (D) چرتا
- (8) وہ اور میں مل کر امتحان _____
 (A) دوں گا (B) دوگے (C) دے گا (D) دیں گے
- (9) تم میرا انتظار _____
 (A) کریں (B) کیجیے (C) کرو (D) کیا
- (10) ”نوائے وقت“ بہت دلچسپی سے _____ ہے۔
 (A) پڑھی جاتی (B) پڑھا جاتا (C) پڑھے جاتے (D) پڑھی جاتیں

رموزی اوقاف کو پیش نظر رکھتے ہوئے درست جواب منتخب کیجیے۔

- (11) سکتے استعمال ہوتا ہے۔
 (A) مختصر ٹھہراؤ کے لیے (B) سوال پوچھنے کے لیے (C) تفصیل بیان کرنے کے لیے (D) اختتام کے لیے
- (12) کسی کا قول ہو، بوقول کرنا ہو تو علامت لگاتے ہیں۔
 (A) قوسین (B) داوین (C) خط (D) ندائیہ
- (13) ؟ آپ کب آئیں گے۔ کون سی علامت استعمال ہوگی؟
 (A) ! (B) ، (C) ؛ (D) ؟
- (14) رابطہ کی تعریف ہے۔
 (A) سوال کرنا (B) وقفہ سے زیادہ ٹھہراؤ (C) بات ختم کرنا (D) مختصر کرنا
- (15) مختصر ٹھہراؤ والی علامت کہلاتی ہے۔
 (A) وقفہ (B) رابطہ (C) سکتہ (D) فجائیہ

امدادی افعال کے صحیح استعمال کے پیش نظر درست جواب منتخب کیجیے۔

- (16) اٹھنا (A) وہ صبح سویرے اٹھا (B) اُسے جا کر اٹھاؤ (C) وہ درد سے بلبللا اٹھا (D) اَب اٹھ بھی جاؤ
- (17) پانا (A) مجھے اُسے ہر صورت پانا ہے (B) تم ضرور اس کا صلہ پاؤ گے۔ (C) میں نے اُسے اچھا پایا۔ (D) تم ضرور یہ کام کر پاؤ گے۔
- (18) چاہنا (A) میں اُسے چاہتا ہوں۔ (B) وہ اَب گھر جانا چاہتی ہے۔ (C) میں معافی چاہتا ہوں۔ (D) جو چاہے کر لو۔
- (19) جانا (A) مجھے ملتان جانا ہے۔ (B) وہ اکثر لاہور جاتا ہے۔ (C) آپ کہاں جائیں گے؟ (D) میرے کمرے سے نکل جاؤ۔
- (20) رہنا (A) مجھے یہاں رہنا ہے۔ (B) اَب رہنے بھی دو۔ (C) وہ لاہور میں رہتا ہے۔ (D) وہ اکثر روتا رہتا ہے۔

PAPER CODE
NUMBER:4023

2018 (S)

رول نمبر

انٹرمیڈیٹ امتحان پارٹ - II (کلاس بارہویں)

وقت = 20 منٹ

اردو (لازمی) پرچہ - دوسرا

کل نمبر = 20

حصہ معروضی

نوٹ۔ ہر سوال کے چار ممکنہ جوابات A، B، C اور D دیئے گئے ہیں۔ جوابی کاپی پر ہر سوال کے سامنے دیئے گئے دائروں میں سے درست جواب کے مطابق متعلقہ دائرہ کو مار کر یا پین سے بھر دیجئے۔ ایک سے زیادہ دائروں کو بڑھانے یا کاٹ کر بڑھانے کی صورت میں مذکورہ جواب غلط تصور ہوگا۔ دائروں کو بڑھانے کی صورت میں کوئی نمبر نہیں دیا جائے گا۔ اس سوالیہ پرچہ پر سوالات ہر گز حل نہ کریں۔

سوال نمبر 1۔

نثری اسباق کے مطابق درست جواب کی نشان دہی کیجیے۔

- (1) بیگم اختر ریاض الدین کی جائے پیدائش ہے۔ (A) کلکتہ (B) کراچی (C) دہلی (D) ہوائی
- (2) مولانا ظفر علی خان نے اخبار _____ نکالا۔ (A) جنگ (B) زمیندار (C) سردار (D) امروز
- (3) حضرت عمر بن عبدالعزیزؓ کے غلام کا نام تھا۔ (A) کریم (B) رحیم (C) مزاعم (D) رستم
- (4) مولوی نذیر احمد کے پوتے کا نام ہے۔ (A) عنایت اللہ دہلوی (B) شاہد احمد دہلوی (C) مرزا سعید (D) ہاشم
- (5) حجاج بن یوسف کو خاتون _____ نے خط لکھا۔ (A) فاطمہ (B) زینب (C) عائشہ (D) نائید

مطابقت اور حروف کے صحیح استعمال کو پیش نظر رکھتے ہوئے درست جواب منتخب کیجیے۔

- (6) تم میرا انتظار _____ کریں (A) کرئیں (B) کیجیے (C) کرو (D) کیا
- (7) ”نوائے وقت“ بہت دلچسپی سے _____ ہے۔ (A) پڑھی جاتی (B) پڑھا جاتا (C) پڑھے جاتے (D) پڑھی جاتیں
- (8) بازار سے چند لڑکیاں اور لڑکے گزر _____ رہے تھے۔ (A) رہتی تھیں (B) رہتے تھے (C) رہا تھا (D) رہتے
- (9) بکریاں گھاس _____ ہیں۔ (A) چرتیں (B) چرتے (C) چرتی (D) چرتا
- (10) وہ اور میں مل کر امتحان _____ دوں گا۔ (A) دوں گا (B) دوگے (C) دے گا (D) دیں گے

رموز اوقاف کو پیش نظر رکھتے ہوئے درست جواب منتخب کیجیے۔

- (11) رابطہ کی تعریف ہے۔ (A) سوال کرنا (B) وقفہ سے زیادہ ٹھہراؤ (C) بات ختم کرنا (D) مختصر کرنا
- (12) مختصر ٹھہراؤ والی علامت کہلاتی ہے۔ (A) وقفہ (B) رابطہ (C) سکتہ (D) فجائیہ
- (13) سکتہ استعمال ہوتا ہے۔ (A) مختصر ٹھہراؤ کے لیے (B) سوال پوچھنے کے لیے (C) تفصیل بیان کرنے کے لیے (D) اختتام کے لیے
- (14) کسی کا قول ہو بہ نقل کرنا ہو تو علامت لگاتے ہیں۔ (A) قوسین (B) داوین (C) خط (D) ندائیہ
- (15) آپ کب آئیں گے کون سی علامت استعمال ہوگی؟ (A) ! (B) ، (C) ؛ (D) ؟

امدادی افعال کے صحیح استعمال کے پیش نظر درست جواب منتخب کیجیے۔

- (16) جانا (A) مجھے ملتان جانا ہے۔ (B) وہ اکثر لاہور جاتا ہے۔ (C) آپ کہاں جائیں گے؟ (D) میرے کمرے سے نکل جاؤ۔
- (17) رہنا (A) مجھے یہاں رہنا ہے۔ (B) اب رہنے بھی دو۔ (C) وہ لاہور میں رہتا ہے۔ (D) وہ اکثر روتا رہتا ہے۔
- (18) اٹھنا (A) وہ صبح سویرے اٹھا (B) اُسے جا کر اٹھاؤ (C) وہ درد سے ہلبلا اٹھا (D) اب اٹھ بھی جاؤ
- (19) پانا (A) مجھے اُسے ہر صورت پانا ہے (B) تم ضرور اس کا صلہ پاؤ گے۔ (C) میں نے اُسے اچھا پایا۔ (D) تم ضرور یہ کام کر پاؤ گے۔
- (20) چاہنا (A) میں اُسے چاہتا ہوں۔ (B) وہ اب گھر جانا چاہتی ہے۔ (C) میں معافی چاہتا ہوں۔ (D) جو چاہے کرلو۔

PAPER CODE
NUMBER:4025

2018 (S)

رول نمبر

انٹرمیڈیٹ امتحان پارٹ - II (کلاس بارہویں)

وقت = 20 منٹ

اردو (لازمی) پرچہ - دوسرا

کل نمبر = 20

حصہ معروضی

نوٹ۔ ہر سوال کے چار ممکنہ جوابات A، B، C اور D دیئے گئے ہیں۔ جوابی کاپی پر ہر سوال کے سامنے دیئے گئے دائروں میں سے درست جواب کے مطابق متعلقہ دائرہ کو مار کر یا پین سے بھر دیجئے۔ ایک سے زیادہ دائروں کو پُر کرنے یا کاٹ کر پُر کرنے کی صورت میں مذکورہ جواب غلط تصور ہوگا۔ دائروں کو پُر نہ کرنے کی صورت میں کوئی نمبر نہیں دیا جائے گا۔ اس سوالیہ پرچہ پر سوالات ہرگز حل نہ کریں۔

سوال نمبر 1۔

نثری اسباق کے مطابق درست جواب کی نشان دہی کیجئے۔

- (1) جاج بن یوسف کو خاتون _____ نے خط لکھا۔ (A) فاطمہ (B) زینب (C) عائشہ (D) نائید
- (2) بیگم اختر ریاض الدین کی جائے پیدائش ہے۔ (A) کلکتہ (B) کراچی (C) دہلی (D) ہوائی
- (3) مولانا ظفر علی خان نے اخبار _____ نکالا۔ (A) جنگ (B) زمیندار (C) سردار (D) امروز
- (4) حضرت عمر بن عبدالعزیزؓ کے غلام کا نام تھا۔ (A) کریم (B) رحیم (C) مزاحم (D) رستم
- (5) مولوی نذیر احمد کے پوتے کا نام ہے۔ (A) عنایت اللہ دہلوی (B) شاہد احمد دہلوی (C) مرزا سعید (D) ہاشم

مطابقت اور حروف کے صحیح استعمال کو پیش نظر رکھتے ہوئے درست جواب منتخب کیجئے۔

- (6) وہ اور میں مل کر امتحان _____ (A) دوں گا (B) دو گے (C) دے گا (D) دیں گے
- (7) تم میرا انتظار _____ (A) کریں (B) کیجئے (C) کرو (D) کیا
- (8) ”نوائے وقت“ بہت دلچسپی سے _____ ہے۔ (A) پڑھی جاتی (B) پڑھا جاتا (C) پڑھے جاتے (D) پڑھی جاتیں
- (9) بازار سے چند لڑکیاں اور لڑکے گزر _____ (A) رہی تھیں (B) رہے تھے (C) رہا تھا (D) رہوتھے
- (10) بکریاں گھاس _____ ہیں۔ (A) چرتیں (B) چرتے (C) چرتی (D) چرتا

رموزی اوقاف کو پیش نظر رکھتے ہوئے درست جواب منتخب کیجئے۔

- (11) آپ کب آئیں گے کون سی علامت استعمال ہوگی؟ (A) ! (B) ، (C) ؛ (D) ؟
- (12) رابطہ کی تعریف ہے۔ (A) سوال کرنا (B) وقفہ سے زیادہ ٹھہراؤ (C) بات ختم کرنا (D) مختصر کرنا
- (13) مختصر ٹھہراؤ والی علامت کہلاتی ہے۔ (A) وقفہ (B) رابطہ (C) سکتہ (D) فجائیہ
- (14) سکتہ استعمال ہوتا ہے۔ (A) مختصر ٹھہراؤ کے لیے (B) سوال پوچھنے کے لیے (C) تفصیل بیان کرنے کے لیے (D) اختتام کے لیے
- (15) کسی کا قول ہو، بوقول کرنا، بوقول علامت لگاتے ہیں۔ (A) توسین (B) واوین (C) خط (D) ندائیہ

امدادی افعال کے صحیح استعمال کے پیش نظر درست جواب منتخب کیجئے۔

- (16) چاہنا (A) میں اُسے چاہتا ہوں۔ (B) وہ اُب گھر جانا چاہتی ہے۔ (C) میں معافی چاہتا ہوں۔ (D) جو چاہے کرلو۔
- (17) چانا (A) مجھے ملتان جانا ہے۔ (B) وہ اکثر لاہور جاتا ہے۔ (C) آپ کہاں جائیں گے؟ (D) میرے کمرے سے نکل جاؤ۔
- (18) رہنا (A) مجھے یہاں رہنا ہے۔ (B) اُب رہنے بھی دو۔ (C) وہ لاہور میں رہتا ہے۔ (D) وہ اکثر روتا رہتا ہے۔
- (19) اٹھنا (A) وہ صبح سویرے اٹھا (B) اُسے جا کر اٹھاؤ (C) وہ دروازے بلبل اٹھا (D) اُب اٹھ بھی جاؤ
- (20) پانا (A) مجھے اُسے ہر صورت پانا ہے (B) تم ضرور اس کا صلہ پاؤ گے۔ (C) میں نے اُسے اچھا پایا۔ (D) تم ضرور یہ کام کر پاؤ گے۔

PAPER CODE
NUMBER:4027

2018 (S)

رول نمبر

انٹرمیڈیٹ امتحان پارٹ - II (کلاس بارہویں)

وقت = 20 منٹ

اردو (لازمی) پرچہ - دوسرا

کل نمبر = 20

حصہ معروضی

نوٹ - ہر سوال کے چار ممکنہ جوابات A، B، C اور D دیئے گئے ہیں۔ جوابی کاپی پر ہر سوال کے سامنے دیئے گئے دائروں میں سے درست جواب کے مطابق متعلقہ دائرہ کو مار کر یا پین سے بھر دیجئے۔ ایک سے زیادہ دائروں کو پُر کرنے یا کاٹ کر پُر کرنے کی صورت میں مذکورہ جواب غلط تصور ہوگا۔ دائروں کو پُر نہ کرنے کی صورت میں کوئی نمبر نہیں دیا جائے گا۔ اس سوالیہ پرچہ پر سوالات ہر گز حل نہ کریں۔

سوال نمبر 1-

نثری اسباق کے مطابق درست جواب کی نشان دہی کیجیے۔

- (1) مولوی نذیر احمد کے پوتے کا نام ہے۔ (A) عنایت اللہ دہلوی (B) شاہد احمد دہلوی (C) مرزا سعید (D) ہاشم
- (2) تاج بن یوسف کو خاتون نے خط لکھا۔ (A) فاطمہ (B) زینب (C) عائشہ (D) ناہید
- (3) بیگم اختر ریاض الدین کی جائے پیدائش ہے۔ (A) کلکتہ (B) کراچی (C) دہلی (D) ہوائی
- (4) مولانا ظفر علی خان نے اخبار _____ نکالا۔ (A) جنگ (B) زمیندار (C) سردار (D) امروز
- (5) حضرت عمر بن عبدالعزیزؓ کے غلام کا نام تھا۔ (A) کریم (B) رحیم (C) مزاحم (D) رستم
- مطابقت اور حروف کے صحیح استعمال کو پیش نظر رکھتے ہوئے درست جواب منتخب کیجیے۔
- (6) بکریاں گھاس _____ ہیں۔ (A) چرتیں (B) چرتے (C) چرتی (D) چرتا
- (7) وہ اور میں مل کر امتحان _____۔ (A) دوں گا (B) دوگے (C) دے گا (D) دیں گے
- (8) تم میرا انتظار _____۔ (A) کریں (B) کیجیے (C) کرو (D) کیا
- (9) "نوائے وقت" بہت دلچسپی سے _____ ہے۔ (A) پڑھی جاتی (B) پڑھا جاتا (C) پڑھے جاتے (D) پڑھی جاتیں
- (10) بازار سے چند لڑکیاں اور لڑکے گزر _____۔ (A) رہی تھیں (B) رہے تھے (C) رہا تھا (D) رہوتھے

رموزی اوقاف کو پیش نظر رکھتے ہوئے درست جواب منتخب کیجیے۔

- (11) کسی کا قول ہو، ہونقل کرنا ہو تو علامت لگاتے ہیں۔ (A) قوسین (B) داوین (C) خط (D) ندائیہ
- (12) آپ کب آئیں گے کون سی علامت استعمال ہوگی؟ (A) ! (B) ، (C) ؟ (D) ؟
- (13) رابطہ کی تعریف ہے۔ (A) سوال کرنا (B) وقفہ سے زیادہ ٹھہراؤ (C) بات ختم کرنا (D) مختصر کرنا
- (14) مختصر ٹھہراؤ والی علامت کہلاتی ہے۔ (A) وقفہ (B) رابطہ (C) سکتہ (D) فجائیہ
- (15) سکتہ استعمال ہوتا ہے۔ (A) مختصر ٹھہراؤ کے لیے (B) سوال پوچھنے کے لیے (C) تفصیل بیان کرنے کے لیے (D) اختتام کے لیے

امدادی افعال کے صحیح استعمال کے پیش نظر درست جواب منتخب کیجیے۔

- (16) پانا (A) مجھے اُسے ہر صورت پانا ہے (B) تم ضرور اس کا صلہ پاؤ گے۔ (C) میں نے اُسے اچھا پایا۔ (D) تم ضرور یہ کام کر پاؤ گے۔
- (17) چاہنا (A) میں اُسے چاہتا ہوں۔ (B) وہ اب گھر جانا چاہتی ہے۔ (C) میں معافی چاہتا ہوں۔ (D) جو چاہے کر لو۔
- (18) جانا (A) مجھے ملان جانا ہے۔ (B) وہ اکثر لاہور جاتا ہے۔ (C) آپ کہاں جائیں گے؟ (D) میرے کمرے سے نکل جاؤ۔
- (19) رہنا (A) مجھے یہاں رہنا ہے۔ (B) اب رہنے بھی دو۔ (C) وہ لاہور میں رہتا ہے۔ (D) وہ اکثر روتا رہتا ہے۔
- (20) اٹھنا (A) وہ صبح سویرے اٹھا (B) اُسے جا کر اٹھاؤ (C) وہ در سے بلبل اٹھا (D) اب اٹھ بھی جاؤ

Name of Subject: pak studies

Session: 2018 Final Annual

Q.Nos	Paper Code	Paper Code	Paper Code	Paper Code
	4911	4913	4915	4917
1	A	C	C	D
2	B	C	D	B
3	D	C	A	C
4	B	D	B	B
5	C	A	D	C
6	B	B	B	C
7	C	D	C	C
8	C	B	B	D
9	C	C	C	A
10	D	B	C	B
11				
12				
13				
14				
15				
16				
17				
18				
19				
20				

سرٹیفکیٹ بابت صحیح سوالیہ پرچہ مارکنگ Key

ہم نے مضمون مطالعہ پاکستان پرچہ لازمی گروپ X سکیم X انٹرسالانہ ضمنی امتحان 2018 کا سوالیہ پرچہ انشائیہ و معروضی (Subjective & Objective) کو بنظر عمیق چیک کر لیا ہے یہ پرچہ Syllabus کے عین مطابق Set کیا گیا ہے۔ اس سوالیہ پرچہ میں کسی قسم کی کوئی غلطی نہ ہے۔ ہم نے سوالیہ پرچہ کا اردو اور انگریزی Version بھی چیک کر لیا ہے۔ یہ Version آپس میں مطابقت رکھتے ہیں۔ نیز اس پرچہ کی معروضی (MCQs) Key کی بابت تصدیق کی جاتی ہے کہ اس میں بھی کسی قسم کی کوئی غلطی نہ ہے۔ مزید یہ کہ ہم نے Key بنانے سے متعلق دفتر کی جانب سے تیار کردہ ہدایات وصول کر کے ان کا بغور مطالعہ کر لیا ہے اور ان کی روشنی میں Key بنائی ہے۔ نیز سب ایگزامینرز کیلئے تفصیلی مارکنگ ہدایات / مارکنگ سکیم Rubrics بھی تیار کر دی گئی ہیں۔

Prepared & Checked By:

Dated: 19/11/2018

S.#	Name	Designation	Institution	Mobile No	Signature
1	محمد خورشید عثمان	اسیٹو ایڈیٹر	گورنمنٹ کالج سول ایئر سٹڈی	03216337885	
2	محمد عثمان جان	اسیٹو ایڈیٹر	گورنمنٹ ایمرسن جی۔ اے۔ ملتان	03067407323	
3	عبد الطیف الطہر	اسیٹو ایڈیٹر	گورنمنٹ ملٹری کالج ملتان	0300-9632422	

(67)

Revised
20/11/2018

ثانوی و اعلیٰ ثانوی تعلیمی بورڈ، ملتان

موضوع: دماغی علوم لکھن پور: 19/11/18

جزل ہدایات برائے مارکنگ Key اولڈ اسکیم انو اسکیم (مارکنگ اسکیم)

انٹرنیٹ فرسٹ ایکنڈ سالانہ امتحان 2018ء

Sr #	Code	Error Indicated	Sr #	Code	Error Indicated
1.	UN	Un-Necessary	8.	Sp	Spelling Error
2.	Ir	Irrelevant	9.	P	Punctuation
3.	IN	Incomplete	10.	Wo	Wrong word error
4.	EX	Extra	11.	Wt	Wrong Tense
5.	Rp	Re-Produced	12.	Wf	Wrong Form
6.	Is	Insufficient	13.	OA	Over Attempt
7.	Gr	Grammar Error			

اہم نوٹ: ہر سوال "Full Award" سے کم نمبر لگانے کی صورت میں وجہ ضرور لکھیں۔

سوال نمبر 2: ٹیکسٹ بک بورڈ کے مطابق درست جواب دیجئے،
بورڈ کے جواب دیئے جائیں۔

سوال نمبر 3: ٹیکسٹ بک بورڈ کے مطابق، سوال کا درست جواب
سینے میں دو نمبر دیجئے جائیں۔

سوال نمبر 4: 8 حرکات تفصیل سے درست لکھئے، زیادہ نمبر
جائیں۔

سوال نمبر 5: کم از کم 8 نکات ضروری ہیں اور مختصر تفصیل بھی درکار
ہے۔

سوال نمبر 6: اس سوال کو مجموعی طور پر جاننا ہے اور 17
کے حوالے مطابق نمبر پورے دیا جائے۔

Dr. Arif Raof
03067607323
گورنمنٹ ایگزیکیوٹو ایف سی

Dr. Arif Raof
03216337895
گورنمنٹ ایگزیکیوٹو ایف سی

Dr. Arif Raof
20/11/2018
گورنمنٹ ایگزیکیوٹو ایف سی
03067607323

2018 (S)

رول نمبر

INTERMEDIATE PART-II (12th CLASS)

PAKISTAN STUDIES (COMPULSORY) (NEW COURSE)

مطالعہ پاکستان (لازمی) (نیوکورس)

TIME ALLOWED: 1.45 Hours

SUBJECTIVE حصہ انشائیہ

وقت = 1.45 گھنٹے

MAXIMUM MARKS: 40

کل نمبر = 40

نوٹ - جوابی کاپی پر وہی سوال نمبر اور جزو نمبر درج کیجیے جو کہ سوالیہ پرچے میں درج ہے۔
 NOTE: - Write same question number and its part number on answer book, as given in the question paper.

SECTION-I حصہ اول

2. Attempt any six parts.

12 = 2 x 6

- When and who wrote the pamphlet "now and never"?
- Write the names of two English teachers of M.A.O College.
- Write two administrative problems of Pakistan.
- Which are meridians of longitude?
- Which are the latitudes?
- What is meant by "open the door policy" and who introduced it?
- Define Muslim according to Constitution of Pakistan 1973.
- When did the Second Constitutional Assembly form and how many members were elected?
- For how many days dengue fever last?

سوال نمبر 2- کوئی سے چھ اجزاء کے جوابات تحریر کیجیے۔

- "اب نہیں تو پھر کبھی نہیں" کس نے اور کب لکھا؟
- ایم اے او کالج میں دو انگریز اساتذہ کے نام لکھیے۔
- پاکستان کی دو انتظامی مشکلات لکھیے۔
- خطوط طول بلد کون سے خطوط ہیں؟
- خطوط عرض بلد کون سے خطوط ہیں؟
- دروازہ کھلا رکھنے کی پالیسی سے کیا مراد ہے اور کس نے متعارف کروائی؟
- 1973ء کے آئین کے مطابق مسلمان کی تعریف کریں۔
- دوسری دستور سال اسمبلی کب بنی اور کتنے ارکان پر مشتمل تھی؟
- ڈینگے بخار کتنے دن تک رہتا ہے؟

3. Attempt any six parts.

12 = 2 x 6

- What was the work conducted by an English Archeologist Sir John Marshall in Pakistan?
- What were the weapons and tools used by ancient peoples of Indus Valley. Write any four.
- Write the name of four poets in connection with the development of Punjabi language.
- Write two themes of Pushto Poetry.
- What is meant by provision of Equal Rights?
- Write any two hurdles in the way of industrial development.
- Write two targets of third five year plan.
- Write two Court orders which are helpful in protecting the women rights.
- Write two objectives of Pakistan Saudi Economic Commission.

سوال نمبر 3- کوئی سے چھ اجزاء کے جوابات تحریر کیجیے۔

- انگریز ماہر آثار قدیمہ سر جان مارشل نے پاکستان میں کیا کام کیا؟
- وادی سندھ کے قدیم باشندوں کے کون سے جنگی آلات اور اوزار استعمال کرتے تھے؟ کوئی چار لکھیں۔
- پنجابی زبان کی ترقی کے سلسلہ میں چار شعراء کے نام لکھیں۔
- پشتو زبان کی شاعری کے دو موضوعات لکھیں۔
- یکساں حقوق کی فراہمی سے کیا مراد ہے؟
- پاکستان میں صنعتی ترقی میں حائل دور کا وہی لکھیں۔
- تیسرے پانچ سالہ منصوبہ کے دو اہداف لکھیں۔
- دو عدالتی احکامات تحریر کریں جن سے عورتوں کے حقوق کو تحفظ دینے میں مدد ملتی ہے۔
- پاکستان سعودی اکنامک کمیشن کے دو بنیادی مقاصد تحریر کریں۔

SECTION-II حصہ دوم

NOTE: - Attempt any two questions.

16 = 8 x 2

- Discuss the factors for demand of Pakistan.
- Write down the provisions of the Objective Resolution.
- Describe the importance and utility of agriculture sector in Pakistan.

نوٹ - کوئی سے دو سوالات کے جوابات تحریر کیجیے۔

- مطالبہ پاکستان کے محرکات پر بحث کریں۔
- قرارداد مقاصد کے نکات تحریر کیجیے۔
- پاکستان میں زرعی شعبے کی اہمیت اور افادیت بیان کیجیے۔

Paper Code

2018 (S)

رول نمبر

Number: 4911

INTERMEDIATE PART-II (12th CLASS)

PAKISTAN STUDIES (COMPULSORY) (NEW COURSE)

مطالعہ پاکستان (لازمی) (نیوکورس)

TIME ALLOWED: 15 Minutes

OBJECTIVE حصہ معروضی

وقت = 15 منٹ

MAXIMUM MARKS: 10

کل نمبر = 10

نوٹ۔ ہر سوال کے چار ممکنہ جوابات A، B، C اور D دیئے گئے ہیں۔ جوابی کاپی پر ہر سوال کے سامنے دیئے گئے دائروں میں سے درست جواب کے مطابق متعلقہ دائرہ کو مار کر یا پین سے بھر دیجئے۔ ایک سے زیادہ دائروں کو بھر کر یا کاٹ کر پُر کرنے کی صورت میں مذکورہ جواب غلط تصور ہوگا۔ دائروں کو پُر نہ کرنے کی صورت میں کوئی نمبر نہیں دیا جائے گا۔ اس سوالیہ پرچہ پر

Note: you have four choices for each objective type question as A, B, C and D. The choice

سوالات ہرگز محل نہ کریں۔

which you think is correct, fill that bubble in front of that question number. On bubble sheet, use marker or pen

to fill the bubbles. Cutting or filling two or more bubbles will result in zero mark in that question. Attempt as

many questions as given in objective type question paper and leave others blank. No credit will be awarded

in case BUBBLES are not filled. Do not solve questions on this sheet of OBJECTIVE PAPER.

Q.No1

سوال نمبر 1-

- (1) Sahibzada Abdul Quyyum belonged to the Province of:- صاحبزادہ عبدالقیوم صوبہ _____ سے تعلق رکھتے تھے۔ (1)
- (A) K.P.K خیبر پختونخواہ (B) Punjab پنجاب (C) Bengal بنگال (D) Balochistan بلوچستان
- (2) _____ nation was in majority in the state of _____ قیام پاکستان کے وقت ریاست حیدرآباد کن میں _____ قوم کی اکثریت تھی۔ (2)
- Hyderabad Daccan at the time of creation of Pakistan.
- (A) Muslim مسلمان (B) Hindu ہندو (C) Sikh سکھ (D) Christian عیسائی
- (3) _____ country is located in the North of Pakistan. پاکستان کے شمال میں ملک _____ واقع ہے۔ (3)
- (A) India بھارت (B) Afghanistan افغانستان (C) Iran ایران (D) China چین
- (4) The election of Second Constituent Assembly was held in:- دوسری دستور ساز اسمبلی کا انتخاب _____ میں ہوا۔ (4)
- (A) 1954 (B) 1955 (C) 1956 (D) 1958
- (5) The number of General Councilors in a Union Council is:- ہریوین کونسل میں _____ جنرل کونسلرز ہوتے ہیں۔ (5)
- (A) 4 چار (B) 5 پانچ (C) 6 چھ (D) 7 سات
- (6) The distance between Taxila and Rawalpindi is:- ٹیکسلا کا راولپنڈی سے فاصلہ ہے۔ (6)
- (A) 30 km کلومیٹر (B) 40 km کلومیٹر (C) 50 km کلومیٹر (D) 60 km کلومیٹر
- (7) Rehman Baba was a poet of:- رحمان بابا _____ زبان کے شاعر تھے۔ (7)
- (A) Punjabi پنجابی (B) Sindhi سندھی (C) Pushto پشتو (D) Kashmiri کشمیری
- (8) _____ five year plan of Pakistan was started in 1988. 1988ء میں پاکستان کا _____ پانچ سالہ منصوبہ شروع کیا گیا۔ (8)
- (A) Fifth پانچواں (B) Sixth چھٹا (C) Seventh ساتواں (D) Eighth آٹھواں
- (9) Socially constructed notions of toxic masculinity _____ معاشرتی طور پر بنائے گئے مردانہ برتری کے منفی تصورات تقاضا کرتے ہیں سوائے:- (9)
- do not demand:-
- (A) Men exert dominance and control مرد عیب و بدبہ سے قابو کرتے ہیں
- (B) Men act aggressive مرد بہت غصہ کرتے ہیں (C) Men act sensitive and emotional مرد حساس اور جذباتی ہوتے ہیں
- (D) Men act violent مرد تشدد کرتے ہیں
- (10) Name of Saudi king, who visited Pakistan in 1966:- 1966ء میں _____ سعودی فرمانروا نے پاکستان کا دورہ کیا۔ (10)
- (A) Shah Abdul Aziz شاہ عبدالعزیز (B) Shah Abdullah شاہ عبداللہ
- (C) Shah Saud شاہ سعود (D) Shah Faisal شاہ فیصل

Paper Code

2018 (S)

رول نمبر

Number: 4913

INTERMEDIATE PART-II (12th CLASS)

PAKISTAN STUDIES (COMPULSORY) (NEW COURSE)

مطالعہ پاکستان (لازمی) (نیوکورس)

TIME ALLOWED: 15 Minutes

حصہ معروضی OBJECTIVE

وقت = 15 منٹ

MAXIMUM MARKS: 10

کل نمبر = 10

نوٹ۔ ہر سوال کے چار ممکنہ جوابات A، B، C اور D دیئے گئے ہیں۔ جوابی کارٹی پر ہر سوال کے سامنے دیئے گئے دائروں میں سے درست جواب کے مطابق متعلقہ دائرہ کو مار کر یا پین سے بھر

دیکھئے۔ ایک سے زیادہ دائروں کو بھر کرنے یا کاٹ کر بھر کرنے کی صورت میں مذکورہ جواب غلط تصور ہوگا۔ دائروں کو بھر نہ کرنے کی صورت میں کوئی نمبر نہیں دیا جائے گا۔ اس سوالیہ پرچہ پر سوالات ہرگز حل نہ کریں۔

Note: you have four choices for each objective type question as A, B, C and D. The choice which you think is correct, fill that bubble in front of that question number. On bubble sheet, use marker or pen to fill the bubbles. Cutting or filling two or more bubbles will result in zero mark in that question. Attempt as many questions as given in objective type question paper and leave others blank. No credit will be awarded in case BUBBLES are not filled. Do not solve questions on this sheet of OBJECTIVE PAPER.

Q.No1

سوال نمبر 1-

- (1) Rehman Baba was a poet of:- (1) رحمان بابا _____ زبان کے شاعر تھے۔
 (A) Punjabi پنجابی (B) Sindhi سندھی (C) Pushto پشتو (D) Kashmiri کشمیری
- (2) _____ five year plan of Pakistan was started in 1988. (2) 1988ء میں پاکستان کا _____ پانچ سالہ منصوبہ شروع کیا گیا۔
 (A) Fifth پانچواں (B) Sixth چھٹا (C) Seventh ساتواں (D) Eighth آٹھواں
- (3) Socially constructed notions of toxic masculinity do not demand:- (3) معاشرتی طور پر بنائے گئے مردانہ برتری کے منفی تصورات تقاضا کرتے ہیں سوائے:-
 (A) Men exert dominance and control مرد عرصہ در عرصہ سے قابو کرتے ہیں
 (B) Men act aggressive مرد بہت غصہ کرتے ہیں (C) Men act sensitive and emotional مرد حساس اور جذباتی ہوتے ہیں
 (D) Men act violent مرد تشدد کرتے ہیں
- (4) Name of Saudi king, who visited Pakistan in 1966:- (4) 1966ء میں _____ سعودی فرمانروا نے پاکستان کا دورہ کیا۔
 (A) Shah Abdul Aziz شاہ عبدالعزیز (B) Shah Abdullah شاہ عبداللہ
 (C) Shah Saud شاہ سعود (D) Shah Faisal شاہ فیصل
- (5) Sahibzada Abdul Quyyum belonged to the Province of:- (5) صاحبزادہ عبدالقیوم صوبہ _____ سے تعلق رکھتے تھے۔
 (A) K.P.K. خیبر پختونخواہ (B) Punjab پنجاب (C) Bengal بنگال (D) Balochistan بلوچستان
- (6) _____ nation was in majority in the state of Hyderabad Daccan at the time of creation of Pakistan. (6) قیام پاکستان کے وقت ریاست حیدرآباد دکن میں _____ قوم کی اکثریت تھی۔
 (A) Muslim مسلمان (B) Hindu ہندو (C) Sikh سکھ (D) Christian عیسائی
- (7) _____ country is located in the North of Pakistan. (7) پاکستان کے شمال میں ملک _____ واقع ہے۔
 (A) India بھارت (B) Afghanistan افغانستان (C) Iran ایران (D) China چین
- (8) The election of Second Constituent Assembly was held in:- (8) دوسری دستور ساز اسمبلی کا انتخاب _____ میں ہوا۔
 (A) 1954 (B) 1955 (C) 1956 (D) 1958
- (9) The number of General Councilors in a Union Council is:- (9) ہریونین کونسل میں _____ جنرل کونسلرز ہوتے ہیں۔
 (A) 4 چار (B) 5 پانچ (C) 6 چھ (D) 7 سات
- (10) The distance between Taxila and Rawalpindi is:- (10) ٹیکسلا کا راولپنڈی سے فاصلہ ہے۔
 (A) 30 km کلومیٹر (B) 40 km کلومیٹر (C) 50 km کلومیٹر (D) 60 km کلومیٹر

Paper Code

2018 (S)

رول نمبر

Number: 4915

INTERMEDIATE PART-II (12th CLASS)

PAKISTAN STUDIES (COMPULSORY) (NEW COURSE)

مطالعہ پاکستان (لازمی) (نیوکورس)

TIME ALLOWED: 15 Minutes

OBJECTIVE حصہ معروضی

وقت = 15 منٹ

MAXIMUM MARKS: 10

کل نمبر = 10

نوٹ۔ ہر سوال کے چار ممکنہ جوابات A، B، C اور D دیئے گئے ہیں۔ جوابی کاپی پر ہر سوال کے سامنے دیئے گئے دائروں میں سے درست جواب کے مطابق متعلقہ دائرہ کو مار کر یا پین سے بھر

دیجئے۔ ایک سے زیادہ دائروں کو بھر کر یا کاٹ کر پڑھ کر کے صورت میں مذکورہ جواب غلط تصور ہوگا۔ دائروں کو پڑھ کر کے صورت میں کوئی نمبر نہیں دیا جائے گا۔ اس سوالیہ پرچہ پر سوالات ہرگز حل نہ کریں۔

Note: you have four choices for each objective type question as A, B, C and D. The choice which you think is correct, fill that bubble in front of that question number. On bubble sheet, use marker or pen to fill the bubbles. Cutting or filling two or more bubbles will result in zero mark in that question. Attempt as many questions as given in objective type question paper and leave others blank. No credit will be awarded in case BUBBLES are not filled. Do not solve questions on this sheet of OBJECTIVE PAPER.

Q.No1

سوال نمبر 1-

- (1) Socially constructed notions of toxic masculinity _____ معاشرتی طور پر بنائے گئے مردانہ برتری کے منفی تصورات تقاضا کرتے ہیں سوائے:- (1)
- do not demand:-
- (A) Men exert dominance and control مرد رعب و دبدبہ سے قابو کرتے ہیں
- (B) Men act aggressive مرد بہت غصہ کرتے ہیں
- (C) Men act sensitive and emotional مرد حساس اور جذباتی ہوتے ہیں
- (D) Men act violent مرد تشدد کرتے ہیں
- (2) Name of Saudi king, who visited Pakistan in 1966:- (2)
- 1966ء میں _____ سعودی فرمانروا نے پاکستان کا دورہ کیا۔
- (A) Shah Abdul Aziz شاہ عبدالعزیز
- (B) Shah Abdullah شاہ عبداللہ
- (C) Shah Saud شاہ سعود
- (D) Shah Faisal شاہ فیصل
- (3) Sahibzada Abdul Quyyum belonged to the Province of:- (3)
- صاحبزادہ عبدالقیوم صوبہ _____ سے تعلق رکھتے تھے۔
- (A) K.P.K خیبر پختونخواہ
- (B) Punjab پنجاب
- (C) Bengal بنگال
- (D) Balochistan بلوچستان
- (4) _____ nation was in majority in the state of Hyderabad Daccan at the time of creation of Pakistan. (4)
- قیام پاکستان کے وقت ریاست حیدرآباد دکن میں _____ قوم کی اکثریت تھی۔
- (A) Muslim مسلمان
- (B) Hindu ہندو
- (C) Sikh سکھ
- (D) Christian عیسائی
- (5) _____ country is located in the North of Pakistan. (5)
- پاکستان کے شمال میں ملک _____ واقع ہے۔
- (A) India بھارت
- (B) Afghanistan افغانستان
- (C) Iran ایران
- (D) China چین
- (6) The election of Second Constituent Assembly was held in:- (6)
- دوسری دستور ساز اسمبلی کا انتخاب _____ میں ہوا۔
- (A) 1954
- (B) 1955
- (C) 1956
- (D) 1958
- (7) The number of General Councilors in a Union Council is:- (7)
- ہر یونین کونسل میں _____ جنرل کونسلرز ہوتے ہیں۔
- (A) 4 چار
- (B) 5 پانچ
- (C) 6 چھ
- (D) 7 سات
- (8) The distance between Taxila and Rawalpindi is:- (8)
- ٹیکسلا کا راولپنڈی سے فاصلہ ہے۔
- (A) 30 km کلومیٹر
- (B) 40 km کلومیٹر
- (C) 50 km کلومیٹر
- (D) 60 km کلومیٹر
- (9) Rehman Baba was a poet of:- (9)
- رحمان بابا _____ زبان کے شاعر تھے۔
- (A) Punjabi پنجابی
- (B) Sindhi سندھی
- (C) Pushto پشتو
- (D) Kashmiri کشمیری
- (10) _____ five year plan of Pakistan was started in 1988. (10)
- 1988ء میں پاکستان کا _____ پانچ سالہ منصوبہ شروع کیا گیا۔
- (A) Fifth پانچواں
- (B) Sixth چھٹا
- (C) Seventh ساتواں
- (D) Eighth آٹھواں

Paper Code

2018 (S)

رول نمبر

Number: 4917

INTERMEDIATE PART-II (12th CLASS)

PAKISTAN STUDIES (COMPULSORY) (NEW COURSE)

مطالعہ پاکستان (لازمی) (نیوکورس)

TIME ALLOWED: 15 Minutes

OBJECTIVE حصہ معروضی

وقت = 15 منٹ

MAXIMUM MARKS: 10

کل نمبر = 10

نوٹ۔ ہر سوال کے چار ممکنہ جوابات A، B، C اور D دیئے گئے ہیں۔ جوابی کاپی پر ہر سوال کے سامنے دیئے گئے دائروں میں سے درست جواب کے مطابق متعلقہ دائرہ کو مار کر یا پین سے بھر دیجئے۔ ایک سے زیادہ دائروں کو بھر کرنے یا کاٹ کر بھر کرنے کی صورت میں مذکورہ جواب غلط تصور ہوگا۔ دائروں کو بھر نہ کرنے کی صورت میں کوئی نمبر نہیں دیا جائے گا۔ اس سوالیہ پرچہ پر سوالات ہرگز حل نہ کریں۔

Note: you have four choices for each objective type question as A, B, C and D. The choice which you think is correct, fill that bubble in front of that question number. On bubble sheet, use marker or pen to fill the bubbles. Cutting or filling two or more bubbles will result in zero mark in that question. Attempt as many questions as given in objective type question paper and leave others blank. No credit will be awarded in case BUBBLES are not filled. Do not solve questions on this sheet of OBJECTIVE PAPER.

Q.No1

سوال نمبر 1-

- (1) _____ country is located in the North of Pakistan. (1) پاکستان کے شمال میں ملک _____ واقع ہے۔
 (A) India بھارت (B) Afghanistan افغانستان (C) Iran ایران (D) China چین
- (2) The election of Second Constituent Assembly was held in:- (2) دوسری دستور ساز اسمبلی کا انتخاب _____ میں ہوا۔
 (A) 1954 (B) 1955 (C) 1956 (D) 1958
- (3) The number of General Councilors in a Union Council is:- (3) ہریوین کونسل میں _____ جنرل کونسلرز ہوتے ہیں۔
 (A) 4 چار (B) 5 پانچ (C) 6 چھ (D) 7 سات
- (4) The distance between Taxila and Rawalpindi is:- (4) ٹیکسلا کاراولپنڈی سے فاصلہ ہے۔
 (A) 30 km کلومیٹر (B) 40 km کلومیٹر (C) 50 km کلومیٹر (D) 60 km کلومیٹر
- (5) Rehman Baba was a poet of:- (5) رحمان بابا _____ زبان کے شاعر تھے۔
 (A) Punjabi پنجابی (B) Sindhi سندھی (C) Pushto پشتو (D) Kashmiri کشمیری
- (6) _____ five year plan of Pakistan was started in 1988. (6) 1988ء میں پاکستان کا _____ پانچ سالہ منصوبہ شروع کیا گیا۔
 (A) Fifth پانچواں (B) Sixth چھٹا (C) Seventh ساتواں (D) Eighth آٹھواں
- (7) Socially constructed notions of toxic masculinity do not demand:- (7) معاشرتی طور پر بنائے گئے مردانہ برتری کے منفی تصورات تقاضا کرتے ہیں سوائے:-
 (A) Men exert dominance and control مرد عصب و دبدبہ سے قابو کرتے ہیں
 (B) Men act aggressive مرد بہت غصہ کرتے ہیں (C) Men act sensitive and emotional مرد حساس اور جذباتی ہوتے ہیں
 (D) Men act violent مرد تشدد کرتے ہیں
- (8) Name of Saudi king, who visited Pakistan in 1966:- (8) 1966ء میں _____ سعودی فرمانروا نے پاکستان کا دورہ کیا۔
 (A) Shah Abdul Aziz شاہ عبدالعزیز (B) Shah Abdullah شاہ عبداللہ
 (C) Shah Saud شاہ سعود (D) Shah Faisal شاہ فیصل
- (9) Sahibzada Abdul Quyyum belonged to the Province of:- (9) صاحبزادہ عبدالقیوم صوبہ _____ سے تعلق رکھتے تھے۔
 (A) K.P.K خیبر پختونخواہ (B) Punjab پنجاب (C) Bengal بنگال (D) Balochistan بلوچستان
- (10) _____ nation was in majority in the state of Hyderabad Dacca at the time of creation of Pakistan. (10) قیام پاکستان کے وقت ریاست حیدرآباد دکن میں _____ قوم کی اکثریت تھی۔
 (A) Muslim مسلمان (B) Hindu ہندو (C) Sikh سکھ (D) Christian عیسائی

www.arifrao.com
 BOARD OF INTERMEDIATE AND SECONDARY EDUCATION, MULTAN
 OBJECTIVE KEY FOR INTERMEDIATE ANNUAL/SUPPLY EXAMINATION, 2018'

Name of Subject: Business Statistics Session: _____



Q.Nos	Paper Code	Paper Code	Paper Code	Paper Code
	4641			
1	A			
2	C			
3	B			
4	C			
5	C			
6	A			
7	D			
8	B			
9	D			
10	A			
11				
12				
13				
14				
15				
16				
17				
18				
19				
20				

سرٹیفکیٹ بابت صحیح سوالیہ پرچہ مارکنگ Key

ہم نے مضمون بزنس شماریات پرچہ II گروپ I سیکم نیو انٹرسلانہ اٹھنی امتحان 2018 کا سوالیہ پرچہ انشائیہ و معروضی (Subjective & Objective) کو بنظر عمیق چیک کر لیا ہے یہ پرچہ Syllabus کے عین مطابق Set کیا گیا ہے۔ اس سوالیہ پرچہ میں کسی قسم کی کوئی غلطی نہ ہے۔ ہم نے سوالیہ پرچہ کا اردو اور انگریزی Version بھی چیک کر لیا ہے۔ یہ Version آپس میں مطابقت رکھتے ہیں۔ نیز اس پرچہ کی معروضی (MCQs) Key کی بابت تصدیق کی جاتی ہے کہ اس میں بھی کسی قسم کی کوئی غلطی نہ ہے۔ مزید یہ کہ ہم نے Key بنانے سے متعلق دفتر کی جانب سے تیار کردہ ہدایات وصول کر کے ان کا بغور مطالعہ کر لیا ہے اور ان کی روشنی میں Key بنائی ہے۔ نیز سب ایگزامینرز کیلئے تفصیلی مارکنگ ہدایات / مارکنگ سکیم / Rubrics بھی تیار کر دی گئی ہیں۔

Prepared & Checked By:

Dated: 19-11-2018

S.#	Name	Designation	Institution	Mobile No	Signature
1	Munhatra Nawaz Khan	Principal	G.H.S.S. Ayyazabad Maua Multan.	0333-6105660	 19/11/18
2	Muhammad Fia	Lecturer	Govt college civil Lines Multan	03350805802	
3					

2018 (S)

Roll No: _____

INTERMEDIATE PART-II (12th CLASS)**BUSINESS MATHEMATICS & STATISTICS (NEW SCHEME)
PAPER-II (COMMERCE GROUP)**

TIME ALLOWED: 1.45 Hours

SUBJECTIVE

MAXIMUM MARKS: 40

**NOTE: - Write same question number and its part number on answer book,
as given in the question paper.****SECTION-I****2. Attempt any six parts.****6 × 2 = 12**

- (i) Write two major sources for collecting secondary data.
- (ii) What are the two branches of Statistics?
- (iii) What is a Variable?
- (iv) Define Multiple Bar chart.
- (v) What is meant by Class-boundaries?
- (vi) Define Tabulation.
- (vii) Define Class Limits.
- (viii) What is a Frequency Distribution?
- (ix) What is Histogram?

3. Attempt any six parts.**6 × 2 = 12**

- (i) Define Median.
- (ii) Define Weighted Arithmetic Mean.
- (iii) What will be the sum of $(X - \bar{X})$
- (iv) If $\sum X = 90$ and $\bar{X} = 15$ then what will be the value of N?
- (v) What is quantity Index Number?
- (vi) Define Link Relatives.
- (vii) Define Probability.
- (viii) What is an Event?
- (ix) What is meant by Empty Set?

SECTION-II**NOTE: - Attempt any two questions.****2 × 8 = 16**

- 4.(a) Construct frequency distribution taking 5 as class interval size and 30 as lowest limit. 4

40, 47, 37, 55, 31, 37, 52, 38, 30, 51
32, 42, 47, 51, 33, 40, 51, 34, 39, 54
36, 49, 31, 47, 50, 43, 49, 37, 41, 50
31, 52, 34, 42, 44, 41, 43, 49, 45, 46

- (b) Draw a Histogram for the distribution obtained in part (a). 4

- 5.(a) Calculate Median and Mode from the following frequency distribution. 4

No. of children	0	1	2	3	4	5	6	7
Frequency	1	3	3	6	5	4	2	1

- (b) Compute Mode from the following data. 4

Marks	10-19	20-29	30-39	40-49	50-59
Frequency	5	25	40	20	10

- 6.(a) Calculate Fisher's Price Index number for 2005 taking 2004 as base year. 4

Commodity	Years			
	2004 (Base)		2005	
	Price	Quantity	Price	Quantity
A	2	50	10	40
B	3	10	8	50
C	4	60	4	80

- (b) A bag contains 2 red, 3 green, 5 blue and 2 yellow balls. Find probability that balls of all the colours are represented in a sample, if 4 balls are selected at random. 4

Paper Code

2018 (S)

Roll No. _____

Number:

4641

INTERMEDIATE PART-II (12th CLASS)

BUSINESS MATHEMATICS & STATISTICS (NEW SCHEME)

PAPER-II (COMMERCE GROUP)

TIME ALLOWED: 15 Minutes

OBJECTIVE

MAXIMUM MARKS: 10

Note: You have four choices for each objective type question as A, B, C and D. The choice which you think is correct, fill that bubble in front of that question number. Use marker or pen to fill the bubbles. Cutting or filling two or more bubbles will result in zero mark in that question. Attempt as many questions as given in objective type question paper and leave others blank. No credit will be awarded in case BUBBLES are not filled. Do not solve questions on this sheet of OBJECTIVE PAPER.

Q.No.1

- (1) The word statistics is derived from:-
 (A) Latin word (B) Greek word (C) Italian word (D) English word
- (2) Number of children is an example of:-
 (A) Constant (B) Attribute (C) Discrete variable (D) Continuous variable
- (3) The graph of a cumulative frequency distribution is called:-
 (A) Polygon (B) Ogive (C) Bar diagram (D) Histogram
- (4) The values of the variables, which explain the classes are called:-
 (A) Class marks (B) Class intervals (C) Class limits (D) All of these
- (5) _____ divides the arranged data in two equal halves:-
 (A) Arithmetic mean (B) Mode (C) Median (D) Quartiles
- (6) A set of data may have more than one _____.
 (A) Mode (B) Median (C) Mean (D) Geometric mean
- (7) The normal year in index number should be year of:-
 (A) Recession (B) War (C) Flood (D) None of these
- (8) By dividing price of current year by price of fixed year, we get:-
 (A) Chain relative (B) Price relative (C) Link relative (D) All these
- (9) Factorial of 5 is equal to:-
 (A) 5 (B) 10 (C) 25 (D) 120
- (10) Diagrammatic representation of sets and their relationship is called:-
 (A) Venn diagram (B) Probability (C) Sample space (D) Event

www.arifrao.com
 BOARD OF INTERMEDIATE AND SECONDARY EDUCATION, MULTAN
 OBJECTIVE KEY FOR INTERMEDIATE ANNUAL/SUPPLY EXAMINATION, 2018'

Name of Subject: Education

Session: _____

Q.Nos	Paper Code 4431	Paper Code 4433	Paper Code 4435	Paper Code 4437
1	A	B	C	B
2	C	C	D	A
3	B	A	D	D
4	A	A	B	B
5	B	A	A	B
6	C	B	B	A
7	D	A	C	C
8	D	D	A	B
9	B	B	A	A
10	A	B	A	B
11	B	A	B	C
12	C	C	A	D
13	A	B	D	D
14	A	A	B	B
15	A	B	B	A
16	B	C	A	B
17	A	D	C	C
18	D	D	B	A
19	B	B	A	A
20	B	A	B	A

سرٹیفکیٹ مابت صحیح سوالیہ پرچہ مارکنگ Key

ہم نے مضمون 'تعلیم' پرچہ دوسرا گروپ سکیم انٹرمیڈیٹ امتحان 2018 کا سوالیہ پرچہ انشائیہ و معروضی (Subjective & Objective) کو بنظر عین چیک کر لیا ہے یہ پرچہ Syllabus کے عین مطابق Set کیا گیا ہے۔ اس سوالیہ پرچہ میں کسی قسم کی کوئی غلطی نہ ہے۔ ہم نے سوالیہ پرچہ کا اردو اور انگریزی Version بھی چیک کر لیا ہے۔ یہ Version آپس میں مطابقت رکھتے ہیں۔ نیز اس پرچہ کی معروضی (MCQs) Key کی بابت تصدیق کی جاتی ہے کہ اس میں بھی کسی قسم کی کوئی غلطی نہ ہے۔ مزید یہ کہ ہم نے Key بنانے سے متعلق دفتر کی جانب سے تیار کردہ ہدایات وصول کر کے ان کا بغور مطالعہ کر لیا ہے اور ان کی روشنی میں Key بنائی ہے۔ نیز سب ایگزامینرز کیلئے تفصیلی مارکنگ ہدایات / مارکنگ سکیم Rubrics بھی تیار کر دی گئی ہیں۔

Prepared & Checked By:

Dated: 19. 11. 2018

S.#	Name	Designation	Institution	Mobile No	Signature
1	Saleem garbal	A/P	Govt Emerson College Multan.	03515-875038	
2	Muhammad Ahmad	MP	Govt. Alarndar Hussain Islamia Degree College, Multan	03007350712	
3	HAKIM ALI	Associate Professor	Govt. W.H. Islamia College Multan	0321-7352171	

انٹرمیڈیٹ امتحان پارٹ - II (کلاس بارہویں)

EDUCATION PAPER-II

علم التعليم پرچہ - دوسرا

TIME ALLOWED: 2.30 Hours

SUBJECTIVE حصہ انشائیہ

وقت = 2.30 گھنٹے

MAXIMUM MARKS: 80

کل نمبر = 80

نوٹ: - Write same question number and its part number on answer book, as given in the question paper. - جو ابی کا پی پر وہی سوال نمبر اور جزو نمبر درج کیجیے جو کہ سوالیہ پرچے میں درج ہے۔

SECTION-I حصہ اول

2. Attempt any eight parts. 16 = 2 x 8 سوال نمبر 2- کوئی سے آٹھ اجزا کے جوابات تحریر کیجیے۔
- (i) What is the difference between Maktab and Madrasa? (i) مکتب اور مدرسہ میں کیا فرق ہے؟
- (ii) What is the causes of popularity of Andalus? (ii) اندلس کی وجہ شہرت کیا ہے؟
- (iii) What does "Jamiaat" mean? (iii) جامعات سے کیا مراد ہے؟
- (iv) Write two characteristics of Suffah. (iv) صفحہ کی دو خصوصیات تحریر کیجیے۔
- (v) In which three stages, Knowledge has been divided by Ibn-e-Seena? (v) ابن سینا نے علوم کو کون سے تین مدارج میں تقسیم کیا ہے؟
- (vi) Who was called "Moeed"? (vi) "معد" کسے کہتے تھے؟
- (vii) Describe two advantages of Discussion method. (vii) مباحثی طریقہ تدریس کے دو فوائد بیان کیجیے۔
- (viii) What was the curriculum at Secondary Education in the Muslim regime of subcontinent? (viii) مسلمانوں کے عہد میں ثانوی تعلیم کا نصاب کیا تھا؟
- (ix) What is the status of five senses by Ibn-e-Khaldoon? (ix) ابن خلدون کے نزدیک حواس خمسہ کی کیا حیثیت ہے؟
- (x) What was the system of "Grants in Aid" in Wood's Dispatch? (x) وڈز ڈسپچ میں "گرانٹس ان ایڈ" کا کیا نظام تھا؟
- (xi) Write two sections of the Act of 1813. (xi) 1813ء کے ایکٹ کی دو دفعات لکھیں۔
- (xii) Write two important educational events of third period during the British rule in India. (xii) برطانوی ہند میں تیسرے دور کے دو اہم تعلیمی واقعات تحریر کریں۔
3. Attempt any eight parts. 16 = 2 x 8 سوال نمبر 3- کوئی سے آٹھ اجزا کے جوابات تحریر کیجیے۔
- (i) What is meant by literacy according to National census 1981 in Pakistan? (i) پاکستان میں 1981ء کی مردم شماری کے مطابق خواندگی سے کیا مراد ہے؟
- (ii) What is the ratio of women education in rural areas of Pakistan? (ii) پاکستان میں دیہاتوں میں خواتین کی تعلیم کا تناسب کیا ہے؟
- (iii) Write down the purpose of Allama Iqbal Open University. (iii) علامہ اقبال اوپن یونیورسٹی کے قیام کا مقصد تحریر کیجیے۔
- (iv) What was recommended for Textbook Board in the National Education Commission 1959? (iv) 1959ء کے تعلیمی کمیشن میں ٹیکسٹ بک بورڈ کے لیے کیا سفارش کی گئی؟
- (v) What was the important function of Scientific Society? (v) سائنٹیفک سوسائٹی کا اہم کام کیا تھا؟
- (vi) When the teaching of Islamiyat and Pakistan Studies were made compulsory? (vi) اسلامیات اور مطالعہ پاکستان کی تدریس کب لازمی کی گئی؟
- (vii) Write down the Educational services of Sir Syed Ahmad Khan. (vii) سر سید احمد خان کی تعلیمی خدمات تحریر کیجیے۔
- (viii) Explain the administrative and financial aspects of Deo Band Movement. (viii) تحریک دیوبند کا انتظامی و مالی پہلو تفصیل سے لکھیے۔
- (ix) Why were the Muslims backward in Education after the arrival of the British in the subcontinent? (ix) برصغیر میں انگریزوں کی آمد کے بعد مسلمان تعلیمی لحاظ سے انتہائی پسماندہ کیوں تھے؟

(2)

- (x) Why did the majority of the Muslims not accept the British Education System in the subcontinent? برصغیر میں انگریزوں کے نظام تعلیم کو اکثر مسلمانوں نے کیوں قبول نہ کیا؟ (x)
- (xi) Write two solid reasons for not attaining the desired results from the education policy 1972-80. کی تعلیمی پالیسی سے مطلوبہ نتائج حاصل نہ ہونے کی کوئی سی دو ٹھوس وجوہات تحریر کیجیے۔ (xi)
- (xii) Write two comprehensive sentences about National Book Foundation. نیشنل بک فاؤنڈیشن پر دو جامع جملے لکھیے۔ (xii)

4. Attempt any nine parts.

18 = 2 x 9

سوال نمبر 4۔ کوئی سے نواجزات کے جوابات تحریر کیجیے۔

- (i) Describe concept of Women Education. تعلیم نسواں کا مفہوم بیان کریں۔ (i)
- (ii) Define Discipline. نظم و ضبط کی تعریف لکھیے۔ (ii)
- (iii) Identify two symptoms which show lack of discipline. نظم و نسق کے فقدان کی دو علامات کی نشاندہی کریں۔ (iii)
- (iv) On whom the term school drop out is being applied in Pakistan? پاکستان میں ترک مدرسہ کی اصطلاح کا اطلاق کن پر ہوتا ہے؟ (iv)
- (v) Discuss two problems of middle class. متوسط طبقے کی دو مشکلات کا تذکرہ کریں۔ (v)
- (vi) Write down two causes of School drop out. ترک مدرسہ کی دو وجوہات لکھیے۔ (vi)
- (vii) What is the behaviour of elite class regarding Education? تعلیم کے متعلق امراء کا طبقہ کیا رویہ رکھتا ہے؟ (vii)
- (viii) What is the responsibility of Provincial government regarding Curriculum development? صوبائی محکمہ تعلیم کی تدوین نصاب کے حوالے سے کیا ذمہ داری ہے؟ (viii)
- (ix) Who helps Secretary Education in Provincial Education Department? (Name any two posts) صوبائی محکمہ تعلیم میں سیکریٹری تعلیم کی معاونت کون کرتا ہے؟ (کوئی دو عہدوں کے نام) (ix)
- (x) Who does supervise the Educational matters at District level? ضلعی کے تعلیمی امور کی نگرانی کون کرتا ہے؟ (x)
- (xi) Write down names of two officers, who help EDO. EDO کی مدد کے لیے کوئی سے دو عہدوں کے نام لکھیے۔ (xi)
- (xii) Write names of any two bodies of University who help Vice Chancellor. وائس چانسلر کی مدد کے لیے یونیورسٹی میں پائے جانے والے دو اداروں کے نام لکھیے۔ (xii)
- (xiii) What is meant by Text book Board? ٹیکسٹ بک بورڈ سے کیا مراد ہے؟ (xiii)

SECTION-II حصہ دوم

NOTE: - Attempt any three questions. 30 = 10 x 3۔ کوئی سے تین سوالات کے جوابات تحریر کیجیے۔

5. Describe the characteristics of Deo Band Movement. تحریک دیوبند کی خصوصیات بیان کیجیے۔ 5
6. Highlight any five Educational objectives of the Muslims in the subcontinent. برصغیر میں مسلمانوں کے کوئی سے پانچ مقاصد تعلیم پر روشنی ڈالیں۔ 6
7. Analyze the recommendations of National Education Policy 1992. قومی تعلیمی پالیسی 1992ء کی سفارشات کا جائزہ لیں۔ 7
8. Write down five factors which influence the standard of Education. معیار تعلیم کو متاثر کرنے والے پانچ عوامل تحریر کیجیے۔ 8
9. Describe different phases in Text book Board. ٹیکسٹ بک بورڈ میں مختلف مراحل کی وضاحت کیجیے۔ 9

Paper Code

2018 (S)

رول نمبر

Number: 4431

انٹرمیڈیٹ امتحان پارٹ - II (کلاس بارہویں)

EDUCATION PAPER-II

علم التعليم پرچہ - دوسرا

TIME ALLOWED: 30 Minutes

OBJECTIVE حصہ معروضی

وقت = 30 منٹ

MAXIMUM MARKS: 20

کل نمبر = 20

نوٹ۔ ہر سوال کے چار ممکنہ جوابات A, B, C اور D دیئے گئے ہیں۔ جوابی کا پی پر ہر سوال کے سامنے دیئے گئے دائروں میں سے درست جواب کے مطابق متعلقہ دائرہ کو مارکر یا پین سے بھر دیجئے۔ ایک سے زیادہ دائروں کو بھر کرنے یا کاٹ کر بھر کرنے کی صورت میں مذکورہ جواب غلط تصور ہوگا۔ دائروں کو بھر نہ کرنے کی صورت میں کوئی نمبر نہیں دیا جائے گا۔ اس سوال پرچہ پر

Note: you have four choices for each objective type question as A, B, C and D. The choice which you think is correct, fill that bubble in front of that question number. On bubble sheet, use marker or pen to fill the bubbles. Cutting or filling two or more bubbles will result in zero mark in that question. Attempt as many questions as given in objective type question paper and leave others blank. No credit will be awarded in case BUBBLES are not filled. Do not solve questions on this sheet of OBJECTIVE PAPER.

Q.No.1

سوال نمبر 1-

- (1) The distance between Masjid-e-Quba and Madina was:-
(A) Three miles تین میل (B) Four miles چار میل (C) Five miles پانچ میل (D) Seven miles سات میل
- (2) Sindh was conquered by:-
(A) Mehmood Ghaznavi محمود غزنوی نے (B) Tariq bin Ziad طارق بن زیاد نے (C) Muhammad bin Qasim محمد بن قاسم نے (D) Hajaj bin Yousaf حجاج بن یوسف نے
- (3) Ibn-e-Khaldoon taught in Al- Azhar University:-
(A) Economics معاشیات (B) Fiqah فقہ (C) Mathematics ریاضی (D) Medicine طب
- (4) Ibn-e-Sina learnt the Holy Quran by heart at the age of:-
(A) Ten years دس سال (B) Eight years آٹھ سال (C) Fifteen years پندرہ سال (D) Six years چھ سال
- (5) After British occupation on subcontinent Hindus cooperated with:-
(A) Muslims مسلمانوں کا (B) British government حکومت برطانیہ کا (C) Scholars علماء کا (D) Political leaders سیاسی رہنماؤں کا
- (6) Deo Band Madrasa was started by:-
(A) Sir Syed Ahmad Khan سر سید احمد خان نے (B) Quaid-e-Azam قائد اعظم نے (C) Maulana Qasim Nanotavi مولانا قاسم نانوتوی نے (D) Allama Muhammad Iqbal علامہ محمد اقبال نے
- (7) A prominent scholar of Deo Band was:-
(A) Imam Ghazali امام غزالی (B) Ibn-e-Sina ابن سینا (C) Ibn-e-Khaldoon ابن خلدون (D) Maulana Mehmood-ul-Hassan مولانا محمود الحسن
- (8) Scientific society was founded in:-
(A) 1860ء میں (B) 1861ء میں (C) 1862ء میں (D) 1864ء میں
- (9) 1959 Commission was constituted by:-
(A) Noor Khan نور خان نے (B) Ayub Khan ایوب خان نے (C) S.M Sharif ایس ایم شریف نے (D) Liaquat Ali Khan لیاقت علی خان نے
- (10) In 1970 policy subject was recommended to remove shortage of teachers:-
(A) Education علم التعليم (B) Economics معاشیات (C) Psychology نفسیات (D) Sociology عمرانیات
- (11) The present name of People's Open University is:-
(A) Quaid-e-Azam University قائد اعظم یونیورسٹی (B) Allama Iqbal Open University علامہ اقبال اوپن یونیورسٹی (C) Fatima Jinnah University فاطمہ جناح یونیورسٹی (D) Rifah University رفاه یونیورسٹی
- (12) The purpose of establishment of Masajid Schools was:-
(A) Technical Education فنی تعلیم (B) Modern Education جدید تعلیم (C) To cut down expenses اخراجات میں کمی (D) Agricultural Education زرعی تعلیم
- (13) The cause of decrease in Standard of Education is:-
(A) Incapable teachers نااہل اساتذہ (B) Capable teachers باصلاحیت اساتذہ (C) Honest teachers ایماندار اساتذہ (D) Trained teachers تربیت یافتہ اساتذہ
- (14) The reason of increasing number of children in schools is:-
(A) Over population آبادی میں اضافہ (B) Poverty غربت (C) Parents والدین (D) Class fellows ساتھی طلبا
- (15) Poor class gives importance to:-
(A) Wealth دولت کو (B) Health صحت کو (C) Education تعلیم کو (D) Time وقت کو
- (16) Middle class includes:-
(A) Industrialists صنعت کار (B) Government employers سرکاری ملازم (C) Politicians سیاست دان (D) Land Lords جاگیردار
- (17) In our country examinations of Secondary and Intermediate level are conducted by:-
(A) Education Board تعلیمی بورڈ (B) Textbook Board ٹیکسٹ بک بورڈ (C) Cricket Board کرکٹ بورڈ (D) Medical Board میڈیکل بورڈ
- (18) The head of Higher Education Commission is called:-
(A) Chancellor چانسلر (B) Director ڈائریکٹر (C) Principal پرنسپل (D) Chairman چیئرمین
- (19) The stages of implementation of Curriculum are:-
(A) Three تین (B) Two دو (C) Four چار (D) Six چھ
- (20) In Punjab the number of Education Colleges according to Textbook are:-
(A) Ten دس (B) Six چھ (C) Eight آٹھ (D) Four چار

Paper Code

Number: 4433

2018 (S)

انٹرمیڈیٹ امتحان پارٹ - II (کلاس بارہویں)

رول نمبر

EDUCATION PAPER-II

علم التعليم پرچہ - دوسرا

TIME ALLOWED: 30 Minutes

OBJECTIVE حصہ معروضی

وقت = 30 منٹ

MAXIMUM MARKS: 20

کل نمبر = 20

نوٹ۔ ہر سوال کے چار ممکنہ جوابات A، B، C اور D دیئے گئے ہیں۔ جوابی کاپی پر ہر سوال کے سامنے دیئے گئے دائروں میں سے درست جواب کے مطابق متعلقہ دائرہ کو مارکر یا پین سے بھر دیجئے۔ ایک سے زیادہ دائروں کو بھر کرنے یا کاٹ کر بھر کرنے کی صورت میں مذکورہ جواب غلط تصور ہوگا۔ دائروں کو بھر نہ کرنے کی صورت میں کوئی نمبر نہیں دیا جائے گا۔ اس سوال پرچہ پر سوالات ہرگز حل نہ کریں۔

Note: you have four choices for each objective type question as A, B, C and D. The choice which you think is correct, fill that bubble in front of that question number. On bubble sheet, use marker or pen to fill the bubbles. Cutting or filling two or more bubbles will result in zero mark in that question. Attempt as many questions as given in objective type question paper and leave others blank. No credit will be awarded in case BUBBLES are not filled. Do not solve questions on this sheet of OBJECTIVE PAPER.

Q.No.1

سوال نمبر 1-

- (1) The present name of People's Open University is:-
(A) Quaid-e-Azam University قائد اعظم یونیورسٹی (B) Allama Iqbal Open University علامہ اقبال اوپن یونیورسٹی
(C) Fatima Jinnah University فاطمہ جناح یونیورسٹی (D) Rifah University رفاه یونیورسٹی
- (2) The purpose of establishment of Masajid Schools was:-
(A) Technical Education فنی تعلیم (B) Modern Education جدید تعلیم
(C) To cut down expenses اخراجات میں کمی (D) Agricultural Education زرعی تعلیم
- (3) The cause of decrease in Standard of Education is:-
(A) Incapable teachers نااہل اساتذہ (B) Capable teachers باصلاحیت اساتذہ
(C) Honest teachers ایماندار اساتذہ (D) Trained teachers تربیت یافتہ اساتذہ
- (4) The reason of increasing number of children in schools is:-
(A) Over population آبادی میں اضافہ (B) Poverty غربت (C) Parents والدین (D) Class fellows ساتھی طلبا
- (5) Poor class gives importance to:-
(A) Wealth دولت کو (B) Health صحت کو (C) Education تعلیم کو (D) Time وقت کو
- (6) Middle class includes:-
(A) Industrialists صنعت کار (B) Government employers سرکاری ملازم (C) Politicians سیاست دان (D) Land Lords جاگیردار
- (7) In our country examinations of Secondary and Intermediate level are conducted by:-
(A) Education Board تعلیمی بورڈ (B) Textbook Board ٹیکسٹ بک بورڈ
(C) Cricket Board کرکٹ بورڈ (D) Medical Board میڈیکل بورڈ
- (8) The head of Higher Education Commission is called:-
(A) Chancellor چانسلر (B) Director ڈائریکٹر (C) Principal پرنسپل (D) Chairman چیئرمین
- (9) The stages of implementation of Curriculum are:-
(A) Three تین (B) Two دو (C) Four چار (D) Six چھ
- (10) In Punjab the number of Education Colleges according to Textbook are:-
(A) Ten دس (B) Six چھ (C) Eight آٹھ (D) Four چار
- (11) The distance between Masjid-e-Quba and Madina was:-
(A) Three miles تین میل (B) Four miles چار میل (C) Five miles پانچ میل (D) Seven miles سات میل
- (12) Sindh was conquered by:-
(A) Mahmood Ghaznavi محمود غزنوی نے (B) Tariq bin Ziad طارق بن زیاد نے (C) Muhammad bin Qasim محمد بن قاسم نے (D) Hajaj bin Yousaf حجاج بن یوسف نے
- (13) Ibn-e-Khaldoon taught in Al- Azhar University:-
(A) Economics معاشیات (B) Fiqah فقہ (C) Mathematics ریاضی (D) Medicine طب
- (14) Ibn-e-Sina learnt the Holy Quran by heart at the age of:-
(A) Ten years دس سال (B) Eight years آٹھ سال (C) Fifteen years پندرہ سال (D) Six years چھ سال
- (15) After British occupation on subcontinent Hindus cooperated with:-
(A) Muslims مسلمانوں کا (B) British government حکومت برطانیہ کا (C) Scholars علماء کا (D) Political leaders سیاسی رہنماؤں کا
- (16) Deo Band Madrasa was started by:-
(A) Sir Syed Ahmad Khan سر سید احمد خان نے (B) Quaid-e-Azam قائد اعظم نے (C) Maulana Qasim Nanotavi مولانا قاسم نانوتوی نے (D) Allama Muhammad Iqbal علامہ محمد اقبال نے
- (17) A prominent scholar of Deo Band was:-
(A) Imam Ghazali امام غزالی (B) Ibn-e-Sina ابن سینا (C) Ibn-e-Khaldoon ابن خلدون (D) Maulana Mehmood-ul-Hassan مولانا محمود الحسن
- (18) Scientific society was founded in:-
(A) 1860ء میں (B) 1861ء میں (C) 1862ء میں (D) 1864ء میں
- (19) 1959 Commission was constituted by:-
(A) Noor Khan نور خان نے (B) Ayub Khan ایوب خان نے (C) S.M Sharif ایس ایم شریف نے (D) Liaquat Ali Khan لیاقت علی خان نے
- (20) In 1970 policy subject was recommended to remove shortage of teachers:-
(A) Education علم التعليم (B) Economics معاشیات (C) Psychology نفسیات (D) Sociology عمرانیات

Paper Code

2018 (S)

Number: 4435

انٹرمیڈیٹ امتحان پارٹ - II (کلاس بارہویں)

EDUCATION PAPER-II

علم التعليم پرچہ - دوسرا

TIME ALLOWED: 30 Minutes

OBJECTIVE حصہ معروضی

وقت = 30 منٹ

MAXIMUM MARKS: 20

کل نمبر = 20

نوٹ۔ ہر سوال کے چار ممکنہ جوابات A، B، C اور D دیئے گئے ہیں۔ جوابی کاپی پر ہر سوال کے سامنے دیئے گئے دائروں میں سے درست جواب کے مطابق متعلقہ دائرہ کو مار کر یا پین سے بھر دیجئے۔ ایک سے زیادہ دائروں کو بھر کرنے یا کاٹ کر بھر کرنے کی صورت میں مذکورہ جواب غلط تصور ہوگا۔ دائروں کو بھر نہ کرنے کی صورت میں کوئی نمبر نہیں دیا جائے گا۔ اس سوالیہ پرچہ پر سوالات ہرگز حل نہ کریں۔

Note: you have four choices for each objective type question as A, B, C and D. The choice which you think is correct, fill that bubble in front of that question number. On bubble sheet, use marker or pen to fill the bubbles. Cutting or filling two or more bubbles will result in zero mark in that question. Attempt as many questions as given in objective type question paper and leave others blank. No credit will be awarded in case BUBBLES are not filled. Do not solve questions on this sheet of OBJECTIVE PAPER.

سوال نمبر 1۔

- Q.No.1
- (1) Deo Band Madrasa was started by:- (A) Sir Syed Ahmad Khan نے سر سید احمد خان نے (B) Quaid-e-Azam نے قائد اعظم نے (C) Maulana Qasim Nanotavi نے مولانا قاسم نانوتوی نے (D) Allama Muhammad Iqbal نے علامہ محمد اقبال نے
- (2) A prominent scholar of Deo Band was:- (A) Imam Ghazali امام غزالی (B) Ibn-e-Sina ابن سینا (C) Ibn-e-Khaldoon ابن خلدون (D) Maulana Mehmood-ul-Hassan مولانا محمود الحسن
- (3) Scientific society was founded in:- (A) 1860ء میں (B) 1861ء میں (C) 1862ء میں (D) 1864ء میں
- (4) 1959 Commission was constituted by:- (A) Noor Khan نور خان نے (B) Ayub Khan ایوب خان نے (C) S.M Sharif ایس ایم شریف نے (D) Liaquat Ali Khan لیاقت علی خان نے
- (5) In 1970 policy subject was recommended to remove shortage of teachers:- (A) Education علم التعليم (B) Economics معاشیات (C) Psychology نفسیات (D) Sociology عمرانیات
- (6) The present name of People's Open University is:- (A) Quaid-e-Azam University قائد اعظم یونیورسٹی (B) Allama Iqbal Open University علامہ اقبال اوپن یونیورسٹی (C) Fatima Jinnah University فاطمہ جناح یونیورسٹی (D) Rifah University رفاہ یونیورسٹی
- (7) The purpose of establishment of Masajid Schools was:- (A) Technical Education فنی تعلیم (B) Modern Education جدید تعلیم (C) To cut down expenses اخراجات میں کمی (D) Agricultural Education زرعی تعلیم
- (8) The cause of decrease in Standard of Education is:- (A) Incapable teachers نااہل اساتذہ (B) Capable teachers باصلاحیت اساتذہ (C) Honest teachers ایماندار اساتذہ (D) Trained teachers تربیت یافتہ اساتذہ
- (9) The reason of increasing number of children in schools is:- (A) Over population آبادی میں اضافہ (B) Poverty غربت (C) Parents والدین (D) Class fellows ساتھی طلبا
- (10) Poor class gives importance to:- (A) Wealth دولت کو (B) Health صحت کو (C) Education تعلیم کو (D) Time وقت کو
- (11) Middle class includes:- (A) Industrialists صنعت کار (B) Government employers سرکاری ملازم (C) Politicians سیاست دان (D) Land Lords جاگیردار
- (12) In our country examinations of Secondary and Intermediate level are conducted by:- (A) Education Board تعلیمی بورڈ (B) Textbook Board ٹیکسٹ بک بورڈ (C) Cricket Board کرکٹ بورڈ (D) Medical Board میڈیکل بورڈ
- (13) The head of Higher Education Commission is called:- (A) Chancellor چانسلر (B) Director ڈائریکٹر (C) Principal پرنسپل (D) Chairman چیئرمین
- (14) The stages of implementation of Curriculum are:- (A) Three تین (B) Two دو (C) Four چار (D) Six چھ
- (15) In Punjab the number of Education Colleges according to Textbook are:- (A) Ten دس (B) Six چھ (C) Eight آٹھ (D) Four چار
- (16) The distance between Masjid-e-Quba and Madina was:- (A) Three miles تین میل (B) Four miles چار میل (C) Five miles پانچ میل (D) Seven miles سات میل
- (17) Sindh was conquered by:- (A) Mehmood Ghaznavi محمود غزنوی نے (B) Tariq bin Ziad طارق بن زیاد نے (C) Muhammad bin Qasim محمد بن قاسم نے (D) Hajaj bin Yousaf حجاج بن یوسف نے
- (18) Ibn-e-Khaldoon taught in Al- Azhar University:- (A) Economics معاشیات (B) Fiqah فقہ (C) Mathematics ریاضی (D) Medicine طب
- (19) Ibn-e-Sina learnt the Holy Quran by heart at the age of:- (A) Ten years دس سال (B) Eight years آٹھ سال (C) Fifteen years پندرہ سال (D) Six years چھ سال
- (20) After British occupation on subcontinent Hindus cooperated with:- (A) Muslims مسلمانوں کا (B) British government حکومت برطانیہ کا (C) Scholars علماء کا (D) Political leaders سیاسی رہنماؤں کا

Paper Code

Number: 4437

2018 (S)

انٹرمیڈیٹ امتحان پارٹ - II (کلاس بارہویں)

رول نمبر

EDUCATION PAPER-II

علم التعليم پرچہ - دوسرا

TIME ALLOWED: 30 Minutes

OBJECTIVE حصہ معروضی

وقت = 30 منٹ

MAXIMUM MARKS: 20

کل نمبر = 20

نوٹ۔ ہر سوال کے چار ممکنہ جوابات A، B، C اور D دیئے گئے ہیں۔ جوابی کاپی پر ہر سوال کے سامنے دیئے گئے دائروں میں سے درست جواب کے مطابق متعلقہ دائرہ کو مارکر یا پین سے گھر

دیجئے۔ ایک سے زیادہ دائروں کو گھر کرنے یا کاٹ کر پُر کرنے کی صورت میں مذکورہ جواب غلط تصور ہوگا۔ دائروں کو پُر نہ کرنے کی صورت میں کوئی نمبر نہیں دیا جائے گا۔ اس سوال پرچہ پر

سوالات ہرگز حل نہ کریں۔ Note: you have four choices for each objective type question as A, B, C and D. The choice which you think is correct, fill that bubble in front of that question number. On bubble sheet, use marker or pen to fill the bubbles. Cutting or filling two or more bubbles will result in zero mark in that question. Attempt as many questions as given in objective type question paper and leave others blank. No credit will be awarded in case BUBBLES are not filled. Do not solve questions on this sheet of OBJECTIVE PAPER.

Q.No.1

سوال نمبر 1-

- (1) Middle class includes:- (A) Industrialists صنعت کار (B) Government employers سرکاری ملازم (C) Politicians سیاست دان (D) Land Lords جاگیردار (1) متوسط طبقہ میں شامل ہیں۔
- (2) In our country examinations of Secondary and Intermediate level are conducted by:- (A) Education Board تعلیمی بورڈ (B) Textbook Board ٹیکسٹ بک بورڈ (2) ہمارے ملک میں ثانوی اور انٹرمیڈیٹ کے امتحانات لیتا ہے۔
- (3) The head of Higher Education Commission is called:- (A) Chancellor چانسلر (B) Director ڈائریکٹر (C) Principal پرنسپل (D) Chairman چیئرمین (3) ہائر ایجوکیشن کمیشن کا سربراہ کہلاتا ہے۔
- (4) The stages of implementation of Curriculum are:- (A) Three تین (B) Two دو (C) Four چار (D) Six چھ (4) نصاب کے نفاذ کے مراحل کی تعداد ہے۔
- (5) In Punjab the number of Education Colleges according to Textbook are:- (A) Ten دس (B) Six چھ (C) Eight آٹھ (D) Four چار (5) درسی کتاب کے مطابق پنجاب میں ایجوکیشن کالجز کی تعداد ہے۔
- (6) The distance between Masjid-e-Quba and Madina was:- (A) Three miles تین میل (B) Four miles چار میل (C) Five miles پانچ میل (D) Seven miles سات میل (6) مسجد قبا کا مدینہ سے فاصلہ تھا۔
- (7) Sindh was conquered by:- (A) Mahmood Ghaznavi محمود غزنوی نے (B) Tariq bin Ziad طارق بن زیاد نے (C) Muhammad bin Qasim محمد بن قاسم نے (D) Hajaj bin Yousaf حجاج بن یوسف نے (7) سندھ کو فتح کیا۔
- (8) Ibn-e-Khaldoon taught in Al- Azhar University:- (A) Economics معاشیات (B) Fiqah فقہ (C) Mathematics ریاضی (D) Medicine طب (8) ابن خلدون جامعۃ الازہر میں پڑھاتے تھے۔
- (9) Ibn-e-Sina learnt the Holy Quran by heart at the age of:- (A) Ten years دس سال (B) Eight years آٹھ سال (C) Fifteen years پندرہ سال (D) Six years چھ سال (9) ابن سینا کی حفظ قرآن کے وقت عمر تھی۔
- (10) After British occupation on subcontinent Hindus cooperated with:- (A) Muslims مسلمانوں کا (B) British government حکومت برطانیہ کا (C) Scholars علماء کا (D) Political leaders سیاسی رہنماؤں کا (10) برصغیر پر برطانوی قبضے کے بعد ہندوؤں نے ساتھ دیا۔
- (11) Deo Band Madrasa was started by:- (A) Sir Syed Ahmad Khan سر سید احمد خان نے (B) Quaid-e-Azam قائد اعظم نے (C) Maulana Qasim Nanotavi مولانا قاسم نانوتوی نے (D) Allama Muhammad Iqbal علامہ محمد اقبال نے (11) دیوبند مدرسہ کا آغاز کیا۔
- (12) A prominent scholar of Deo Band was:- (A) Imam Ghazali امام غزالی (B) Ibn-e-Sina ابن سینا (C) Ibn-e-Khaldoon ابن خلدون (D) Maulana Mahmood-ul-Hassan مولانا محمود الحسن (12) دیوبند کے اہم عالم تھے۔
- (13) Scientific society was founded in:- (A) 1860ء میں (B) 1861ء میں (C) 1862ء میں (D) 1864ء میں (13) سائنٹیفک سوسائٹی کی بنیاد رکھی گئی۔
- (14) 1959 Commission was constituted by:- (A) Noor Khan نور خان نے (B) Ayub Khan ایوب خان نے (C) S.M Sharif ایس ایم شریف نے (D) Liaquat Ali Khan لیاقت علی خان نے (14) 1959ء کا کمیشن قائم کیا۔
- (15) In 1970 policy subject was recommended to remove shortage of teachers:- (A) Education علم التعليم (B) Economics معاشیات (C) Psychology نفسیات (D) Sociology عمرانیات (15) 1970ء کی پالیسی میں اساتذہ کی کمی دور کرنے کے لیے مضمون تجویز کیا گیا۔
- (16) The present name of People's Open University is:- (A) Quaid-e-Azam University قائد اعظم یونیورسٹی (B) Allama Iqbal Open University علامہ اقبال اوپن یونیورسٹی (C) Fatima Jinnah University فاطمہ جناح یونیورسٹی (D) Rifah University رفاه یونیورسٹی (16) پیپلز اوپن یونیورسٹی کا موجودہ نام ہے۔
- (17) The purpose of establishment of Masajid Schools was:- (A) Technical Education فنی التعليم (B) Modern Education جدید التعليم (C) To cut down expenses اخراجات میں کمی (D) Agricultural Education زرعی التعليم (17) مساجد سکولوں کے قیام کا مقصد تھا۔
- (18) The cause of decrease in Standard of Education is:- (A) Incapable teachers نااہل اساتذہ (B) Capable teachers باصلاحیت اساتذہ (C) Honest teachers ایماندار اساتذہ (D) Trained teachers تربیت یافتہ اساتذہ (18) تعلیمی معیار گرنے کی وجہ ہے۔
- (19) The reason of increasing number of children in schools is:- (A) Over population آبادی میں اضافہ (B) Poverty غربت (C) Parents والدین (D) Class fellows ساتھی طلبا (19) سکولوں میں بچوں کی تعداد میں اضافہ کی وجہ ہے۔
- (20) Poor class gives importance to:- (A) Wealth دولت کو (B) Health صحت کو (C) Education تعلیم کو (D) Time وقت کو (20) غریب طبقہ اہمیت دیتا ہے۔

www.arifrao.com
 BOARD OF INTERMEDIATE AND SECONDARY EDUCATION, MULTAN
 OBJECTIVE KEY FOR INTERMEDIATE ANNUAL/SUPPLY EXAMINATION, 2018

Name of Subject: HS Med

Session: 2016-18

Q.Nos	Paper Code 4421	Paper Code 4423	Paper Code 4425	Paper Code 4427
1	D	D	D	D
2	A	A	B	C
3	C	A	B	D
4	D	A	D	A
5	A	D	A	D
6	A	C	C	D
7	A	D	D	B
8	D	A	A	B
9	C	D	A	D
10	D	D	A	A
11	A	B	D	C
12	D	B	C	D
13	D	D	D	A
14	B	A	A	A
15	B	C	D	A
16	C	C	C	C
17	C	C	C	C
18	/	/	/	/
19	/	/	/	/
20	/	/	/	/

Boy/Girls

سرٹیفکٹ بابت صحیح سوالیہ پرچہ مارکنگ Key

ہم نے مضمون صحت و تعلیم پرچہ مارکنگ II گروپ سکیم نمبر 1 / انٹرمیڈیٹ امتحان 2018 کا سوالیہ پرچہ انشائیہ و معروضی (Subjective & Objective) کو بنظر عین چیک کر لیا ہے یہ پرچہ Syllabus کے عین مطابق Set کیا گیا ہے۔ اس سوالیہ پرچہ میں کسی قسم کی کوئی غلطی نہ ہے۔ ہم نے سوالیہ پرچہ کا اردو اور انگریزی Version بھی چیک کر لیا ہے۔ یہ Version آپس میں مطابقت رکھتے ہیں۔ نیز اس پرچہ کی معروضی (MCQs) Key کی بابت تصدیق کی جاتی ہے کہ اس میں بھی کسی قسم کی کوئی غلطی نہ ہے۔ مزید یہ کہ ہم نے Key بنانے سے متعلق دفتر کی جانب سے تیار کردہ ہدایات وصول کر کے ان کا بغور مطالعہ کر لیا ہے اور ان کی روشنی میں Key بنائی ہے۔ نیز سب ایگزامینرز کیلئے تفصیلی مارکنگ ہدایات / مارکنگ سکیم / Rubrics بھی تیار کر دی گئی ہیں۔

Prepared & Checked By:

Dated: 27-10-2018

S.#	Name	Designation	Institution	Mobile No	Signature
1	GULRAIZ ARSHAD IKHAN	Associate Professor	Grant Emerson college Multan	03009639016	
2	Abida Rizvi	Associate professor	women university Multan	030063200 58	
3					

انٹرمیڈیٹ امتحان پارٹ - II (کلاس بارہویں)

HEALTH AND PHYSICAL EDUCATION PAPER-II

صحت و تعلیم جسمانی پرچہ - دوسرا

(NEW SCHEME)

(نیو سکیم)

TIME ALLOWED: 2.40 Hours

SUBJECTIVE حصہ انشائیہ

وقت = 2.40 گھنٹے

MAXIMUM MARKS: 68

کل نمبر = 68

نوٹ - جوابی کاپی پر وہی سوال نمبر اور جزو نمبر درج کیجیے جو کہ سوالیہ پرچے میں درج ہے۔
NOTE: - Write same question number and its part number on answer book, as given in the question paper.

SECTION-I حصہ اول

2. Attempt any eight parts.

16 = 2 x 8

سوال نمبر 2- کوئی سے آٹھ اجزاء کے جوابات تحریر کیجیے۔

- (i) Why we participate in Sports? (i) ہم کھیلوں میں شمولیت کیوں اختیار کرتے ہیں؟
- (ii) Write a short note on importance of sports in colleges. (ii) کالجوں میں کھیلوں کی افادیت پر نوٹ تحریر کریں۔
- (iii) Write the modern concept of Sports. (iii) کھیل کا جدید نظریہ تحریر کریں۔
- (iv) Write three characteristics of a sportsman. (iv) اچھے کھلاڑی کے تین اوصاف بیان کریں۔
- (FOR BOYS ONLY) (صرف طلبہ کے لئے)
- (v) Explain shooting circle in Hockey. (v) ہاکی میں شوٹنگ سرکل کی وضاحت کریں۔
- (vi) Write a note on goal post in Hockey. (vi) ہاکی میں گول پوسٹ پر نوٹ تحریر کریں۔
- (vii) Explain free hit in Hockey. (vii) ہاکی میں فری ہیٹ کی وضاحت کریں۔
- (viii) When a goal is awarded in Hockey? (viii) ہاکی میں گول کب دیا جاتا ہے؟
- (ix) Explain the boundary lines of Basketball Court. (ix) باسکٹ بال کورٹ کی باؤنڈری لائنوں کی وضاحت کریں۔
- (x) Explain restricted area in Basketball. (x) باسکٹ بال میں ممنوعہ علاقہ کی وضاحت کریں۔
- (xi) Write the personal fouls in Basketball. (xi) باسکٹ بال میں ذاتی فاول تحریر کریں۔
- (xii) Write eight seconds law in Basketball. (xii) باسکٹ بال میں آٹھ سیکنڈ کا قانون تحریر کریں۔

(FOR GIRLS ONLY)

(صرف طالبات کے لئے)

- (v) Write the measurement of Badminton Court. (v) بیڈمنٹن کورٹ کی پیمائش تحریر کریں۔
- (vi) Write a note on change of Court in Badminton. (vi) بیڈمنٹن میں کورٹ کی تبدیلی پر نوٹ تحریر کریں۔
- (vii) Write a note on start of play in Badminton. (vii) بیڈمنٹن میں کھیل کے آغاز پر نوٹ تحریر کریں۔
- (viii) Write a note on shuttle cock in Badminton. (viii) بیڈمنٹن میں شٹل کاک پر نوٹ تحریر کریں۔
- (ix) Write a note on table in Table tennis. (ix) ٹیبل ٹینس میں ٹیبل کی وضاحت کریں۔
- (x) Explain rally in Table tennis. (x) ٹیبل ٹینس میں ریلی کی وضاحت کریں۔
- (xi) Write a note on service in Table tennis. (xi) ٹیبل ٹینس میں سروس پر نوٹ تحریر کریں۔
- (xii) Write two fouls of Table tennis. (xii) ٹیبل ٹینس کے دو فاول تحریر کریں۔

3. Attempt any eight parts.

16 = 2 x 8

سوال نمبر 3- کوئی سے آٹھ اجزاء کے جوابات تحریر کیجیے۔

- (i) Write down the brief note on the structure of Javelin. (i) نیزہ کی بناوٹ پر نوٹ لکھیں۔
- (ii) What is the seckrach line in the Javelin sector? (ii) نیزہ کے سیکٹر میں سکرچ لائن کیا ہے؟
- (iii) Describe briefly the upright of high jump. (iii) اونچی چھلانگ کے پولز کی مختصر وضاحت کریں۔
- (iv) Write down the first principle of resolving the tie in high jump. (iv) اونچی چھلانگ میں برابری کو حل کرنے کے لیے پہلے اصول کی وضاحت کریں۔
- (v) Write four fouls of 400 m race. (v) 400 میٹر دوڑ کے چار فاول تحریر کریں۔

(درج آئیے)

(2)

- (vi) Explain the rule of 400 m race - 400 میٹر دوڑ کے معیاری ٹریک پر کھلاڑیوں کے مقابلے کے لیے زینے کے قانون کی وضاحت کریں۔
how to start in standard track? (vi)
- (vii) Write down the method of finishing of 400 m race. 400 میٹر دوڑ کے اختتام کا طریقہ بیان کریں۔ (vii)
- (viii) Explain staggers in 400 m race. 400 میٹر دوڑ میں زینوں کی وضاحت کریں۔ (viii)
- (ix) Explain the runway in high jump. اونچی چھلانگ میں دوڑنے کے راستے کی وضاحت کریں۔ (ix)
- (x) Explain the cross bar in high jump. اونچی چھلانگ میں کراس بار کی وضاحت کریں۔ (x)
- (xi) Explain landing sector in Javelin. نیزہ کے گرنے کے علاقے کی وضاحت کریں۔ (xi)
- (xii) Write two fouls of Javelin throw. نیزہ کے دو فاولز تحریر کریں۔ (xii)

4 . Attempt any six parts.

12 = 2 x 6

- (i) Write note on Stomach. معدہ پر نوٹ لکھیے۔ (i)
- (ii) Describe four benefits of Muscles. عضلات کے چار فوائد بیان کیجیے۔ (ii)
- (iii) What is meant by Balanced Diet? متوازن غذا سے کیا مراد ہے؟ (iii)
- (iv) Write four benefits of Fats. روغنیات کے چار فوائد لکھیے۔ (iv)
- (v) What is meant by Beverages? مشروبات سے کیا مراد ہے؟ (v)
- (vi) What is meant by sexual diseases? جنسی امراض سے کیا مراد ہے؟ (vi)
- (vii) Describe the four demerits of Opium. افیون کے چار نقصانات بیان کریں۔ (vii)
- (viii) Write the method of "Halgar-Nelson" in artificial respiration. مصنوعی تنفس میں "ہولگر نلسن" کا طریقہ لکھیے۔ (viii)
- (ix) What is meant by "A", "B", "C" in First Aid? ابتدائی طبی امداد میں "A", "B", "C" سے کیا مراد ہے؟ (ix)

SECTION-II حصہ دوم**NOTE: - Attempt any three questions.**

24 = 8 x 3

نوٹ - کوئی سے تین سوالات کے جوابات تحریر کیجیے۔

5. Describe in detail benefits of Games. کھیلوں کے فوائد تفصیل سے بیان کریں۔ -5
6. Draw a sketch of Hockey ground with measurement. ہاکی گراؤنڈ کا خاکہ مع پیمائش بنائیے۔ -6
- OR یا
- Draw a sketch of Badminton Court and its measurement. بیڈمنٹن کورٹ کا خاکہ بنائیے اور پیمائش لکھیے۔
7. Write down the rules of 400 m race in detail. 400 میٹر دوڑ کے قوانین تفصیلاً تحریر کیجیے۔ -7
8. What is meant by digestive system? تفصیل سے لکھیے۔ انہضام نظام سے کیا مراد ہے؟ ان میں کون کون سے اعضاء حصہ لیتے ہیں؟ Which organs take part in this system? Explain. -8
9. Write in detail the bad effects of Narcotics on human body. نشیات کے انسانی جسم پر مضر اثرات تفصیل سے تحریر کیجیے۔ -9

Paper Code

Number: 4421

انٹرمیڈیٹ امتحان پارٹ - II (کلاس بارہویں)

HEALTH AND PHYSICAL EDUCATION PAPER-II
(NEW SCHEME)صحت و تعلیم جسمانی پرچہ - دوسرا
(نیو اسکیم)

TIME ALLOWED: 20 Minutes

OBJECTIVE حصہ معروضی

وقت = 20 منٹ

MAXIMUM MARKS: 17

کل نمبر = 17

نوٹ۔ ہر سوال کے چار ممکنہ جوابات A، B، C اور D دیئے گئے ہیں۔ جوابی کاپی پر ہر سوال کے سامنے دیئے گئے دائروں میں سے درست جواب کے مطابق متعلقہ دائرہ کو مار کر یا پین سے بھر دیجئے۔ ایک سے زیادہ دائروں کو بھرنے یا کاٹ کر پھرنے کی صورت میں مذکورہ جواب غلط تصور ہوگا۔ دائروں کو پھرنے کی صورت میں کوئی نمبر نہیں دیا جائے گا۔ اس سوالیہ پرچہ پر

Note: you have four choices for each objective type question as A, B, C and D. The choice which you think is correct, fill that bubble in front of that question number. On bubble sheet, use marker or pen to fill the bubbles. Cutting or filling two or more bubbles will result in zero mark in that question. Attempt as many questions as given in objective type question paper and leave others blank. No credit will be awarded in case BUBBLES are not filled. Do not solve questions on this sheet of OBJECTIVE PAPER.

Q.No.1

سوال نمبر 1-

- (1) _____ encourages the sportsmanship. (1) سپورٹس میں شپ _____ سے پیدا ہوتی ہے۔
(A) Exercises ورزش (B) Rest آرام (C) Diet خوراک (D) Playing کھیل
- (2) Sports leads to:- (2) کھیلوں سے حاصل ہوتی ہے۔
(A) Happiness خوشی (B) Sadness دکھ (C) Relief سکھ (D) Sorrow غم
- (3) Leadership qualities are produced by:- (3) قائدانہ صلاحیتیں جنم لیتی ہیں۔
(A) Music موسیقی (B) Driving ڈرائیونگ (C) Play کھیل (D) Poetry شاعری
- (4) _____ avoids from violation of rules. (4) قانون کی خلاف ورزی سے _____ گریز کرتا ہے۔
(A) Friends دوست (B) Child بچہ (C) Student طالب علم (D) Player کھلاڑی
- (5) Time required for throwing the Javelin is:- (5) نیزہ پھینکنے کے لیے وقت دیا جاتا ہے۔
(A) 1 minute منٹ (B) 1½ minutes منٹ (C) 2 minutes منٹ (D) 2½ minutes منٹ
- (6) The width of runway of throwing the Javelin is:- (6) نیزہ پھینکنے کے لیے دوڑنے کے راستے کی چوڑائی ہوتی ہے۔
(A) 4 metres میٹر (B) 3 metres میٹر (C) 5 metres میٹر (D) 6 metres میٹر
- (7) Length and width of high jump landing area will be:- (7) اونچی چلانگ کے لیے اکھاڑہ کی لمبائی چوڑائی ہوگی۔
(A) 3 x 5 metres میٹر (B) 6 x 10 metres میٹر (C) 1 x 4 metres میٹر (D) 2 x 2 metres میٹر
- (8) The width of the lanes in 400 meters standard track will be:- (8) 400 میٹر معیاری ٹریک کی لمبائی کی چوڑائی ہوگی۔
(A) 1.25 metres میٹر (B) 1.50 metres میٹر (C) 1.35 metres میٹر (D) 1.22 metres میٹر
- (9) The length of the large intestine is:- (9) بڑی آنت کی لمبائی ہوتی ہے۔
(A) 1.52 metres میٹر (B) 1.70 metres میٹر (C) 1.80 metres میٹر (D) 1.90 metres میٹر
- (10) Vitamin _____ helps blood clotting. (10) وٹامن _____ خون کے جمنے میں مدد دیتا ہے۔
(A) A اے (B) D ڈی (C) E ای (D) K کے
- (11) The methods for artificial respiration are:- (11) مصنوعی تنفس کے طریقے ہیں۔
(A) Four چار (B) Three تین (C) Five پانچ (D) Two دو
- (12) Chemical substance Theine is found in:- (12) کیمیائی مادہ تھین پایا جاتا ہے۔
(A) Whisky وکی (B) Lassi لسی (C) Soda water سوڈا واٹر (D) Tea چائے
- (13) The upper jaw of snake has sharp teeth:- (13) سانپ کے اوپر کے جڑے میں تیز دانت ہوتے ہیں۔
(A) One ایک (B) Three تین (C) Four چار (D) Two دو
- (14) Sleeping pills affects:- (14) خواب آور گولیاں متاثر کرتی ہیں۔
(A) Respiration system نظام تنفس کو (B) Nervous system نظام اعصاب کو
(C) Muscular system نظام عضلات کو (D) Skeleton system نظام آستھوں کو
- (15) _____ tunes the muscles. (15) عضلات کی ٹیوننگ ہوتی ہے۔
(A) Education تعلیم (B) Play کھیل (C) Tug of war رسہ کشی (D) Horse riding گھڑسواری

(FOR BOYS ONLY)

(صرف طلباء کے لئے)

- (16) Hockey ground is divided in _____ parts. (16) ہاکی گراؤنڈ کو _____ حصوں میں تقسیم کیا جاتا ہے۔
(A) Three تین (B) Four چار (C) Two دو (D) Five پانچ
- (17) The width of basket ball court is:- (17) باسکٹ بال کورٹ کی چوڑائی ہوتی ہے۔
(A) 13 metres میٹر (B) 14 metres میٹر (C) 15 metres میٹر (D) 16 metres میٹر

(FOR GIRLS ONLY)

(صرف طالبات کے لئے)

- (16) The length of Badminton Court in double and single is:- (16) بیڈمنٹن سنگلز اور ڈبلز کورٹ کی لمبائی ہوتی ہے۔
(A) 13 metres میٹر (B) 13.20 metres میٹر (C) 13.40 metres میٹر (D) 13.60 metres میٹر
- (17) The shorter line (width line) of table in table tennis game is:- (17) ٹیبل ٹینس کھیل کے میز کی چوڑائی والی لائن کو کہتے ہیں۔
(A) Touch line ٹچ لائن (B) Centre line سینٹر لائن (C) End line اینڈ لائن (D) Side line سائیڈ لائن

Paper Code

2018 (S)

رول نمبر

Number: 4423

انٹرمیڈیٹ امتحان پارٹ - II (کلاس بارہویں)

HEALTH AND PHYSICAL EDUCATION PAPER-II
(NEW SCHEME)صحت و تعلیم جسمانی پرچہ - دوسرا
(نیو اسکیم)

TIME ALLOWED: 20 Minutes

OBJECTIVE حصہ معروضی

وقت = 20 منٹ

MAXIMUM MARKS: 17

کل نمبر = 17

نوٹ۔ ہر سوال کے چار ممکنہ جوابات A، B، C اور D دیئے گئے ہیں۔ جوابی کاپی پر ہر سوال کے سامنے دیئے گئے دائروں میں سے درست جواب کے مطابق متعلقہ دائرہ کو مار کر یا پین سے بھر دیجئے۔ ایک سے زیادہ دائروں کو بھر کرنے یا کاٹ کر پُر کرنے کی صورت میں مذکورہ جواب غلط تصور ہوگا۔ دائروں کو پُر نہ کرنے کی صورت میں کوئی نمبر نہیں دیا جائے گا۔ اس سوال پرچہ پر سوالات ہرگز حل نہ کریں۔

Note: you have four choices for each objective type question as A, B, C and D. The choice which you think is correct, fill that bubble in front of that question number. On bubble sheet, use marker or pen to fill the bubbles. Cutting or filling two or more bubbles will result in zero mark in that question. Attempt as many questions as given in objective type question paper and leave others blank. No credit will be awarded in case BUBBLES are not filled. Do not solve questions on this sheet of OBJECTIVE PAPER.

Q.No.1

سوال نمبر 1-

- (1) _____ avoids from violation of rules.
(A) Friends دوست (B) Child بچہ (C) Student طالب علم (D) Player کھلاڑی
- (2) Time required for throwing the Javelin is:-
(A) 1 minute منٹ (B) 1½ minutes منٹ (C) 2 minutes منٹ (D) 2½ minutes منٹ
- (3) The width of runway of throwing the Javelin is:-
(A) 4 metres میٹر (B) 3 metres میٹر (C) 5 metres میٹر (D) 6 metres میٹر
- (4) Length and width of high jump landing area will be:-
(A) 3 x 5 m میٹر (B) 6 x 10 m میٹر (C) 1 x 4 m میٹر (D) 2 x 2 m میٹر
- (5) The width of the lanes in 400 meters standard track will be:-
(A) 1.25 m میٹر (B) 1.50 m میٹر (C) 1.35 m میٹر (D) 1.22 m میٹر
- (6) The length of the large intestine is:-
(A) 1.52 m میٹر (B) 1.70 m میٹر (C) 1.80 m میٹر (D) 1.90 m میٹر
- (7) Vitamin _____ helps blood clotting.
(A) A اے (B) D ڈی (C) E ای (D) K کے
- (8) The methods for artificial respiration are:-
(A) Four چار (B) Three تین (C) Five پانچ (D) Two دو
- (9) Chemical substance Theine is found in:-
(A) Whisky وکی (B) Lassi لسی (C) Soda water سوڈا واٹر (D) Tea چائے
- (10) The upper jaw of snake has sharp teeth:-
(A) One ایک (B) Three تین (C) Four چار (D) Two دو
- (11) Sleeping pills affects:-
(A) Respiration system نظام تنفس کو (B) Nervous system نظام اعصاب کو (C) Muscular system نظام عضلات کو (D) Skeleton system نظام استخوان کو
- (12) _____ tunes the muscles.
(A) Education تعلیم (B) Play کھیل (C) Tug of war رس کشی (D) Horse riding گھڑ سواری
- (13) _____ encourages the sportsmanship.
(A) Exercises ورزش (B) Rest آرام (C) Diet خوراک (D) Playing کھیل
- (14) Sports leads to:-
(A) Happiness خوشی (B) Sadness دکھ (C) Relief سکھ (D) Sorrow غم
- (15) Leadership qualities are produced by:-
(A) Music موسیقی (B) Driving ڈرائیونگ (C) Play کھیل (D) Poetry شاعری

(FOR BOYS ONLY)

(صرف طلباء کے لئے)

- (16) The width of basket ball court is:-
(A) 13 m میٹر (B) 14 m میٹر (C) 15 m میٹر (D) 16 m میٹر
- (17) Hockey ground is divided in _____ parts.
(A) Three تین (B) Four چار (C) Two دو (D) Five پانچ

(FOR GIRLS ONLY)

(صرف طالبات کے لئے)

- (16) The shorter line (width line) of table tennis game is:-
(A) Touch line ٹچ لائن (B) Centre line سینٹر لائن (C) End line اینڈ لائن (D) Side line سائیڈ لائن
- (17) The length of Badminton Court in double and single is:-
(A) 13 m میٹر (B) 13.20 m میٹر (C) 13.40 m میٹر (D) 13.60 m میٹر

HEALTH AND PHYSICAL EDUCATION PAPER-II
(NEW SCHEME)صحت و تعلیم جسامتی پرچہ - دوسرا
(نیو اسکیم)

TIME ALLOWED: 20 Minutes

OBJECTIVE حصہ معروضی

وقت = 20 منٹ

MAXIMUM MARKS: 17

کل نمبر = 17

نوٹ - ہر سوال کے چار ممکنہ جوابات A, B, C اور D دیئے گئے ہیں۔ جوابی کاپی پر ہر سوال کے سامنے دیئے گئے دائروں میں سے درست جواب کے مطابق متعلقہ دائرہ کو مارکر یا پین سے بھر دیجئے۔ ایک سے زیادہ دائروں کو بھر کر یا کاٹ کر بڑھانے کی صورت میں مذکورہ جواب غلط تصور ہوگا۔ دائروں کو بڑھانے کی صورت میں کوئی نمبر نہیں دیا جائے گا۔ اس سوال پرچہ پر سوالات ہرگز حل نہ کریں۔

Note: you have four choices for each objective type question as A, B, C and D. The choice which you think is correct, fill that bubble in front of that question number. On bubble sheet, use marker or pen to fill the bubbles. Cutting or filling two or more bubbles will result in zero mark in that question. Attempt as many questions as given in objective type question paper and leave others blank. No credit will be awarded in case BUBBLES are not filled. Do not solve questions on this sheet of OBJECTIVE PAPER.

Q.No.1

سوال نمبر 1-

- (1) The upper jaw of snake has sharp teeth:-
(A) One ایک (B) Three تین (C) Four چار (D) Two دو
سانپ کے اوپر کے جڑے میں تیز دانت ہوتے ہیں۔
- (2) Sleeping pills affects:-
(A) Respiration system نظام تنفس کو (B) Nervous system نظام اعصاب کو (C) Tug of war کھیل (D) Horse riding گھڑسواری
خواب آور گولیاں متاثر کرتی ہیں۔
- (3) _____ tunes the muscles.
(A) Education تعلیم (B) Play کھیل (C) Tug of war کھیل (D) Horse riding گھڑسواری
عضلات کی ٹیوننگ ہوتی ہے۔
- (4) _____ encourages the sportsmanship.
(A) Exercises ورزش (B) Rest آرام (C) Diet خوراک (D) Playing کھیل
سپورٹس میں شپ سے پیدا ہوتی ہے۔
- (5) Sports leads to:-
(A) Happiness خوشی (B) Sadness دکھ (C) Relief سکھ (D) Sorrow غم
کھیلوں سے حاصل ہوتی ہے۔
- (6) Leadership qualities are produced by:-
(A) Music موسیقی (B) Driving ڈرائیونگ (C) Play کھیل (D) Poetry شاعری
قائدانہ صلاحیتیں جنم لیتی ہیں۔
- (7) _____ avoids from violation of rules.
(A) Friends دوست (B) Child بچہ (C) Student طالب علم (D) Player کھلاڑی
قانون کی خلاف ورزی سے گریز کرتا ہے۔
- (8) Time required for throwing the Javelin is:-
(A) 1 minute 1 منٹ (B) 1½ minutes 1½ منٹ (C) 2 minutes 2 منٹ (D) 2½ minutes 2½ منٹ
 نیزہ پھینکنے کے لیے وقت دیا جاتا ہے۔
- (9) The width of runway of throwing the Javelin is:-
(A) 4 metres 4 میٹر (B) 3 metres 3 میٹر (C) 5 metres 5 میٹر (D) 6 metres 6 میٹر
 نیزہ پھینکنے کے لیے دوڑنے کے راستے کی چوڑائی ہوتی ہے۔
- (10) Length and width of high jump landing area will be:-
(A) 3 x 5 m 3 x 5 میٹر (B) 6 x 10 m 6 x 10 میٹر (C) 1 x 4 m 1 x 4 میٹر (D) 2 x 2 m 2 x 2 میٹر
 اونچی چھلانگ کے لیے اکھاڑہ کی لمبائی چوڑائی ہوگی۔
- (11) The width of the lanes in 400 meters standard track will be:-
(A) 1.25 m 1.25 میٹر (B) 1.50 m 1.50 میٹر (C) 1.35 m 1.35 میٹر (D) 1.22 m 1.22 میٹر
 400 میٹر معیاری ٹریک کی گلیوں کی چوڑائی ہوگی۔
- (12) The length of the large intestine is:-
(A) 1.52 m 1.52 میٹر (B) 1.70 m 1.70 میٹر (C) 1.80 m 1.80 میٹر (D) 1.90 m 1.90 میٹر
 بڑی آنت کی لمبائی ہوتی ہے۔
- (13) Vitamin _____ helps blood clotting.
(A) A اے (B) D ڈی (C) E ای (D) K کے
 وٹامن _____ خون کے جمنے میں مدد دیتا ہے۔
- (14) The methods for artificial respiration are:-
(A) Four چار (B) Three تین (C) Five پانچ (D) Two دو
 مصنوعی تنفس کے طریقے ہیں۔
- (15) Chemical substance Theine is found in:-
(A) Whisky وکی (B) Lassi لسی (C) Soda water سوڈا واٹر (D) Tea چائے
 کیمیائی مادہ تھین پایا جاتا ہے۔

(FOR BOYS ONLY)

(صرف طلباء کے لئے)

- (16) Hockey ground is divided in _____ parts.
(A) Three تین (B) Four چار (C) Two دو (D) Five پانچ
 ہاکی گراؤنڈ کو _____ حصوں میں تقسیم کیا جاتا ہے۔
- (17) The width of basket ball court is:-
(A) 13 m 13 میٹر (B) 14 m 14 میٹر (C) 15 m 15 میٹر (D) 16 m 16 میٹر
 باسکٹ بال کورٹ کی چوڑائی ہوتی ہے۔

(FOR GIRLS ONLY)

(صرف طالبات کے لئے)

- (16) The length of Badminton Court in double and single is:-
(A) 13 m 13 میٹر (B) 13.20 m 13.20 میٹر (C) 13.40 m 13.40 میٹر (D) 13.60 m 13.60 میٹر
 بیڈمنٹن سنگلز اور ڈبلز کورٹ کی لمبائی ہوتی ہے۔
- (17) The shorter line (width line) of table in table tennis game is:-
(A) Touch line ٹچ لائن (B) Centre line سینٹر لائن (C) End line اینڈ لائن (D) Side line سائیڈ لائن
 ٹیبل ٹینس کھیل کے میز کی چوڑائی والی لائن کو کہتے ہیں۔

Paper Code

2018 (S)

رول نمبر

Number: 4427

انٹرمیڈیٹ امتحان پارٹ - II (کلاس بارہویں)

HEALTH AND PHYSICAL EDUCATION PAPER-II
(NEW SCHEME)صحت و تعلیم جسمانی پرچہ - دوسرا
(نیو سکیم)

TIME ALLOWED: 20 Minutes

OBJECTIVE حصہ معروضی

وقت = 20 منٹ

MAXIMUM MARKS: 17

کل نمبر = 17

نوٹ - ہر سوال کے چار ممکنہ جوابات A، B، C اور D دیئے گئے ہیں۔ جوابی کاپی پر ہر سوال کے سامنے دیئے گئے دائروں میں سے درست جواب کے مطابق متعلقہ دائرہ کو مار کر یا پین سے بھر دیجئے۔ ایک سے زیادہ دائروں کو بھر کر یا کاٹ کر پُر کرنے کی صورت میں مذکورہ جواب غلط تصور ہوگا۔ دائروں کو پُر نہ کرنے کی صورت میں کوئی نمبر نہیں دیا جائے گا۔ اس سوال پرچہ پر سوالات ہرگز حل نہ کریں۔

Note: you have four choices for each objective type question as A, B, C and D. The choice which you think is correct, fill that bubble in front of that question number. On bubble sheet, use marker or pen to fill the bubbles. Cutting or filling two or more bubbles will result in zero mark in that question. Attempt as many questions as given in objective type question paper and leave others blank. No credit will be awarded in case BUBBLES are not filled. Do not solve questions on this sheet of OBJECTIVE PAPER.

Q.No.1

سوال نمبر 1-

- (1) The width of the lanes in 400 meters standard track will be:-
(A) 1.25 m میٹر (B) 1.50 m میٹر (C) 1.35 m میٹر (D) 1.22 m میٹر
- (2) The length of the large intestine is:-
(A) 1.52 m میٹر (B) 1.70 m میٹر (C) 1.80 m میٹر (D) 1.90 m میٹر
- (3) Vitamin _____ helps blood clotting.
(A) A ای (B) D ڈی (C) E ای (D) K کے
- (4) The methods for artificial respiration are:-
(A) Four چار (B) Three تین (C) Five پانچ (D) Two دو
- (5) Chemical substance Theine is found in:-
(A) Whisky وکی (B) Lassi لسی (C) Soda water سوڈا واٹر (D) Tea چائے
- (6) The upper jaw of snake has sharp teeth:-
(A) One ایک (B) Three تین (C) Four چار (D) Two دو
- (7) Sleeping pills affects:-
(A) Respiration system نظام تنفس کو (B) Nervous system نظام اعصاب کو (C) Muscular system نظام عضلات کو (D) Skeleton system نظام استخوان کو
- (8) _____ tunes the muscles.
(A) Education تعلیم (B) Play کھیل (C) Tug of war رسہ کشی (D) Horse riding گھڑ سواری
- (9) _____ encourages the sportsmanship.
(A) Exercises ورزش (B) Rest آرام (C) Diet خوراک (D) Playing کھیل
- (10) Sports leads to:-
(A) Happiness خوشی (B) Sadness دکھ (C) Relief سکھ (D) Sorrow غم
- (11) Leadership qualities are produced by:-
(A) Music موسیقی (B) Driving ڈرائیونگ (C) Play کھیل (D) Poetry شاعری
- (12) _____ avoids from violation of rules.
(A) Friends دوست (B) Child بچہ (C) Student طالب علم (D) Player کھلاڑی
- (13) Time required for throwing the Javelin is:-
(A) 1 minute 1 منٹ (B) 1½ minutes 1½ منٹ (C) 2 minutes 2 منٹ (D) 2½ minutes 2½ منٹ
- (14) The width of runway of throwing the Javelin is:-
(A) 4 metres 4 میٹر (B) 3 metres 3 میٹر (C) 5 metres 5 میٹر (D) 6 metres 6 میٹر
- (15) Length and width of high jump landing area will be:-
(A) 3 x 5 m 3 x 5 میٹر (B) 6 x 10 m 6 x 10 میٹر (C) 1 x 4 m 1 x 4 میٹر (D) 2 x 2 m 2 x 2 میٹر

(FOR BOYS ONLY)

- (16) The width of basket ball court is:-
(A) 13 m میٹر (B) 14 m میٹر (C) 15 m میٹر (D) 16 m میٹر
- (17) Hockey ground is divided in _____ parts.
(A) Three تین (B) Four چار (C) Two دو (D) Five پانچ

(FOR GIRLS ONLY)

- (16) The shorter line (width line) of table in table tennis game is:-
(A) Touch line ٹچ لائن (B) Centre line سینٹر لائن (C) End line اینڈ لائن (D) Side line سائیڈ لائن
- (17) The length of Badminton Court in double and single is:-
(A) 13 m میٹر (B) 13.20 m میٹر (C) 13.40 m میٹر (D) 13.60 m میٹر

Name of Subject: Comm. Geography Session: _____

Q.Nos	Paper Code	Paper Code	Paper Code	Paper Code
	4541			
1	B			
2	A			
3	A			
4	B			
5	D			
6	C			
7	C			
8	A			
9	C			
10	B			
11	B			
12	B			
13	A			
14	C			
15	B			
16				
17				
18				
19				
20				

سرٹیفکیٹ بابت صحیح سوالیہ پرچہ مارکنگ Key

ہم نے مضمون گھرنل جغرافیہ پرچہ دوسرا گروپ سیکیم انٹرمیڈیٹ/اضمنی امتحان 2018 کا سوالیہ پرچہ انشائیہ و معروضی (Subjective & Objective) کو بنظر معیت چیک کر لیا ہے یہ پرچہ Syllabus کے عین مطابق Set کیا گیا ہے۔ اس سوالیہ پرچہ میں کسی قسم کی کوئی غلطی نہ ہے۔ ہم نے سوالیہ پرچہ کا اردو اور انگریزی Version بھی چیک کر لیا ہے۔ یہ Version آپل میں مطابقت رکھتے ہیں۔ نیز اس پرچہ کی معروضی (MCQs) Key کی بابت تصدیق کی جاتی ہے کہ اس میں بھی کسی قسم کی کوئی غلطی نہ ہے۔ مزید یہ کہ ہم نے Key بنانے سے متعلق دفتر کی جانب سے تیار کردہ ہدایات وصول کر کے ان کا بغور مطالعہ کر لیا ہے اور ان کی روشنی میں Key بنائی ہے۔ نیز سب ایگزامینرز کیلئے تفصیلی مارکنگ ہدایات/ مارکنگ سکیم/ Rubrics بھی تیار کر دی گئی ہیں۔

Prepared & Checked By:

Dated: 01-11-2018

S.#	Name	Designation	Institution	Mobile No	Signature
1	بینیخ خلیق الزمان	پروڈیوسر	گورنمنٹ کالج سول لائٹس ملتان	0300 7328614	بینیخ خلیق الزمان
2	جوید ری محمد انور	A/P.	گورنمنٹ ایمرسن کالج ملتان	0300 6339510	جوید ری محمد انور
3					

ثانوی و اعلیٰ ثانوی تعلیمی بورڈ، ملتان

موزہ: 2018-11-01 مضمون: کمرشل حفرانہ پرچہ: دوسرا گروپ:

جزل ہدایات برائے مارکنگ Key اولڈ سکیم اینو سکیم (مارکنگ سکیم)

انٹرنیٹ فرسٹ ایکنڈ سالانہ ضمنی امتحان 2018ء

Sr #	Code	Error Indicated	Sr #	Code	Error Indicated
1.	UN	Un-Necessary	8.	Sp	Spelling Error
2.	Ir	Irrelevant	9.	P	Punctuation
3.	IN	Incomplete	10.	Wo	Wrong word error
4.	EX	Extra	11.	Wt	Wrong Tense
5.	Rp	Re-Produced	12.	Wf	Wrong Form
6.	Is	Insufficient	13.	OA	Over Attempt
7.	Gr	Grammar Error			

اہم نوٹ: ہر سوال "Full Award" سے کم نمبر لگانے کی صورت میں وجہ ضرور لکھیں۔

1. آدھا نمبر ایوارڈ کرنے سے گریز کریں۔
2. حصہ شعرونی کی مارکنگ KEY کے مطابق احتیاط سے کریں۔
3. سوال نمبر 2, 3, 4 کے درست جواب کی صورت میں پورے نمبر ایوارڈ کیجیے۔
4. سوال نمبر 5 - جامع اور مدلل جواب کی صورت میں پورے نمبر ایوارڈ کیجیے۔
5. سوال نمبر 6 - حقیقت کی اقسام = 2 نمبر
6. سوال نمبر 7 - تعارف = 2 نمبر
7. سوال نمبر 8 - محل وقوع = 2 نمبر
8. سوال نمبر 9 - چار مفہوموں کی تفصیل پر $4 \times 2 = 8$ نمبر دیکھیے۔

1۔ خلیق خلیق
2۔ جو یاد ہی محمد انور
تورنٹ ایمرسن مایج
ملتان
0300 633 9510

1۔ خلیق خلیق
2۔ جو یاد ہی محمد انور
تورنٹ ایمرسن مایج
ملتان
0300 7328614

2018 (S)

رول نمبر

انٹرمیڈیٹ امتحان پارٹ - II (کلاس بارہویں)

PRINCIPLES OF ECONOMICS & COMMERCIAL GEOGRAPHY

پرنسپلز آف اکنامکس اور کمرشل جغرافیہ

PAPER-II (COMMERCE GROUP)

پرچہ - دوسرا (کامرس گروپ)

TIME ALLOWED: 2.10 Hours

SUBJECTIVE حصہ انشائیہ

وقت = 2.10 گھنٹے

MAXIMUM MARKS: 60

کل نمبر = 60

نوٹ - جوابی کاپی پر وہی سوال نمبر اور جزو نمبر درج کیجیے جو کہ سوالیہ پرچے میں درج ہے۔
and its part number on answer book, as given in the question paper.

SECTION-I حصہ اول

2. Attempt any six parts.

12 = 2 x 6

سوال نمبر 2- کوئی سے چھ اجزاء کے جوابات تحریر کیجیے۔

- Write names of two main branches of Geography.
- What is meant by Natural Vegetation?
- Enlist important countries of Asia famous for fishing.
- Which are important trees of Mediterranean region?
- Explain economic importance of sheep.
- What is meant by Cottage Industry?
- How Iron-ore is converted into steel?
- Which are important woolen textile centres of Japan?
- Give a brief account of Pakistan's fertilizer industry.

- علم جغرافیہ کی دو بڑی شاخوں کے نام لکھیں۔
- قدرتی نباتات سے کیا مراد ہے؟
- براعظم ایشیا میں پھل پلانے والے اہم ممالک کون سے ہیں؟
- بحیرہ روم کی آب و ہوا کے خطے کے اہم درخت کون سے ہیں؟
- بھیڑوں کی معاشی اہمیت واضح کریں۔
- گھریلو صنعت سے کیا مراد ہے؟
- کچھ حیات سے فولاد کس طرح تیار کیا جاتا ہے؟
- جاپان میں اونی کپڑے کے اہم مراکز کون سے ہیں؟
- پاکستان میں کیمیائی کھاد کی صنعت کا مختصر حال لکھیں۔

3. Attempt any six parts.

12 = 2 x 6

سوال نمبر 3- کوئی سے چھ اجزاء کے جوابات تحریر کیجیے۔

- Write about the production of sugar cane in Brazil.
- Describe the suitable physical factors for the production of Tea.
- Write the climatic classification of Rice.
- What is meant by Peat?
- Write the uses of Gold other than ornaments.
- Write a short note on the production of Uranium in Canada.
- What is meant by "Bronze Age"?
- Write a short note on the Hydro Electricity.
- Write the importance of edible oilseeds in human food.

- برازیل میں گنے کی پیداوار کا حال بیان کیجیے۔
- چائے کی پیداوار کے لیے موزوں طبعی عوامل تحریر کیجیے۔
- چاول کی آب و ہوا کے اعتبار سے کتنی اقسام ہیں؟ نام لکھیے۔
- دلہنی کوئلے سے کیا مراد ہے؟
- زیورات کے علاوہ سونے کے استعمالات لکھیے۔
- کینیڈا میں یورینیم کی پیداوار پر مختصر نوٹ لکھیے۔
- دھات کے زمانے سے کیا مراد ہے؟
- پن بجلی پر مختصر نوٹ لکھیے۔
- انسانی خوراک میں خوردنی تیل کی اہمیت واضح کیجیے۔

4. Attempt any six parts.

12 = 2 x 6

سوال نمبر 4- کوئی سے چھ اجزاء کے جوابات تحریر کیجیے۔

- Give the boundaries of Pakistan.
- Write a short note on Bari Doab.
- What is meant by Water Logging and Salinity?
- Write four agricultural problems of Pakistan.
- Write important rice producing areas of Pakistan.
- What is the ratio of rural urban population in Pakistan, according to 1998 Census?
- Write the types of Migration.
- Write Nuclear Power projects of Pakistan.
- What are important means of Transportation in Pakistan?

- پاکستان کا حدود دار بعد بیان کیجیے۔
- باری دو آب پر مختصر نوٹ تحریر کیجیے۔
- سیم و تھور سے کیا مراد ہے؟
- پاکستان کے چار زرعی مسائل تحریر کیجیے۔
- پاکستان میں چاول کے اہم پیداواری علاقے تحریر کیجیے۔
- 1998ء کی مردم شماری کے مطابق پاکستان میں دیہی اور شہری آبادی کا تناسب کیا ہے؟
- ہجرت کی اقسام تحریر کیجیے۔
- پاکستان کے جوہری توانائی کے منصوبے تحریر کیجیے۔
- پاکستان کے اہم ذرائع نقل و حمل کون سے ہیں؟

SECTION-II حصہ دوم

NOTE: - Attempt any three questions. 24 = 8 x 3

نوٹ - کوئی سے تین سوالات کے جوابات تحریر کیجیے۔

- Describe the scope of Commercial Geography.
- Describe the different types of Forests in the World.
- Write the importance of animal flock keeping.
- Describe the location of Pakistan and its importance.
- Describe the Hydro Electricity projects of Pakistan.

- تجارتی جغرافیہ کی وسعت بیان کریں۔
- دنیا میں جنگلات کی مختلف اقسام بیان کریں۔
- گلہ بانی کی اہمیت و افادیت تحریر کریں۔
- پاکستان کا محل وقوع اور اس کی اہمیت بیان کریں۔
- پاکستان میں پن بجلی کے منصوبے بیان کریں۔

Paper Code

2018 (S)

رول نمبر

Number: 4541

انٹرمیڈیٹ امتحان پارٹ - II (کلاس بارہویں)

PRINCIPLES OF ECONOMICS & COMMERCIAL GEOGRAPHY

پرنسپلز آف اکنامکس اور کمرشل جغرافیہ

PAPER-II (COMMERCE GROUP)

پرچہ - دوسرا (کامرس گروپ)

TIME ALLOWED: 20 Minutes

OBJECTIVE حصہ معروضی

وقت = 20 منٹ

MAXIMUM MARKS: 15

کل نمبر = 15

نوٹ - ہر سوال کے چار ممکنہ جوابات A, B, C اور D دیئے گئے ہیں۔ جوابی کاپی پر ہر سوال کے سامنے دیئے گئے دائروں میں سے درست جواب کے مطابق متعلقہ دائرہ کو مارکر یا پین سے بھر

دیجئے۔ ایک سے زیادہ دائروں کو بھر کرنے یا کاٹ کر بھر کرنے کی صورت میں مذکورہ جواب غلط تصور ہوگا۔ دائروں کو بھر نہ کرنے کی صورت میں کوئی نمبر نہیں دیا جائے گا۔ اس سوالیہ پرچہ پر

سوالات ہرگز حل نہ کریں۔ Note: you have four choices for each objective type question as A, B, C and D. The choice

which you think is correct, fill that bubble in front of that question number. On bubble sheet, use marker or pen

to fill the bubbles. Cutting or filling two or more bubbles will result in zero mark in that question. Attempt as

many questions as given in objective type question paper and leave others blank. No credit will be awarded

in case BUBBLES are not filled. Do not solve questions on this sheet of OBJECTIVE PAPER.

Q.No.1

سوال نمبر 1-

- (1) International paper industry is dependent on:-
(A) Herding گھہ بانی (B) Forestry جنگلات (C) Fishing مای گیری (D) Agriculture زراعت
- (2) _____ is the basic diet of fish.
(A) Plankton پلانکٹن (B) Grass گھاس (C) Meat گوشت (D) Rocks پٹانیں
- (3) Tropical grass lands are called:-
(A) Savannas سوانا (B) Tundra ٹنڈرا (C) Stepps سٹیپ (D) Prairies پیری
- (4) _____ is the largest sugar-cane producing country in the world.
(A) Pakistan پاکستان (B) Brazil برازیل (C) China چین (D) India انڈیا
- (5) At the time of industrial revolution, important energy source was:-
(A) Atomic energy جوہری توانائی (B) Hydroelectricity پن بجلی (C) Thermal energy تھرمل بجلی (D) Coal کوئلہ
- (6) Natural rubber plant remains productive:-
(A) 10 years سال 10 (B) 20 years سال 20 (C) 40 years سال 40 (D) 30 years سال 30
- (7) The melting point of gold is:-
(A) 1000 C° (B) 1500 C° (C) 1064 C° (D) 1150 C°
- (8) _____ possesses the largest oil reserves in the world:-
(A) Saudi Arabia سعودی عرب (B) Iraq عراق (C) Iran ایران (D) China چین
- (9) In the world, first nuclear power plant was installed in:-
(A) 1945 ء (B) 1970 ء (C) 1950 ء (D) 1910 ء
- (10) The total area of Pakistan is:-
(A) 895095 مربع کلومیٹر (B) 796096 مربع کلومیٹر (C) 575095 مربع کلومیٹر (D) 696096 مربع کلومیٹر
- (11) Lower indus plain is located in _____.
(A) Punjab پنجاب (B) Sindh سندھ (C) K.P.K خیبر پختونخوا (D) Balouchistan بلوچستان
- (12) _____ area is covered with forest in Pakistan.
(A) 15% (B) 4.8% (C) 2.5% (D) 3.5%
- (13) With the help of uranium _____ electricity is produced.
(A) Nuclear جوہری (B) Thermal تھرمل (C) Hydro power پن بجلی (D) Solar شمسی
- (14) Annual population growth rate of Pakistan is:-
(A) 3% (B) 3.5% (C) 2.10% (D) 4%
- (15) Railway headquarter is located in _____.
(A) Karachi کراچی (B) Lahore لاہور (C) Rawalpindi راولپنڈی (D) Hyderabad حیدرآباد